

O'ZBEKISTON RESPUBLIKASI OLIY VA  
O'RTA MAXSUS TA'LIM VAZIRLIGI

---

S. ALIXONOV

# MATEMATIKA O'QITISH METODIKASI

*O'zbekiston Respublikasi Oliy va o'rta maxsus ta'lim vazirligi tomonidan  
5460100-matematika bakalavriat ta'lim yo'nalishi bo'yicha oliy o'quv  
yurtlari talabalari uchun darslik sifatida tavsiya etilgan*

*Cho'lpon nomidagi nashriyot-matbaa ijodiy uyi  
Toshkent-2011*

UDK:51(075)  
BBK 74.262.21  
A51

## Taqrizchilar

*Farmonov Shokirjon*-O'zbekiston fanlar akademiyasining akademigi,  
fizika-matematika fanlar doktori, professor,

*Mashrabjon Mamatov* -Toshkent Milliy Universitetining professori, fizika-  
matematika fanlari doktori,

*Mamarajab Tojiyev*- Pedagogika fanlari doktori, professor.

### **Alixonov Sodiqjon.**

A51 Matematika o'qitish metodikasi:5460100-Matematika bakalavr ta'lim yo'nalishi talabalari uchun darslik/S.Alixonov.-T.:Cho'lpon nomidagi nashriyot-matbaa ijodiy uyi,2011.-304 b.

Ushbu darslik universitet va pedagogika oliygohlarining matematika fakulteti talabalari uchun "Matematika o'qitish metodikasi" fanining dasturi asosida yozilgan bo'lib, unda matematika o'qitish metodikasining maqsadi, mazmuni, formasi metod va vositalari orasidagi munosabatlar pedagogik, psixologik va didaktik nuqtai nazardan ochib berilgan. Ushbu darslikda keltirilgan barcha nazariy va amaliy mavzularning mazmuni talabalarni matematika o'qitish metodikasi fanidan olidigan amaldagi dasturiga to'la mos keladi. Darslikning barcha boblarining oxirida mustaqil ishlash uchun misollar, o'z o'zini nazorat qilish uchun savollar hamda tayanch iboralar keltirilgan. Ushbu kitob Universitetlarning matematika fakulteti bakalavr yo'nalishidagi talabalari, hamda magistrleri uchun darslik sifatida tavsiya etilgan.

UDK:51(075)  
BBK 74.262.21

ISBN 978-9943-05-409-7

© S.Alixonov, 2011  
© Cho'lpon nomidagi nashriyot-matbaa ijodiy uyi, 2011  
SO'Z BOSHI

Ushbu darslik matematika va amaliy matematika bakalavr talabalar uchun matematika o'qitish metodikasi kursining dasturi asosida yozilgan. Darslikda matematik ta'limning maqsadi, mazmuni, formasi, metodlari va uning vositalarini matematika darslariga tadbiq qilish qonuniyatlari psixologik, pedagogik va didaktik nuqtai-nazardan bayon qilingan. Matematik ta'limni isloh qilish, kadrlar tayyorlash milliy dasturi va uzluksiz ta'limni amalga oshirish masalalari ham bayon etilgan.

Ma'lumki, matematika fani mavjud moddiy dunyodagi narsalarning fazoviy formalari va ular orasidagi miqdoriy munosabatlarni o'rganish jarayonida «ilmiy izlanish» metodlaridan foydalanadi. Shuning uchun ham ushbu darslikda ilmiy izlanish metodlaridan kuzatish va tajriba, taqqoslash, analiz va sintez, umumlashtirish, abstraktlashtirish va konkretlashtirishlarni matematika darslarida qo'llanishi ilmiy-metodik jihatidan tushuntirishga harakat qilingan. Matematikani o'qitish jarayonida fikrlash formalarini paydo qilish metodikasi ham yoritilgan, ya'ni hissiy bilish (sezgi, idrok, tasavvur) bilan mantiqiy bilish (tushuncha, hukm, xulosa) orasidagi mantiqiy bog'lanishlar ochib berilgan. Matematik tushuncha va uni o'quvchilar ongida shakllantirish metodikasi, matematik hukm va uning turlari bo'lmish aksioma, postulat va teoremlarni o'quvchilarga o'rgatish metodikalari yoritilgan. Matematik xulosa va uning induktiv, deduktiv hamda analogik turlarini dars jarayonidagi tadbiqlari ko'rsatilgan. Matematika fanini o'qitishdagi didaktik prinsiplarning turlarini o'rgatishga alohida ahamiyat berilgan.

Darslikda yangi pedagogik texnologiya asosida o'qitishning an'anaviy va noan'anaviy metodlaridan: ma'ruza, suhbat, mustaqil ish, evristik va muammoli ta'lim metodlarini dars jarayonida qo'llanilishiga katta ahamiyat berilgan. Matematika darsi, uning tuzilishi va uni tashkil qilish metodikasi, matematika darsining turlari, darsga tayyorgarlik va uning tahlili matematika darsiga qo'yilgan talablar ochib berilgan. Darslikda yana son tushunchasini kiritish va uni kengaytirish, ular ustida to'rt amalni bajarish, maktabdagi ayniy shakl almashtirishlarni o'rgatish, maktab matematika kursidagi tenglama turlari, tenglamalar sistemasi hamda parametrik usulda berilgan tenglamalarni yechish metodikalari ham ko'rsatilgan. Darslik oxirida masala va uning turlarini yechish metodikasi ham ko'rsatilgan. Har bir bob tugagandan keyin o'quvchi talabalar uchun shu bob mavzularining mazmunini ochib beruvchi mantiqiy ketma-ketlikka ega bo'lgan savollar sistemasi, hamda tayanch iboralar keltirilgan.

Ushbu darslik haqida qimmatli fikrlarini bildirgan O‘zbekiston fanlar akademiyasining akademigi professor Sh.K.Farmonovga, pedagogika fanlari doktori, professor J.Ikromovga va professor M.Tojiyevlarga hamda darslikni o‘qib chiqib o‘zlarini qimmatli fikrlarini bildirgan fizika-matematika fanlar doktori, Toshkent Milliy universitetining professori Mashrabjon Mamatovga, NamDU professori R.Ibragimovga hamda dotsentlar D.Otaquziyev va A.Mashrabboyevlarga darslik qo‘lyozmasini o‘qib o‘zlarini bergan kitob haqidagi qimmatli fikrlari uchun muallif sifatida samimiy minnatdorchiligimni bildiraman.

*Muallif.*

**I - BOB**  
**UMUMTA'LIM MAKTABLARIDA MATEMATIKA**  
**O'QITISH MASALALARI.**

---

---

**1-§. Matematika o'qitish metodikasi predmeti.**

Matematika so'zi qadimgi grekcha - mathema so'zidan olingan bo'lib, uning ma'nosi «fanlarni bilish» demakdir. Matematika fanining o'rganadigan narsasi (ob'ekti) materiyadagi mavjud narsalarning fazoviy formalari va ular orasidagi miqdoriy munosabatlardan iborat. Hozirgi davrda matematika fani shartli ravishda ikkiga ajraladi.

1) elementar matematika, 2) oliy matematika.

Elementar matematika ham mustaqil mazmunga ega bo'lgan fan bo'lib, u oliy matematikaning turli tarmoqlaridan, ya'ni nazariy arifmetikadan, sonlar nazariyasidan, oliy algebradan, matematik analizdan va geometriyaning mantiqiy kursidan olingan elementar ma'lumotlar asosiga qurilgandir.

Oliy matematika fani esa real olamning fazoviy formalari va ular orasidagi miqdoriy munosabatlarni to'la hamda chuqur aks ettiruvchi matematik qonuniyatlarni topish bilan shu qo'llanadi.

Elementar matematika fani maktab matematika kursining asosini tashkil qiladi. Maktab matematika kursining maqsadi o'quvchilarga ularning psixologik xususiyatlarini hisobga olgan holda matematik bilimlar sistemasi ma'lum usulda (metodika) orqali o'quvchilarga etkaziladi. (Metodika so'zi grekcha so'z bo'lib, «yo'l» degan ma'noni beradi). Matematika metodikasi pedagogika va didaktika fanining asosiy bo'limlaridan biri bo'lib, jamiyatimiz taraqqiyoti darajasida ta'lim maqsadlariga mos keluvchi matematikani o'qitish, o'rganish qonuniyatlarini o'rganadigan mustaqil fandır. Matematika metodikasi ta'lim jarayoni bilan bog'liq bo'lgan quyidagi uch savolga javob beradi:

1. Nima uchun matematikani o'rganish kerak?
2. Matematikadan nimalarni o'rganish kerak?
3. Matematikani qanday o'rganish kerak?

Matematika metodikasi haqidagi tushuncha birinchi bo'lib shveysariyalik pedagog - matematik G.Pestalotsining 1803 yilda yozgan «Sonni ko'rgazmali o'rganish» asarida bayon qilingan. XVII asrning birinchi yarmidan boshlab

matematika o'qitish metodikasiga doir masalalar bilan rus olimlaridan akademik S.E.Gurev (1760-1813), XVIII asrning birinchi va ikkinchi yarmidan esa N.I.Lobachevskiy (1792-1856), I.N.Ulyanov (1831-1886). L.N.Tolstoy (1828-1910) va atoqli metodist-matematik S.I.Shoxor-Trotskiy (1853-1923), A.N.Ostrogradskiy va boshqalar shug'ullandilar va ular matematika faniga ilmiy nuqtai-nazardan qarab, uning progressiv asoslarini ishlab chiqdilar. Masalan, A.N.Ostrogradskiy «Ong kuzatishdan keyin paydo bo'ladi, ong real, mavjud olamga asoslangan» deb yozgan edi. Geometriya metodikasidan materiallar (Materiali po metodike geometrii, 1884 yil, 8-bet.).

Keyinchalik matematika o'qitish metodikasining turli yo'nalishlari bilan N.A.Izvolskiy, V.M.Bradis, S.E.Lyapin, I.K.Andronov, N.A.Glagoleva, I.Ya.Dempman, A.N.Barsukov, S.I.Novoselov, A.Ya.Xinchin, N.F.Chetveruxin, A.N.Kolmogorov, A.I.Markushevich, A.I.Fetisov va boshqalar shug'ullandilar.

1970 yildan boshlab maktab matematika kursining mazmuni yangi dastur asosida o'zgartirildi, natijada uni o'qitish metodikasi ham ishlab chiqildi. Hozirgi dastur asosida o'qitilayotgan maktab matematika fanining metodikasi bilan professorlardan V.M.Kolyagin, J.Ikromov, R.S.Cherkasov, P.M.Erdniev, N.G'aybullaev, T.To'laganov, A.Abduqodirov va boshqa metodist olimlar shug'ullanmoqdalar. Matematika o'qitish metodikasi pedagogika institutlarining III-IV kurslarida o'tiladi. U o'zining tuzilishi xususiyatiga ko'ra shartli ravishda uchga bo'linadi:

**1. Matematika o'qitishning umumiy metodikasi.** Bu bo'limda matematika fanining maqsadi, mazmuni, formasi, metodlari va uning vositalarining metodik sistemasi, pedagogika, psixologiya qonunlari hamda didaktik prinsiplar asosida ochib beriladi.

**2. Matematika o'qitishning maxsus metodikasi.** Bu bo'limda matematika o'qitish umumiy metodikasining qonun va qoidalarining aniq mavzu materiallariga tadbir qilish yo'llari ko'rsatiladi.

**3. Matematika o'qitishning aniq metodikasi.**

Bu bo'lim ikki qismdan iborat:

1. Umumiy metodikaning xususiy masalalari;
2. Maxsus metodikaning xususiy masalalari.

Masalan, VI sinfda matematika darslarini rejalashtirish va uni o'tkazish metodikasi deyilsa, bu umumiy metodikaning xususiy masalasi bo'lib hisoblanadi.

## 2-§. O'rta umumta'lim maktablarida matematika o'qitishning maqsadi

O'rta maktablarda matematika o'qitishning maqsadi quyidagi uch omil bilan belgilanadi:

1. Matematika o'qitishning umumta'limiy maqsadi.
2. Matematika o'qitishning tarbiyaviy maqsadi.
3. Matematika o'qitishning amaliy maqsadi.

Matematika o'qitishning umumta'limiy maqsadi o'z oldiga quyidagi vazifalarni qo'yadi:

a) O'quvchilarga ma'lum bir dastur asosida matematik bilimlar tizimini berish. Bu bilimlar tizimi matematika fani to'g'risida o'quvchilarga yetarli darajada ma'lumot berishi, ularni matematika fanining yuqori bo'limlarini o'rganishga tayyorlashi kerak. Bundan tashqari, dastur asosida o'quvchilar o'qish jarayonida olgan bilimlarining ishonchli ekanligini tekshira bilishga o'rganishlari, ya'ni isbotlash va nazorat qilishning asosiy metodlarini egallashlari kerak.

b) O'quvchilarning og'zaki va yozma matematik bilimlarini tarkib toptirish.

Matematikani o'rganish o'quvchilarning o'z ona tillarida xatosiz so'zlash, o'z fikrini aniq, ravshan va lo'nda qilib bayon eta bilish malakalarini o'zlashtirishlariga yordam berishi kerak. Bu degan so'z o'quvchilarning har bir matematik qoidani o'z ona tillarida to'g'ri gapira olishlariga erishish hamda ularni ana shu qoidaning matematik ifodasini formulalar yordamida to'g'ri yoza olish qobiliyatlarini atroflicha shakllantirish demakdir;

v) O'quvchilarni matematik qonuniyatlar asosida real haqiqatlarni bilishga o'rgatish. Bu yerda o'quvchilarga real olamda yuz beradigan eng sodda hodisalardan tortib to murakkab hodisalargacha hammasining fazoviy formalari va ular orasidagi miqdoriy munosabatlarni tushunishga imkon beradigan hajmda bilimlar berish ko'zda tutiladi.

Bunday bilimlar berish orqali esa o'quvchilarning fazoviy tasavvur qilishlari shakllanadi hamda mantiqiy tafakkur qilishlari yanada rivojlanadi.

Matematika o'qitishning tarbiyaviy maqsadi o'z oldiga quyidagilarni qo'yadi:

a) O'quvchilarda ilmiy dunyoqarashni shakllantirish. Bu g'oya bilish nazariyasi asosida amalga oshiriladi.

b) O'quvchilarda matematikani o'rganishga bo'lgan qiziqishlarni tarbiyalash.

Bizga ma'lumki, matematika darslarida o'quvchilar o'qitishning dastlabki kunlaridanoq mustaqil ravishda xulosa chiqarishga o'rganadilar. Ular avvalo

kuzatishlar natijasida, so'ngra esa mantiqiy tafakkur qilish natijasida xulosa chiqaradilar. Ana shu chiqarilgan xulosalar matematik qonuniyatlar bilan tasdiqlanadi.

Matematika o'qituvchisining vazifasi o'quvchilarda mustaqil mantiqiy fikrlash qobiliyatlarini shakllantirish bilan birga ularda matematikaning qonuniyatlarini o'rganishga bo'lgan qiziqishlarini tarbiyalashdan iboratdir.

v) O'quvchilarda matematik tafakkurni va matematik madaniyatni shakllantirish. Matematika darslarida o'rganiladigan har bir matematik xulosa qat'iylikni talab qiladi, bu esa o'z navbatida juda ko'p matematik tushuncha va qonuniyatlar bilan ifodalanadi. O'quvchilar ana shu qonuniyatlarni bosqichma-bosqich o'rganishlari davomida ularning mantiqiy tafakkur qilishlari rivojlanadi, matematik xulosa chiqarish madaniyatlari shakllanadi. O'quvchilarni biror matematik qonuniyatni ifoda qilmoqchi bo'lgan fikrlarni simvolik tilda to'g'ri ifodalay olishlari va aksincha simvolik tilda ifoda qilingan matematik qonuniyatni o'z ona tillarida ifoda qila olishlariga o'rgatish orqali ularda matematik madaniyat shakllantiriladi.

3. Matematika o'qitishning amaliy maqsadi o'z oldiga quyidagi vazifalarni qo'yadi:

a) Matematika kursida olingan nazariy bilimlarni kundalik hayotda uchraydigan elementar masalalarni yechishga tadbiiq qila olishga o'rgatish. Bunda asosan o'quvchilarda nazariy bilimlarni amaliyotga bog'lay olish imkoniyatlarini tarkib toptirish, ularda turli sonlar va matematik ifodalar ustida amallar bajarish malakalarini shakllantirish va ularni mustahkamlash uchun maxsus tuzilgan amaliy masalalarni hal qilishga o'rgatiladi.

b) Matematikani o'qitishda texnik vosita va ko'rgazmali qurollardan foydalanish malakalarini shakllantirish. Bunda o'quvchilarning matematika darslarida texnika vositalaridan, matematik ko'rgazmali qurollar, jadvallar va hisoblash vositalaridan foydalana olish malakalari tarkib toptiriladi.

v) O'quvchilarni mustaqil ravishda matematik bilimlarni egallashga o'rgatish. Bunda asosan o'quvchilarni o'quv darsliklaridan va ilmiy-ommaviy matematik kitoblardan mustaqil o'qib o'rganish malakalarini shakllantirishdan iboratdir.



### **3-§. Matematika o'qitish metodikasining boshqa fanlar bilan aloqasi.**

Bizga ma'lumki, matematika o'qitish metodikasi fani pedagogika fanining ma'lum bir bo'limi bo'lib, u matematika fanini o'qitish qoidalarini o'rganish bilan shug'ullanadi. Matematika o'qitish metodikasi matematika fanini o'qitish qonuniyatlarini o'rganish jarayonida pedagogika, mantiq, psixologiya, matematika, lingvistika va falsafa fanlari bilan uzviy aloqada bo'ladi. Boshqacha aytganda, maktabda matematika o'qitish muammolari mantiq, psixologiya, pedagogika, matematika va falsafa fanlari bilan uzviy bog'liqda hal qilinadi. Matematika o'qitish metodikasining metodologik asosi bilish nazariyasiga asoslangandir.

Matematika metodikasi fani matematik ta'limning maqsadi, mazmuni, formasi, uslubi va uning vositalarini dars jarayoniga tadbiiy qonuniyatlarini o'rganib keladi. Matematika fani fizika, chizmachilik, kimyo va astronomiya fanlari bilan ham uzviy aloqada bo'ladi. Matematika fanining boshqa fanlar bilan uzviy aloqasi quyidagi ikki yo'l bilan amalga oshiriladi:

1) Matematika tizimining butunligini buzmaganda o'qishni fanlarning dasturlarini moslashtirish.

2) Boshqa fanlarda matematika qonunlarini, formulalarini teoremlarni o'rganish bilan bog'liq bo'lgan materiallardan matematika kursida foydalanish.

Hozirgi vaqtda matematika dasturini boshqa fanlar bilan moslashtirish masalasi ancha muvaffaqiyatli hal qilingan. Masalan, funksiyalar va ularni grafik tasvirlash haqida fizikada foydalaniladigan ba'zi ma'lumotlarni o'quvchilar VII sinfdan boshlab o'rgana boshlaydilar. VIII sinfdan beriladigan geometrik yasashlarga doir ko'p bilimlar chizmachilik fani uchun boy material bo'ladi, chizmachilikning vazifasi bu bilimlarni turli chizmachilik ishlarini bajartirish yo'li bilan puxtalashdan iboratdir.

Matematika darslarida boshqa fanlardan foydalanish masalasini dasturda aniq ko'rsatish qiyin, buni o'qituvchining o'zi amalga oshiradi, ya'ni o'quv materialini rejalashtirishda va darsga tayyorlanish vaqtida e'tiborga olishi kerak. Masalan, tenglamalarni o'rganish davrida fizik miqdorlar orasidagi bog'lanishlarni aks ettiradigan tenglamalarni, ya'ni issiqlik balansi tenglamasi, issiqlikdan chiziq kengayish tenglamasi va shunga o'xshash tenglamalarni ham yechtirishi mumkin. Dasturning foiz, proporsiya va boshqa boblarini o'rganishda ximiya va fizika masalalaridan foydalanish ma'quldir (aralashmalar, quymalar va shunga o'xshashlar), masalan: 1) 20% li eritma hosil qilish uchun eritiladigan moddadan

240 g suvga qancha solish kerak? 2) 5% li 400 g eritmani qaynatib, 200 g ga keltirildi. Endi eritmaning o'tkirligi qancha bo'ladi?

Qo'shni fanlarga doir materiallardan matematika darslarida foydalanish fanlararo uzviy aloqadorlikni yanada mustahkamlaydi.

#### **4-§. Ta'limni isloh qilinishi.**

O'zbekiston Respublikasi mustaqillikka erishgach maktab ta'limiga juda ham katta e'tibor berildi. Jumladan 1997 yil 29 avgust kuni O'zbekiston oliy majlisining IX sessiyasida ta'lim to'g'risidagi qonunga asoslagan kadrlar tayyorlash milliy dasturi qabul qilindi.

Bu qabul qilingan qonunga ko'ra uzluksiz ta'lim tizimining faoliyati davlat ta'lim standartlari asosida, o'z ichiga quyidagi ta'lim turlarini oladi.

Maktabgacha ta'lim, boshlang'ich ta'lim, umumiy o'rta ta'lim, o'rta maxsus kasb-hunar ta'limi, oliy ta'lim, oliy o'quv yurtidan keyingi ta'lim, kadrlar malakasini oshirish va ularni qayta tayyorlash, maktabdan tashqari ta'lim.

Kadrlar tayyorlash milliy modelining o'ziga xos xususiyati mustaqil ravishdagi to'qqiz yillik umumiy o'rta ta'lim hamda uch yillik o'rta maxsus, kasb-hunar ta'limini joriy etishdan iboratdir.

Bu esa umumiy ta'lim dasturlaridan o'rta maxsus, kasb-hunar ta'limi dasturlariga izchil o'tilishini ta'minlaydi. Umumiy ta'lim dasturlari: maktabgacha ta'lim, boshlang'ich ta'lim (I-IV sinflar), umumiy o'rta ta'lim (V-IX sinflar), o'rta maxsus va kasb-hunar ta'limini qamrab oladi.

Maktabgacha ta'lim bola sog'lom, har tomonlama kamol topib shakllanishini ta'minlaydi, unda o'qishga intilish xissini uyg'otadi, uni muntazam bilim olishga tayyorlaydi. Maktabgacha ta'lim bola olti-etti yoshga etguncha davlat va nodavlat maktabgacha tarbiya, bolalar muassasalarida hamda oilalarda amalga oshiriladi.

Umumiy o'rta ta'lim I-IX sinflar o'qishidan iborat bo'lgan majburiy ta'limdir. Ta'limni bu turi boshlang'ich sinfni (I-IV sinflar) qamrab oladi hamda o'quvchilarning fikrlashlari bo'yicha muntazam bilim olishlarini, o'quv-ilmiiy va umummadaniy bilimlarni, milliy umumbashariy qadriyatlarga asoslangan ma'naviy-ahloqiy fazilatlarni, mehnat ko'nikmalarini, hamda kasb tanlashni shakllantiradi. Umumiy o'rta ta'lim tugallanganidan keyin ta'lim fanlari va ular bo'yicha olingan baholar ko'rsatilgan hamda davlat tomonidan tasdiqlangan namunadagi attestat beriladi.

O'rta maxsus, kasb-hunar ta'limi umumiy o'rta ta'lim negizida o'qish muddati uch yil bo'lgan majburiy bo'lgan uzluksiz ta'lim tizimining turidir. o'rta maxsus, kasb-hunar ta'limi yo'nalishi akademik litsey yoki kasb-hunar kolleji o'quvchilar tomonidan ixtiyoriy tanlanadi.

Akademik litsey davlat ta'lim standartlariga muvofiq o'rta maxsus ta'lim beradi. O'quvchilarni imkoniyatlari va qiziqishlarini hisobga olgan holda ularning jadal intellektual rivojlanishi chuqur, sohalashtirilgan, kasbga yo'naltirilgan ta'lim olishini ta'minlaydi.

Kasb-hunar kolleji tegishli davlat ta'lim standartlari darajasida o'rta maxsus, kasb-hunar ta'limi beradi, bunda o'quvchilarning kasb hunarga moyilligi, bilim va ko'nikmalarni chuqur rivojlantirish, tanlab olgan kasb-hunar bo'yicha bir yoki bir necha ixtisosni egallash imkonini beradi.

Oliy ta'lim o'rta maxsus, kasb-hunar ta'limi negiziga asoslanadi hamda ikki bosqichga ega.

1. Bakalavriat - mutaxassisliklar yo'nalishi bo'yicha fundamental va amaliy bilim beradigan, ta'lim muddati kamida to'rt yil bo'lgan tayanch oliy ta'limdir. Bakalavrluk dasturi tugagandan so'ng bitiruvchilarga davlat attestatsiyasi yakunlariga binoan kasb bo'yicha «bakalavr» darajasi beriladi.

Magistratura - aniq mutaxassislik bo'yicha fundamental va amaliy bilim beradigan bakalavr negizidagi ta'lim muddati kamida ikki yil bo'lgan oliy ta'limdir. Magistr darajasini beradigan davlat malaka attestatsiyasi magistrlik dasturining nihoyasidir.

Magistrlarga davlat tomonidan tasdiqlangan namunadagi, kasb-hunar faoliyati bilan shug'ullanish huquqini beradigan diplom beriladi.

Oliy o'quv yurtidan keyingi ta'limni oliy o'quv yurtlarida, ilmiy tadqiqot muassasalarida aspirantura, doktorantura, mustaqil tadqiqotchi ko'rinishlaridagi bosqichlar asosida davom ettirish mumkin. Oliy o'quv yurtidan keyingi ta'lim bosqichlari dissertatsiya himoyasi bilan yakunlanadi. Yakuniy davlat attestatsiyalarining natijasiga ko'ra tegishli ravishda fan nomzodi va fan doktori ilmiy darajasi berilib, davlat tomonidan tasdiqlangan namunadagi diplomlar beriladi.

Kadrlar malakasini oshirish va qayta tayyorlash mutaxassisliklarning kasb bilimlari va ko'nikmalarini yangilash hamda chuqurlashtirishga qaratilgan. Kadrlar malakasini oshirish va qayta tayyorlash ta'lim muassasalaridagi o'qish natijalariga

ko'ra davlat tomonidan tasdiqlangan namunadagi guvohnoma va sertifikat topshiriladi.

### **I-BOBNI TAKRORLASH UCHUN SAVOLLAR.**

1. Matematika o'qitish metodikasi fani nimani o'rgatadi va qanday savollarga javob beradi?
2. Umumiy metodika bilan xususiy metodikaning farqi nimadan iborat?
3. Matematika fanini o'qitishdagi umumta'limiy maqsad nimalardan iborat?
4. Matematikani o'qitishdagi tarbiyaviy va amaliy maqsadlarni aytib bering.
5. Matematika o'qitish metodikasi fani qaysi fanlar bilan uzviy aloqada bo'ladi?
6. Ta'lim to'g'risidagi qonun qachon qabul qilingan?
7. Kadrlar tayyorlash milliy dasturi qachon qabul qilingan?
8. Kadrlar tayyorlash milliy dasturi necha bosqichdan iborat?
9. Uzluksiz ta'limning ma'nosini aytib bering.
10. Maktabgacha ta'lim nima?
11. Boshlang'ich ta'lim nechanchi sinflarni o'z ichiga oladi?
12. O'rta umumiy ta'limga nechanchi sinflar kiradi?
13. Akademik litsey bilan kasb-hunar kollejlarining farqi nimalardan iborat?
14. Oliy ta'lim necha bosqichdan iborat?
15. Oliy ta'limning bakalavriat yo'nalishini tushuntirib bering.
16. Oliy ta'limning magistratura yo'nalishini tushuntiring.
17. Oliy ta'limdan keyingi ta'limlarni aytib bering.

### **I-BOB UCHUN TAYANCH IBORALAR**

Matematika, metodika, umumiy metodika, xususiy metodika, umumta'limiy maqsad, tarbiyaviy maqsad, amaliy maqsad, ta'lim haqidagi qonun, kadrlar tayyorlash milliy dasturi, sifat bosqichi, uzluksiz ta'lim, maktabgacha ta'lim, boshlang'ich ta'lim, o'rta umumiy ta'lim, akademik litsey, kasb-hunar kolleji, oliy ta'lim, bakalavr, magistr, aspirantura, doktorantura, malaka oshirish.

## II BOB

### MATEMATIKA DARSLARIDA BILISHNING TURLARI VA XULOSA CHIQUARISH METODLARI

---

#### 1-§. Matematik tushuncha

Biz ta'lim deyilganda o'qituvchi bilan o'quvchilar orasidagi ongli va maqsadga tomon yo'naltirilgan bilishga doir faoliyatni tushunamiz. Har qanday ta'lim o'z oldiga ikkita maqsadni qo'yadi.

1) O'quvchilarga dastur asosida o'rganilishi lozim bo'lgan zarur bilimlar sistemasini berish.

2) Matematik bilimlarni berish orqali o'quvchilarning mantiqiy fikrlash qobiliyatlarini shakllantirish.

Ta'lim jarayonidagi ana shu ikki maqsad amalga oshishi uchun o'qituvchi har bir o'rgatilayotgan tushunchani psixologik, pedagogik va didaktik qonuniyatlar asosida tushuntirishi kerak. Buning natijasida o'quvchilar ongida **bilish** deb ataluvchi psixologik jarayon hosil bo'ladi.

Bizga falsafa kursidan ma'lumki, bilish jarayoni «jonli mushohadadan abstrakt tafakkurga va undan amaliyotga demakdir». Bundan ko'rinadiki bilish jarayoni tafakkur qilishga bog'liq ekan. «Tafakkur - inson ongida ob'ektiv olamning aktiv aks etishi demakdir» (Yu.M.Kolyagin. «Matematika o'qitish metodikasi, M., 1980 y, 57-bet).

Psixologik nuqtai nazardan qaraganda bilish jarayoni ikki xil bo'ladi:

1) **Hissiy bilish** (sezgi, idrok va tasavvur).

Insonning hissiy bilishi uning sezgi va tasavvurlarida o'z ifodasini topadi. Inson sezgi a'zolari vositasida real dunyo bilan o'zaro aloqada bo'ladi. Bilish jarayonida sezgilar bilan birga idrok ham ishtirok etadi. Sezgilar natijasida ob'ektiv olamning sub'ektiv obrazi hosil bo'ladi, ana shu sub'ektiv obrazning inson ongida butunicha aks etishi idrok deb ataladi.

Tashqi olamdagi narsa va hodisalar inson miya po'stlog'ida sezish va idrok qilish orqali ma'lum bir iz qoldiradi. Oradan ma'lum bir vaqt o'tgach, ana shu izlar jadallashishi va biror narsa yoki hodisaning sub'ektiv obrazi sifatida qayta tiklanishi mumkin. Ana shu ob'ektiv olamning sub'ektiv obrazining ma'lum vaqt o'tgandan keyin qayta tiklanish jarayoni tasavvur deb ataladi.

2) **Mantiqiy bilish** (tushuncha, hukm va xulosa).

Har qanday mantiqiy bilish hissiy bilish orqali amalga oshadi, shuning uchun ham har bir o'rganilayotgan matematik ob'ektdagi narsalar seziladi, abstrakt nuqtai nazardan idrok va tasavvur qilinadi, so'ngra ana shu o'rganilayotgan ob'ektdagi narsa to'g'risida ma'lum bir matematik tushuncha hosil bo'ladi.

**Ta'rif.** *Matematik ob'ektdagi narsalarning asosiy xossalarini aks ettiruvchi tafakkur formasiga matematik tushuncha deyiladi.*

Har bir matematik tushuncha o'zining ikki tomoni, ya'ni mazmuni va hajmi bilan xarakterlanadi.

**Ta'rif.** *Tushunchaning mazmuni deb, ana shu tushunchani ifodalovchi asosiy, xossalar to'plamiga aytiladi.*

Masalan, to'g'ri to'rtburchak tushunchasini olaylik. To'g'ri to'rtburchak tushunchasining mazmuni quyidagi asosiy xossalar to'plamidan iboratdir:

- 1) To'g'ri to'rtburchak diagonali uni ikkita uchburchakka ajratadi.
- 2) Ichki qarama-qarshi burchaklarining yig'indisi  $180^0$  ga teng.
- 3) Diagonallari bir nuqtada kesishadi va shu nuqtada teng ikkiga bo'linadi.

**Ta'rif.** *Tushunchaning hajmi deb, ana shu tushunchaga kirgan barcha ob'ektlar to'plamiga aytiladi.*

Masalan, to'rtburchak tushunchasining hajmi shu to'rtburchak tushunchasiga kirgan barcha to'rtburchak turlaridan, ya'ni parallelogramm, kvadrat, romb va trapetsiyadan iborat bo'ladi. Bundan to'rtburchak tushunchasining hajmi tomonlari uzunliklarining kattaligi turlicha bo'lgan barcha katta-kichik to'rtburchaklar tashkil qilishi ko'rinadi.

Bizga hajm jihatidan keng va mazmun jihatidan tor bo'lgan tushunchani jins tushunchasi, aksincha esa hajmi tor va mazmuni keng bo'lgan tushunchani tur tushunchasi deb yuritilishi psixologiya fanidan ma'lum.

**1 - m i s o l.** Akslantirish tushunchasini olaylik. Bu tushunchadan ikkita, ya'ni qaytuvchi va qaytmaydigan akslantirish tushunchalari kelib chiqadi. Bu yerda akslantirish tushunchasi qaytuvchi va qaytmaydigan akslantirish tushunchalariga nisbatan jins tushunchasi, qaytuvchi va qaytmaydigan akslantirishlar esa akslantirish tushunchasiga nisbatan tur tushunchalari bo'ladi. Bu mulohazalardan jins tushunchasi tur tushunchalariga nisbatan hajm jihatidan keng va mazmun jihatidan tor tushuncha ekani ko'rinadi.

**2 - m i s o l.** Ko'pburchak tushunchasini olaylik. Bu tushunchadan ikkita qabariq va botiq ko'pburchak tushunchalari kelib chiqadi. Ko'pburchak tushunchasi bu tushunchalariga nisbatan jins tushunchasi deb yuritiladi, chunki

uning hajmi qabariq va botiq ko'pburchaklar hajmlaridan kattadir. qabariq va botiq ko'pburchaklar esa ko'pburchak tushunchasiga nisbatan tur tushunchalari deb yuritiladi, chunki ulardan har birining hajmi ko'pburchak tushunchasining hajmidan kichik, ammo mazmunlari ko'pburchak tushunchasining mazmunidan katta.

## 2-§. Matematik tushunchalarni ta'riflash metodikasi.

Har bir fanda bo'lgani kabi matematika fanida ham ta'riflanadigan va ta'riflanmaydigan tushunchalar mavjud.

Maktab matematika kursida, shartli ravishda, ta'riflanmaydigan eng sodda tushunchalar qabul qilinadi. Jumladan, arifmetika kursida son tushunchasi va qo'shish amali, geometriya kursida esa tekislik, nuqta, masofa va to'g'ri chiziq tushunchalari ta'riflanmaydigan tushunchalardir. Bu tushunchalar yordamida boshqa matematik tushunchalar ta'riflanadi.

Ta'rif degan so'zning ma'nosi shundan iboratki, bunda qaralayotgan tushunchalarni boshqalaridan farqlashga, fanga kiritilgan yangi termin mazmunini oydinlashtirishga imkon beruvchi mantiqiy usul tushuniladi.

Tushunchaning ta'rifi ta'riflanuvchi tushuncha bilan ta'riflovchi tushunchalar orasidagi munosabatdan hosil bo'ladi.

Tushunchaning ta'rifi inglizcha definitsiya (definito) so'zidan olingan bo'lib, «chegara» degan yoki «biror narsaning oxiri» degan ma'noni bildiradi. Professor J.Ikromov o'zining «**Maktab matematika tili**» nomli kitobida tushunchalarning ta'rifini quyidagi turlarga ajratadi:

1) **Real ta'rif.** Bunda qaralayotgan tushunchaning shu gruppadagi tushunchalardan farqi ko'rsatib beriladi. Bunda ta'riflovchi va ta'riflanuvchi tushunchalar hajmlarining teng bo'lishi muhim rol o'ynaydi. Masalan: «Aylana deb tekislikning biror nuqtasidan masofasi berilgan masofadan katta bo'lmagan masofada yotuvchi nuqtalar to'plamiga aytiladi». Bu yerda ta'riflanuvchi tushuncha aylana tushunchasidir, ta'riflovchi tushunchalar esa tekislik, nuqta, masofa tushunchalaridir.

2) **Klassifikatsion ta'rif.** Bunda ta'riflanayotgan tushunchaning jins tushunchasi va uning tur jihatidan farqi ko'rsatilgan bo'ladi. Masalan, «kvadrat - barcha tomonlari teng bo'lgan to'g'ri to'rtburchakdir». Bu ta'rifda «to'g'ri to'rtburchak» tushunchasi «kvadrat»ning jins tushunchasi, «barcha tomonlari teng» esa tur jihatidan farqini ifoda qiladi.

3) **Genetik ta'rif** yoki **induktiv ta'rif**. Bunda asosan tushunchaning hosil bo'lish jarayoni ko'rsatiladi. Boshqacha qilib aytganda, tushunchaning hosil bo'lish jarayonini ko'rsatuvchi ta'rif genetik ta'rif deyiladi.

Bizga psixologiya kursidan ma'lumki, genetika so'zi grekcha *genesis* so'zidan olingan bo'lib «kelib chiqish» yoki «manba» degan ma'noni bildiradi.

Masalan: 1) To'g'ri burchakli uchburchakning bir kateti atrofida aylanishidan hosil bo'lgan jismni konus deyiladi.

2) To'g'ri burchakli trapetsiyaning balandligi atrofida aylanishidan hosil bo'lgan jismni kesik konus deyiladi.

3) Doiraning diametri atrofida aylanishidan hosil bo'lgan jism shar deyiladi.

Yuqoridagilardan ko'rinadiki, tushunchalarni ta'riflashda har bir tushunchaning mazmuni beriladi, bu degan so'z tushunchaning asosiy alomatlari yoki muhim belgilarini sanab ko'rsatish demakdir. Demak, ta'rifda faqat ta'riflanadigan tushunchani boshqa turdagi tushunchalardan ajratib turadigan muhim belgilarigina ifodalanadi. Maktab matematika kursida tushunchalarning ta'rifi ikki usul bilan tuziladi:

1) Berilgan tushunchaning hajmiga kiruvchi barcha ob'ektlar to'plamiga asoslaniladi. Masalan, tekislikning (masofalarni o'zgartmagan holda) o'z-o'ziga akslanishi siljitish deyiladi. Bu yerda o'q va markaziy simmetriya, parallel ko'chirish va nuqta atrofida burish tushunchalari siljitish tushunchasining ob'ektiga kiruvchi tushunchalardir.

2) Berilgan tushunchalarning aniqlovchi alomatlar to'plamiga asoslaniladi. Bunday ta'rifni tuzishda tushunchaning barcha muhim alomatlari sanab o'tilmaydi, ammo ular tushunchaning mazmunini ochib berish uchun yetarli bo'lishi kerak. Masalan, parallelogrammning muhim alomatlari quyidagilardan iborat:

a) to'rtburchak;

b) qarama-qarshi tomonlari o'zaro teng va parallel;

v) diagonallari kesishish nuqtasida teng ikkiga bo'linadi;

g) qarama-qarshi burchaklari teng;

Parallelogrammni ta'riflashda a) va b) alomatlar orqali quyidagi ta'rifni tuzish mumkin:

«Qarama-qarshi tomonlari o'zaro parallel va teng bo'lgan to'rtburchak parallelogramm deyiladi».

Endi a) va v) alomatlar orqali ta'rif tuzaylik: «diagonallari kesishib, kesishish nuqtasida teng ikkiga bo'linuvchi to'rtburchak parallelogramm deyiladi».



Aytilganlardan ma'lum bo'ladiki, tushunchani ta'riflashda tanlanadigan muhim alomatlar soni yetarlicha bo'lgandagina ta'riflanayotgan tushuncha haqidagi ta'rif to'g'ri chiqadi.

### 3-§. Matematik tushunchalarni kiritish metodikasi

Maktab matematika kursida matematik tushunchalar ikki xil usulda kiritiladi:

1) Aniq - induktiv metod. Bunda o'quvchilar avval o'qituvchining topshiriqlarini bajargan holda o'rganilayotgan tushunchaning umumiy xossalarini aniqlaydilar, so'ngra o'qituvchi rahbarligida ta'rifni mustaqil holda tuzishga harakat qiladilar. Yangi tushuncha kiritishning bu yo'li ayniqsa quyi sinflarda o'z samarasini beradi.

Bundan tashqari aniq induktiv yo'l orqali tushunchalarni kiritish jarayonida muammoli vaziyatlar hosil bo'ladi, buning natijasida o'quvchilarda mustaqil fikrlash qobiliyatlari shakllanadi. Fikrimizning dalili sifatida 6-sinfda o'rgatiladigan «parallel to'g'ri chiziqlar» tushunchasini aniq-induktiv metod orqali kiritish usulini ko'rib o'taylik.

O'rganish jarayonining bosqichlari	Tushuncha shakllanishining psixologik bosqichlari	O'rganilayotgan tushunchaning aniq modeli
1.Parallel to'g'ri chiziqlar tushunchasiga mos keluvchi misollarni kundalik hayotimizdan olish	Sezish va idrok qilish	Chizg'ichning ikki qirg'og'idagi chiziqlar. Doskaning qarama-qarshi tomonlaridagi chiziqlar
2. Ana shu tushunchani ifodalovchi asosiy va asosiy bo'lmagan xossalarini aniqlash	Idrok qilishdan tasavvurga o'tish	1) To'g'ri chiziqlarning gorizontal joylashishi (asosiy bo'lmagan xossa) 2) Bu to'g'ri chiziqlar o'zaro bir xil uzoqlikda joylashgan (asosiy xossa) 3) To'g'ri chiziqlar umumiy nuqtaga ega emas (asosiy xossa)

		4) To'g'ri chiziqlarni ikki tomonga cheksiz davom ettirish mumkin (asosiy bo'lmagan xossa)
3. Agar mavjud bo'lsa, bu tushunchaning muhim holatlarni ham qaraladi.		Ustma-ust tushuvchi to'g'ri chiziqlar ham bir-biridan bir xil masofada joylashgan bo'ladi (masofa qiymati 0 ga teng)
4. Parallel so'zining mazmuni		Parallel so'zi grekcha so'z paralelos bo'lib, yonma-yon boruvchi degan ma'noni bildiradi
5. Parallel to'g'ri chiziqlar tushunchasining asosiy xossasini ajratish va uni ta'riflash	Tasavvurdan tushunchani hosil qilishga o'tish	1) Bir-biridan bir xil uzoqlikdagi masofada turuvchi to'g'ri chiziqlar jufti parallel to'g'ri chiziqlar deyiladi (aniq bo'lmagan ta'rif, chunki biror burchakning tomonlari ham shu burchak bissektrisasiga nisbatan bir xil uzoqlikda joylashgan bo'ladi) 2) Parallel to'g'ri chiziqlar umumiy nuqtaga ega bo'lmaydi (to'la bo'lmagan ta'rif, chunki, kesishmaydigan to'g'ri chiziqlar umumiy nuqtaga ega bo'lmaydi). 3) <b>Ta'rif.</b> <i>Bir tekislikda yotib umumiy nuqtaga ega bo'lmagan yoki ustma-ust tushuvchi ikki to'g'ri chiziq parallel to'g'ri chiziqlar deyiladi.</i>

6. Parallel to'g'ri chiziqlar tushunchasini aniq misollarda ko'rsatish	Tushunchaning hosil bo'lishi	1) O'qituvchi sinf xonasining o'zaro parallel bo'lgan qirralarni ko'rsatadi.
7. Parallel to'g'ri chiziqlarni simvolik belgilash	Tushunchani o'zlashtirish	2) Kubning modelini ko'rsatib, uning mos qirralaridan o'zaro ayqash bo'lgan to'g'ri chiziqlarni ko'rsatadi. Agar bizga $a$ va $b$ to'g'ri chiziqlar berilgan bo'lib, ular o'zaro parallel bo'lsa, uni biz $a//b$ kabi belgilaymiz.

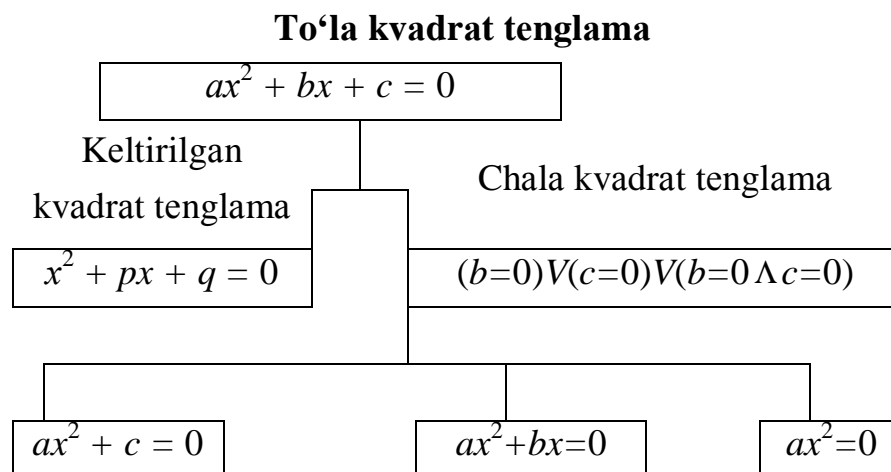
#### 4-§. Matematik tushunchalarni kiritishning abstrakt-deduktiv metodi.

Bunda o'rganiladigan matematik tushuncha uchun ta'rif tayyor ko'rinishda oldindan aniq misol va masalalar yordamida tushuntirilmasdan kiritiladi. Masalan, 7-sinfda o'tiladigan to'la kvadrat tenglama tushunchasi abstrakt-deduktiv metod orqali kiritiladi.

1. Kvadrat tenglama tushunchasiga ta'rif beriladi.

**Ta'rif** .  $ax^2+bx+c=0$  ko'rinishidagi tenglamalar to'la kvadrat tenglama deyiladi. Bu yerda  $x$  - o'zgaruvchi,  $a, b, c$ - ixtiyoriy o'zgarmas sonlar,  $a > 1$ .

2) Kvadrat tenglamaning xususiy hollari ko'rib chiqiladi. Buni jadval tarzida bunday ifodalash mumkin.



3. Hosil qilingan keltirilgan va chala kvadrat tenglamalarga aniq misollar keltiriladi. Masalan,

$$2x^2 - 3x - 4 = 0, x^2 - 5x - 6 = 0,$$

$$3x^2 + 5x = 0, 2x^2 + 7x = 0, 5x^2 = 0, \dots$$

4. Kvadrat tenglama tadbqiqiga doir hayotiy misollar keltirish kerak. Masalan,  $S = \frac{gt^2}{2}$  formula fizika kursidan bizga ma'lum, bu tenglamani yechish  $gt^2 - 2s = 0$  ko'rinishidagi chala kvadrat tenglama holiga keltirib, so'ngra yechiladi.

5. Kvadrat tenglamaning ildizlarini hisoblash formulasini keltirib chiqarish.

1 - u s u l.  $ax^2 + bx + c = 0$  tenglama ildizlari topilsin. Buning uchun quyidagi ayniy almashtirishlarni bajaramiz:

$$ax^2 + bx + c = a \left[ x^2 + \frac{b}{a}x + \frac{c}{a} \right] = a \left[ x^2 + 2 \cdot \frac{b}{2a}x + \frac{c}{a} \right] =$$

$$= a \left[ x^2 + 2 \cdot \frac{b}{2a}x + \frac{b^2}{4a^2} - \frac{b^2}{4a^2} + \frac{c}{a} \right] =$$

$$= a \left[ \left( x^2 + 2 \cdot \frac{b}{2a}x + \frac{b^2}{4a^2} \right) - \frac{b^2 - 4ac}{4a^2} \right] =$$

$$= a \left[ \left( x + \frac{b}{2a} \right)^2 - \frac{b^2 - 4ac}{4a^2} \right] = 0; \quad a \neq 0$$

$$\left[ x + \frac{b}{2a} \right]^2 = \frac{b^2 - 4ac}{4a^2};$$

$$x_{1,2} = -\frac{b}{2a} \pm \frac{\sqrt{b^2 - 4ac}}{2a} = -\frac{b \pm \sqrt{b^2 - 4ac}}{2a};$$

$$x_1 = -\frac{-b + \sqrt{b^2 - 4ac}}{2a}; \quad x_2 = -\frac{-b - \sqrt{b^2 - 4ac}}{2a}$$

**2- u s u l .**

$$ax^2 + bx + c = 0$$

$$ax^2 + bx = -c / \checkmark 4a,$$

$$4a^2x^2 + 4abx = -4ac / + b^2,$$

$$4a^2x^2 + 4abx + b^2 = b^2 - 4ac,$$

$$(2ax + b)^2 = b^2 - 4ac;$$

$$2ax_{1,2} + b = \pm \sqrt{b^2 - 4ac}$$

$$x_{1,2} = \frac{-b \pm \sqrt{b^2 - 4ac}}{2a}$$

$$x_1 = \frac{-b + \sqrt{b^2 - 4ac}}{2a}$$

$$x_2 = \frac{-b - \sqrt{b^2 - 4ac}}{2a}$$

Agar  $ax^2+bx+c=0$  da  $a=1$  bo'lsa,  $x^2+bx+c=0$  ko'rinishdagi keltirilgan kvadrat tenglama hosil bo'lib, uning yechimlari quyidagicha bo'ladi:

$$x_{1,2} = \frac{-b \pm \sqrt{b^2 - 4c}}{2} = \frac{-b}{2} \pm \sqrt{\frac{b^2}{4} - c}$$

Agar  $b=p$ ;  $c=q$  desak,  $x^2+px+q=0$  bo'ladi, uning yechimlari

$$x_1 = \frac{-p}{2} + \sqrt{\frac{p^2}{4} - q} \quad \text{va} \quad x_2 = \frac{-p}{2} - \sqrt{\frac{p^2}{4} - q} \quad \text{bo'ladi.}$$

**3 - u s u l .**  $x^2 + px + q = 0$  (1)

$$b^2 = q; \quad 2ab = p \quad \text{desak,}$$

$$b = \pm\sqrt{q}, \quad a = \pm\frac{p}{2\sqrt{q}}$$

bularni (1) ga qo'ysak, u quyidagi ko'rinishni oladi.

$$x^2 + 2abx + b^2 = 0 \quad (2)$$

(2) ga  $a^2x^2$  ni qo'shsak va ayirsak  $x^2+2abx+b^2+a^2x^2-a^2x^2=0$  bo'ladi,  $a^2x^2+2abx+b^2-a^2x^2+x^2=0$  yoki  $(ax+b)^2-a^2x^2+x^2=0$  belgilashga ko'ra

$b = \pm\sqrt{q}$ ;  $a = \pm\frac{p}{2\sqrt{q}}$  edi, shuning uchun

$$\left(\frac{px}{2\sqrt{q}} + \sqrt{q}\right)^2 - \frac{p^2}{4q}x^2 + x^2 = 0;$$

$$(px + 2q)^2 - p^2x^2 + 4qx^2 = 0;$$

$$px + 2q = \pm x\sqrt{p^2 - 4q};$$

$$2q = x(-p \pm \sqrt{p^2 - 4q});$$

$$x_{1,2} = \frac{2q}{-p \pm \sqrt{p^2 - 4q}}$$

**1 - m i s o l .**  $x^2 - 3x - 4 = 0$ ;  $p = -3$ ;  $q = -4$

$$x_{1,2} = \frac{-p}{2} + \sqrt{\frac{p^2}{4} - q} = \frac{3}{2} \pm \sqrt{\frac{9}{4} + 4} = \frac{3}{2} \pm \frac{5}{2};$$

$$x_1 = 4; \quad x_2 = -1$$

$$x_{1,2} = \frac{2q}{-p \pm \sqrt{p^2 - 4q}} = \frac{2 \cdot (-4)}{3 \pm \sqrt{9 + 16}} = \frac{-8}{3 \pm 5};$$

$$x_1 = \frac{-8}{-2} = 4; \quad x_2 = \frac{-8}{8} = -1;$$

**2 - m i s o l .**  $x^2 - 5x - 6 = 0$ ;

$$p = -5; \quad q = -6$$

$$x_{1,2} = \frac{2q}{-p \pm \sqrt{p^2 - 4q}} = \frac{2 \cdot (-6)}{5 \pm \sqrt{25 + 24}} = -\frac{12}{5 \pm 7};$$

$$x_1 = -\frac{12}{12} = -1;$$

$$x_2 = \frac{-12}{-2} = 6;$$

**3 - m i s o l.**  $2x^2 - 5 = 0$  bo`lsa,  $(2x^2 = 5) \Rightarrow \left(x^2 = \frac{5}{2}\right) \Rightarrow x_{1,2} = \pm\sqrt{\frac{5}{2}}$

**4 - m i s o l.**  $2x^2 - 3x = 0$  bo`lsa,  $[x(2x - 3) = 0] \Rightarrow \begin{cases} x_1 = 0 \\ x_2 = \frac{3}{2} \end{cases}$  bo`ladi.

**5 - m i s o l.**  $2x^2 = 0$  bo`lsa,  $x_{1,2} = 0$  bo`ladi.

### 5-§. Matematik hukm.

Matematik hukm mantiqiy bilish formalaridan biri bo`lib, unga quyidagicha ta`rif berilgan: «*Tushunchalar asosida hosil qilingan matematik fikrni tasdiqlash yoki inkor qilishga matematik hukm deyiladi*». Bu ta`rifdan ko`rinadiki, hukmning xarakterli xossasi aytilgan matematik fikrning to`g`riligini tasdiqlash yoki noto`g`riligini inkor qilishdan iborat ekan.

Matematik tushunchalarni tasdiqlash ma`nosidagi hukmga quyidagicha misollar keltirish mumkin:

1. Parallelogrammning qarama-qarshi tomonlari o`zaro parallel va teng.
2. Har qanday turdagi uchburchak uchta uchga ega.
3. Uchburchak ichki burchaklarning yig`indisi  $180^\circ$  ga teng.
4. Ko`pburchak ichki burchaklarining yig`indisi  $2d(n-2)$  ga teng.

Matematik tushunchalarni inkor qilish ma`nosidagi hukmlarga quyidagi misollarni keltirish mumkin:

1. Har qanday uchburchakda ikki tomon uzunliklarining yig`indisi uchinchi tomon uzunligidan kichik emas.
2. Piramidadagi uch yoqli burchaklarning yig`indisi hech qachon o`zgarmas son bo`la olmaydi.
3. Har qanday to`rtburchakda ichki burchaklar yig`indisi  $360^\circ$  dan katta emas.

Bundan kelib chiqadiki, har qanday matematik gap ham matematik hukm bo`la olmas ekan. Masalan, «ABCD to`rtburchak parallelogramm bo`la oladimi?» «Ixtiyoriy uchburchak ichki burchaklarining yig`indisi  $180^\circ$  ga teng bo`la oladimi?». Keltirilgan ikkala misolda ham inkor va tasdiq ma`nosi yo`q, shuning uchun ular matematik hukmga misol bo`la olmaydi.

Matematik hukm uch xil bo`ladi:

#### 1. Birlik hukm. 2. Xususiy hukm. 3. Umumiy hukm.

Matematikani o`qitish jarayonida yuqoridagi hukmlarning uchala turi uzviy aloqada bo`ladi. Boshqacha qilib aytganda, birlik hukmning natijasi sifatida xususiy hukm hosil qilinadi, xususiy hukmning natijasi sifatida esa umumiy hukm hosil qilinadi. Fikrlarimizning dalili sifatida quyidagi misolni ko`raylik. 1) Birlik hukmlar:

- a) Aylana to`g`ri chiziq bilan faqat ikki nuqtada kesishadi.
- b) Ellips to`g`ri chiziq bilan faqat ikki nuqtada kesishadi.
- v) Giperbola to`g`ri chiziq bilan faqat ikki nuqtada kesishadi.

g) Parabola to'g'ri chiziq bilan faqat ikki nuqtada kesishadi.

2) Xususiy hukm: "Aylana, ellips, giperbola va parabolalar ikkinchi tartibli egri chiziqlar hosil qiladi". Yuqoridagi birlik va xususiy hukmlarga asoslanib, quyidagi umumiy hukmni hosil qilamiz.

3) Umumiy hukm: "Ikkinchi tartibli egri chiziqlar to'g'ri chiziq bilan faqat ikki nuqtada kesishadi".

### 6-§. Matematik xulosa.

Matematik xulosa ham mantiqiy tafakkur qilish shakllaridan biri. Matematik xulosaga bunday ta'rif berilgan:

«*Ikkita qat'iy hukmdan hosil qilingan uchinchi natijaviy hukmga xulosa deyiladi*».

**M i s o l.** 1-Hukm: to'rtburchakning diagonali uni ikkita uchburchakka ajratadi.

2-Hukm: Har bir uchburchak ichki burchaklarining yig'indisi  $180^\circ$  ga teng.

3-Hukm: Demak, to'rtburchak ichki burchaklarining yig'indisi  $360^\circ$  ga teng (xulosa bo'ladi).

Maktab matematika kursida xulosalarning uchta turi, ya'ni induktiv, deduktiv va analogik xulosalar o'rganiladi.

**T a ' r i f.** *Ayrim yoki xususiy ma'lumotlarga tayanib umumiy xulosa chiqarishni induksiya deyiladi.*

Induksiya uch xil bo'ladi: chala induksiya, to'la induksiya va matematik induksiya. Chala induksiya metodi orqali chiqarilgan xulosa ko'pgina hollarda to'g'ri, ammo ayrim hollarda noto'g'ri bo'ladi.

**1 - m i s o l.** Fermaning mashhur teoremasi bo'yicha  $(2^{2^n} + 1)$  ko'rinishdagi sonlar  $n = [0, 1, 2, 3, 4, \dots]$  bo'lganda 3, 5, 17, 257, 65537, ... kabi tub sonlardan iborat edi. Shuning uchun Ferma umumiy holda  $(2^{2^n} + 1)$  ko'rinishdagi barcha sonlar  $n$  ning ixtiyoriy qiymatlarida ham tub sonlar bo'ladi, deb umumiy xulosa chiqargan. XVIII asrda L.Eyler Ferma teoremasini tekshirib, uning qonuniyati:  $n=5$  bo'lganda buzilishini, ya'ni hosil bo'lgan son murakkab son bo'lishini aniqlagan:

$$(2^{2^5} + 1) = 4294967297 = 641 \cdot 6700417.$$

Bu degan so'z  $(2^{2^n} + 1)$  ifoda 641 ga bo'linadi, bundan  $(2^{2^5} + 1)$  tub son bo'lmay, balki murakkab son ekanligi kelib chiqadi. Demak, chala induksiya metodi orqali Fermaning  $\forall n \in N$  bo'lganda  $(2^{2^n} + 1)$  ko'rinishdagi sonlar tub bo'ladi, degan xulosasi noto'g'ri ekan.

Induksiya metodi orqali xulosa chiqarish esa biror matematik qonuniyat uch hol uchun o'rinli bo'lganidan  $n$  - hol uchun o'rinli deb qabul qilinadi.

**1-misol:**

$$\frac{1}{1 \cdot 2} + \frac{1}{2 \cdot 3} + \frac{1}{3 \cdot 4} + \dots + \frac{1}{n(n+1)} \text{ yig'indisini hisoblang}$$

$$S_1 = \frac{1}{1 \cdot 2} = \frac{1}{2},$$

$$S_2 = \frac{1}{1 \cdot 2} + \frac{1}{2 \cdot 3} = \frac{3+1}{6} = \frac{4}{6} = \frac{2}{3},$$

$$S_3 = \frac{1}{1 \cdot 2} + \frac{1}{2 \cdot 3} + \frac{1}{3 \cdot 4} = \frac{6+2+1}{12} = \frac{9}{12} = \frac{3}{4}.$$

... ..

Bu uchta xususiy yig`indiga asoslanib, umumiy xulosani yozamiz:

$$S_n = \frac{n}{n+1}$$

Maktab algebra kursida daraja va logarifmlar xossalari o`tilgandan so`ng ana shu xossalarga asoslanib o`quvchilar induktiv xulosa chiqarish yordamida daraja va logarifmlarning umumlashgan xossasini chiqarishlari mumkin.

### 2 - m i s o l.

$$a^{n_1} \cdot a^{n_2} = a^{n_1+n_2}$$

$$a^{n_1} \cdot a^{n_2} \cdot a^{n_3} = a^{n_1+n_2+n_3}$$

$$a^{n_1} \cdot a^{n_2} \cdot a^{n_3} \cdot a^{n_4} = a^{n_1+n_2+n_3+n_4}$$

... ..

$$a^{n_1} \cdot a^{n_2} \cdot a^{n_3} \cdot \dots \cdot a^{n_k} = a^{n_1+n_2+n_3+\dots+n_k}$$

### 3 - m i s o l.

$$\lg(x_1 \cdot x_2) = \lg x_1 + \lg x_2 \text{ agar } x_1 > 0 \wedge x_2 > 0 \text{ bo`lsa,}$$

$$\lg(x_1 \cdot x_2 \cdot x_3) = \lg x_1 + \lg x_2 + \lg x_3 \text{ agar } x_1 > 0, x_2 > 0, x_3 > 0 \text{ bo`lsa,}$$

$$\lg(x_1 \cdot x_2 \cdot x_3 \cdot x_4) = \lg x_1 + \lg x_2 + \lg x_3 + \lg x_4 \text{ agar } (x_1 \cdot x_2 \cdot x_3 \cdot x_4) > 0 \text{ bo`lsa,}$$

... ..

$$\lg(x_1 \cdot x_2 \cdot x_3 \cdot \dots \cdot x_n) = \lg x_1 + \lg x_2 + \lg x_3 + \dots + \lg x_n \text{ agar } (x_1 \cdot x_2 \cdot x_3 \cdot \dots \cdot x_n) > 0 \text{ bo`lsa.}$$

**Matematik induksiya metodi.** Bu metodda biror matematik qonuniyat  $n = 1$  hol uchun o`rinli bo`lsa, uni  $n = k$  hol uchun o`rinli deb qabul qilib, so`ngra  $n = k + 1$  hol uchun o`rinli ekanligini ko`rsatiladi.

**1 - m i s o l.**  $S_n = 1 + 2 + 3 + \dots + n = \frac{n(n+1)}{2}$  yig`indining o`rinli ekanligini matematik induksiya metodi orqali ko`rsatilsin, bunda  $n \in N$

1. Agar  $n = 1$  bo`lsa,  $S_1 = \frac{1(1+1)}{2} = 1.$

2. Agar  $n = k$  bo`lsa,  $S_k = 1 + 2 + 3 + \dots + k = \frac{k(k+1)}{2}.$

3. Agar  $n = k + 1$  bo`lsa,

$$S_{k+1} = 1 + 2 + 3 + \dots + k + (k+1) = \frac{(k+2)(k+1)}{2} \text{ ekanligini isbotlaymiz.}$$

$$\text{Isboti. } S_{k+1} = S_k + (k+1) = \frac{k(k+1)}{2} + (k+1) = \frac{k(k+1) + 2(k+1)}{2} = \frac{(k+2)(k+1)}{2}.$$

$A \neq B$  bo`lsa,  $|AB| > 0$ .  $A = B$  bo`lsa,  $|AB| = 0$ .

Demak,  $S_n = 1 + 2 + 3 + \dots + n = \frac{n(n+1)}{2}$  yig`indisi hisoblash formulasi to`g`ri ekan.



**2-misol.**  $S_n = 1^2 + 2^2 + 3^2 + \dots + n^2 = \frac{n(n+1)(2n+1)}{6}, n \in N$

1. Agar  $n = 1$  bo'lsa,  $S_1 = \frac{1 \cdot (1+1)(2 \cdot 1+1)}{6} = 1.$

2. Agar  $n = k$  bo'lsa,  $S_k = \frac{k \cdot (k+1)(2k+1)}{6}.$

3. Agar  $n = k+1$  bo'lsa,  $S_{k+1} = 1^2 + 2^2 + 3^2 + \dots + (k+1)^2 = \frac{(k+1)(k+2)(2k+3)}{6}$

bo'lishligini isbotlang.

Isboti.

$$\begin{aligned} S_{k+1} &= S_k + (k+1)^2 = \frac{k(k+1)(2k+1)}{6} + (k+1)^2 = \\ &= \frac{k+1}{6} [k(2k+1) + 6(k+1)] = \frac{k+1}{6} \cdot [2k^2 + 7k + 6] = \\ &= \frac{2(k+1)(k+2) \left(k + \frac{3}{2}\right)}{6} = \frac{(k+1)(k+2)(2k+3)}{6}. \end{aligned}$$

**3 - misol.**  $S_n = 1^3 + 2^3 + 3^3 + \dots + n^3 = \frac{n^2(n+1)^2}{4}, n \in N$

1. Agar  $n = 1$  bo'lsa,  $S_1 = \frac{1 \cdot (1+1)^2}{4} = 1.$

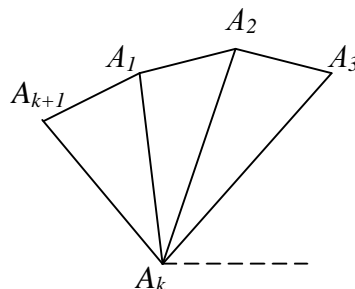
2. Agar  $n = k$  bo'lsa,  $S_k = \frac{k^2(k+1)^2}{4} = 1.$

3. Agar  $n = k+1$  bo'lsa,  $S_{k+1} = 1^3 + 2^3 + 3^3 + \dots + k^3 + (k+1)^3 = \frac{(k+1)^2(k+2)^2}{4}$

bo'lishligini isbotlang.

Isboti.

$$\begin{aligned} S_{k+1} &= S_k + (k+1)^3 = \frac{k^2(k+1)^2}{4} + (k+1)^3 = (k+1)^2 \left( \frac{k^2}{4} + k + 1 \right) = \\ &= \frac{(k+1)^2(k^2 + 4k + 4)}{4} = \frac{(k+1)^2(k+2)^2}{4} \end{aligned}$$



1-Chizma.

**T e o r e m a.** Qabariq  $n$  burchak ichki burchaklarining yig'indisi  $180^\circ (n-2)$  ga teng.

Bu teoremani matematik induksiya metodi bilan isbotlang. (1-chizma).

1.  $n = 3$  bo'lganda  $S_3 = 180^\circ$ .

2.  $n = k$  bo'lganda  $S_k = 180^\circ(k-2)$  bo'ladi.

Agar  $n = k$  uchun  $S_k = 180^\circ(k-2)$  bo'lsa,  $n = k + 1$  uchun

$S_{k+1} = 180^\circ[(k+1)-2]$  bo'lishini isbotlang.

Bu holni isbot qilish uchun  $(k + 1)$  burchakli qavariq ko'pburchakni olamiz.  $A_1A_k$  diagonal berilgan ko'pburchakni  $k$  burchakli qavariq  $A_1A_2A_3...A_k$  ko'pburchakka va  $A_1A_kA_{k+1}$  uchburchakka ajratadi, u holda  $S_{k+1} = S_k + S_3$  tenglik o'rinli bo'ladi:

$$S_{k+1} = 180^\circ(k-2) + 180^\circ = 180^\circ[(k-2)+1] = 180^\circ[(k+1) - 2].$$

Demak, teorema har qanday qavariq  $n$  burchak uchun ham o'rinli ekan.

**4 - m i s o l.** Quyidagi tengsizlikni matematik induksiya metodi bilan isbotlang:

$$\frac{1}{\sqrt{1}} + \frac{1}{\sqrt{2}} + \dots + \frac{1}{\sqrt{n}} > \sqrt{n}$$

Isboti.  $n=1$ , bo'lganda  $1 = 1$  tenglik o'rinli.

$n = 2$  bo'lganda  $1 + \frac{1}{\sqrt{2}} > \sqrt{2}$  tengsizlik o'rinli.

Endi faraz qilaylik, berilgan tengsizlik  $n = k$  uchun o'rinli, ya'ni  $\frac{1}{\sqrt{1}} + \frac{1}{\sqrt{2}} + \dots + \frac{1}{\sqrt{k}} > \sqrt{k}$  bo'lsin, uning  $n=k+1$  hol uchun o'rinli ekanini ko'rsatamiz:

$$\frac{1}{\sqrt{1}} + \frac{1}{\sqrt{2}} + \dots + \frac{1}{\sqrt{k}} + \frac{1}{\sqrt{k+1}} > \sqrt{k+1}$$

Bu tengsizlikni kuchaytirish uchun  $\frac{1}{\sqrt{1}} + \frac{1}{\sqrt{2}} + \dots + \frac{1}{\sqrt{k}}$  o'rniga  $\sqrt{k}$  ni qo'yamiz, u holda  $\sqrt{k} + \frac{1}{\sqrt{k+1}} > \sqrt{k+1}$  (1) bo'ladi. Bu tengsizlikni o'rinli ekanini ko'rsatsak, berilgan tengsizlik isbotlangan bo'ladi.

(1) ning har ikki tomoni kvadratga ko'taramiz, u holda

$$k + \frac{1}{k+1} + \frac{2\sqrt{k}}{\sqrt{k+1}} > k+1,$$

$$\frac{2\sqrt{k}}{\sqrt{k+1}} > \frac{k}{k+1}$$

tengsizlik hosil bo'ladi. Bu tengsizlikni har ikkala tomonini  $\sqrt{\frac{k}{k+1}}$  ga bo'lsak,

$2 > \sqrt{\frac{k}{k+1}}$  tengsizlik  $k$  ning  $k-1$  dan boshqa qiymatlaridan o'rinli, shuning uchun

$$\frac{1}{\sqrt{1}} + \frac{1}{\sqrt{2}} + \dots + \frac{1}{\sqrt{n}} > \sqrt{n}$$

tengsizlik  $n$  ning har qanday qiymatida ham o'rinli.

**5 - m i s o l.**  $(2n - 1)! > n!$  tengsizlikni matematik induksiya metodi bilan isbotlang.

Isboti. Bizga ma'lumki.  $(2n-1)! = 1\check{3}\check{5}\check{7}\dots\check{(2n-1)}$

1.  $n = 1$  bo'lganda  $1 = 1$  tenglik o'rinli.

$n = 2$  bo'lganda  $3 > 2$  sonli tengsizlik hosil bo'ladi.

2. Endi berilgan tengsizlik  $n = k$  hol uchun o'rinli, ya'ni  $(2k-1)! > k!$  deb, faraz qilaylik, buning  $n = k + 1$  hol uchun o'rinli ekanini ko'rsatamiz:

$$\{[2(k+1)-1]! > (k+1)!\} \rightarrow (2k+1)! > (k+1)!$$

$(2k-1)! > k!$  tengsizlikni har ikki tomonini  $k+1$  ga ko'paytiramiz: u holda

$k!(k+1) < (2k-1)!(k+1) < (2k-1)!(2k+1) = (2k+1)!$  ifoda hosil bo'ladi. Bundan esa  $(k+1)! < (2k+1)!$ . Shuning uchun tengsizlik  $n$  ning har qanday qiymatlarida o'rinli.

Tengsizliklarni isbotlang:

1.  $\left(\frac{n}{2}\right)^n > n!$

2.  $\frac{1}{2} \cdot \frac{3}{4} \cdot \frac{5}{6} \cdots \frac{2n-1}{2n} \leq \frac{1}{\sqrt{3n+1}}$

**T a ' r i f:** Umumiy ma'lumotlarga tayanib ayrim yoki xususiy xulosa chiqarish deduksiya deyiladi.

**Misollar 1.**  $x^2 - 3x - 4 = 0$  tenglamaning diskriminantini hisoblab, uning echimlari borligini ko'rsating.  $D = 9 + 16 = 25$ .  $D > 0$ . Bizga ma'lumki, kvadrat tenglamani echish haqidagi qoidaga ko'ra uning diskriminanti musbat bo'lsa, u ikkita haqiqiy har xil echimga ega edi, shuning uchun  $x^2 - 3x - 4 = 0$  tenglama ham ikkita  $x_1 = 4$  va  $x_2 = -1$  echimlarga ega.

2.  $\sqrt{81 \cdot 0,09}$  ifodaning qiymatini hisoblang. Bu ifodaning qiymatini hisoblash uchun maktab algebra kursidan umumiy qonuniyatni o'z ichiga oluvchi quyidagi teoremdan foydalanamiz.

**T e o r e m a.**  $a \geq 0$  va  $b \geq 0$  bo'lganda  $\sqrt{ab} = \sqrt{a} \cdot \sqrt{b}$  bo'ladi.

Shuning uchun quyidagi xulosani hosil qilamiz.

$$\sqrt{81 \cdot 0,09} = \sqrt{81} \cdot \sqrt{0,09} = 9 \cdot 0,3 = 2,7$$

3. Maktab geometriya kursida kosinuslar teoremasining analitik ifodasi bunday:

$$c^2 = a^2 + b^2 - 2ab \cos c \quad (1)$$

Agar (1) da  $c = 90^\circ$  bo'lsa,  $\cos 90^\circ = 0$ , shuning uchun  $c^2 = a^2 + b^2$  (2) bo'ladi. Bizga ma'lumki, (2) Pifagor teoremasini ifodasidir.

Xulosa chiqarish metodlaridan yana biri bu analogiyadir.

**T a ' r i f.** O'xshashlikka asoslanib xulosa chiqarish analogiya deyiladi.

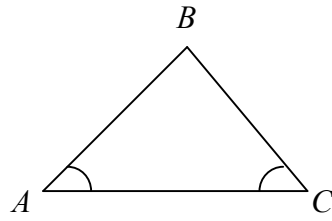
Analogiya bo'yicha xulosa chiqarishni sxematik ravishda quyidagicha tasvirlash mumkin:  $F$  figura  $a, b, c, d, \dots$  xossalarga ega.  $F_1$  figura esa  $a, b, c, \dots$  xossalarga ega bo'lsa, u holda  $F_1$  figura ham  $d$  xossaga ega bo'lishi mumkin.

Fikrimizning dalili sifatida quyidagi tengsizlikni isbot qilaylik. Har qanday tetraedr uchun  $\frac{1}{2}(|AB| + |BC| + |AC|) < |SA| + |SB| + |SC|$  tengsizlik o'rinli.

Bizga ma'lumki, fazodagi tetraedr figurasi tekislikda uchburchak figurasiga analogik figuradir, shuning uchun hap qanday uchburchak uchun o'rinli bo'lgan quyidagi xossadan foydalanamiz.

Har qanday uchburchakda ikki tomon uzunligining yig'indisi uchinchi tomon uzunligidan kattadir (2 chizma):

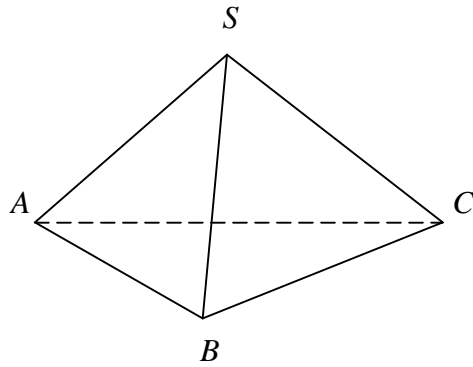
$$|AB| + |BC| > |AC|$$



Agar uchburchak uchun o`rinli bo`lgan ana shu xossani unga analogik bo`lgan figura tetraedrga tadbiiq qilsak, quyidagi tengsizlik hosil bo`ladi (3 chizma):

$$\left. \begin{array}{l} |AB| < |SA| + |SB| \\ |BC| < |SB| + |SC| \\ |AC| < |SA| + |SC| \end{array} \right\} \Rightarrow$$

$$\frac{1}{2}(|AB| + |BC| + |AC|) < |SA| + |SB| + |SC|$$



## **II-BOBNI TAKRORLASH UCHUN SAVOLLAR**

1. Bilish deb qanday psixologik jarayonga aytiladi?
2. Tafakkur tushunchasini ta'rifini aytib bering.
3. Sezgi deb nimaga aytiladi?
4. Idrok va tasavvur tushunchalarini ta'riflang?
5. Matematik tushunchaga ta'rif bering.
6. Tushunchaning mazmunini ta'riflang?
7. Tushunchaning hajmi deganda nimani tushunasiz?
8. Tushunchaning jinsi va uning turi deganda nimani tushunasiz?
9. Ta'rif so'zini lug'aviy ma'nosini aytib bering.
10. Real, klassifikatsion va genetik ta'riflarini aytib bering.
11. Matematik tushunchalar qanday metodlar yordamida kiritiladi?
12. Matematik hukm tushunchasiga ta'rif bering.
13. Matematik xulosa deb nimaga aytiladi?
14. Matematik xulosa turlarini aytib bering.
15. Matematik induksiya metodini tushuntiring?

## **II-BOB UCHUN TAYANCH IBORALAR.**

Bilish, tafakkur, hissiy bilish, mantiqiy bilish, sezgi, idrok, tasavvur, tushuncha, tushunchaning mazmuni, tushunchaning hajmi, tushunchaning jinsi, ta'rif, genetik ta'rif, matematik tushuncha, matematik hukm, matematik xulosa, induksiya, deduksiya.

### **III BOB.**

## **MAKTAB MATEMATIKA KURSIDA TA'LIM METODLARI.**

---

### **1-§. Matematik ta'lim metodlari**

Metod so'zi grekcha so'z bo'lib, "yo'l ko'rsatish" demakdir. "Ta'lim metodi" tushunchasi esa hozirgi zamon metodika va didaktika fanlaridagi asosiy tushunchalardan biridir, ammo bu tushuncha yaqin vaqtlarga qadar turli metodik adabiyotlarda turli mazmunda qo'llanib kelinar edi. XIX asrga qadar bo'lgan metodik adabiyotlarda "metod" tushunchasi matematika kursining asosiy mazmunini bayon qiluvchi mavzuning tavsifisi sifatida ishlatiladi. Masalan, "Sonlarni o'rganish metodi", "Geometrik figuralarni o'rganish metodi" va hokazo.

Hozirgi zamon didaktikasida, jumladan, matematika o'qitish metodikasi fanida ta'lim metodining muammolari umumiy holda hal qilingan bo'lib, u o'zining quyidagi ikki tomoni bilan xarakterlanadi:

- a) o'qitish (o'qituvchining faoliyati);
- b) o'rganish (o'quvchilarning ongli bilish faoliyati).

Ta'lim jarayoni o'qitish va o'rganishdan iborat bo'ladigan bo'lsa, u holda o'qitish (o'quvchilarning bilish faoliyatlarini boshqarish va tekshirishga doir axborot turlari, usul va vositalari), o'rganish (o'quv materialini o'quvchilar tomonidan o'zlashtirishning turlari, usul va vositalari) o'zining quyidagi metodlari orqali amalga oshiriladi. O'qitish va o'rganish metodlari o'zaro bir-biri bilan uzviy aloqadorlikda bo'lib, maktabda o'qitish jarayonini amalga oshiradi. Maktab matematika kursida ta'lim metodlarini quyidagicha klassifikatsiyalash mumkin.

1. Ilmiy izlanish metodlari (kuzatish, tajriba, taqqoslash, analiz va sintez, umumlashtirish, abstraksiyalash va klassifikatsiyalash).
2. O'qitish metodlari (evristik metod, proglammalashtirilgan ta'lim metodi, muammoli ta'lim metodi, ma'ruza va suhbat metodlari).
3. Xulosa chiqarish metodlari (induksiya, deduksiya va analogiya).

### **2-§. Matematika o'qitishdagi ilmiy izlanish metodlari.**

Bizga ma'lumki, matematika fanini o'rganadigan ob'ekti materiyadagi narsalarning fazoviy shakllari va ular orasidagi miqdoriy munosabatlardan iboratdir. Ana shu shakllar orasidagi miqdoriy munosabatlarni aniqlash jarayonida matematiklar izlanishning ilmiy metodlaridan vosita sifatida foydalanadilar.

Matematikadagi izlanishning ilmiy metodlari bir vaqtning o'zida matematikani o'qitishdagi ilmiy izlanish metodlari vazifasini ham bajaradi. O'qitishdagi ilmiy izlanish metodlari quyidagilardan iboratdir.

1. Tajriba va kuzatish; 2. Taqqoslash; 3. Analiz va sintez; 4. Umumlashtirish; 5. Abstraksiyalash; 6. Aniqlashtirish; 7. Klassifikatsiyalash.

### 3-§. Tajriba va kuzatish metodi.

**Ta'rif.** Matematik ob'ektdagi narsalarning xossalari va ularning o'zaro munosabatlarini belgilovchi metod kuzatish deyiladi.

**Misol.** IV-V sinf o'quvchilariga bir necha figurani ko'rsatib, bu figuralar ichidan o'q simmetriyasiga ega bo'lgan geometrik figuralarni ajrating deb buyursak, o'quvchilar barcha figuralarni ko'rib chiqib quyidagicha xulosaga kelishlari mumkin. Figuralar ichida o'zidan biror o'qqa nisbatan ikki qismga ajragan figuralar bo'lsa hamda ularni ana shu o'q bo'yicha buklaganda qismlar ustma-ust tushsa, bunday figuralar simmetrik figuralar bo'ladi. Ammo boshqa figuralarda o'zlarini teng ikkiga bo'luvchi to'g'ri chiziqlar bo'lmasligi mumkin. U holda bunday figuralar nosimmetrik figuralar bo'ladi. Biz figuralardagi bunday xossa va ular orasidagi munosabatlarni kuzatish orqali figuralarni simmetrik va nosimmetrik figuralarga ajratdik.

**Ta'rif.** Matematik ob'ektdagi narsalarning xossalari va ular orasidagi miqdoriy munosabatlarni suniy ravishda bo'lak (qism)larga ajratish yoki ularni birlashtirish tajriba metodi deyiladi.

**M i s o l.** o'quvchilarga natural sonlarni tub ko'paytuvchilarga ajratishni o'rgatiladi:

$$1=1, 2=2\check{1}; 3 = 3\check{1}; 4 = 4\check{1}; 5 = 5\check{1}; \dots$$

O'quvchilarda ixtiyoriy natural sonlarni misolda ko'rsatilganidek, tub ko'paytuvchilarga ajratish jarayonida tajriba hosil bo'lib, ular natural sonlar to'plamida tub va murakkab sonlar mavjud ekanligini tushunib etadilar. Murakkab natural sonlarni ham tub ko'paytuvchilarga ajralishini, ammo ularning ko'paytuvchilari kamida uchta va undan ortiq bo'lishini tajriba orqali tekshirib ko'radilar.

$$\text{Masalan: } 4=2\check{2}\check{1}; 6 = 3\check{2}\check{1}; 25 = 5\check{5}\check{1}; 36 = 3\check{3}\check{2}\check{2}\check{1};$$

Kuzatish va tajriba natijasida tub va murakkab sonlarni qonun va qoidalari o'quvchilarga tushuntiriladi.

#### 4-§. Taqqoslash metodi.

**Ta'rif.** *O'rganilayotgan matematik ob'ektdagi narsalarning o'xshash va farqli tomonlarini aniqlovchi metod taqqoslash metodi deyiladi.*

Taqqoslash metodi ham ilmiy izlanish metodlaridan biridir. Taqqoslash metodini matematika darslarida o'rganilayotgan mavzu materiallariga tadbiiq qilishda quyidagi prinsiplarga amal qilinadi:

- 1) taqqoslanayotgan matematik tushunchalar bir jinsli bo'lishi kerak;
- 2) taqqoslash o'rganilayotgan matematik ob'ektdagi narsalarning asosiy xossalariga nisbatan bo'lishi kerak.

**1 - m i s o l.** Uchburchak figurasi bilan to'rtburchak figurasi taqqoslaganda ularning o'xshash tomonlari: uchlari, burchaklari; ularning o'zaro farqli tomonlari:

- a) uchburchakda uchta uch va uchta tomon;
- b) to'rtburchakda to'rtta uch va to'rtta tomondan iboratligi aniqlanadi.

Bu misolda taqqoslashning ikkala prinsipi ham bajarildi, ya'ni uchburchak va to'rtburchak figuralari bir jinsli tushunchalar bo'lib, ikkalasi ham ko'pburchakning xususiy hollaridir hamda taqqoslash metodi ikkala figuraning asosiy xossalariga nisbatan amalga oshirildi.

**2 - m i s o l.** 8-sinf algebra kursida arifmetik progressiya  $n$ - hadini hisoblash formulasini keltirib chiqarish ham taqqoslash metodi orqali amalga oshiriladi.

**Ta'rif.** *Ikkinchi hadidan boshlab o'zidan avvalgi har bir hadiga biror o'zgarmas son qo'shilishidan hosil bo'ladigan sonlar ketma-ketligi arifmetik progressiya deyiladi.*

Faraz qilaylik,  $a_1, a_2, a_3, \dots, a_n, \dots$  ko'rinishdagi sonlar ketma-ketligi berilgan bo'lsin.  $d$  - o'zgarmas son bo'lsin, u holda ta'rifga ko'ra:

$$a_2 = a_1 + d \quad (1)$$

$$a_3 = a_2 + d \quad (2)$$

(1) va (2) dan :

$$a_3 = a_1 + d + d = a_1 + 2d \quad (3)$$

Xuddi shuningdek,

$$a_4 = a_3 + d = a_1 + 2d + d = a_1 + 3d \quad (4)$$

(3) va (4) larning o'zaro taqqoslash hamda induksiya metodini tadbiiq qilish natijasida arifmetik progressiya  $n$  - hadini hisoblash formulasi keltirib chiqariladi:

$$a_n = a_{n-1} + d = a_1 + (n - 2)d + d = a_1 + (n - 1)d$$



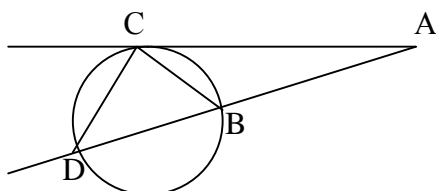
## 5-§. Analiz va sintez metodi.

**Ta'rif.** Noma'lumlardan ma'lumlarga tomon izlash metodi analiz deyiladi.

Analiz metodi orqali fikrlashda o'quvchi quyidagi savolga javob berishi kerak: "Izlanayotgan noma'lumni topish uchun nimalarni bilish kerak?" Analiz metodini psixologlar bunday ta'riflaydilar: "butunlardan bo'laklarga tomon izlash metodi analiz deyiladi".

Fikrlashning analiz usulida har bir qadamning o'z asosi bor bo'ladi, ya'ni har bir bosqich bizga ilgaridan ma'lum bo'lgan qoidalarga asoslanadi. Fikrlarimizning dalili sifatida quyidagi teoremani analiz metodi bilan isbot qilamiz.

**T e o r e m a.** Aylana tashqarisidagi nuqtadan aylanaga kesuvchi va urinma o'tkazilsa, kesuvchi kesmalarning ko'paytmasi urinmaning kvadratiga teng (4-chizma).



4-Chizma.

Berilgan: teoremda berilgan barcha shartlarni III, xulosani esa X bilan belgilaylik.

III: [AC] - urinma;

C - urinish nuqasi;

[AD] - kesuvchi;

[AB] - uning tashqi qismi.

Isbot qilish kerak:  $AC^2 = |AD| \cdot |AB|$ .

Isboti. Bu teoremani isbotlash uchun bizga oldindan ma'lum bo'lgan matematik faktlar kerak bo'ladi, biz ularni qisqacha  $\Phi$  bilan belgilasak, teoremani shart va xulosalarini quyidagicha yozish mumkin:

$$III, \Phi \xrightarrow{?} X$$

Isbotlash natijasida hosil qilinadigan  $AC^2 = |AD| \cdot |AB|$  natijani yana quyidagicha yozishimiz mumkin:

$$\left[ (III, \Phi), \left( \frac{|AC|}{|AD|} = \frac{|AB|}{|AC|} \right) \right] \xrightarrow{?} X.$$

Endi bizning maqsadimiz shart va ma'lum faktlar asosida  $\frac{|AC|}{|AD|} = \frac{|AB|}{|AC|}$  ni aniqlashdan iborat. Bu savolga javob proporsiyaning o'zidan ko'rinib turibdi, agar

biz  $AC$  va  $AD$  larni bir uchburchak tomonlari desak, u holda  $AC$  va  $AB$  larni ikkinchi uchburchak tomonlari deb olamiz. U holda  $DACD$  va  $DABC$  larni hosil qilish kerak bo'ladi. Buning uchun  $B$  va  $C$  hamda  $C$  va  $D$  nuqtalarni o'zaro

birlashtirish kifoya. U holda;  $[(III, \Phi), (\Delta ACD \sim \Delta ABC)] \stackrel{?}{\Rightarrow} \frac{|AC|}{|AD|} = \frac{|AB|}{|AC|}$ .

Endi esa bu uchburchaklarning o'xshashliklari bizga noma'lumdir ya'ni:

$$III, \Phi \stackrel{?}{\Rightarrow} \Delta ACD \sim \Delta ABC.$$

Bu yerda ikki uchburchak o'xshash bo'lishi uchun qanday shartlar bajarilishi kerak, degan savol tug'iladi, bunga quyidagicha javob berish mumkin:

$$[(III, \Phi), \angle A = \angle A, \angle ACB = \angle ADC] \stackrel{?}{\Rightarrow} (\Delta ACD \sim \Delta ABC).$$

Bu mulohazalardan esa quyidagi savollar kelib chiqadi:

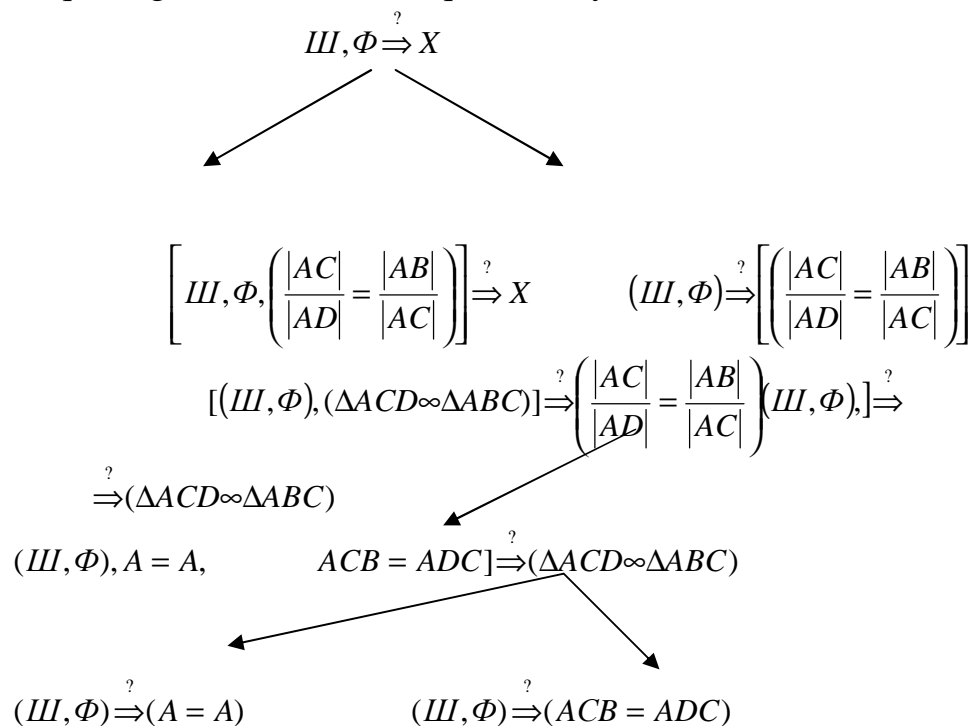
- 1)  $(III, \Phi) \stackrel{?}{\Rightarrow} \angle A = \angle A$ .                      2)  $(III, \Phi) \stackrel{?}{\Rightarrow} \angle ACB = \angle ADC$ . Bu savollarga esa

quyidagicha javob berish mumkin:

1) har qanday burchak o'z-o'ziga teng.

2) Aylanaga ichki chizilgan burchaklar haqidagi teorema ko'ra yoki ushbu burchaklarni o'lchash orqali hal qilish mumkin.

Yuqoridagi isbotni sxema orqali bunday ifodalash mumkin:



**T e o r e m a.** Ikki son yig'indisining o'rta arifmetigi shu sonlar o'rta geometrigidan kichik emas.

$$\forall (a, b) \geq 0 \quad \frac{a+b}{2} \geq \sqrt{ab}$$

Isboti.

$$\frac{a+b}{2} \geq \sqrt{ab} \rightarrow \text{analiz}$$

$$a+b \geq 2\sqrt{ab}$$

$$a - 2\sqrt{ab} + b \geq 0$$

$$(\sqrt{a} - \sqrt{b})^2 \geq 0$$

**M i s o l.** Quyidagi tenglama analiz metodi bilan yechilsin:

$$\frac{\lg 2(x+1)}{\lg(x-3)} = 2$$

Bu tenglamaning yechimini topishning o'zi noma'lumdan ma'lumga tomon izlanish demakdir. Bu tenglama  $x > 3$  va  $x \neq 4$  larda ma'noga egadir.

$$\lg 2(x+1) = 2 \lg(x-3), \quad x^2 - 8x + 7 = 0$$

$$\lg 2(x+1) = \lg(x-3)^2, \quad x_1 = 7$$

$$2(x+1) = (x-3)^2, \quad x_2 = 1$$

$$2x + 2 = x^2 - 6x + 9$$

Bu yerda  $x > 3$  bo'lgani uchun  $x_2 = 1$  yechim bo'la olmaydi, shuning uchun  $x_1 = 7$  yagona yechimdir.

**Ta'rif.** Malumlardan noma'lumlarga tomon izlash metodi sintez deyiladi.

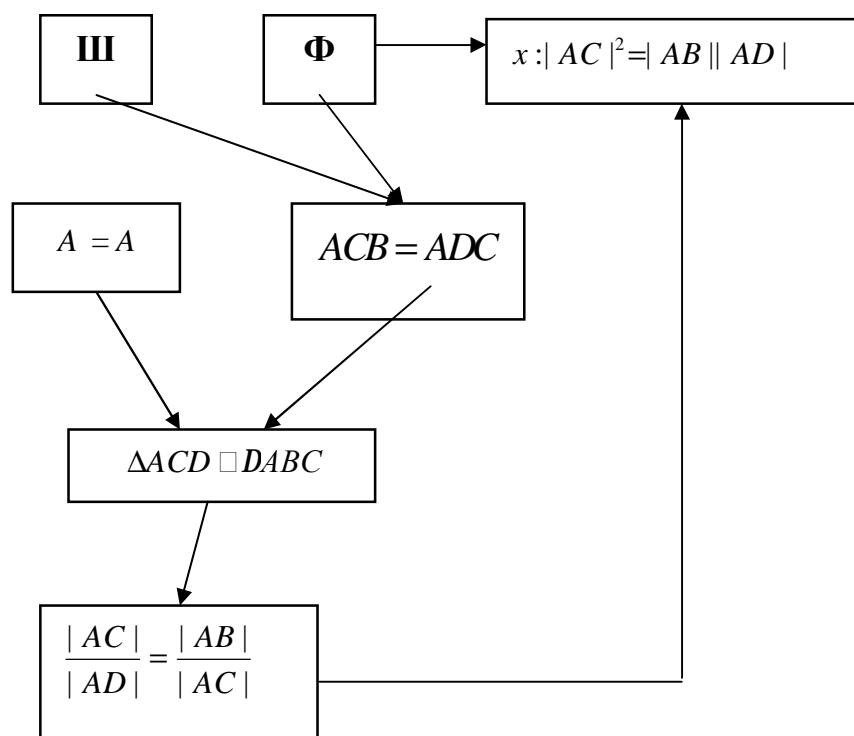
Sintez metodida fikrlashning bir bosqichidan ikkinchi bosqichiga o'tish go'yoki ko'r-ko'rona bo'ladi, bu o'tishlar o'quvchiga noaniqroq bo'ladi.

Sintez metodida biz berilganlarga asoslanib nimalarni topa olamiz, degan savolga javob beramiz. Yuqoridagi teoremani sintez metodi orqali isbot qilaylik.

B e r i l g a n: III: [AC] - urinma; C - urinish nuqtasi; [AD] - kesuvchi; [AB] - uning tashqi qismi.

Isbot qilish kerak: (III.  $\Phi$ )  $\xrightarrow{?}$  (X:  $AC^2 = |AD| \cdot |AB|$ ).

Biz isbotning sintez metodini quyidagi sxema orqali chizib ko'ramiz:



**2-teorema.** Ikki son yig'indisining o`rta arifmetigi shu sonlarni o`rta geometrigidan kichik emas.

$$\forall(a,b) \geq 0 \quad \frac{a+b}{2} \geq \sqrt{ab}$$

I s b o t i.

$$\begin{aligned} (\sqrt{a} - \sqrt{b})^2 &\geq 0 \\ (\sqrt{a})^2 - 2\sqrt{a} \cdot \sqrt{b} + (\sqrt{b})^2 &\geq 0 \\ a - 2\sqrt{ab} + b &\geq 0 \\ \frac{a+b}{2} &\geq \sqrt{ab} \end{aligned}$$

Yuqoridagilardan ko`rinadiki, analiz sintez metodiga nisbatan ancha qulay metod ekan, chunki bunda o`quvchilar o`z mulohazalarni mustaqil ravishda asoslab isbotlashga doir misol va masalalarni yechishlariga yordam beradi. Umuman olganda, analiz va sintez metodlari bir-biridan ajralmaydigan metodlardir. Masalan, teoremani analiz yo`li bilan isbot qilsak, uni sintez metodi orqali tushuntiramiz, chunki bu metod ancha ixcham va maqsadga tomon tezroq olib keladigan metoddur. Fikrlarimizning dalili sifatida quyidagi misolni ham sintez metodi orqali yechamiz.

**Misol.**  $x_1 = 7$  va  $x_2 = 1$  yechimlarni qanoatlashtiruvchi logarifmik tenglama tuzilsin. Bu yerda quyilgan savolning o`zi ma'lumdan noma'lumga tomon izlashni talab qilyapti, shuning uchun bu savolga sintez metodi orqali javob beriladi. Bu

yerdagi bajarilishi kerak bo'lgan matematik jarayon ildizdan tenglamaga tomon olib boriladi.

1)  $x_1=7$  va  $x_2=1$  yechimlarni qanoatlantiruvchi tenglamani quyidagicha tuzish mumkin:

$$(x - 7)(x - 1) = 0, x^2 - 8x + 7 = 0$$

Ayniy almashtirish bajarish bilan quyidagi tenglamani hosil qilamiz:

$$x^2 - 6x - 2x + 9 - 2 = 0, \quad \frac{\lg 2(x+1)}{\lg(x-3)} = 2$$

$$2x + 2 = x^2 - 6x + 9,$$

$$2x + 2 = (x - 3)^2,$$

$$\lg(2(x+1)) = 2 \checkmark \lg(x - 3) /: \lg(x - 3) \neq 0.$$

Biz sintez metodi yordamida ma'lum bo'lgan  $x_1=7$  va  $x_2=1$  ildizlarni qanoatlantiruvchi  $\frac{\lg 2(x+1)}{\lg(x-3)} = 2$  ko'rinishdagi noma'lum tenglamani hosil qildik.

## 6-§. Umumlashtirish metodi.

Umumlashtirish tushunchasi ham matematika o'qitishdagi ilmiy izlanish metodlaridan biri bo'lib hisoblanadi. Umumlashtirish usulini ahamiyatini atoqli olim A.N.Kondakov quyidagicha ta'riflaydi.

"Umumlashtirish shunday mantiqiy usulki, uning vositasi orqali birlik fikrlashlardan umumiy fikrlashlarga o'tiladi".

Maktab matematika kursida umumlashtirish tushunchasi quyidagicha tadbiiq qilinadi:

1. Matematik tushunchalarni umumlashtirish;
2. Teoremlarni isbotlashda umumlashtirish;
3. Misol va masalalarni yechishda umumlashtirish;

Endi umumlashtirish tadbiqlarini alohida-alohida ko'rib chiqamiz.

### 1. Matematik tushunchalarni umumlashtirish

**Ta'rif.** Matematik ob'ektdagi narsalarning asosiy xossalarini aks eptiruvchi tafakkur shakli matematik tushuncha deyiladi.

Har bir matematik tushuncha o'zining ikki tomoni bilan xarakterlanadi:

- a) tushunchaning mazmuni;
- b) tushunchaning hajmi.

**Ta'rif.** Tushunchaning mazmuni deb, ana shu tushunchani ifodalovchi asosiy xossalarning to'plamiga aytiladi.

Masalan, to'rtburchak tushunchasini olaylik. To'rtburchak tushunchasining mazmuni quyidagi asosiy xossalar to'plamidan iborat:

- 1) to'rtburchakning diagonali uni ikkita uchburchakka ajratadi.
- 2) ichki qarama-qarshi burchaklarning yig'indisi  $180^\circ$  ga teng.
- 3) diagonallari bir nuqtada kesishadi va shu nuqtada ikkita bo'lakka bo'linadi.

**Ta'rif.** *Tushunchaning hajmi deb ana shu tushunchaga kirgan barcha ob'ektlar to'plamiga aytiladi.*

Masalan, to'rtburchak tushunchasining hajmi to'rtburchak tushunchasiga kirgan barcha to'rtburchak turlaridan, ya'ni: parallelogramm, kvadrat, romb va trapetsiyadan iborat. Bundan ko'rinadiki, to'rtburchak tushunchasining hajmini tomonlari uzunliklarining miqdori turlicha bo'lgan barcha katta va kichik to'rtburchaklar tashkil qilar ekan. Hajm jihatidan keng, mazmun jihatidan esa tor bo'lgan tushunchani *jins tushunchasi* va aksincha hajmi tor, mazmuni esa keng bo'lgan tushunchani *tur tushunchasi* deb yuritiladi. Masalan, akslantirish tushunchasini olaylik. Bu tushunchadan qaytuvchi va qaytmaydigan akslantirish tushunchalari kelib chiqadi.

Bu yerda akslantirish tushunchasi qaytuvchi va qaytmaydigan akslantirish tushunchalariga nisbatan jins tushunchasi, qaytuvchi va qaytmaydigan akslantirish tushunchalari akslantirish tushunchasiga nisbatan tur tushunchalari bo'ladi. Yuqoridagi mulohazalardan ko'rinadiki, jins tushunchasi tur tushunchalariga nisbatan umumiy bo'lgan tushuncha ekan. Shuning uchun ham tushunchani umumlashtirishga quyidagicha ta'rif berilgan: "*Tur tushunchalaridan jins tushunchalariga o'tish tushunchani umumlashtirish deyiladi*". Umumlashtirish jarayonida o'rganilayotgan tushunchalar orasida umumiy xarakterli mosliklar o'rnatilib, umumiy fikrlashlarga o'tiladi. Yuqoridagi mulohazalardan ko'rinib turibdiki, umumlashtirish jarayonida umumlashtirilgan tushunchaning hajmi ortib, mazmuni torayar ekan.

**Misol.** Qaytuvchi akslantirish tushunchasining hajmi  $B$  bo'lsin, uning mazmuni  $\alpha$  bo'lsin. Akslantirish tushunchasining hajmi  $H$  bo'lsin, uning mazmuni esa  $b$  bo'lsin. Tushunchani umumlashtirishga berilgan ta'rifga ko'ra quyidagi munosabat o'rinli bo'ladi:  $(B \subset H) \Rightarrow (a > b)$ . Bu yerda  $B$  - qaytaruvchi akslantirishning hajmiga bi'ektiv akslantirish kiradi.  $H$  - akslantirishning hajmiga esa barcha akslantirishlar kiradi. Shuning uchun qaytuvchi akslantirish tushunchasi akslantirish tushunchasining qismi bo'lyapti. Boshqacha aytganda, akslantirish

tushunchasi qaytuvchi va qaytmaydigan akslantirish tushunchalarining umumlashgan holi ekan.

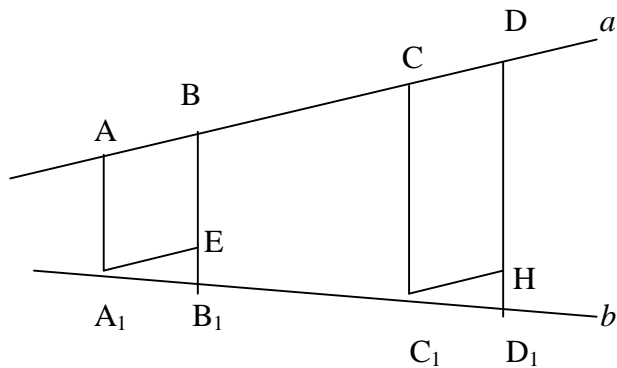
Endi uning mazmuniga kelsak, bu yerda qaytuvchi akslantirish deganda biz faqat shu akslantirishning xossalrigina o'rganamiz. Demak, biz o'rganadigan tushunchaning mazmuni aniq. Endi akslantirish tushunchasini olsak, bu yerda biz o'rganadigan tushunchaning mazmuni noaniqroq, chunki akslantirish tushunchasidan ikkita, ya'ni qaytuvchi va qaytmaydigan akslantirish tushunchalari kelib chiqadi. Bulardan ko'rinib turibdiki, qaytuvchi akslantirish tushunchasining mazmuni akslantirish tushunchasining mazmunidan katta ekan, ya'ni:  $a > b$ .

### 1. Teoremlarni isbotlashda umumlashtirish

Teoremlarni umumlashtirish jarayonida o'quvchilar uning shart va xulosa qismini o'zaro ajratishlari hamda ular orasidagi o'xshash va farq tomonlarini analiz qilishlari lozimdir.

Analiz qilish quyidagi bosqichlar orqali amalga oshiriladi:

- 1) teoremda qatnashayotgan xossalarni asosiy va asosiy bo'lmagan xossalar gruppasiga ajratiladi;
- 2) teoremani umumlashtirish uchun uning shartida qatnashayotgan asosiy xossalardan qaysi birini mazmunini o'zgartirish kerakligi aniqlanadi;
- 3) teorema umumlashgan holda isbot qilinadi.



5-Chizma.

**Teorema.** *Agar bir to'g'ri chiziqda bir necha kongurent kesma ajratilsa va ularning uchlaridan ikkinchi to'g'ri chiziqni kesuvchi o'zaro parallel to'g'ri chiziqlar o'tkazilsa, ular ikkinchi to'g'ri chiziqda o'zaro kongurent kesmalar ajratadi (5-chizma).*

Berilgan:  $[AB] \wedge [CD] \in a,$   
 $[AB] \cong [CD],$   
 $[AA_1] \parallel [BB_1] \parallel [CC_1] \parallel [DD_1]$

Isbot qilish kerak:

$$[A_1B_1] \cong [C_1D_1] \in b,$$

Isboti. Bu teoremani isbotlashda uchburchaklar kongruentligini alomatidan foydalanish maqsadga muvofiqdir. Chizmadan:

$$[AB] \parallel [A_1E] \wedge [CD] \parallel [C_1H].$$

$DA_1EB_1 \cong DC_1HD_1$  bir tomoni va unga yopishgan burchaklariga ko'ra, natijada:

$$[A_1B_1] \cong [C_1D_1] \in b.$$

Fales teoremasida asosan ikki shart bor: 1)  $a$  to'g'ri chiziqda kongruent kesmalar ajratilsin, 2) kesmalarning uchlaridan  $b$  to'g'ri chiziqni kesuvchi parallel to'g'ri chiziqlar o'tkazilsin. Faraz qilaylik,  $a$  to'g'ri chiziqda kongruent kesmalar emas, balki ixtiyoriy kesmalar ajrataylik, u holda teoremaning mazmuni quyidagicha bo'ladi: "Agar bir to'g'ri chiziqda bir necha ixtiyoriy kesma ajratilsa va ularning uchlaridan ikkinchi to'g'ri chiziqni kesuvchi o'zaro parallel to'g'ri chiziqlar o'tkazilsa, ular ikkinchi to'g'ri chiziqda ham ixtiyoriy kesmalar ajratadi".

Berilgan:

$$([AB] \wedge [BC]) \in a; [AA_1] \parallel [BB_1] \parallel [CC_1] \parallel [DD_1]$$

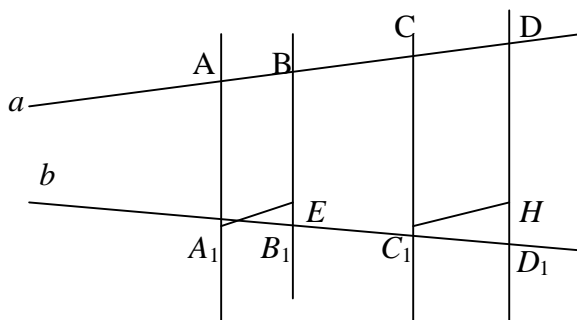
Isbot qilish kerak:

$$\frac{|AB|}{|CD|} = \frac{|A_1B_1|}{|C_1D_1|}.$$

Isboti: chizmadan (6-chizma):

$$(\Delta A_1EB_1 \cong \Delta C_1HD_1) \Rightarrow \frac{|A_1B_1|}{|C_1D_1|} = \frac{|A_1E|}{|C_1H|} \quad (1)$$

$$[A_1E] \parallel [AB] \wedge ([C_1H] \parallel [CD]) \Rightarrow [A_1E] \cong [AB] \wedge ([C_1H] \cong [CD]) \Rightarrow \Rightarrow (|A_1E| = |AB|) \wedge (|C_1H| = |CD|).$$



6-Chizma.



(1) tenglikdagi  $|A_1E|$  va  $|C_1H|$  o'rniga (2) tenglikdagi  $AB$  va  $CD$  larni qo'ysak:

$$\frac{|AB|}{|CD|} = \frac{|A_1B_1|}{|C_1D_1|}.$$

(3) tenglik proporsional kesmalar haqidagi teoremaning natijasidir. Demak, proporsional kesmalar haqidagi teorema Fales teoremasining umumlashgan holi ekan.

### 3. Masalalarni yechishda umumlashtirish

Bizga ma'lumki, maktab geometriya kursi deduktiv asosda mantiqiy qurilgan fandır. Shuning uchun ham maktab matematika kursidagi barcha amaliy materiallar o'quvchilarning mantiqiy fikrlash qobiliyatlarini har tomonlama shakllantirishga qaratilgandır. O'quvchilarning mantiqiy fikrlash qobiliyatlarini shakllantirish esa matematikada yechiladigan amaliy mavzu materiallariga o'qitishning ilmiy izlanish metodlarini izchillik bilan tadbiiq qilish lozimligini taqazo etadi. Ana shunday metodlardan biri umumlashtirish usulidir.

**1 - m i s o l.** Berilgan ikki kesmaga o'rta proporsional bo'lgan kesmani yasash qoidasiga asoslanib, bir-biriga teng bo'lmagan ixtiyoriy ikki musbat sonning o'rta arifmetigi shu sonlarning o'rta geometrigidan katta son ekanligini isbot qiling.

Berilgan:  $a$  va  $b$  sonlar;  $a > 0$ ,  $b > 0$ ,  $a \neq b$ .

Isbot qilish kerak:  $\frac{a+b}{2} \geq \sqrt{ab}$

I s b o t i.

$$\frac{a+b}{2} \geq \sqrt{ab},$$

$$\frac{a+b}{2} - \sqrt{ab} = 0,$$

$$a+b-2\sqrt{ab} \geq 0,$$

$$(\sqrt{a}-\sqrt{b})^2 \geq 0 \quad \text{demak} \quad \frac{a+b}{2} \geq \sqrt{ab}$$

I. Faraz qilaylik, berilgan sonlar uchta bo'lsin. Berilgan:  $a$ ,  $b$ ,  $c$  - sonlar;  $a > 0$ ,  $b > 0$ ,  $c > 0$ ,  $a \neq b \neq c$ .

Isbot qilish kerak:  $\frac{a+b+c}{3} \geq \sqrt[3]{abc}$

Isboti. Faraz qilaylik,  $a = x^3$ ,  $b = y^3$ ,  $c = z^3$  bo'lsin, u holda

$$\left(\frac{x^3 + y^3 + z^3}{3} \geq \sqrt[3]{x^3 y^3 z^3}\right) \Rightarrow (x^3 + y^3 + z^3 \geq \sqrt[3]{x^3 y^3 z^3} \cdot 3) \Rightarrow \\ \Rightarrow (x^3 + y^3 + z^3 \geq 3xyz) \Rightarrow (x^3 + y^3 + z^3 - 3xyz \geq 0) \quad (1)$$

Agar biz (1) tengsizlikni o'rinli bo'lishini ko'rsatsak,  $\frac{a+b+c}{3} \geq \sqrt[3]{abc}$  ekanligini ko'rsatgan bo'lamiz.

$$[(x^3 + y^3 + z^3 - 3xyz) \geq 0] \Rightarrow [(x+y+z)^3 - 3(x+y+z) \times \\ \times (xy + xz + yz)] \geq 0 \Rightarrow [(x+y+z) \times \\ \times (x^2 + y^2 + z^2 - xy + xz + yz)] \geq 0 \quad (2)$$

(2) dagi birinchi ko'paytuvchi musbat, shuning uchun biz ikkinchi ko'paytuvchini musbat ekanligini ko'rsatsak, (1) tengsizlikni musbat ekanligini ko'rsatgan bo'lamiz:

$$(x^2 + y^2 + z^2 - xy + xz + yz) = \frac{1}{2}(2x^2 + 2y^2 + 2z^2 - 2xy - 2xz - 2yz) \Rightarrow \\ \Rightarrow \frac{1}{2}[(x-z)^2 + (x-y)^2 + (y-z)^2] \geq 0 \quad (3)$$

(3) tengsizlik doimo berilishiga ko'ra musbatdir, agar  $x=y=z$  bo'lsa, (3) tengsizlik nolga teng bo'ladi, bu holda (1) tengsizlik tenglikka aylanadi.

Demak,  $\frac{a+b+c}{3} \geq \sqrt[3]{abc}$  tengsizlik o'rinli ekan.

II. Faraz qilaylik, berilgan sonlar to'rtta bo'lsin.

Berilgan:  $a, b, c, d$  - sonlar;  $a > 0, b > 0, c > 0, d > 0$ ;

Isbot qilish kerak:  $\frac{a+b+c+d}{4} \geq \sqrt[4]{abcd}$

Isboti.  $\frac{a+b}{2} \geq \sqrt{ab}$  ga asosan

$$\left[\frac{\frac{a+b}{2} + \frac{c+d}{2}}{2} \geq \sqrt{\left(\frac{a+b}{2}\right)\left(\frac{c+d}{2}\right)}\right] \Rightarrow \frac{a+b+c+d}{4} \geq \sqrt{\left(\frac{a+b}{2}\right)\left(\frac{c+d}{2}\right)}. \\ \left(\frac{a+b}{2}\right) \geq \sqrt{ab}. \quad \left(\frac{c+d}{2}\right) \geq \sqrt{cd}. \quad (4)$$

bo'lgani uchun bularni (4) ga qo'ysak:

$$\frac{a+b+c+d}{4} \geq \sqrt{\sqrt{ab} \cdot \sqrt{cd}} \Rightarrow \frac{a+b+c+d}{4} \geq \sqrt[4]{abcd}.$$

Demak,  $\frac{a+b+c+d}{4} \geq \sqrt[4]{abcd}$  tengsizlik o'rinli bo'ladi.

Endi yuqoridagi tengsizlikni har qanday  $n$  uchun o'rinli deb, matematik induksiya metodi orqali umumlashgan ( $n + 1$ ) hol uchun isbot qilamiz:

$$a_{n+1} \geq \frac{a_1 + a_2 + a_3 + \dots + a_n}{n} = N_n;$$

$$\frac{a_1 + a_2 + a_3 + \dots + a_n + a_{n+1}}{n+1} = N_{n+1};$$

$$a_{n+1} = N_n + e, \quad e > 0 \quad \text{bo'lsin}$$

$$\left( N_{n+1} = \frac{nN_n + a_{n+1}}{n+1} \right) \Rightarrow \left( N_{n+1} = \frac{nN_n + N_n + e}{n+1} \right) \Rightarrow$$

$$\left( N_{n+1} = \frac{N_n(n+1) + e}{n+1} \right) \Rightarrow \left( N_{n+1} = N_n + \frac{e}{n+1} \right);$$

$$(N_{n+1})^{n+1} = \left( N_n + \frac{e}{n+1} \right)^{n+1} = N_n^{n+1} + (n+1) \cdot N_n^n \cdot \frac{e}{n+1} + \dots \geq$$

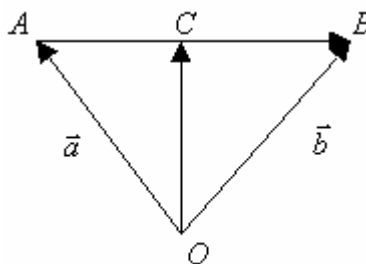
$$\geq (N_n^{n+1} + N_n^n \cdot e) = N_n^n (N_n + e) = N_n^n a_{n+1};$$

$$\left( (N_{n+1})^{n+1} \geq N_n^n a_{n+1} \right) \Rightarrow \left( N_{n+1} \geq \sqrt[n+1]{N_n^n a_{n+1}} \right) \Rightarrow$$

$$\Rightarrow N_{n+1} \geq \sqrt[n+1]{a_1 a_2 \dots a_{n+1}}.$$

$$\text{Demak, } \frac{a_1 + a_2 + a_3 + \dots + a_n + a_{n+1}}{n+1} \geq \sqrt[n+1]{a_1 a_2 \dots a_{n+1}}$$

**2-misol.**  $C$  nuqta  $[AB]$  kesmani teng ikkiga bo'ladi.  $O$  ixtiyoriy nuqta.  $\overrightarrow{OC}$  vektorni  $\overrightarrow{OA} = \vec{a}$ ,  $\overrightarrow{OB} = \vec{b}$  vektorlar orqali ifodalang (7-chizma).



7-Chizma

$$\text{Berilgan: } [AB], \quad \overrightarrow{OA} = \vec{a}, \quad \overrightarrow{OB} = \vec{b}, \quad \left( \frac{\overrightarrow{AC}}{\overrightarrow{CB}} = 1 \right) \Rightarrow |\overrightarrow{AC}| = |\overrightarrow{CB}|.$$

$$\text{Topish kerak: } \overrightarrow{OC} = ?$$

$$\text{Echish: shartga ko'ra: } \left( \frac{\overrightarrow{AC}}{\overrightarrow{CB}} = 1 \right) \text{ bo'lgani uchun } |\overrightarrow{AC}| = \frac{1}{2} |\overrightarrow{AB}| \quad (1) \text{ bo'ladi.}$$

Chizmadan:  $\overrightarrow{AC}$  va  $\overrightarrow{AB}$  vektorlarning yo'nalishlari bir xil bo'lgani uchun

$$\overrightarrow{AC} = \overrightarrow{OC} - \overrightarrow{OA}, \quad (2)$$

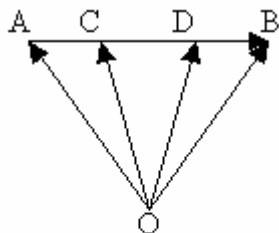
$$\overrightarrow{AB} = \overrightarrow{OB} - \overrightarrow{OA}, \quad (3)$$

(2) va (3) larni (1) ga qo'ysak:

$$\vec{OC} - \vec{OA} = \frac{1}{2}(\vec{OB} - \vec{OA}), \quad \vec{OC} = \frac{1}{2}(\vec{OB} + \vec{OA})$$

$$\vec{OC} = \frac{1}{2}\vec{OB} + \frac{1}{2}\vec{OA}, \quad \vec{OC} = \frac{1}{2}(\vec{b} + \vec{a})$$

Endi shu kesmani ikkita  $C$  va  $D$  nuqtalar yordamida teng uch bo'lakka bo'laylik.  $O$  ixtiyoriy nuqta.  $\vec{OC}$  va  $\vec{AD}$  vektorlarni  $\vec{OA} = \vec{a}$ ,  $\vec{OB} = \vec{b}$  vektorlar orqali ifodalang (8-chizma).



8-Chizma

Berilgan:  $[AB]$ ,  $\vec{OA} = \vec{a}$ ,  $\vec{OB} = \vec{b}$ ,  $\vec{AC} = \frac{1}{3}\vec{AB}$

Topish kerak:  $\vec{OC} = ?$

Echish: shartga ko'ra:  $\left(\frac{\vec{AC}}{\vec{AB}} = \frac{1}{3}\right) \Rightarrow \vec{AC} = \frac{1}{3}\vec{AB}$  (1)

$\vec{AB}$  va  $\vec{AC}$  vektorlarning yo'nalishlari bir xil bo'lganligi uchun

$$\vec{AC} = \vec{OC} - \vec{OA}, \quad (2)$$

$$\vec{AB} = \vec{OB} - \vec{OA}, \quad (3)$$

(2) va (3) larni (1) ga qo'ysak:

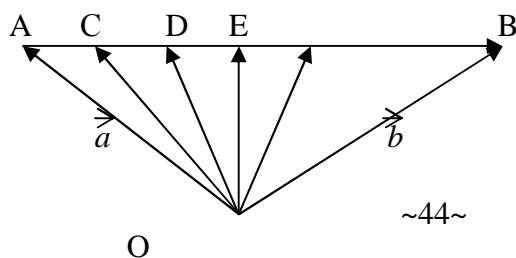
$$\vec{OC} - \vec{OA} = \frac{1}{3}(\vec{OB} - \vec{OA})$$

$$\vec{OC} = \frac{1}{3}\vec{OB} + \frac{2}{3}\vec{OA},$$

$$\vec{OC} = \frac{1}{3}(\vec{OB} + 2\vec{OA}),$$

$$\vec{OC} = \frac{1}{3}(\vec{b} + 2\vec{a})$$

Endi shu  $[AB]$  kesmani  $C, D, E, \dots$  nuqtalar yordamida teng  $n$  ta bo'lakka bo'laylik.  $O$  – tekislikning ixtiyoriy nuqtasi bo'lsin (9-chizma).  $\vec{OC}$  vektorni  $\vec{OA} = \vec{a}$ ,  $\vec{OB} = \vec{b}$  vektorlar orqali ifodalang.



Berilgan:  $[AB]$ ,  $\vec{OA} = \vec{a}$ ,  $\vec{OB} = \vec{b}$ ,  $\frac{|\vec{AC}|}{|\vec{AB}|} = \frac{1}{n}$

Topish kerak:  $\vec{OC} = ?$

Echish: shartga ko'ra:  $\frac{|\vec{AC}|}{|\vec{AB}|} = \frac{1}{n}$

$\vec{AC}$  va  $\vec{AB}$  vektorlarning yo'nalishlari bir xil bo'lganligi uchun

$$\vec{AC} = \vec{OC} - \vec{OA}, \quad (2)$$

$$\vec{AB} = \vec{OB} - \vec{OA}, \quad (3)$$

(2) va (3) larni (1) ga qo'ysak:

$$\vec{OC} - \vec{OA} = \frac{1}{n}(\vec{OB} - \vec{OA})$$

$$\vec{OC} = \frac{1}{n}(\vec{OB} + (n-1)\vec{OA})$$

$$\vec{OC} = \frac{1}{n}(\vec{b} + (n-1)\vec{a})$$

## 7-§. Abstraksiyalash metodi

O'qitish jarayonidagi ilmiy izlanish metodlaridan biri bu abstraksiyalashdir. Abstraksiyalash - o'rganilayotgan ob'ektdagi narsalarning muhim belgilarini, sifat yoki xususiyatlarini fikran ajratib olib ana shu belgi, sifat yoki xususiyatlarni mustaqil fikr ob'ektiga aylantirishdan iborat tafakkur operatsiyasidir.

**1 - m i s o l.** O'qituvchi abstraksiyalash metodini o'quvchilarga  $3 \times 5 = 15$  misol orqali tushuntirishi maqsadga muvofiq. Bizga ma'lumki, bu oddiy matematik tenglikdir, ammo u ob'ektiv olamdagi ma'lum bir qonuniyatlarni aks ettiradi. Agar biz  $3 \times 5 = 15$  tenglikka ma'lum bir shartlarni qo'ysak, u holda bu tenglik quyidagi qonuniyatlarni ifodalaydi:

Agar biz 3 sonini qalamlarning soni, 5 sonini har bir qalamning qiymati desak, u holda 15 soni jami qalamlarning qiymatini (qancha turishini) ifodalaydi.

Agar biz 3 sonini odamning piyoda yurgan vaqti, 5 soni uning bir soatdagi tezligi desak. u holda 15 soni piyoda odamning 3 soat ichida bosib o'tgan yo'lini ifodalaydi.

**2 - m i s o l.** Biz fizika kursida jismning harakat tezligi tushunchasini  $v_t=v_o+at$  formula bilan, metall sterjen uzunligini qizdirilgandagi o'zgarishini  $l_x=l_o+at$  formula bilan, chiziqli funksiyaning burchak koeffitsientli formulasini esa  $f(x)=ax+b$  bilan ifodalaymiz. Agar biz bu formulalarga diqqat bilan qarasaq,  $v_t=v_o+at$  va  $l_x=l_o+at$  formulalar  $f(x)=ax+b$  chiziqli funksiya formulasining fizikada yozilishi ekanligini ko'ramiz.

Yuqoridagi misollardan ko'rinib turibdiki, abstraksiyalash usulida narsalarning aniq holatidan uzoqlashib, ularning muhim belgilari haqidagina gap boradi, narsalarning turli ko'rinishlari bo'yicha fikr yuritilmaydi. O'quvchilarga abstraksiyalash metodini o'rgatish ularning narsa va hodisalarni muhim belgilarini ajrata olishlari hamda ilmiy tushunchalarni o'zlashtirishlari uchun katta ahamiyatga egadir.

### 8-§. Aniqlashtirish metodi

O'rganilayotgan ob'ektdagi narsalarning xossalarni bir tomonlama xususiy holda fikrlash aniqlashtirish deyiladi.

**1 - m i s o l.**  $a^2 - b^2 = (a - b)(a + b)$  bu formulani aniq hollar uchun quyidagicha qo'llash mumkin:

$$\sqrt{81^2 - 63^2} = \sqrt{(81 - 63)(81 + 63)} = \sqrt{18 \cdot 144} = 12 \cdot 3\sqrt{2} \approx 36 \cdot 1.414 \approx 50,9.$$

**2 - m i s o l.** Bizga ma'lumki, kosinuslar teoremasini

$$c^2 = a^2 + b^2 - 2ab \cos \hat{C}$$

formula bilan ifodalaymiz: Agar  $C = 90^\circ$  bo'lsa,  $\cos 90^\circ = 0$ , u holda  $c^2 = a^2 + b^2$  - Pifagor teoremasi kelib chiqadi.

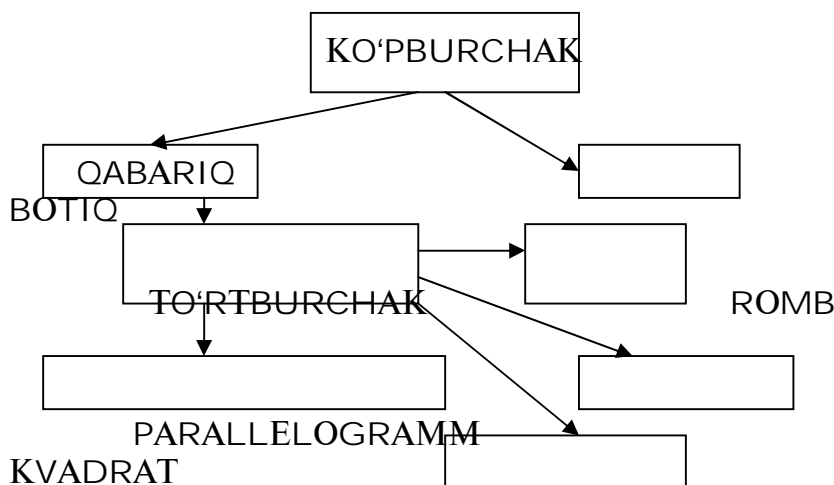
### 9-§. Klassifikatsiyalash metodi.

**Ta'rif.** *Jins tushunchalaridan tur tushunchalariga o'tish klassifikatsiyalash deyiladi.*

Klassifikatsiyalash jarayonida o'quvchilar (muhiy yoki o'xshash) belgiga asoslangan holda, ularni bir sinfga birlashtirishga harakat qiladilar, ya'ni ularni

o'xshash, umumiy va farqli tomonlarini qarab bir-biridan ajratadilar, buning natijasida ular tushunchalarni klassifikatsiya qiladilar.

Masalan, ko'pburchak tushunchasini klassifikatsiyalash quyidagicha amalga oshiriladi:



### 10-§. Evristik ta'lim metodi.

"Evristika" degan so'zning ma'nosi savol-javobga asosan topaman demakdir. Evristik metod bilan o'qitish maktabdarda asosan, XIX asr boshlaridan boshlab qo'llanila boshlandi.

Atoqli pedagog-matematik S.I.Shoxor-Trotskiy o'zining "Geometriya na zadachax" nomli kitobida bunday yozadi: "Geometrik mashg'ulotlar o'quvchilarga qiziqarli bo'lishi uchun, bu mashg'ulotlardagi har bir masala yoki topshiriq so'zma-so'z quruq yodlash uchun emas, balki ularning aqliy faoliyatlarini ishga soladigan xarakterda bo'lishi kerak. (Shoxor-Trotskiy S.I. "Geometriya na zadachax" M., 1908 y. 14-bet).

Amerikalik olim D.Poya o'zining "Kak reshat zadachu" nomli kitobida evristik ta'lim metodini bunday tushuntiradi: "Evristikaning maqsadi - yangiliklarga olib boruvchi metod va qoidalarni izlash demakdir". U evristik metod mohiyatini quyidagidek izchillikda tuzilgan reja orqali amalga oshirishni tavsiya qiladi:

1. Masalaning qo'yilishini tushunish.
2. Masalani yechish rejasini tuzish.

3. Tuzilgan rejasini amalga oshirish.
4. Orqaga nazar tashlash (hosil qilingan yechimni tekshirish).

Bu rejani amalga oshirish jarayonida o'quvchilar quyidagi savollarga javob topadilar:

1. Masalada nima noma'lum?
2. Masalada nimalar ma'lum?
3. Masalaning sharti nimalardan iborat?
4. Ilgari shunga o'xshash masala yechilganmi?
5. Agar shunga o'xshash masala yechilgan bo'lsa, undan foydalanib qo'yilayotgan masalani yecha olamizmi?

Albatta, yuqoridagi reja-sxema o'quvchilarning ijodiy fikrlash faoliyatlarini shakllantiradi, ammo bu reja - sxema o'quvchilarning ijodiy qobiliyatlarini shakllantiruvchi birdan-bir yo'l bo'la olmaydi.

Matematik-metodist V.V.Repev evristik metod orqali o'qitishni bunday ta'riflaydi: "Bu metodning mohiyati shundan iboratki, o'qituvchi tomonidan sinf o'quvchilari uchun o'tiladigan mavzu materialining mazmuni muammo kilib qo'yiladi, so'ngra maqsadga tomon yo'naltiruvchi savollar sistemasini o'quvchilarga berish orqali qo'yilgan muammoni hal qilinadi. (Репьев В. В. "Общая методика математики", М., 1958 у., 149-bet).

Endi yuqorida aytilgan fikrlarning dalili sifatida quyidagi tenglama va masalani evristik ta'lim metodi bilan yechib ko'rsatamiz.

1. Ushbu  $/x^2 - 3x - 9/ = -5$  - tenglama evristik metod bilan yechilsin.

Bu tenglamani evristik metod bilan yechishda o'qituvchi bilan o'quvchilar orasidagi suhbatni keltiramiz, bu ta'lim jarayonidagi evristik metod mohiyatini ochib beradi:

**O'qituvchi.**  $/x^2 - 3x - 9/ = -5$  tenglamani qanday yechiladi?

**O'quvchi.** Bu tenglamani yechish uchun uning  $x^2 - 3x - 9 = -5$  va  $-x^2 + 3x + 9 = -5$  tenglamalar ko'rinishida yozib olamiz.

**O'qituvchi:**  $x^2 - 3x - 9 = -5$  va  $-x^2 + 3x + 9 = -5$  tenglamalarni qanday qoidaga asoslanib yozdingiz?

Agar bizga  $|a|$  soni berilgan bo'lsa, u quyidagiga teng edi:

$$|a| = \begin{cases} a, & a > 0, \\ -a, & a < 0. \end{cases}$$

**O'qituvchi.** Xo'sh, u holda hosil qilingan tenglamalar qanday yechiladi?

**O'quvchi.**



$$x^2 - 3x - 9 = -5,$$

$$x^2 - 3x - 9 + 5 = 0,$$

$$x^2 - 3x - 4 = 0.$$

**O'qituvchi.**  $x^2 - 3x - 4 = 0$  tenglamani qaysi formuladan foydalanib yechamiz?

**O'quvchi.**  $x^2 - 3x - 4 = 0$  tenglama  $x^2 + px + q = 0$  ko'rinishga keladi, bu keltirilgan kvadrat tenglamadir.

**O'qituvchi.** Kim aytadi,  $x^2 + px + q = 0$  tenglamaning umumiy yechimi qanday bo'lar edi?

**O'quvchi.**  $x^2 + px + q = 0$  tenglamaning yechimi  $x_{1,2} = -\frac{p}{2} \pm \sqrt{\frac{p^2}{4} - q}$  bo'lar edi.

**O'qituvchi.**  $x^2 - 3x - 4 = 0$  tenglamani bu formulaga qanday qilib qo'yamiz?

**O'quvchi.**  $x^2 - 3x - 4 = 0$  tenglamada  $p = -3$  va  $q = -4$  ga teng, biz ularni umumiy yechimga qo'ysak, berilgan tenglamaning yechimini topgan bo'lamiz:

$$x_{1,2} = -\frac{3}{2} \pm \sqrt{\frac{9}{4} - 4} = \frac{3}{2} \pm \sqrt{\frac{25}{4}} = \frac{3}{2} \pm \frac{5}{2},$$

**O'qituvchi.**  $-x^2 + 3x + 9 = -5$  tenglama qanday yechiladi?

**O'quvchi.**  $-x^2 + 3x + 9 + 5 = 0$

**O'qituvchi.** Endi nima qilamiz?

**O'quvchi.** o'xshash hadlarini ixchamlaymiz:  $-x^2 + 3x + 14 = 0$

**O'qituvchi.** Noma'lum  $x$  oldidan manfiy ishorani musbat qilish uchun nima qilamiz?

**O'quvchi.** Tenglikni har ikkala tomonini  $(-1)$  ga ko'paytiramiz:

$$-x^2 + 3x + 14 = 0 \cdot (-1), \quad x^2 - 3x - 14 = 0.$$

Bu tenglama ham yuqoridagi kabi yechiladi:

$$x_{1,2} = \frac{3}{2} \pm \sqrt{\frac{9}{4} + 14} = \frac{3}{2} \pm \sqrt{\frac{65}{4}} = \frac{3}{2} \pm \frac{\sqrt{65}}{2};$$

$$x_1 = \frac{3 + \sqrt{65}}{2}; \quad x_2 = \frac{3 - \sqrt{65}}{2};$$

II. Endi quyidagi masalani evristik metod bilan yechamiz.

**Masala.** Oralaridagi masofa 60 km bo'lgan A nuqtadan B nuqtaga bir vaqtda ikki velosipedchi jo'nadi. Ular bir vaqtda B punktga kelishlari kerak edi. Birinchi velosipedchi esa har soatda 2 km kam yurgani uchun bir soat kech keldi. Har bir velosipedchi soatiga necha km yurgan?

**O'qituvchi.** Masalaning shartlari qanday? Unda nimalar berilgan? Masala shartida qanday kattaliklar qatnashayapti?

**O'quvchilar.** A va B punktlar orasidagi masofa 60 km ekani berilgan. Velosipedchilarning tezliklari orasidagi hamda ana shu masofalarini bosib o'tishlari uchun ketgan vaqtlar orasidagi farqlar berilgan. Bu masala shartida harakat, masofa va vaqt kabi kattaliklar berilgan.

**O'qituvchi.** Masalada nimani topish kerak?

**O'quvchilar.** Masalada har qaysi velosipedchining tezligini topish so'ralmoqda.

**O'qituvchi.** Biz tezliklarni topish uchun qanday formulalardan foydalanamiz?

**O'quvchilar.** Bizga fizika kursidan ma'lum bo'lgan  $S=v \cdot t$ ,  $v=\frac{S}{t}$

formulalardan foydalanamiz.

**O'qituvchi.** Masalani shartiga ko'ra nimani  $x$  bilan belgilaymiz?

**O'quvchilar.**  $x$  km/soatni A punktdan B punktga borayotgan velosipedchining tezligi deb olamiz.

**O'qituvchi.** Agar biz birinchi velosipedchini tezligini  $x$  desak, ikkinchi velosipedchini tezligini ana shu noma'lum orqali ifodalay olasizmi?

**O'quvchilar.** Ha,  $(x-2)$  km/soat ikkinchi velosipedchining tezligi bo'ladi.

**O'qituvchi.** A punktdan B punktga masofani birinchi ikkinchi velosipedchilar qancha vaqtda bosib o'tgan?

**O'quvchilar.**  $\frac{60}{x}$  - soatda, va  $\frac{60}{x-2}$  soatda.

**O'qituvchi.** Bu velosipedchilarning 60 km.li masofani o'tishlari uchun ketgan vaqtlarni qanday tenglash mumkin?

**O'quvchilar.**  $\frac{60}{x-2} - 1 = \frac{60}{x}$  tenglama orqali.

**O'qituvchi.** Bu tenglamani qanday yechamiz?

**O'quvchilar.** Tenglama yechishning umumiy qoidasiga ko'ra:

$$60x + 120 - 60x = x^2 - 2x,$$

$$x^2 - 2x - 120 = 0,$$

$$x_{1,2} = 1 \pm \sqrt{1+120} = 1 \pm 11.$$

$$x_1 = 12 \text{ km / soat},$$

$$x_2 = 10 \text{ km / soat}.$$

## 11-§. Matematika darslarida muammoli ta'lim.

Umumta'lim maktablari jamiyatning ijtimoiy-iqtisodiy va madaniy hayotdagi muhim o'zgarishlarga hamisha o'z munosabatini bildirib keldi. Jamiyat taraqqiyotining har bir davri uchun ta'lim nazariyasi rivojining ma'lum bir mazmuni mos keladi. Boshqacha qilib aytganda, jamiyat taraqqiyotining har bir bosqichiga mos ravishda o'qitish dasturlarining mazmuni, tarbiya prinsiplari, o'quv-tarbiya jarayonini tashkil qilishning forma va metodlari hamda ta'lim muddatlari mos keladi. Pedagogika kursidan ma'lumki, ta'lim metodini aniqlashtirish jarayoni o'quvchi bilan o'qituvchining o'zaro munosabatlari prinsipidan kelib chiqadi, bunda o'qituvchi o'quvchilarga bilimlarni bayon qilishi, ana shu bilimlarga erishishdagi o'quvchilarning shaxsiy faoliyatlarini uyushtirishi hamda tushuntiriladigan mavzu materialini o'qituvchining o'zi qanday bayon qilish nuqtai-nazaridan yondashiladi.

Og'zaki ko'rsatmalik ta'lim jarayonida o'quvchilar o'qituvchining tushuntirishi orqali bilimlarni ongli ravishda o'zlashtiradilar hamda ularni amalda qo'llash malakalari hosil bo'ladi.

Asta-sekin umumta'lim maktablarining mazmuni tubdan o'zgartirildi, ya'ni ta'limni maktabning maqsad va vazifalariga mos keladigan yangi, ancha takomillashgan izohli-illyustrativ metodi vujudga keltirildi. Izohli-illyustrativ ta'limda o'rganilayotgan ob'ekt mohiyati izohlanadi, hayotiy faktlar bilan bog'lanadi hamda o'qituvchining ana shu o'rganilayotgan ob'ektga nisbatan ko'rsatadigan misol va xilma-xil ko'rgazmali qurollari orqali tasdiqlovchi xulosasi bilan yakunlanadi.

Izohli-illyustrativ ta'limda o'qituvchi faktlarni o'zi bayon qilib beradi, o'zi ularni tahlil qiladi va yangi tushunchalarning mohiyatini tushuntiradi, ya'ni teorema, qoida va qonunlarni o'zi ta'riflaydi.

Izohli-illyustrativ ta'lim metodi umumta'limiy maktablarimizda qo'llanish darajasiga nisbatan an'anaga aylandi va hozirda ham qo'llanilmoqda. Hozirgi zamon ilmiy-texnika revolyusiyasi davrida izohli-illyustrativ ta'lim metodi o'quvchilarning fikrlash qobiliyatini yetarli darajada rivojlantira olmaydi, ularni o'rganilayotgan mavzu materialini puxta bilishlariga bo'lgan ehtiyojlarini qanoatlantira olmaydi hamda fanga bo'lgan qiziqishlarini yuqori darajada shakllantira olmaydi. Shuning uchun ham 1960 yilning boshlaridan boshlab,

maktablarimizda ta'lim jarayonini jadallashtirish g'oyasi keng tarqalib, ta'limning yangi metodi - *muammoli ta'lim metodi* vujudga kela boshladi.

Ta'lim metodlarining turini aniqlash o'quv jarayonini tashkil qilish prinsiplarini o'zigagina emas, balki aqliy faoliyat xarakteriga ham bog'liqdir, bu esa o'z navbatida fikrlashning reproduktiv va produktiv turlarini o'zaro qo'shib olib borish bilan belgilanadi. Izohli-illyustrativ ta'lim jarayonida barcha bilimlar, ko'nikmalar va malakalar o'zlashtirishning reproduktiv metodi asosida amalga oshiriladi, ya'ni o'quvchilar fanning tayyor natijalarini, tayyor faoliyat usullarini o'zlashtiradilar, bu esa ularda xotira va reproduktiv fikrlash malakalarini shakllantiradi. Faqatgina produktiv ijodiy fikrlash malakalari o'rganilgan nazariy mavzu materialiga bog'liq bo'lgan masala yoki misollarni yechish davomida egallanadi, xolos. Birok reproduktiv fikrlash natijasida to'plangan ma'lum hajmdagi bilim va malakalar o'quvchilarning mustaqil bilish va ijodiy qobiliyatlarini rivojlantirish uchun yetarli bo'lmaydi. Shuning uchun ham ta'limni jadallashtirish g'oyasini turli yo'nalishlari turli olimlar (M.A.Bankov, M.A.Danilov, M.Maxmutov, Yu.K.Babanskiy va boshqalar) tomonidan eksperiment qilinib ko'rildi va nazariy jihatidan isbotlandi.

O'tkazilgan eksperiment va kuzatishlar natijasida ta'lim jarayonida o'quvchilarning bilish faoliyatlarini jadallashtirish hamda ularning intellektual imkoniyatlaridan yuqori darajada foydalanish umumiy qonuniyatlari ishlab chiqildi. Bu qonuniyatlar quyidagilardan iborat:

1. O'rganilayotgan mavzu materiallari yuzasidan muammoli savollar sistemasini tuzish.
2. Tuzilgan muammoli savollar sistemasi asosida suhbat metodi orqali tushuntiriladigan mavzu materialini o'rgatish va uning tub mohiyatini ochib berish.
3. Muammoli savollar asosida izlanish xarakteridagi o'quv vazifalarini qo'yish.

Yuqoridagi bosqichlar asosida o'quv materiali tushuntirilganda o'quvchilar o'zlari darrov tushunib etmaydigan fakt va tushunchalarga duch keladilar, natijada o'rganilayotgan mavzu materiali bilan o'quvchilar orasida muammoli vaziyat hosil bo'ladi.

**Ta'rif.** *O'rganilayotgan ob'ekt (bilishga doir nazariy material yoki masala) bilan o'rganuvchi sub'ekt (o'quvchi) orasidagi o'zaro harakatlarning o'ziga xos bo'lgan turiga muammoli vaziyat deyiladi.*

Muammoli vaziyat - bu o'quvchilarni o'rganilayotgan mavzu materialidagi fakt va tushunchalarning qanday hosil bo'lishini bilmaslikdan ham ana shu mavzu materialining tub mohiyatini olib beruvchi matematik tushuncha, aksioma va teoremlarni o'rganilayotgan mavzu materialiga tadbiq qila olmaslik paytida vujudga keladigan intellektual qiynalishdir.

Muammoli vaziyatning roli va ahamiyatini aniqlash o'quvchilarning tez fikrlash faoliyatini psixologik, pedagogik qonuniyatlarini hisobga olish asosida o'quv jarayonini qayta qurish muammoli ta'limning asosiy g'oyasini belgilab beradi. Muammoli ta'limda bilimning deyarli katta qismi o'quvchilarga tayyor holda berilmaydi, balki o'quvchilar tomonidan muammoli vaziyatlarni mustaqil xal qila bilish faoliyati jarayonida egallab olinadi.

**Ta'rif.** *Muammoli vaziyatlarni hal qilish asosida hosil kilingan dars jarayoni muammoli ta'lim deyiladi.*

Yuqoridagi mulohazalardan muammoli ta'lim nazariyasi o'quvchi intellektual imkoniyatlarini ochib beruvchi rivojlantiruvchi xarakterdagi ta'lim tashkil qilishning psixologik, pedagogik yo'llari va usullarini tushuntiradigan ta'lim jarayoni ekanligi ko'rinadi.

Muammoli ta'limda o'qituvchi faoliyati shundan iboratki, u zarur hollarda eng murakkab tushunchalar mazmunini tushuntira borib o'rganilayotgan mavzu materialini bilan o'quvchilar orasida muntazam ravishda muammoli vaziyatlar vujudga keltiradi, o'quvchilarni faktlardan xabardor qiladi, natijada o'quvchilar bu faktlarni analiz qilish asosida mustaqil ravishda xulosa chiqaradilar va umumlashtiradilar, tushuncha, qoida va teoremlarni o'qituvchi yordamida aniqlab ifoda qilinishi yoki ma'lum bilimlarni yangi vaziyatlarda qo'llanishini o'rganadilar, natijada o'quvchilarda aqliy operatsiya va bilimlarni amaliyotda qo'llanish malakalari shakllanadi.

Maktab matematika kursida o'rganiladigan nazariy mavzu materiallari masala va misollarni ularning mazmuniga ko'ra muammoli va muammoli bo'lmagan turlarga ajratish mumkin.

Agar o'rganilayotgan mavzu materialidagi masala va misollarni yechish jarayoni o'quvchilar uchun yangi matematik tushuncha, fakt va qoidalarni o'z ichiga olgan bo'lib, avvalgi usul bilan yechish mumkin bo'lmaydigan, yechishning yangi usullari talab etilsa, u holda bunday masala yoki misol mazmunan muammolidir, aksincha, shunday masala yoki misollar o'qituvchi tomonidan o'quvchilarga yechish uchun berilishi mumkinki, bunday masala va misollar

o'quvchilar uchun muammoli bo'lmay qoladi, chunki ular masala va misol yechilishining yangi usullarini mustaqil izlanmasdan, o'qituvchining tushuntirishiga qarab o'zlashtirib oladilar, berilgan masala yoki misol faqatgina koeffitsientlari bilan avvalgilaridan farq qiladigan darajada bo'ladi.

**1-misol.** Masalan, boshlang'ich sinf o'quvchilariga quyidagi misollarni berish mumkin:

$$6 + 2 \times 3 = 24$$

$$6 + 2 \times 3 = 12$$

Mazmuniga ko'ra bu masala muammoli bo'ladi, chunki bir xil toifadagi ikkita misol har xil natijaga ega bo'lyapti. Bas, shunday ekan, misollarni yechish usullari ham har xil bo'lishi kerak. O'quvchilarga esa faqatgina bitta ketma-ket hisoblash usuli ma'lum, xolos. Ikkinchi usuli esa ular uchun noma'lumdir. Mana shu yerda muammoli vaziyat hosil bo'ladi. Yuqoridagi qo'yilgan misollarning ikkinchi sinfdagi yuqori o'zlashtiruvchi o'quvchilar tomonidan yechilishi mumkin. Agar o'qituvchi dastlab o'quvchilarga bir xil miqdorlardan tuzilgan misollarni turlicha usullar bilan yechish namunalarini ko'rsatgan bo'lsa edi, ular bu misollarni namunadan foydalanib yecha oladilar, natijada bu misollarni yechish jarayoni hech qanday muammoli vaziyatni hosil qilmaydi.

**2 - m i s o l.** Agar o'qituvchi  $ax^2+bx+c=0$  to'la kvadrat tenglamaning umumiy  $x_{1,2} = \frac{-b \pm \sqrt{b^2 - 4ac}}{2a}$  yechimini topib, unga doir  $5x^2+7x+2=0$  misolni ko'rsatgandan so'ng, o'quvchilarga  $6x^2+5x+1=0$  tenglamani yechinglar desa, bu holat o'quvchilar uchun muammoli vaziyatni hosil qilmaydi, chunki ular uchun bu misolni yechishga andaza bor. O'quvchilar bu misolni yechish jarayonida hech qanday yangi matematik qonun yoki qoidani ishlatmasdan avvalgi misoldagi koeffitsientlar o'rniga yangilarini qo'yadilar, xolos, bunda o'quvchilarning fikrlash qobiliyatlari shakllanmaydi.

**3 - m i s o l.** O'qituvchi kvadrat tenglama mavzusini o'tib bo'lganidan keyin bikvadrat tenglamani o'tish jarayonida quyidagicha muammoli vaziyatlarni hosil qilishi mumkin.

**O'qituvchi:**  $6x^4+5x^2+1=0$  tenglamani qanday tenglama deb aytamiz?

**O'quvchilar:** 4 - darajali tenglama deyiladi.

**O'qituvchi:** to'g'ri, shunday deyish ham mumkin, ammo matematikada shu ko'rinishdagi tenglamalarni *bikvadrat tenglama* deyiladi va uning umumiy

kurinishi  $ax^4+bx^2+c=0$  kabi bo'ladi. Xo'sh, bu ko'rinishdagi tenglamani qanday yechish mumkin?

**O'quvchilar:** Biz bunday tenglamalarni yechmaganmiz.

Mana shu yerda o'rganilayotgan mavzu materialini bilan o'quvchilar orasida bilishga doir muammoli vaziyat hosil bo'ladi.

**O'qituvchi:**  $x^2=y$  deb belgilasak,  $x^4$  ni qanday belgilaymiz?

**O'quvchilar:** mulohaza yuritish, ilgari o'tilganlari eslash orqali  $x^4=y^2$  deb belgilash to'g'ri ekanligiga ishonch hosil qiladilar.

**O'qituvchi:** Bu tenglamani hozirgi belgilashlarga ko'ra qanday ko'rinishda yozish mumkin?

**O'quvchilar:**  $6y^2 - 5y + 1 = 0$ .

**O'qituvchi:** bu hosil qilingan tenglamani qanday tenglama deyiladi?

**O'quvchilar:** to'la kvadrat tenglama deyiladi.

**O'qituvchi:** bu tenglamani qanday yechamiz?

**O'quvchilar:** to'la kvadrat tenglama umumiy yechimini topish formulasiga qo'yib topamiz:

$$y_{1,2} = \frac{5 \pm \sqrt{25 - 24}}{2 \cdot 6} = \frac{5 \pm 1}{12}; \quad y_1 = \frac{1}{2}; \quad y_2 = \frac{1}{3};$$

**O'qituvchi:** biz hozir tenglamani yechib, qaysi noma'lumni topdik?

**O'quvchilar:** noma'lum  $y$  ni topdik.

**O'qituvchi:** nimani topish so'ralgan edi?

**O'quvchilar:**  $x$  ni topish so'ralgan edi.

**O'qituvchi:**  $x$  ni qanday topamiz?

Mana shu yerdagi noma'lum  $x$  ni topish jarayoni ham ko'pchilik o'quvchilar uchun muammoli vaziyatni hosil qiladi.

O'quvchilar noma'lum  $x$  ni o'zlari topishlari mumkin, bo'shroq o'quvchilarga o'qituvchi yordamlashadi:

$$\begin{aligned} x^2 &= \frac{1}{2}; & x_{1,2} &= \pm \sqrt{\frac{1}{2}}; \\ x^2 &= \frac{1}{3}; & x_{1,2} &= \pm \sqrt{\frac{1}{3}}; \end{aligned}$$

Demak, tenglama 4-darajali bo'lgani uchun biz 4 ta yechimini topdik. Bu misolni yechib bo'linganidan keyin  $ax^4+bx^2+c=0$  bikvadrat tenglamaning umumiy yechimini o'qituvchi rahbarligida o'quvchilarning o'zlari topa oladilar:

$$x^2 = y,$$

$$ay^2 + by + c = 0,$$

$$y_{1,2} = \frac{-b \pm \sqrt{b^2 - 4ac}}{2a}, \quad x_{1,2} = \pm \sqrt{\frac{-b \pm \sqrt{b^2 - 4ac}}{2a}},$$

$$y_1 = \frac{-b + \sqrt{b^2 - 4ac}}{2a},$$

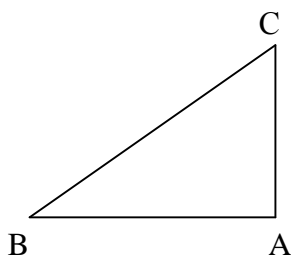
$$x_{3,4} = \pm \sqrt{\frac{-b - \sqrt{b^2 - 4ac}}{2a}},$$

$$y_2 = \frac{-b - \sqrt{b^2 - 4ac}}{2a},$$

Shunday qilib, muammoli savol, muammoli masala - o'quv muammosining turli shaklda ifodalanishi bo'lib, bularning qo'llanishi muammoli vaziyat va o'quvchilarning izlanish faoliyatining yuzaga kelishiga olib keladi.

**3 - m i s o l.** Kosinuslar teoremasini o'rganish uchun o'qituvchi oldin o'quvchilar bilan birgalikda to'g'ri burchakli uchburchakning elementlaridan birortasini topishga doir bo'lgan masalalardan yechadi.

**1 - masala.**  $ABC$  to'g'ri burchakli uchburchakda  $\angle A = 90^\circ$ ,  $|BC| = 15$  sm va  $|AB| = 9$  sm bo'lsa,  $|AC|$  - tomonining uzunligi topilsin (10-chizma).



10-chizma.

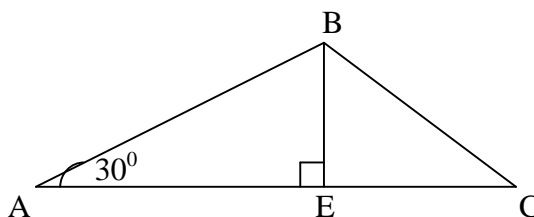
Berilgan:  $DABC$ ,  $\angle A = 90^\circ$ ,  $|BC| = 15$  sm va  $|AB| = 9$  sm.

Topish kerak:  $|AC|$  - ?

Yechish. Pifagor teoremasiga ko'ra:  $|BC|^2 = |AB|^2 + |AC|^2$

$$\Rightarrow |AC| = \pm \sqrt{|BC|^2 - |AB|^2} \quad \text{P} \quad |AC| = \sqrt{225 - 81} = \sqrt{144} = 12 \quad |AC| = 12 \text{ sm.}$$

**2-masala.**  $DABC$  da  $\angle A = 30^\circ$ ,  $\angle B = 90^\circ$ ,  $|AB| = 2$  sm,  $|AC| = \frac{4}{3}\sqrt{3}$  sm bo'lsa,  $|BC|$  - ning uzunligini toping (11-chizma).



11-chizma.



Berilgan:  $DABC$  da  $\angle A=30^\circ$ ,  $\angle B=90^\circ$ ,  $|AB|=2$  sm,  $|AC|=\frac{4}{3}\sqrt{3}$  sm

Topish kerak:  $BC$  - ?

**Ye ch i sh.** Chizmadan:

$$\Delta ABE \sim \Delta BEC, \quad \frac{AB}{AE} = \frac{BC}{BE}, \quad BE = \frac{AB}{2} = 1 \text{ sm},$$
$$\frac{2}{\sqrt{3}} = \frac{BC}{1}, \quad |BC| = \frac{2}{\sqrt{3}} \text{ sm}.$$

Yechilgan bu masalalar muhokama qilingandan keyin o'quvchilar oldiga quyidagicha muammoli savol qo'yish mumkin. Agar ixtiyoriy uchburchakning ikki tomoni va ular orasidagi burchagi berilgan bo'lsa, uning uchinchi tomonini topish mumkinmi? Bu muammoli savolga javob topish bizni kosinuslar teoremasini o'rganishga olib keladi.

## 12-§. Matematika darslarida dasturlashtirilgan ta'lim.

Dasturlashtirilgan ta'lim jarayonida o'quvchilar o'qituvchi tomonidan maxsus tayyorlangan didaktik vositalar yordami bilan mustaqil ravishda yangi bilimlarni o'zlashtiradilar. O'quv materialini dasturlashtirish maktab matematika kursida chiziqli va tarmoqli bo'lib, ular ta'lim jarayonida mashinali va mashinasiz amalga oshiriladi.

Dasturlashtirilgan ta'lim metodi o'quvchilarning qisman esga tushirish va qisman yangi bilimlarni o'zlashtirish faoliyatlarini amalga oshiruvchi sistemadan iboratdir. Mashinasiz dasturlashtirilgan topshiriqlarni qo'llash quyidagicha amalga oshiriladi. O'qituvchi tomonidan beriladigan har bir topshiriq bo'lak-bo'lak bo'lgan kadr elementlaridan iborat bo'lib, har bitta kadr element o'rganiladigan mavzu materialining bir qismini hosil qilib, u savollar va javoblar yoki yangi bilimlar bayoni hamda mashqlar tarzida ifodalanadi. Mavzu materialiga doir kadrlar tuzishda eng keng tarqalgan yo'l javoblar tanlab olinadigan usuldir:

a) berilgan savolga tayyor javob olinadigan qoida va xulosa tarzidagi axborotlardan iborat kadrlar;

b) javoblarning to'g'riligini nazorat qilish uchun zarur bo'lgan kadrlar.

**1 - m i s o l.** Logarifmik funksiya:

$$y = \log_a x, \quad a \neq 1, \quad x > 0, \quad a > 0$$

funksiya logarifmik funksiya deyiladi

**Misol.**

$$y = \log_3 x; y = \log_2 2x; y = \log_{112} x; \dots$$

Logarifmik funksiyaning aniqlanish sohasi –  $R_+$

**Misollar:**

1.  $y = \log_3 \sqrt{5x}$  logarifmik funksiya bo`la oladimi?

2.  $y = \log_5 x; y = \log_5(-3x); y = \log_4 \frac{x}{7}; \dots$

J: Ha.

J:  $y = \log_5 x; y = \log_4 \frac{x}{7}$ .

3. Logarifmik funksiyaning aniqlanish sohasi qanday?

J:  $R_+$ .

Mashinali dasturlashtirilgan ta`lim topshiriqlari elektron hisoblash mashinalarida amalga oshiriladi. Qo`yilgan matematik masalalar elektron hisoblash mashinalari yordamida quyidagi bosqichlar orqali yechiladi.

1. Masalaning quyilishi - bu ishni matematik amalga oshiradi.

2. Quyilgan masala yechimini dasturlashtirish - bu ishni maxsus tayyorgarlikda o`tgan dasturchi bajaradi.

3. Tuzilgan dasturni berilgan ma`lumotlarga ko`ra kartalashtirish.

Bu yerda qo`yilgan matematik masala yoki misolni yechish uchun dastur tuzish juda ko`p mehnat talab etadi. Dastur tuzuvchi berilgan masalani arifmetik amallar tartibidagi elementar masalalarning yig`indisi ko`rinishiga keltirib oladi, so`ngra unga nisbatan dastur tuzadi. Faraz qilaylik, bizni elektron hisoblash mashinamiz quyidagi kodlardan iborat bo`lgan komandani tushunadigan bo`lsin.

№	Komanda	Operatsiyalar kodi	Belgilanishi
1	Qo`shish	01	$a + b = R$
2	ayirish	02	$a - b = R$
3	ko`paytirish	03	$a \times b = R$
4	bo`lish	04	$a : b = R$
5	to`xtatish	017	To`xta

$y = \frac{ax-b}{cx+d}$  funksiya uchun dastur tuzilsin. Bu kasr chiziqli funksiya uchun quyidagicha dastur tuzish mumkin:

$$\left. \begin{array}{l} a \cdot b \Rightarrow R \\ R - b \Rightarrow surat \\ c \cdot x \Rightarrow R \\ R + d \Rightarrow \max raj \\ surat : \max raj = y \\ to'xtash \end{array} \right\}$$

Elektron hisoblash mashinasida chiziqli funksiyada qatnashayotgan barcha koeffitsientlar orasidagi arifmetik amallar uchun quyidagi yacheyka va adreslar ajratilgan bo'lsin:

$a - 1001$        $x - 1005$        $y - 2000$   
 $b - 1002$       - 0512  
 $c - 1003$       - 0513  
 $d - 1004$       - 0514

Komanda	Yacheyka	Kod	Adres	Adres	Adres
$a \cdot x \Rightarrow R$	0060	03	1001	1005	0512
$R - b \Rightarrow surat$	0061	02	0512	1002	0513
$c \cdot x \Rightarrow R$	0062	03	1003	1005	0512

$R + d \Rightarrow \maxraj$	0063	01	0512	1004	0514
$surat : \maxraj \Rightarrow y$	0064	04	0513	0514	2000
$to'xtash$	0065	17	0000	0000	0000

Yuqoridagilardan ko'rinadiki, har bir elektron hisoblash mashinasi uchun alohida ishchi dasturlari tuzish kerak bo'ladi, bundan tashqari har bir mashinaning tili har xil bo'ladi. Ana shularni hisobga olib mashinalar uchun *algoritmik til* ishlab chiqiladi, bunda asosan qo'yilgan masala uchun algoritmik tilda dastur tuziladi, bu tuzilgan dastur mashinaga qo'yilganda u algoritmik tilni o'z tiliga o'tkazib masala yechimini hal qiladi. "Algol-60" elektron hisoblash mashinasida keltirilgan kvadrat tenglamani yechish uchun tuzilgan algoritmik til dasturini ko'rib chiqaylik.

Dasturlashtirilgan ta'limda o'rgatuvchi qurilmalar keng qo'llanilishi tufayli bu ta'lim metodi istiqbolga ega, ammo barcha o'quv materiallarini dasturlashtirilgan xarakterda o'tish maqsadga muvofiq emas. Dasturlashtirilgan

ta'limda o'quvchilar bilan o'qituvchi orasida deyarli og'zaki aloqa bo'lmaydi. O'quvchilarning matematik nutqi umuman rivojlanmaydi, shuning uchun ham mavzu materiallarini har xil metodlar yordamida o'quvchilarga o'rgatish maqsadga muvofiqdir.

№	Algoritmik tilda yozilishi	Analitik yozuv usuli
1	Haqiqiyalar $p, q, x_1, x_2, D$	$P, q, x_1, x_2, D$
2	Ishga tushirish $(p, q)$	$P, q$
3	$D: p - 2 - 4 \times q$	$D = p^2 - 4q$
4	Agar $D \neq 0$ bo'lsa, $M_1$ ga o'tish kerak, aks holda $x_1 = x_2 = (-p)/2$	Agar $D \neq 0$ bo'lsa, $x_1 = x_2 = -p/2$ bo'lmaydi.
5	$M_1$ : agar $D < 0$ bo'lsa, u holda $M_2$ ga o'tish kerak. $x_1 = (-p + D - 0,5)/2$ $x_2 = (-p - D - 0,5)/2$	Agar $D < 0$ bo'lsa, $x_1$ va $x_2$ echimlar haqiqiy sonlarda mavjud emas, u holda $D > 0$ holini qaraymiz, bunda $x_1 = (-p + \sqrt{D})/2$ va $x_2 = (-p - \sqrt{D})/2$ bo'ladi.
6	Chiqish: Xulosa $(x_1; x_2)$	$x_1$ va $x_2$ echimlar topildi.

### III-BOBNI TAKRORLASH UCHUN SAVOLLAR.

1. Matematik ta'lim metodlari qanday metodlarni o'z ichiga oladi?
2. Ilmiy izlanish metodlarining turlarini aytib bering.
3. Tajriba va kuzatish metodini tushuntiring.
4. Taqqoslash metodini aytib bering.
5. Analiz va sintez metodlarini ta'riflang.
6. Umumlashtirish metodini ta'riflang va uni matematika darslariga tadbqiqini tushuntirib bering.
7. Tushunchani umumlashtirish deb nimaga aytiladi?
8. Teoremlarni umumlashtirishni tushuntirib bering.
9. Misol va masalalarni umumlashtirish qanday amalga oshiriladi?
10. Abstraksiyalash metodini tushuntirib bering.
11. Aniqlashtirish metodi deganda nimani tushunasiz?
12. Klassifikatsiyalash metodini aytib bering.
13. Qanday ta'lim metodiga evristik ta'lim deyiladi?
14. Muammoli vaziyat deb nimaga aytiladi?
15. Muammoli ta'lim deganda nimani tushunasiz?

16. Dasturlashtirilgan ta'limni tushuntirib bering.
17. Sonlar ketma-ketligi deb qanday to'plamga aytiladi?
18. Qanday sonlar ketma-ketligi arifmetik progressiya deyiladi?

### **III-BOB UCHUN TAYANCH IBORALAR**

Ta'lim metodi, ilmiy-izlanish metodi, tajriba metodi, kuzatish metodi, taqqoslash metodi, analiz metodi, sintez metodi, umumlashtirish metodi, tushunchani umumlashtirish, teoremani umumlashtirish, misollarni umumlashtirish masalalarni umumlashtirish, abstraksiyalash metodi, klassifikatsiyalash metodi, evristik ta'lim, muammoli ta'lim, dasturlashtirilgan ta'lim, sonlar ketma-ketligi, arifmetik progressiya, o'qituvchining faoliyati, o'quvchilarning faoliyati.

**IV BOB.**  
**O‘QUVCHILARNING MATEMATIK TAFAKKURLARNI**  
**SHAKLLANTIRISH METODIKASI.**

---

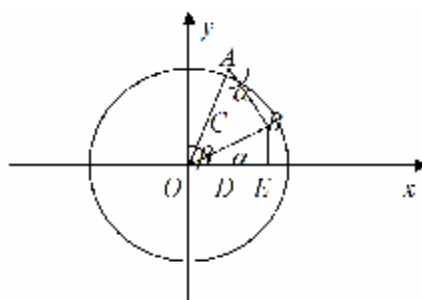
**1-§. Matematik ta’lim jarayonida masalaning roli va o‘rni.**

Matematik ta’lim jarayonida masalalardan foydalanish qadim zamonlardan beri qo‘llanib kelinayotir. Shuning uchun ham matematika darslarida matematik masalaning roli va uning o‘rni haqida gap borganda quyidagi uch bosqichni ko‘zda tutish maqsadga muvofiqdir.

1. Matematika fanining nazariy qismlarini o‘rganish matematik masalalarni yechish maqsadida amalga oshiriladi.
2. Matematika fanini o‘rgatish matematik masalalarni yechish bilan birgalikda olib boriladi.
3. Matematikani o‘rganish masala yoki misollar yechish orqali amalga oshiriladi.

Aytilganlardan ko‘rinadiki, jamiyat rivojlanishining har bir bosqichida masalaning roli va uning o‘rniga har xil baho berib kelingan.

1966 yili xalqaro matematiklar simpoziumida matematik masala va misollarni yechish o‘quvchilarning faqatgina matematik faoliyatlarini shakllantiribgina qolmay, balki ana shu fanga doir bilimlarni o‘zlashtirish va uni amaliyotga tadbiiq qilishga ham xizmat qiladi, deyiladi.



12-chizma.

Aytilgan har bir bosqichni aniq mavzu materiallari asosida ko‘rib chiqamiz.

1. Darsda *"Ikki burchak yig‘indisining sinusi"* nomli mavzuni o‘quvchilarga tushuntirsak, ular chiqarilgan natijaviy formuladan foydalanib mavzu materialiga doir misollarni yecha oladilar (12-chizma).

Berilgan:  $C$  – aylana,  $[AB] \perp OB$ ,  $OA=R=1$ ,  
 $\angle EOB=a$ ,  $\angle BOA=b$ ,  $\angle DOA=a+b$

Isbot qilish kerak:  $\sin(a+b) ?$  (12-chizma)

Isboti:  $\triangle OAD \Rightarrow \left( \frac{AD}{OA} = \sin(a+b) \right)$

$OA = 1$  bo‘lgani uchun  $\sin(a+b) = AD = CD + CA$  (1)

Chizmadan:  $CD = EB$ , chunki bular o'zaro paralell to'g'ri chiziqlar orasidagi kesmalar

$$\triangle OBE \Rightarrow \left( \frac{EB}{OB} = \sin a \right) \Rightarrow (EB = OB \sin a) \quad (2)$$

$$\triangle OAB \Rightarrow \left( \frac{OB}{OA} = \cos a \right) \Rightarrow (OB = OA \cos a) \Rightarrow (OB = \cos a) \quad (3)$$

$$(3) \text{ ni } (2) \text{ ga qo'ysak } EB = \sin a \cdot \cos a. \quad (4)$$

$$\triangle ACB \Rightarrow \left( \frac{AC}{AB} = \cos a \right) \Rightarrow (AC = AB \cos a). \quad (5)$$

$$\triangle OAB \Rightarrow \left( \frac{AB}{OA} = \sin b \right) \Rightarrow (AB = OB \sin b). \quad (6)$$

(6) ni (5) ga qo'ysak:

$$AC = \cos a \cdot \sin b. \quad (7)$$

(4) va (7) larni (1) ga qo'ysak,

$$\sin(a + b) = \sin a \cdot \cos b + \sin a \cdot \cos b \text{ bo'ladi.}$$

**Misol:**

$$\begin{aligned} \sin 75^\circ &= \sin(30^\circ + 45^\circ) = \sin 30^\circ \cdot \cos 45^\circ + \cos 30^\circ \cdot \sin 45^\circ = \\ &= \frac{1}{2} \cdot \frac{\sqrt{2}}{2} + \frac{\sqrt{3}}{2} \cdot \frac{\sqrt{2}}{2} = \frac{\sqrt{2}(1 + \sqrt{3})}{4}. \end{aligned}$$

$$\text{Demak, } \sin 75^\circ = \frac{\sqrt{2}(1 + \sqrt{3})}{4}.$$

Hisoblang:  $\sin 135^\circ = ?$   $\cos 150^\circ = ?$ ...

2. Matematik tushunchalarni o'rganish matematik misol va masalalarni yechish bilan birgalikda olib boriladi, chunki o'qituvchi yangi o'rganiladigan matematik tushunchaning ta'rifini bergandan keyin uning analitik ifodasini yozadi. Masalan  $a^x = b$ ,  $a \neq 1$  ko'rinishdagi tenglamaga ko'rsatkichli tenglama deyiladi deb ta'riflangandan so'ng, quyidagi ko'rinishdagi ko'rsatkichli tenglamani ifodalovchi misollarni ko'rsatish mumkin:  $3^x = 27$ ;  $2^x = 16$ ;  $5^x = 125$ ; ...

O'qituvchi  $a^x = b$  ko'rinishdagi tenglamaning yechimini geometrik nuqtai-nazardan ko'rsatib berishi maqsadga muvofiqdir. O'qituvchi o'quvchilarga, agar koordinatalar tekisligida ikki funksiya grafigi o'zaro kesishsa, ular kesishish nuqtasining absiscasi ana shu funksiylarni tenglash natijasida hosil qilingan tenglamaning yechimi bo'lishini takrorlagandan so'ng  $a^x = b$  tenglamani ham  $y = a^x$  ba  $y = b$  ko'rinishlarda yozib, ularning har birining grafigini chizib, bu grafiklarning kesishish nuqtasining absissasini  $x = \log_a b$  deb belgilash qabul qilinganligini tushuntirishi lozim. Bundan ko'rinadiki,  $a^x = b$  tenglamaning yechimi  $x = \log_a b$  bo'lar ekan.  $(3^x = 27) \rightarrow x = \log_3 27 = \log_3 3^3 = 3 \log_3 3 = 3$ .

Ko'rsatkichli tenglamalarning barchasi ayniy algebraik almashtirishlar yordamida soddalashtirilib,  $a^x=b$  ko'rinishga keltiriladi, so'ngra bundan,  $x$  noma'lum  $x=\log_a b$  ko'rinishda topiladi.

**1-misol.**

$$5^{x-1} + 5^{x-2} + 5^{x-3} = 155,$$

$$5^x \left( \frac{1}{5} + \frac{1}{25} + \frac{1}{125} \right) = 155,$$

$$5^x \left( \frac{25 + 5 + 1}{125} \right) = 155,$$

$$5^x \cdot 31 = 155 \cdot 125.$$

$$5^x \cdot 31 = 31 \cdot 5 \cdot 5^3,$$

$$5^x = 5^4,$$

$$x = 4.$$

**2-misol.**

$$4^{\sqrt{x-2}} + 16 = 10 \cdot 2^{\sqrt{x-2}}.$$

$$\left( 2^{\sqrt{x-2}} \right)^2 + 16 - 10 \cdot 2^{\sqrt{x-2}} = 0.$$

$$2^{\sqrt{x-2}} = y \text{ desak,}$$

$$y^2 - 10y + 16 = 0.$$

$$y_{1,2} = -5 \pm \sqrt{25 - 16} = 5 \pm 3$$

$$y_1 = 8; y_2 = 2.$$

$$1) \quad 2^{\sqrt{x-2}} = 8$$

$$2^{\sqrt{x-2}} = 2^3$$

$$\sqrt{x-2} = 3$$

$$x-2 = 3^2$$

$$x_1 = 11.$$

$$2) \quad 2^{\sqrt{x-2}} = 2$$

$$\sqrt{x-2} = 1$$

$$x-2 = 1$$

$$x_2 = 3.$$

**Misollar**

$$1) \quad 2^x \cdot 5^x = 0,1(10^{x-1})^5.$$

$$2) \quad 3^{x^2-x-2} = 81.$$

$$3) \quad \left( \frac{1}{5} \right)^{x^2+2x-5} = 25.$$

$$4) \quad \left( \frac{1}{5} \right)^{x-1} - \left( \frac{1}{5} \right)^{x+1} = 4,8.$$

3. Hozirgi davrda masala yoki misollar yechish orqali matematik ta'lim jarayonini olib borishning metodik usul va vositalari ishlab chiqilgan va bu usullar haqida ko'pgina ilmiy metodik va didaktik adabiyotlarda bayon qilingan.



Matematik tushunchani masala yoki misollar yordamida kiritish va uning tub mohiyatini o'quvchilarga tushuntirish murakkab bo'lgan pedagogik jarayondir. Shuning uchun ham bir maktab o'qituvchisi dars jarayonida ishlatiladigan masalani tanlash yoki uni tuzishda juda ham ehtiyot bo'lmog'i lozimdir. Tuzilgan masalalarni dars jarayonida qo'llanish ana shu o'quvchilarning o'zlashtirish qobiliyatlarini hisobga olgan holda bo'lishi kerak. Har bir dars jarayonida ishlatiladigan masala yoki misol darsning maqsadiga mos kelishi kerak.

Agar darsda o'qituvchi o'quvchilarga biror yangi matematik tushunchani o'rgatmoqchi bo'lsa, tuziladigan masala yoki misol ana shu tushuncha mohiyatini ochib beruvchi xarakterda bo'lishi kerak.

Masalan  $y=a^x$ ,  $a \neq 1$  ko'rsatkichli funksiyaning grafigi nomli mavzuni o'tishdan oldin o'qituvchi  $y=2^x$ ,  $y=\left(\frac{1}{2}\right)^x$ ,  $y=3^x$  kabi xususiy holdagi ko'rsatkichli funksiyalarga doir bo'lgan misollarning grafiklarini Dekart koordinatalar sistemasida o'quvchilar bilan savol-javob asosida chizib ko'rsatish maqsadga muvofiqdir.

$a$  ning xususiy qiymatiga nisbatan chizilgan grafiklardan o'quvchilar o'qituvchi bilan birgalikda  $y=a^x$  ko'rinishdagi funksiyaning grafigi va uning xossalari haqida umumiy xulosalarni keltirib chiqara oladilar. Bu erda darsni tushuntirish metodikasi xususiylikdan umumiylikka tomon bo'lib, bunda o'quvchilar har bir tushunchani mohiyatini anglab etadilar.

## **2-§. Matematika o'qitishda masalalarning bajaradigan funksiyalari.**

Hozirgi zamon didaktikasida A.D.Semushin, K.I.Neshkov va Yu.M.Kolyagin, J.Ikromov, T.To'laganov va N.G'aybullaev kabi metodist matematiklar matematika kursidagi masala va misollarning bajaradigan funksiyasini quyidagicha turlarga ajratishadi:

1. Masalaning ta'limiy funksiyasi.
2. Masalaning tarbiyaviy funksiyasi.
3. Masalaning rivojlantiruvchi xarakterdagi funksiyasi.
4. Masalaning tekshiruv xarakterdagi funksiyasi.

Masalaning matematika darsi jarayonida bajaradigan funksiyalarini alohida-alohida ko‘rib chiqamiz.

1. Masalaning ta’limiy funksiyasi asosan maktab matematika kursida o‘rganilgan nazariy ma’lumot, matematik tushuncha, aksioma, teorema va matematik xulosalar, qonun-qoidalarning aniq masala yoki misollarga tadbqiqi natijasida o‘quvchilarda mustahkam matematik bilim va malakalar hosil qilish orqali amalga oshiriladi.

O‘qituvchi ikki burchak yig‘indisi va ayirmasining sinusi teoremasini o‘tib bo‘lganidan keyin, ana shu mavzu materialini o‘quvchilar ongida mustahkamlash uchun quyidagicha misollarni yechish mumkin.

**1 - m i s o l.** Ayniyatni isbotlang:

$$\sin\left(a + \frac{p}{6}\right) + \sin\left(a - \frac{p}{6}\right) = \sqrt{3} \sin a.$$

Bu erda o‘qituvchi o‘quvchilarga ayniyat tushunchasining mohiyatini takrorlab berishi lozim.

$$\begin{aligned} \sin\left(a + \frac{p}{6}\right) + \sin\left(a - \frac{p}{6}\right) &= \sin a \cdot \cos \frac{p}{6} + \cos a \cdot \sin \frac{p}{6} + \\ &+ \sin a \cdot \cos \frac{p}{6} - \cos a \cdot \sin \frac{p}{6} = 2 \sin a \cdot \cos \frac{p}{6} = \\ &= 2 \sin a \cdot \frac{\sqrt{3}}{2} = \sqrt{3} \sin a. \end{aligned}$$

**2 - m i s o l.** Ayniyatni isbotlang:

$$\begin{aligned} \frac{\sin(a+b)}{\cos a \cdot \cos b} &= \operatorname{tga} + \operatorname{tgb}. \\ \frac{\sin(a+b)}{\cos a \cdot \cos b} &= \frac{\sin \delta \cos \epsilon + \cos \delta \sin \epsilon}{\cos \delta \cdot \cos \epsilon} = \\ &= \frac{\frac{\sin a \cdot \cos b}{\cos a \cdot \cos b} + \frac{\cos a \cdot \sin b}{\cos a \cdot \cos b}}{\frac{\cos a \cdot \cos b}{\cos a \cdot \cos b}} = \frac{\operatorname{tga} + \operatorname{tgb}}{1} = \operatorname{tga} + \operatorname{tgb}. \end{aligned}$$

Maktab matematika kursidagi masala yoki misollarni yechish o‘quvchilarda matematik malaka va ko‘nikmalarni shakllantiribgina qolmay, balki olingan nazariy bilimlarni amaliyotga tadbqiqi qila olishini ham ko‘rsatadi. Agar o‘qituvchi kvadrat tenglama mavzusini o‘tib uni, mustahkamlash jarayonida kvadrat tenglamaga keltiriladigan masalalarni yechib ko‘rsatsa, o‘quvchilarni ana shu mavzu materialiyuzasidan bilimlari mustahkamlanadi hamda kvadrat tenglama tushunchasining tadbqiqi haqidagi fikr o‘quvchilar ongida shakllanadi.

**1 - m a s a l a.** Sport formasi sotib olish uchun ikki komandaning har biriga 84 so‘mdan pul ajratildi. Komandalardan birining olgan har bir formasi ikkinchi komandaning olgan formasidan 2 so‘m arzon bo‘lgani uchun u bitta ortiq sport formasi oldi. Har bir komanda nechtdan sport formasi olgan?

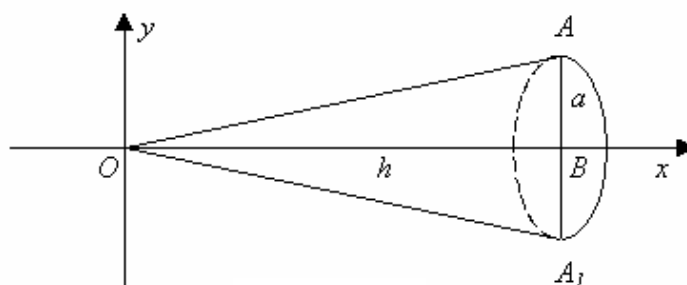
$x$  - birinchi komanda olgan bitta formaning narxi,

$(x - 2)$  - ikkinchi komanda olgan bitta formaning narxi,

$\frac{84}{x}$  - birinchi komanda olgan formalar soni,

$\frac{84}{x-2}$  - ikkinchi komanda olgan formalar soni.

**1 - m a s a l a.** Balandligi  $h$  va asosining uzunligi  $a$  ga teng bo‘lgan to‘g‘ri burchakli uchburchakning  $Ox$  o‘qi atrofida aylanishidan hosil bo‘lgan to‘g‘ri doiraviy konusning hajmi hisoblansin (13-chizma).



13-chizma

Berilgan:  $OB = h, AB = a$

Topish kerak:  $V = ?$

Yechish.  $V = p \int_a^b y^2 dx.$

Chizmadan:

$$y = OA = tg a \cdot x = \frac{a}{h} x, \quad V = p \int_0^h y^2 dx = p \int_0^h \frac{a^2}{h^2} \cdot x^2 dx = p \cdot \frac{a^2}{h^2} \cdot \frac{x^3}{3} \Big|_0^h =$$

$$= p \frac{a^2}{h^2} \frac{h^3}{3} = \frac{pa^2 h}{3} = \frac{1}{3} pa^2 \cdot h; \quad a^2 = r^2; pr^2 = S$$

bo‘lgani uchun  $V = \frac{1}{3} Sp.$

Masala shartida ikki komanda olgan formalarning narxi arzon bo'lgani uchun u birinchi komandaga qaraganda bitta ortiq forma olgani aytilgan. Shu asosda biz sport formalarining soniga nisbatan quyidagi tenglamani tuzishimiz mumkin

$$\frac{84}{x-2} - 1 = \frac{84}{x}$$

$$\frac{84}{x-2} - \frac{84}{x} = 1$$

$$84x - 84x + 168 = x^2 - 2x$$

$$x^2 - 2x - 168 = 0$$

$$x_{1,2} = 1 \pm \sqrt{1+169} = 1 \pm 13.$$

J. 1)  $\frac{84}{14} = 6$  dona. I-komanda olgan formalarning soni.

2)  $\frac{84}{12} = 7$  dona. I - komanda olgan formalarning soni.

**2 - m a s a l a.** Oralaridagi masofa 60 km bo'lgan A punktdan B punktga avtobus jo'nadi. 20 minutdan keyin uning ketidan engil mashina jo'nadi. Engil mashinaning tezligi avtobus tezligidan 20 km/s ortiq. Agar avtobus B punktga engil mashinadan 10 minut keyin kelgan bo'lsa, avtobusning tezligini toping?

**3 - m a s a l a.** Motorli qayiq to'xtovsiz oqim bo'yicha 8 km so'ng oqimga qarshi 16 km yurdi. U barcha yo'lga  $1\frac{1}{4}$  soat vaqt sarf qildi. Agar qayiqning turg'un suvdagi tezligi 20 km/s bo'lsa, oqimning tezligini toping?

Agar o'qituvchi geometriya darsida konusning hajmi mavzusini o'tib, unga doir misollarni integral tushunchasidan foydalanib yechib ko'rsatsa o'quvchilar algebra bilan geometriya fanlari orasidagi mantiqiy bog'lanishni ko'radilar hamda ularda fazoviy tasavvur qilish faoliyati yanada shakllanadi.

2. Masalaning tarbiyaviy funksiyasi o'quvchilarda ilmiy dunyoqarashni shakllantiradi hamda ularni mehnatga muhabbat ruhida tarbiyalaydi. Bizga ma'lumki, matematika fanining o'rganadigan ob'ekti materiyadagi narsalarning fazoviy formalari va ular orasidagi miqdoriy munosabatlarni o'rganishdan iboratdir. Bas, shunday ekan, fazoviy forma bilan miqdoriy munosabatlar orasidagi bog'lanish analitik ifodalangan formula bilan yoziladi.

Ana shu formulani kundalik hayotimizdagi elementar masalalarni yechishga tadbiqu o'quvchilarda ilmiy dunyoqarashni shakllantiradi. Albatta o'qituvchi bu

yerda bilish nazariyasiga asoslangan bo'lishi kerak. "Jonli mushohadadan abstrakt tafakkurga va undan amaliyotga borish kerak".

O'qituvchi matematika darsida yechiladigan masalalar orqali o'quvchilarni mehnatga muhabbat ruhida tarbiyalashi lozim. Buning uchun o'qituvchi halol va sifatli mehnatni ulug'laydigan masalalarni tanlashi kerak bo'ladi.

**1-masala.** Ikki ishchi ma'lum muddatda 120 ta detal tayyorlashi kerak edi. Ishchilardan biri ikkinchisiga qaraganda soatiga 2 tadan ortiq detal tayyorlab topshiriqni 5 soat oldin bajardi. Har bir ishchi soatiga nechtadan detal tayyorlagan?

$x$  - birinchi ishchi ishlagan vaqti,

$(x - 5)$  - ikkinchi ishchi ishlagan vaqti.

$\frac{120}{x}$  - birinchi ishchi tayyorlagan detallar soni,

$\frac{120}{x-5}$  - ikkinchi ishchi tayyorlagan detallar soni.

Yuqoridagilarga asoslanib quyidagi tenglamani tuzishimiz mumkin.

$$\frac{120}{x} = \frac{120}{x-5} - 2,$$

$$\frac{120}{x-5} - \frac{120}{x} = 2,$$

$$120x - 120x + 600 = 2x^2 - 10x,$$

$$2x^2 - 10x - 600 = 0 \quad \text{yoki}$$

$$x^2 - 5x - 300 = 0,$$

$$x_{1,2} = \frac{5}{2} \pm \sqrt{\frac{25}{4} + 300} = \frac{5}{2} \pm \frac{35}{2}$$

$$x_1 = \frac{40}{2} = 20; \quad x_2 = -15.$$

Bulardan 1-ishchi 20 soat ikkinchisi esa 15 soat ishlaganligi kelib chiqadi.

$\frac{120}{20} = 6$  ta 1-ishchining 1 soatda tayyorlagan detallar soni.

$\frac{120}{15} = 8$  ta 2-ishchining 1 soatda tayyorlagan detallar soni.

Masalani echib bo'lgandan keyin o'qituvchi masala mohiyatini quyidagi tartibda tushuntirishi mumkin. Agar biror kishi biror topshirilgan ishni ortig'i bilan

bajarsa, uning mehnat unumi ortib, unga to'laydigan haq ham ortib boradi. Bu esa o'quvchilarni halol mehnatga muhabbat ruhida tarbiyalaydi.

**2 - m a s a l a.** Ishchilar brigadasi ma'lum muddatda rejaga muvofiq 250 ta detal tayyorlashlari kerak edi. Kuniga normadagidan 5 tadan ortiqcha detal tayyorlanib muddatidan bir kun ilgari 270 ta detal tayyorlandi. Brigada necha kun ishlagan?

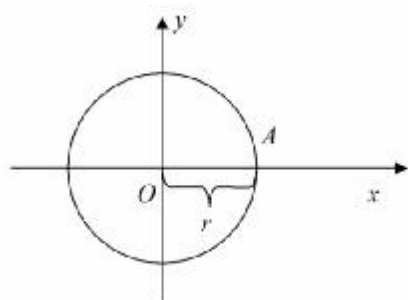
3. Masalaning rivojlantiruvchi xarakterdagi funksiyasi o'quvchilarni mantiqiy tafakkur qilish faoliyatlarini shakllantiradi. Bizga psixologiya kursidan ma'lumki. O'quvchilarning mantiqiy tafakkur qilish faoliyatlari tafakkur operatsiyalari (taqqoslash, analiz - sintez, umumlashtirish, aniqlashtirish, abstraksiyalash va klassifikatsiyalash) orqali amalga oshiriladi. Maktab matematika kursidagi masalaning rivojlantiruvchi xarakterdagi funksiyasi o'quvchilarni matematika o'qitish metodikasining metodlaridan masala yoki misollarni yechish jarayonida to'g'ri foydalanish malakalarini rivojlantiribgina qolmay, balki ularni biror matematik hukm va xulosalar to'g'risida aniq fikr yuritish imkoniyatlarini shakllantiradi hamda masalalar yechish qobiliyatlarini rivojlantiradi.

4. Masalaning tekshiruv xarakterdagi funksiyasi o'z ichiga quyidagilarni oladi:

- 1) O'quvchilarning nazariy olgan bilimlari darajasi;
- 2) O'quvchilarning nazariy olgan bilimlarini amaliy xarakterdagi misol va masalalar yechishga tadbiiq qilishi;
- 3) matematik hukmlardan xulosalar chiqarish darajalari;
- 4) O'quvchilarning matematik tafakkur qobiliyatlarini rivojlanish darajasi.

Endi bitta masala olib, ana shu masala yordamida yuqorida aytib o'tilgan funksiyalarning bajarilishini ko'rib chiqamiz.

**Masala.** Radiusi  $r$  ga teng bo'lgan doiraning yuzi integral yordamida hisoblansin (14-chizma).



14-Chizma.

Berilgan: S- aylana.  $OA = r$ .

T o p i s h k e r a k:  $S = ?$

Yechish.  $x^2 + y^2 = R^2$  aylana tenglamasidan  $y = \pm\sqrt{R^2 - x^2}$  ni yozib olamiz. Yuzalarni integral

yordamida hisoblash formulasi  $S = \int_b^a f(x)dx$  edi.

Shuning uchun

$$S = 4 \int_0^R \sqrt{R^2 - x^2} dx \quad (1)$$

$$x = R \sin t, \quad x = 0, \quad t = 0,$$

$$dx = R \cos t dt, \quad x = R, \quad t = \frac{P}{2}.$$

Bu almashtirishlarni (1) ga qo`ysak, u quyidagi ko`rinishni oladi:

$$\begin{aligned} S &= 4 \int_0^{\frac{P}{2}} \sqrt{R^2 - R^2 \sin^2 t} \cdot R \cos t dt = 4 \int_0^{\frac{P}{2}} R^2 \sqrt{1 - \sin^2 t} \cos t dt = \\ &= 4R^2 \int_0^{\frac{P}{2}} \cos t \cos t dt = 4R^2 \int_0^{\frac{P}{2}} \cos^2 t dt = 4R^2 \int_0^{\frac{P}{2}} \frac{1 + \cos 2t}{2} dt = \\ &= 4R^2 \left( \frac{t}{2} + \frac{1}{2} \cdot \frac{\sin 2t}{2} \right) \Big|_0^{\frac{P}{2}} = 4R^2 \left( \frac{1}{2} \cdot \frac{rO}{2} + \frac{1}{2} \cdot \frac{\sin rO}{2} \right) = 4R^2 \cdot \frac{rO}{4} = rO\dot{R} \\ S &= rO\dot{R} \end{aligned}$$

1) Bu masalani yechish jarayonida o`quvchilarda integral yordamida yuzalarni hisoblash mumkin, degan tushuncha shakllanadi, bu esa ana shu masalani yechishdagi asosiy ta`limiy funksiya bo`lib hisoblanadi.

2) Bu masalaning tarbiyaviy funksiyasi esa shundan iboratki, o`quvchilarda bu masalani yechishga bo`lgan qiziqish shakllanadi, chunki ular integral yordamisiz doiraning yuzi nimaga teng ekanini biladilar, integral yordamida hisoblaganda ham uning yuzi  $S = pR^2$  ekanini kelib chiqishi o`quvchilarni shu fanga bo`lgan hamda uning turli metodlariga bo`lgan qiziqishlarini orttiradi.

3) Bu masalaning rivojlantiruvchi xarakterdagi funksiyasi esa masalaning yechish jarayonida hosil bo`lgan muammolarni hal qilishning matematik qonuniyatlarini o`rgatadi, o`quvchilarda matematik tafakkurni shakllantiradi.

4) Bu masalaning amaliy ahamiyati esa shundaki, bunda o`quvchilarning masalani yechish imkoniyatiga qarab ularning olgan nazariy bilimlarining darajasi aniqlanadi.

### **3-§. Matematika darslarida ko`phadlarni ko`paytuvchilarga ajratish metodikasi.**

Maktab matematika kursida ko`phadlarni ko`paytuvchilarga ajratish asosan quyidagi metodlar orqali amalga oshiriladi:

- 1) umumiy ko'paytuvchini qavsdan tashqariga chiqarish metodi;
- 2) gruppalash metodi;
- 3) berilgan ko'phadga qisqa ko'paytirish formulalarini tadbiq qilish metodi.
- 4) berilgan ko'phadga qo'shimcha hadlarni kiritish metodi;
- 5) berilgan ko'phadni matematik formulalar yordamida ayniy almashtirib ko'paytuvchilarga ajratish metodi;
- 6) berilgan ko'phadni ildizlariga ko'ra ko'paytuvchilarga ajratish metodi;
- 7) noma'lum koeffitsientlar orqali ko'paytuvchilarga ajratish metodi.

**1-misol.**  $a^3+b^3+c^3-3abc$  ko'phad ko'paytuvchilarga ajratilsin.

Berilgan ko'phad o'quvchilar bilan birgalikda ko'rib chiqiladi, unga nisbatan bunday mulohaza yuritish mumkin, berilgan ko'phadda umumiy ko'paytuvchi yo'q, ko'phadda qatnashayotgan to'rtala xadni har qanday gruppalaganda ham biror natija olib bo'lmaydi, shuning uchun bu ko'phadga yordamchi hadlarni kiritish orqali uning ko'rinishini o'zgartirib, qisqa ko'paytirish formulasidan foydalanib, ayniy almashtirish natijasida ko'paytuvchilarga ajratish mumkin:

$$\begin{aligned}
 a^3+b^3+c^3-3abc &= a^3+b^3+c^3+3a^2b-3ab^2-3a^2b-3ab^2-3abc= \\
 &= a^3+3a^2b+3ab^2+b^3+c^3-3a^2b-3ab^2-3abc= \\
 &= (a+b)^3+c^3-3ab(a+b+c)= \\
 &= (a+b+c)\left[(a+b)^2-(a+b)c+c^2\right]-3ab(a+b+c)= \\
 &= (a+b+c)\left[(a+b)^2-(a+b)c+c^2-3ab\right]= \\
 &= (a+b+c)(a^2+2ab+b^2-ac-bc+c^2-3ab)= \\
 &= (a+b+c)(a^2+b^2+c^2-ab-ac-bc).
 \end{aligned}$$

$$a^3+b^3+c^3-3abc=(a+b+c)(a^2+b^2+c^2-ab-ac-bc). \quad (1)$$

Ko'phadni ko'paytuvchilarga ajratish natijasida quyidagicha xulosalar chiqarish mumkin:

a)  $a^2+b^2+c^2-ab-ac-bc \geq 0$  ifoda  $(a-b)^2+(b-c)^2+(c-a)^2 \geq 0$  tengsizligidan kelib chiqadi, agar biz  $a \geq 0$ ,  $b \geq 0$ , desak, u holda  $a^3+b^3+c^3-3abc \geq 0$  bo'ladi, bundan  $\frac{a^3+b^3+c^3}{3} \geq abc$  kelib chiqadi.

b) agar biz  $a^3=x$ ,  $b^3=y$ ,  $c^3=z$  desak,

$$\frac{x+y+z}{3} \geq \sqrt[3]{xyz} \quad (2)$$



tengsizlikni hosil qilamiz. Bu degan soʻz uchta sonning oʻrta arifmetigi ularning oʻrta geometrigidan kichik emas, deganidir;

v) faraz qilaylik,  $x, y, z$ , sonlari toʻgʻri burchakli parallelepipedning uchta oʻlchovi boʻlsin. U holda  $xyz = V$  (3) parallelepipedning hajmini beradi. Agar biz  $x+y+z=E$  (4) deb belgilab, (3) va (4) ni (2) ga qoʻysak,  $\frac{E}{3} \geq \sqrt[3]{V}$  (5) boʻladi.

Demak, toʻgʻri burchakli parallelepiped hajmi uning uchta tomoni oʻlchovlari yigʻindisini uchdan biridan katta emas ekan.

**2 - m i s o l.**  $x^4 - 8x + 63$  koʻphadni koʻpaytuvchilarga ajrating.

Berilgan koʻphadni faqatgina yordamchi hadlarni kiritish metodi yoki nomaʼlum koeffitsientlar metodi orqali koʻpaytuvchilarga ajratish mumkin.

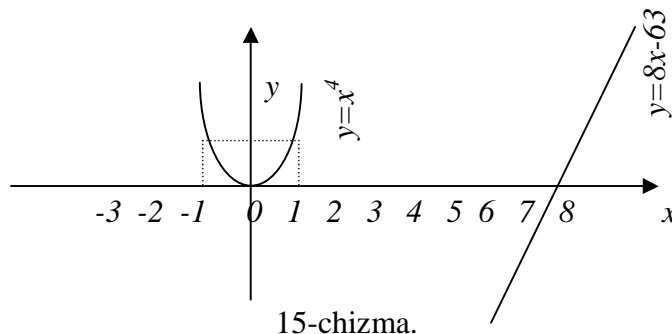
1.  $x^4 - 8x + 63$  koʻphadni yordamchi hadlarni kiritish metodi orqali koʻpaytuvchilarga ajrataylik (15-chizma).

$$\begin{aligned} x^4 - 8x + 63 &= x^4 + 16x^2 - 16x^2 - 8x + 64 - 1 = \\ &= (x^4 + 16x^2 + 64) - (16x^2 + 8x + 1) = (x^2 + 8)^2 - (4x + 1)^2 = \\ &= (x^2 + 8 + 4x + 1)(x^2 + 8 - 4x - 1) = (x^2 - 4x + 9)(x^2 - 4x + 7). \end{aligned}$$

Demak.

$$x^4 - 8x + 63 = (x^2 + 4x + 9)(x^2 - 4x + 7)$$

Hosil qilingan kvadrat uchxad ildizlarini tekshirib koʻramiz, agar u ikkita haqiqiy ildizlarga ega boʻlsa, ularning har birining yana koʻpaytuvchilarga ajratish mumkin, aks holda esa shunday qoldiriladi.  $x^4 - 8x + 63$  koʻphadning ildizlarini tekshirib koʻraylik. Ushbu koʻphadni  $y = x^4$  va  $y = 8x - 63$  koʻrinishda yozib, ularning grafiklarini chizamiz (15 - chizma).



Chizmadan koʻrindiki, bu funksiyalarning grafiklari kesishmaydi, shuning uchun ham bu koʻphad haqiqiy har xil yechimlarga ega boʻlmaydi. Bu koʻphad

haqiqiy har xil yechimlarga ega bo'lmagani uchun chiziqli ko'paytuvchilarga ajralmaydi, shuning uchun bu ko'phad ikkita ikkinchi darajali ko'paytuvchilarga ajraladi xolos.

$$x^4 - 8x + 63 = (x^2 + ax + b)(x^2 + px + q) \quad (1)$$

$$x^4 - 8x + 63 = (x^2 + ax + b)(x^2 + px + q) =$$

$$x^4 + x^3 p + x^2 q + ax^3 + apx^2 + aqx + bx^2 + bpx + bq =$$

$$= x^4 + x^3(a + p) + x^2(q + ap + b) + x(aq + bp) + bq;$$

$$\begin{cases} a + p = 0, \\ aq + bp = -8, \\ ap + b + q = 0, \\ bq = 63, \end{cases} \Rightarrow \begin{cases} a = -p, \\ b + q = a^2, \\ a \cdot (b - q) = 8, \\ bq = 63, \end{cases} \Rightarrow \begin{cases} b + q = \frac{64}{(b - q)^2}, \\ bq = 63, \end{cases} \Rightarrow$$

$$\begin{cases} (b + q)(b - q)^2 = 64 \\ bq = 63 \end{cases} \Rightarrow \begin{cases} (b + q)[(b + q)^2 - 4bq] = 64 \\ bq = 63 \end{cases}$$

$$\Rightarrow \begin{cases} (b + q)[(b + q)^2 - 252] = 64 \\ bq = 63 \end{cases}$$

agar  $b + q = z$  desak:

$$z(z^2 - 252) = 64,$$

$$z^2 - 252z - 64 = 0.$$

Bu tenglama 64 sonining bo'luvchilaridan biri bo'ladi, uning bo'luvchilari esa 1, 2, 3, 4, 8, 32, 64. Bularni berilgan tenglamaga qo'yib, tekshirish natijasida 16 soni uning ildizi ekanini topamiz. Demak,  $z = 16$

$$\begin{cases} b + q = 16 \\ bq = 63 \end{cases} \Rightarrow \begin{cases} b = 16 - q \\ bq = 63 \end{cases},$$

$$q(16 - q) = 63,$$

$$-q^2 + 16q = 63,$$

$$q^2 - 16q + 63 = 0,$$

$$q_{1,2} = 8 \pm \sqrt{64 - 63} = 8 \pm 1,$$

$$q_1 = 9; \quad q_2 = 7.$$

$$b_1 = 7; \quad b_2 = 9.$$

$$a = \frac{8}{b - q} = \frac{8}{7 - 9} = -4,$$

$$a_1 = -4,$$

$$a = \frac{8}{b-q} = \frac{8}{9-7} = 4$$

$$a_2 = 4;$$

$$p = -a$$

**3 - m i s o l.**  $x^2 + 2xy + 2yz - z^2$  ko'phad ko'paytuvchilarga ajratilsin.

Bu ko'phadni ko'paytuvchilarga ajratishda gruppalash metodidan foydalanamiz:

$$\begin{aligned} x^2 + 2xy + 2yz - z^2 &= (x^2 - z^2) + (2xy + 2zy) = \\ (x - z)(x + z) + 2y(x + z) &= (x + z)(x - z + 2y). \end{aligned}$$

**4 - m i s o l.**  $x^4 + x^2y^2 + y^4$  ko'phad ko'paytuvchilarga ajratilsin.

Bu ko'phadni ko'paytuvchilarga ajratishda yordamchi hadlarni kiritish metodidan foydalanamiz:

$$\begin{aligned} x^4 + x^2y^2 + y^4 &= x^4 + x^2y^2 + y^4 + x^2y^2 - x^2y^2 = \\ (x^4 + 2x^2y^2 + y^4) - x^2y^2 &= (x^2 + y^2)^2 - x^2y^2 = \\ = (x^2 + y^2 - xy)(x^2 + y^2 + xy). \end{aligned}$$

**5 - m i s o l.**  $a^2 + b^2$  ifoda ikki had ko'paytuvchilarga ajratilsin.

**1-usul:**

$$\begin{aligned} a^2 + b^2 + 2ab - 2ab &= (a^2 + 2ab + b^2) - 2ab = \\ = (a + b)^2 - 2ab &= (a + b)^2 - (\sqrt{2ab})^2 = \\ = (a + b - \sqrt{2ab})(a + b + \sqrt{2ab}). \end{aligned}$$

**2- usul:**  $a^2 + b^2 = a^2 - (bt)^2 = (a - bt)(a + bt)$ .

**6 - m i s o l.**  $a^4 + b^4$  ikki had ko'paytuvchilarga ajratilsin.

**1 - u s u l.**

$$\begin{aligned} a^4 + b^4 + 2a^2b^2 - 2a^2b^2 &= a^4 + 2a^2b^2 + b^4 - 2a^2b^2 = \\ = (a^2 + b^2)^2 - (\sqrt{2ab})^2 &= (a^2 + b^2 - \sqrt{2ab})(a^2 + b^2 + \sqrt{2ab}). \end{aligned}$$

**2 - u s u l.**  $(a^4 + b^4) = (a^2)^2 - (b^2i)^2 = (a^2 - b^2i)(a^2 + b^2i)$ .

**7 - m i s o l.**  $x^4 + 4x + 15$  ko'phad ko'paytuvchilarga ajratilsin.

$$\begin{aligned}
x^4 - 4x + 15 &= x^4 + 8x^2 + 16 - 8x^2 - 4x - 1 = \\
&= (x^4 + 8x^2 + 16) - (8x^2 + 4x + 1) = (x^2 + 4)^2 - \\
&- (\sqrt{8x^2 + 4x + 1})^2 = (x^2 + 4 - \sqrt{8x^2 + 4x + 1}) \times \\
&\times (x^2 + 4 + \sqrt{8x^2 + 4x + 1}).
\end{aligned}$$

#### 4-§. Matematika darslarida didaktik prinsiplar.

Bizga ma'lumki, didaktik prinsiplar ta'lim nazariyasining asosini tashkil qiladi. Shuning uchun ham o'quv materialini tushuntirish metodlarini tanlashda ta'lim nazariyasi tomonidan ishlab chiqilgan quyidagi didaktik prinsiplarga amal qilish kerak:

1. **Ilmiylik prinsipi.** Bu prinsipning mohiyati shundan iboratki, maktab matematika kursida o'tiladigan har bir mavzu materiali nazariy jihatdan isbotlangan, ya'ni avvalgi o'tilgan matematik tushuncha, aksioma va teoremlarga asoslangan holda bayon qilinishi lozim. Ilmiylik prinsipi matematika darsining har bir qadamida kerak bo'ladi, masalan, o'qituvchi o'quvchilarga  $x^2 + 1$  tenglamani yeching desa, qo'yilgan bu savol to'la ilmiy asosga ega bo'lmaydi, chunki o'quvchilar bu tenglamani haqiqiy sonlar to'plamiga nisbatan yechadigan bo'lsalar, u yechimga ega emas, agar ular bu tenglamani kompleks sonlar to'plamiga nisbatan yechadigan bo'lsalar, u ikkita har xil yechimga ega bo'ladi. Shuning uchun ham matematika darslarida ilmiylik prinsipi quyidagi talablarga javob berishi kerak:

1) o'rganilayotgan har bir matematik tushuncha, ta'rif, aksioma va teoremlar bayon qilinishi jihatidan sodda va aniq ifodalangan bo'lishi kerak;

2) matematika darslarida o'rganiladigan har bir mavzu materialiga nisbatan o'quvchilarni tanqidiy qarashga o'rgatish hamda ularni ana shu nuqtai-nazardan ilmiy fikrlash qobiliyatlarini shakllantirish.

Ana shu nuqtai-nazardan ilmiylik prinsipi maktab matematika kursida o'rganiladigan faktlarni ular fanda qanday yoritiladigan bo'lsa, shunga moslab yoritishni talab etadi.

2. **Ko'rsatmalilik prinsipi.** Ko'rsatmalilik prinsipi o'quvchilar tafakkurining aniqlikdan abstraktlikka qarab rivojlanish xususiyatlariga bog'liqdir. Matematikani o'qitishdan asosiy maqsad mantiqiy tafakkurni rivojlantirishdan iboratdir, biroq matematikani o'qitish aniq fakt va obrazlardan ajralmasdir, aksincha, har qanday masalani o'rganishni shu aniq fakt va obrazlarni tekshirishdan boshlash kerak bo'ladi.

Ko'rsatmalilik ilmiy bilishlarga qiziqishni oshiradi, o'quv materialini o'zlashtirishni osonlashtiradi va matematik bilimlarni mustahkam bo'lishiga yordamlashadi.

3. **Onglilik prinsipi.** Onglilik prinsipi o'quvchilarni o'quv materialini ongli ravishda o'zlashtirishga, ya'ni ularni turli faktlarni tushuna bilishga hamda bu faktlar orasidagi bog'lanishlarni va qonuniyatlarni ocha bilishga o'rgatishdan iboratdir. Matematikani o'qitishda bu prinsipning muhimligi shundan iboratki, matematikadan olinadigan bilimlar faqat ongli ravishda o'zlashtirilgandagina o'quvchilar miqdoriy munosabatlarning xarakterini, matematik figura va ularning o'zaro joylanish xususiyatlarini bilib oladilar. Agar onglilik prinsipi mavzu materialini o'zlashtirish jarayonida buzilsa, o'quvchilarning oladigan bilimlari yuzaki bilim bo'lib qoladi. O'quvchilardagi yuzaki bilimlarni quyidagi hollarda ko'rishimiz mumkin:

1. Agar biror o'quvchiga funksiyaning grafigini chiz deb aytilsa, u koordinata tekisligida ana shu grafikning umumiy ko'rinishini chizish mumkin, ammo funksiyaning argument qiymatlariga mos qiymatlarni topib bera olmasligi mumkin.

2. O'quvchi miqdorlarning absolyut qiymati ta'rifini biladiyu, ammo uni  $|x| = 5$  tenglamaga yoki  $|x| < 5$  tengsizlikka tadbiiq qila olmasligi mumkin.

4. **Aktivlik prinsipi.** Bu prinsipning mohiyati shundan iboratki, bunda maktab matematika kursidagi ta'limning har bir bosqichi rivojlantiruvchi xarakterdagi ta'lim asosiga qurilgan bo'lishi kerak, bu esa o'quvchilarning aktiv fikrlash faoliyatlarini shakllantirishga xizmat qiladi. Matematika darslarida o'quvchilarning aktiv fikrlash faoliyatlarisiz bilimlarni ongli ravishda o'zlashtirishlariga erishib bo'lmaydi, shuning uchun ham hozirgi zamon maktab matematika kursining asosiy maqsadi o'quvchilarni matematika darslarida aktiv fikrlash faoliyatlarini shakllantirishdan iboratdir.

O'quvchilarning matematika darslarida aktiv, ongli fikrlash faoliyatlarini hosil qilish uchun mavzu materialini dars jarayonida muammoli vaziyatlar hosil qilish asosida o'tish maqsadga muvofiqdir.

5. **Puxta o'zlashtirish prinsipi.** Puxta o'zlashtirish prinsipi matematik materiallarni puxta o'zlashtirishga erishishda ayniqsa katta ahamiyatga egadir. Matematik tushunchalar o'zaro shunday bog'langanki majburiy minimumning biror qisminigina bilmagan taqdirda ham o'quvchilar o'z bilimlaridan turmushda foydalana olmay qoladilar. Matematikada hisoblash, algebraik ifodalarni ayniy

almashtirish, geometrik figuralarni tasvirlash malakalarini puxta egallashning ahamiyati kattadir. Ayniqsa matematikada boshqa fanlardagiga qaraganda ham, dasturning biror qismini yaxshi o'zlashtirmasdan va malakani yaxshi mustahkamlamasdan turib muvaffaqiyat bilan oldinga siljish mumkin emas. Yuqoridagilardan ko'rinadiki, o'quvchilarning matematika fanidan oladigan bilimlari puxta bo'lishi uchun quyidagi shartlarni bajarilishi zarur.

1. O'quvchilarning matematikaga qiziqishlarini shakllantirish.

2. Tushuntirilgan mavzu materialini o'quvchilarning mantiqiy asosda o'zlashtirishlariga erishish.

3. Matematika darslari davomida o'quvchilarning mantiqiy fikrlash faoliyatlarini hosil qilib borish.

6. **Sistemalik prinsipi.** Matematika darslarida sistemalik prinsipi shundan iboratki. bunda o'qitishni shu fanning sistemasiga moslab olib borish talab etiladi.

#### **IV-BOBNI TAKRORLASH UCHUN SAVOLLAR**

1. Matematik tafakkur deganda nimani tushunasiz?
2. Matematika darslarida masalaning rolini tushuntirib bering.
3. Masalaning ta'limiy funksiyasi nimalardan iborat bo'ladi?
4. Masalaning tarbiyaviy funksiyasichi?
5. Masalaning rivojlantiruvchi funksiyasini aytib bering.
6. Masalani tekshiruv xarakterdagi funksiyasini tushuntirib bering.
7. O'quvchilarning matematik qobiliyatlari qanday shaklantiriladi?
8. Matematik hukmning qanday turlari mavjud?
9. Matematik hukmlar qanday tushunchalar ko'rinishida ifoda qilinadi?
10. Birhad deb qanday ifodaga aytiladi?
11. Ko'phad tushunchasini aytib bering.
12. Ko'phadlarni qanday usullar yordamida ko'paytuvchilarga ajratiladi?
13. Ko'paytuvchilarga ajratishning gruppalash metodiga misol keltiring.
14. Qo'shimcha hadlar kiritish orqali ko'phad qanday qilib ko'paytuvchilarga ajratiladi?
15. Ko'phadni ildizlariga ko'ra ko'paytuvchilarga ajratilishini tushuntirib bering.
16. Ko'phadni noma'lum koeffitsientlar orqali ko'paytuvchilarga ajratish qanday amalga oshiriladi?
17. Matematika darslarida didaktik prinsiplar va ularni matematika darslariga tadbiqini tushuntirib bering.

#### **IV-BOB UCHUN TAYANCH IBORALAR**

Matematik tafakkur, masala, masalaning tarbiyaviy funksiyasi, masalaning ta'limiy funksiyasi, matematik qobiliyat, matematik hukm, birhad tushunchasi, ko'phad tushunchasi, ko'paytuvchilarga ajratish, gruppalash metodi, ko'phad ildizlari, didaktik prinsiplar, no'malum koeffitsient, geometrik figura, absolyut qiymat tushunchasi, koordinata tekisligi, algebraik ifoda.

## V-BOB.

### MATEMATIK TA'LIMNI TASHKIL QILISH METODIKASI

---

#### 1-§. Matematika darsining tuzilishi va uni tashkil qilish metodikasi

Bizga pedagogika kursidan ma'lumki, dars maktablarda olib boriladigan o'quv-tarbiyaviy jarayonning asosidir. Shuning uchun ham dars jarayonida o'tiladigan mavzu mazmunini umumta'limiy, tarbiyaviy, rivojlantiruvchi va amaliy xarakterdagi tomonlari ochib beriladi. Kadrlar tayyorlash milliy dasturini qabul qilinganidan keyin maktablarimizda o'tiladigan har bir dars vazirlar mahkamasi tomonidan ishlab chiqilgan, ta'lim standartlari asosida olib borilishligi aytib o'tilgan. Har bir dars o'quv tarbiyaviy jarayondir. Shuning uchun ham har bir darsda o'quv-tarbiyaviy jarayonining maqsadi, mazmuni, shakli, metodlari va uning vositalari orasidagi o'zaro aloqalar mazmunan ochib beriladi. Agar biz metodika nuqtai-nazardan matematika darsining tuzilishiga nazar tashlaydigan bo'lsak, unda quyidagi didaktik maqsadlar amalga oshiriladi. Darsning boshida o'quvchilar bilimi tekshiriladi. Bu tekshirish savol-javob asosida yoki didaktik tarqatma materiallar asosida o'tkaziladi. Bunda qaysi o'quvchining avvalgi o'tilgan mavzu mazmunini qanday o'zlashtirgani va qanday qiyinchilikka uchrangani hamda ana shu mavzu materialini yuzasidan o'quvchilarning olgan bilimi va ko'nikmalari tekshiriladi. O'quvchilarning bergan javoblari o'qituvchi tomonidan izohlab baholanadi. Shundan keyin darsning asosiy maqsadi yangi mavzu o'quvchilarga tushuntiriladi va uni mustahkamlash uchun o'quvchilar bilan birgalikda misol yoki masalalar yechiladi. Bundan tashqari ana shu mavzu mazmunini qanday darajada o'quvchilar o'zlashtirganliklarini bilish uchun o'qituvchi tomonidan o'quvchilarga nazariy va amaliy xarakterdagi savollar ham berib boriladi. Bundan keyin uyga vazifa berish va uni bajarish yuzasidan zarur ko'rsatmalar beriladi. Yuqoridagi aytib o'tilgan bosqichlardan ko'rinadiki, matematika darsiga tayyorgarlik ko'rish o'qituvchidan o'rganiladigan mavzuning maqsadi va uning mazmuni nimalardan iborat ekanligini aniqlashdan iboratdir. Har bir o'qituvchi ertaga o'tadigan matematika darsida qanday o'quv-metodik jarayonni amalga oshiraman degan savolga javob izlashdan boshlashi kerak. 45-minutlik dars vaqtini taqsimlashda yangi materialni o'quvchilarga tushuntirishga va uni mustahkamlash yuzasidan misol va masalalar yechishga ko'proq vaqtni ajratish zarur. Ko'p hollarda maktab



o'qituvchilari ko'proq vaqtni uy vazifasini tekshirishga sarf qilib, yangi mavzu mazmunini bayon qilish va uni mustahkamlash vaqtini qisqartirishga olib keladilar. Bu usuldan qochish kerak, chunki darsning asosiy maqsadi yangi mavzu mazmunini o'quvchilarga tushuntirish va uni mustahkamlashdan iboratdir. Fikrlarimiz dalili sifatida «Bikvadrat tenglama ildizlarini topish» mavzusini o'rgatish metodikasini ko'rib chiqaylik.

1. **Darsning maqsadi.** Bikvadrat tenglama va uning ildizlarini topishni o'rgatish.
2. Oldingi darsda o'tilgan mavzu materialini o'quvchilar tomonidan takrorlash uchun savollar.
  - a)  $ax^2 + bx + c = 0$  va  $x^2 + px + q = 0$  ko'rinishdagi ifodalar qanday tenglamalar deyiladi?
  - b)  $y = ax^2 + bx + c$  kvadrat uchhaddan to'la kvadratga ajratish uchun qanday ayniy almashtirishlarni bajarish kerak?
  - c)  $x^2 - 3x - 4 = 0$  tenglamani yeching.
3. Yangi mavzu mazmuni bilan tanishtirish.

**O'qituvchi:**  $6x^4 + 5x^2 + 1 = 0$  tenglamani qanday tenglama deb ataymiz?

**O'quvchilar:** 4-darajali tenglama deyiladi.

**O'qituvchi:** To'g'ri, shunday deyish ham mumkin, ammo matematikada shu ko'rinishdagi tenglamalarni bikvadrat tenglama deyiladi va uning umumiy ko'rinishi  $ax^4 + bx^2 + c = 0$  kabi bo'ladi. Xo'sh bunday tenglamani qanday yechish mumkin?

**O'quvchilar:** Biz bunday tenglamalarni yechmaganmiz.

**O'qituvchi:** Agar  $x^2 = y$  deb belgilasak,  $x^4$  ni qanday belgilaymiz?

**O'quvchilar:** Mulohaza yurtish, ilgari o'tganlarini eslash orqali  $x^4 = y^2$  deb belgilaymiz deb aytadilar.

**O'qituvchi:** Yuqoridagi belgilashlarga ko'ra  $ax^4 + bx^2 + c = 0$  tenglama qanday ko'rinishni oladi?

**O'quvchilar:**  $ay^2 + by + c = 0$  bu tenglama kvadrat tenglamadir. Bunday tenglamani yechishni bilamiz.

**O'qituvchi:**  $6x^4 + 5x^2 + 1 = 0$  tenglamani  $x^2 = y$  belgilash orqali qanday tenglamaga keltiramiz?

**O'quvchilar:**  $6y^2 + 5y + 1 = 0$  to'la kvadrat tenglama ko'rinishiga.

**O'qituvchi:** Bunday tenglamani yechishni bilamizmi?

**O'quvchi:** Bilamiz,  $y_1 = \frac{1}{2}$ ;  $y_2 = \frac{1}{3}$  bu tenglama yechimlari bo'ladi.

**O'qituvchi:** Bizdan qanday noma'lumni topish so'ralgan edi?

**O'quvchilar:** Noma'lum  $x$ -topishni.

**O'qituvchi:**  $x$ -ni qanday topamiz?

**O'quvchilar:**  $x^2 = y$  tenglikdan  $x^2 = \frac{1}{2}$  bo'ladi, bundan  $x_{1,2} = \pm \frac{1}{\sqrt{2}}$ ;  $x^2 = \frac{1}{3}$

tenglikdan esa,  $x_{3,4} = \pm \frac{1}{\sqrt{3}}$  bo'ladi.

4. O'tilgan mavzu mazmunini mustahkamlash uchun  $9x^4 + 5x^2 - 4$ ;  $x^4 - 7x^2 + 12 = 0$  va hokazoga o'xshash misollarni o'quvchilar bilan birgalikda yechish maqsadga muvofiqdir.

5. Uyga vazifa berish. 401, 402 misollarni yechib kelinglar. (Algebra darsligi, Sh.Alimov va boshqalar, T. 2004 yil). Agar uyga vazifa berish ishi to'g'ri tashkil etilsa, ular o'quvchilarning bilimlarini mustahkamlaydi, mustaqil ishlash malakasini shakllantiradi, matematika fanini o'rganishda chidamlilik va tirishqoqlik malakalarini tarbiyalaydi. Uyga berilgan har bir topshiriq ko'pchilik o'quvchilarning kuchi etadigan, o'quvchilar vazifaning ma'nosini va qanday bajarish kerakligini tushuna oladigan darajada bo'lishi kerak. Topshiriqning og'ir engilligi o'quvchining sinfda o'tilgan materialni o'zlashtirishi va uni tushunishi bilan uzviy bog'liqdir, shuning uchun ham o'qituvchi uy vazifasini belgilashda o'quvchilarning uni bajarishga tayyor yoki tayyor emasligini nazarda tutishi lozimdir. Berilgan vazifalargina qo'yilgan maqsadga ya'ni o'quvchilarni o'tilgan mavzular mazmunini puxta o'zlashtirishlariga olib keladi.

## 2-§. Matematika darsining turlari

1. Yangi mavzu mazmuni bilan tanishtirish.
2. Yangi mavzuni mustahkamlash.
3. O'quvchilarning bilimlarini, ko'nikma va malakalarini tekshirish.
4. O'quv materiallarini takrorlash va umumlashtirish.

Matematikadan 45-minutlik dars o'tilgan mavzuni o'quvchilardan so'rash yangi mavzuni bayon qilish, uni mustahkamlash, o'quvchilarning bilim, ko'nikma va malakalarini tekshirish kabi qismlarga ajratish, o'tiladigan har bir darsni didaktik maqsad va mazmunini tushunarli bo'lishini ta'minlaydi.

Maktab matematika darslarida yangi mavzu mazmunini tushuntirish asosan uch xil usulda olib boriladi. Ular ma'ruza, suhbat va mustaqil ishdur.

Hozirgi yangi pedagogik texnologiyani mohiyati ham suhbat metodi orqali yangi mavzu mazmuni ochib berishdan iboratdir. Bunda mavzu mazmunini o'quvchining o'zi bayon qiladi, lekin mantiqiy mulohazalar vaqtida va turli hisoblashlarni bajarishda o'qituvchi o'quvchilarga mavzu mazmunini ochib beruvchi mantiqiy ketma-ketlikka ega bo'lgan savollar tizimi orqali murojaat qiladi, o'quvchilar ana shu savollarga javob berish orqali mavzu mazmunini chuqurroq o'zlashtirib oladilar.

Shu usulda o'tkaziladigan darsning bir qismini misol qilib ko'rsatamiz.

Bir necha qo'shiluvchilar yig'indisining kvadrati formulasini keltirib chiqarish o'tilmoqda.

**O'qituvchi:** Ikki son yig'indisining kvadrati to'g'risidagi ifodani esingizga keltiring. Nosir sen ayt men doskaga yozaman.

**O'quvchi:** Doskaga  $(a+b)^2 = a^2 + 2ab + b^2$  ifoda yoziladi.

**O'qituvchi:** Endi  $(a+b+c)^2$  ning qanday ifodalanishini aniqlaylik.

Agar biz ikkita qo'shiluvchi yig'indisi kvadratining ifodasini biladigan bo'lsak, uchta qo'shiluvchi yig'indisi kvadratini ifodasini chiqarishni qanday boshlashimiz mumkin?

**O'qituvchi:** Shu uch son yig'indisini ikki son yig'indisi shaklida yozib olish kerak, masalan:  $[(a+b)+c]^2$ .

**O'qituvchi:** Bu yozilgan yig'indini kvadratga ko'taring, mumkin bo'lgan xamma sodalashtirishlarni bajaring. Karim, senda natija nima chiqdi, o'qib ber va hosil bo'lgan ifodani aytib tur, men doskaga yozib qo'yay.

Karim aytib turadi, o'qituvchi yozadi.

**O'qituvchi:** Shu xilda muloxaza qilib, to'rtta qo'shiluvchi yig'indisini kvadratga ko'taring:  $(a+b+c+k)^2$ . Raxim, qanday muloxaza qilganingni, qanday shakl o'zgartirishlarni bajarish kerakligini aytib ber, natijani yana men doskaga yozay.

Rahim to'rt hadni qanday qilib kvadratga ko'tarish kerakligini so'zlab beradi.

**O'qituvchi:** Ko'rib chiqqan xamma misollarimizda hosil bo'lgan ifodalarni diqqat bilan ko'rib chiqinglarchi, bulardan ko'phad kvadratini xosil qilish qoidasini chiqarish mumkin emasmikin? Nosir, nima payqading, aytchi?

Nosir so'zlab beradi va qoidani aytadi.

O'qituvchi. To'g'ri. Ammo biz faqat bir necha misol natijalarigagina suyanib xulosa chiqardik, shuning uchun uning to'g'riligidan shubxalanish, demak, uni isbot qilishni talab etish xam o'rinli bo'lar edi. Uning isboti bilan siz VIII sinfda tanishasiz, hozir u sizga og'irlik qiladi. Siz chiqargan xulosa to'g'ri va biz bundan keyin undan foydalanadigan bo'lamiz. Bu qoidani yana bir marta aytib chiqaylik . . .

Ba'zan biron teoremani isbot qilishdagi, yoki biron formulani keltirib chiqarishdagi ishni butun sinf yana ham mustaqilroq bajaradi, ammo bu holda ham o'qituvchi rahbarlik qiladi. Bunda o'quvchilarga o'z rejasini isbotlash metodini yoki mulohazalarini taklif etishga keng imkoniyat beriladi. Shu bilan birga, o'qituvchi ba'zan yordamchi savollar tashlaydi, ko'rsatmalar beradi, ayrim o'quvchilar o'z mulohazalarida xatoga yo'l qo'ygunday bo'lsa, tushuntirib beradi. Biroq bu yo'l juda ko'p vaqt oladi, chunki o'quvchilarning turli-tuman takliflari ularni asosiy masaladan chetga chiqaradi.

Endi yuqorida aytilgan fikrlarning dalili sifatida quyidagi tenglama va masalani suhbat metodi bilan yechib ko'rsataylik.

1. Ushbu  $|x^2 - 3x - 9| = -5$  -tenglama suhbat metod bilan yechilsin.

Bu tenglamani suhbat metod bilan yechishda o'qituvchi bilan o'quvchilar orasidagi suhbatni keltiramiz, bu ta'lim jarayonidagi suhbat metod mohiyatini ochib beradi:

**O'qituvchi:**  $|x^2 - 3x - 9| = -5$  tenglamani qanday yechiladi?

**O'quvchi:** Bu tenglamani yechish uchun uning  $x^2 - 3x - 9 = -5$  va  $-x^2 + 3x + 9 = -5$  tenglamalar ko'rinishida yozib olamiz.

**O'qituvchi:**  $x^2 - 3x - 9 = -5$  va  $-x^2 + 3x + 9 = -5$  tenglamalarni qanday qoidaga asoslanib yozdingiz?

**O'qituvchi:**  $x^2 - 3x - 9 = -5$  va  $-x^2 + 3x + 9 = -5$  tenglamalarni qanday qoidaga asoslanib yozdingiz?

**O'quvchi:** Agar bizga  $|a|$  soni berilgan bo'lsa, u quyidagiga teng edi:

$$|a| = \begin{cases} a, & a > 0, \\ -a, & a < 0 \end{cases}$$

**O'qituvchi:** Xo'sh, u holda hosil qilingan tenglamalar qanday yechiladi?

**O'quvchi:**

$$x^2 - 3x - 9 = -5,$$

$$x^2 - 3x - 9 + 5 = 0,$$

$$x^2 - 3x - 4 = 0$$

**O'qituvchi:**  $x^2 - 3x - 4 = 0$  tenglamani qaysi formuladan foydalanib yechamiz?

**O'quvchi:**  $x^2 - 3x - 4 = 0$  tenglama  $x^2 + px + q = 0$  ko'rinishga keladi, bu keltirilgan kvadrat tenglamadir.

**O'qituvchi:** Kim aytadi,  $x^2 + px + q = 0$  tenglamaning umumiy yechimi qanday bo'lar edi?

**O'quvchi:**  $x^2 + px + q = 0$  tenglamaning umumiy yechimi  $x_{1,2} = -\frac{p}{2} \pm \sqrt{\frac{p^2}{4} - q}$  bo'lar edi.

**O'qituvchi:**  $x^2 - 3x - 4 = 0$  tenglamani bu formulaga qanday qilib qo'yamiz?

**O'quvchi:**  $x^2 - 3x - 4 = 0$  tenglamada  $p = -3$  va  $q = -4$  ga teng, biz ularni umumiy yechimga qo'ysak, berilgan tenglamaning yechimini topgan bo'lamiz:

$$x_{1,2} = -\frac{3}{2} \pm \sqrt{\frac{9}{4} - 4} = \frac{3}{2} \pm \sqrt{\frac{25}{4}} = \frac{3}{2} \pm \frac{5}{2}$$

**O'qituvchi:**  $-x^2 + 3x + 9 = -5$  tenglama qanday yechiladi?

**O'quvchi:**  $-x^2 + 3x + 9 + 5 = 0$

**O'qituvchi:** Endi nima qilamiz?

**O'quvchi:** O'xshash hadlarini ixchamlaymiz:  $-x^2 + 3x + 14 = 0$

**O'qituvchi:** Noma'lum  $x$  oldidagi manfiy ishorani musbat qilish uchun nima qilamiz?

**O'quvchi:** Tenglikni har ikkala tomonini  $(-1)$  ga ko'paytiramiz:

$$-x^2 + 3x + 14 = 0 \mid \cdot (-1), \quad x^2 - 3x - 14 = 0$$

Bu tenglama ham yuqoridagi kabi yechiladi:

$$x_{1,2} = \frac{3}{2} \pm \sqrt{\frac{9}{4} + 14} = \frac{3}{2} \pm \sqrt{\frac{65}{4}} = \frac{3}{2} \pm \frac{\sqrt{65}}{2};$$
$$x_1 = \frac{3 + \sqrt{65}}{2}; \quad x_2 = \frac{3 - \sqrt{65}}{2}$$

Sinfda yangi materialni o'rganishda qo'llaniladigan usullardan yana biri bu o'quvchilarning mustaqil ishlaridir. O'quvchilarning mustaqil ishlarida misol va masalalar yechishni mashq qilish, teorema isbotlarini turli xil usullarda bajarish (agar imkoni bo'lsa), mavzu mazmuniga qarab natijaviy formulalarni chiqarish va unga doir misollar yoki masalalarni tadbiq qilish kabi o'quv metodik ishlar amalga oshiriladi. Masalan, o'qituvchi to'la kvadrat tenglamasi va uning ildizlarini topish mavzusi o'tilgandan keyin, keltirilgan kvadrat tenglama va uning yechimlarini topishni mustaqil ish sifatida berishi mumkin. Bunda o'qituvchi o'quvchilarni kvadrat tenglama va uning yechimlari mavzusining mazmunini ochib beruvchi mantiqiy ketma-ketlikka ega bo'lgan savollar tuzishi bilan o'quvchilarni yo'naltirib turishi maqsadga muvofiqdir. O'qituvchi har bir o'quvchini qo'yilgan topshiriq mazmunini ochishdagi xato va kamchiliklarini to'g'rilab borishi lozim bo'ladi. shundagina mustaqil ishlash usuli orqali o'quvchilar bilimni chuqurlashtirish mumkin bo'ladi.

Matematika darslarida ma'ruza metodidan ham foydalanib darslar o'tiladi. Bu holda o'qituvchi o'quvchilarni mulohazada ishtirok etdirmasdan, mavzu mazmunini yolg'iz o'zi bayon etadi. Shu bilan birga bayon etilayotgan mavzu mazmunidan nimani yozib olish, qanday chizmani chizib olish, doskadan nimalarni ko'chirib yozish kerakligi o'quvchilarga aytib beriladi.

O'qituvchi nazariy materialnigina emas, balki masalalarni yechilishini ham o'zi bajarishi, hamda mantiqiy mulohazalarni o'zi aytishi va barcha chizmalarni chizish va yozuvlarni yozishni ham o'zi bajarishi mumkin. Bunda o'qituvchining mavzu mazmunini bayon qilish usuli o'quvchilar uchun namuna bo'lishi, o'quvchilar ham o'z fikrlarini o'qituvchilarddek bayon etishga intiladigan bo'lishi kerak. O'qituvchilarning nutqi savodli, mulohaza va isbotlari yetarli darajada

asoslangan bo'lishi hamda nutqi ravon bo'lishi kerak. Agar darsda qo'llanilgan metodlar o'quvchilarda qiziqish tug'dirgan, ular diqqatini jalb qilgan bo'lsa, o'quvchilar mavzudagi asosiy mulohazalarni to'g'ri takrorlab bera olgan bo'lsalar, demakki, o'qituvchi mavzu mazmunini yoritishda qo'llangan metodidan qanoat hosil qilishi mumkin.

O'tilgan mavzuni mustahkamlash deganda biz asosan o'quv materialini nazariy ma'lumotlarini takrorlash hamda o'quvchilarni o'tilgan mavzu materiallari yuzasidan malaka va ko'nikmalarini shakllantirish uchun misol, masalalar yechish orqali o'tilgan darslarini takrorlab mustahkamlashni tushunamiz. O'tilgan materialni takrorlash ilgari olingan bilimlarni yangilashga, o'tilgan mavzu mazmuniga umumiyroq nuqtai-nazardan qarashga yordam beradi.

O'tilgan mavzu mazmunini mustahkamlashda asosan quyidagilarga e'tibor berish kerak.

1. Yangi mavzu mazmunida ishlatilgan asosiy tushunchalarni o'quvchilar tomonidan o'zlashtirilganlik darajasi.
2. Yangi mavzudagi teorema yoki uning isbotini o'quvchilar tomonidan aytib berilishi darajasi.
3. Yangi mavzuda o'rganilgan teorema va formulalardan misol, masalalar yechishda o'quvchilarning foydalana olish darajasi.
4. O'quvchilarning yangi mavzu mazmunini kundalik hayotda uchraydigan elementar muammolarga tadbiq qilish darajasi.

O'quvchilarni bilim, ko'nikma va malakalarini tekshirish o'tilgan materiallar yuzasidan og'zaki so'rash yoki yozma ish olish usuli bilan aniqlanadi.

Bunday tekshirish darslarini o'tkazish o'qituvchi tomonidan bir hafta oldin e'lon qilinib, o'quvchilarga og'zaki so'raladigan mavzu materiallari va ular asosida o'qituvchi tomonidan tuzilgan savollar ketma-ketligi beriladi.

Agar tekshiruv darsi yozma ish orqali o'tkaziladigan bo'lsa, bunda ham yozma ish variantida tushadigan misol va masalalar qaysi mavzularga taalluqligi o'qituvchi tomonidan bir hafta oldin aytib qo'yiladi.

O'quv materialini takrorlash va umumlashtirish.

Maktab matematika darslarida biror bob o'tib bo'lingandan keyin ana shu bob mavzu materiallarini umumlashtirish xarakteridagi takrorlash, umumlashtirish darslari o'tkaziladi.

O'tilgan materiallarni takrorlash-umumlashtirish darslari ilgari olingan bilimlarni yangilashga, ularni ma'lum bir tizimga solishga va o'tilgan materialga

umumiyroq nuqtai-nazardan qarashga yordam beradi. Maktab matematika darslarida takrorlash-umumlashtirish darslarini quyidagi turlarga ajratish mumkin.

1. O'quv yili boshidagi takrorlash-umumlashtirish.
2. Kundalik takrorlash.
3. Tematik takrorlash-umumlashtirish darsi.
4. Yakuniy takrorlash-umumlashtirish darsi.

Har bir takrorlash darsini o'z o'рни va maqsadi boridir. O'quv yili boshidagi takrorlash darsida o'qituvchi avvalgi sinfda o'tilgan asosiy mavzu materiallarining mazmunini hamda bu mavzularda ishlatilgan asosiy matematik tushunchalarni o'qituvchining o'zi takrorlab imkoniyati boricha umumlashtirib beradi. Matematika fanini o'zi shunday fanki, o'qituvchining o'zi har bir darsda yangi mavzuning mazmunini tushuntirish jarayonida ilgari o'tilgan mavzular mazmuni va ulardagi matematik tushunchalardan foydalanib dars o'tadi. Bunday takrorlashni kundalik takrorlash darsi deb yuritiladi.

Matematikadan biror bob mavzu materiallari o'tib bo'linganidan keyin alohida takrorlash-umumlashtirish darslari o'tkaziladi. Bunday takrorlashni tematik takrorlash-umumlashtirish darsi deyiladi. Tematik takrorlash-umumlashtirish darsi bo'lishidan oldin o'qituvchi takrorlanadigan bob mavzu materiallarini o'z ichiga oluvchi mantiqiy ketma-ketlikka ega bo'lgan savollarni o'quvchilarga bir hafta ilgari berib qo'yishi va ana shu savollar asosida tematik takrorlash darsi bo'lishini aytib qo'yishi lozim. Ana shu berilgan savollar asosida o'quvchilar bo'ladigan tematik takrorlash darsiga oldindan tayyorgarlik ko'radilar. Bunday takrorlash darsini o'qituvchi savol javob usuli orqali o'tkazadi. O'qituvchi rahbarligida o'quvchilar mavzularning ketma-ketligi va ularda qatnashayotgan matematik tushunchalar orasidagi mantiqiy bog'lanishlarni tushunib etadilar. Natijada o'quvchilarning ana shu bob mavzu materiallari yuzasidan olgan bilimlari mantiqiy ketma-ketlikka ega bo'ladi va umumlashadi.

Uquv yili oxirida ham reja asosida takrorlash darsi ajratilgan bo'ladi, bunday takrorlashni yakuniy takrorlash darsi deb yuritiladi. Yakuniy takrorlash darsida o'quv yili davomida o'tilgan har bir bob mavzu materiallari takrorlab umumlashtirib boriladi.

Yakuniy takrorlash-umumlashtirish darsining muvaffaqiyatli o'tishi uchun o'quv yili boshidagi, kundalik, tematik takrorlash darslari o'z vaqtida o'tkazilgan



bo'lishi kerak. Yakuniy takrorlash-umumlashtirish darsi orqali o'quvchilarning yil davomida olgan bilimlari umumlashtiriladi va sistemalashtiriladi.

Yakuniy takrorlash-umumlashtirish darsini hamma o'qituvchilar ham metodik jihatdan tashkil qilmaydilar. Biz bir necha maktabda o'tkazilgan yakuniy takrorlash-umumlashtirish darslarini kuzatdik, ular o'quv materiallarini umumlashtirish va sistemalashtirish o'rniga ba'zi maktablarda o'quvchilarni doskaga chiqarib qo'yib, ulardan o'tilgan o'quv materiallarini so'rash, ba'zilarida esa bir necha misol yoki masala yechish bilan cheklanishdi.

Ko'pchilik o'qituvchilar yakuniy takrorlash-umumlashtirish darsini o'tkazishda quyidagi kamchiliklarga yo'l qo'yadilar:

1. Takrorlash-umumlashtirish darsi uchun faqat o'quv yili oxirida soat ajratib uni o'tkazadilar.
2. Takrorlash-umumlashtirish darsi uchun material tanlashga befarq qaraydilar.
3. Takrorlash-umumlashtirish darsini o'tkazish metodikasini to'g'ri tanlay olmaydilar.
4. Takrorlash-umumlashtirish darsi uchun material yuzasidan savollar va mashqlar sistemasini tuzmaydilar.

O'qituvchi yakuniy takrorlash-umumlashtirish darsi bo'lishidan bir necha kun avval shu darsda qaysi materiallarni qanday usullar bilan takrorlash va umumlashtirishini hamda ularga doir qanday masalalarni yechish kerakligini aniqlab, so'ngra o'quvchilarga shu mavzular bo'yicha tuzilgan savollar va mashqlar sistemasini berishi ular shu o'qituvchi ko'rsatmasiga asosan yakuniy takrorlash-umumlashtirish darsiga tayyorgarlik ko'rishlari kerak. O'qituvchi yakuniy takrorlash-umumlashtirish darsini uyushtirishdan oldin quyidagilarga e'tibor berishi kerak:

1. Takrorlash-umumlashtirish darsining materiali o'sha kursni umumlashtiruvchi xarakterda bo'lishi kerak.
2. Shu darsda o'tish uchun ajratilgan material bo'yicha savollar sistemasi tuzilgan bo'lishi kerak.
3. Takrorlash-umumlashtirish darsida ishlanadigan mashqlar sistemasi tuzilgan bo'lishi kerak.
4. Tuzilgan savollar va mashqlar sistemasi takrorlanayotgan materialni sistemalashtiruvchi va umumlashtiruvchi xarakterda bo'lishi kerak.

5. Takrorlash-umumlashtirish darsini o'tkazish metodikasiga e'tibor berish kerak.

O'qituvchi yakuniy takrorlash-umumlashtirish darsi uchun mavzularni avvaldan rejalashtirishi kerak. Yakuniy takrorlash-umumlashtirish darsi o'qituvchining umumiy ma'ruzasi yoki o'quvchilarning shu mavzuga doir tayyorlangan ma'ruzalarini eshitish orqali o'tkaziladi. Dars oxirida o'qituvchi takrorlash-umumlashtiruvchi darsida faol qatnashgan o'quvchilarni rag'batlantiradi, faol qatnashmagan o'quvchilarni ogohlantiradi, so'ngra o'tilgan mavzu materialini umumlashtiradi va sistemalashtiradi.

Yakuniy takrorlash-umumlashtirish darsi bo'lishidan 5-6 kun oldin takrorlanadigan mavzular o'quvchilarga beriladi. O'quvchilar esa o'qituvchining ko'rsatmasiga asosan belgilangan kitoblardan foydalanib, takrorlash-umumlashtirish darsiga ma'ruzalar tayyorlaydilar. Yakuniy takrorlash-umumlashtirish darslarini bunday uyushtirish orqali har bir o'quvchini mustaqil ishga o'rgatiladi.

Mavzularni yakuniy takrorlash-umumlashtirish darsi rejasiga bob yoki kursni o'z ichiga oladigan materiallardan tanlanadi.

Masalan, VIII sinfda «Ko'pburchaklarning yuzlari» nomli bobga quyidagicha reja tuzish mumkin.

1. Geometrik figuraning yuzi deganda nimani tushunasiz?
2. Nima uchun qobariq va botiq ko'pburchaklar ko'pburchakning xususiy holi bo'lishini tushuntiring.
3. Uchburchak, to'rtburchak va trapetsiyaning yuzlari qanday hisoblanadi.
4. Nima uchun parallelogramm qobariq to'rtburchakning xususiy holi bo'ladi?
5. Nima uchun trapetsiya yuzini hisoblash formulalari uchburchak, to'rtburchak yuzlarini hisoblash formulalarining umumlashgan holi bo'ladi?

## SAVOLLAR

1. Kesma deb nimaga aytiladi?
2. Siniq chiziq deb nimaga aytiladi?
3. Qanday geometrik figurani ko'pburchak deyiladi?
4. Qanday ko'pburchak qobariq ko'pburchak deyiladi?
5. Qanday ko'pburchak botiq deyiladi?
6. To'rtburchak deb nimaga aytiladi?
7. Parallelogramm deb qanday to'rtburchakni aytiladi?
8. To'g'ri to'rtburchak deb qanday geometrik figuraga aytiladi?
9. Trapetsiya nima?
10. Romb nima?
11. Kvadrat nima?
12. Qanday geometrik figurani uchburchak deyiladi?
13. Uchburchak tomonlariga ko'ra necha turli bo'ladi?
14. Uchburchak burchaklariga ko'ra necha turli bo'ladi?
15. Uchburchakning tomonlari bilan burchaklari orasida qanday bog'lanish bor?
16. Qobariq ko'pburchak ichki burchaklari yig'indisi necha gradusga teng?
17. Parallelogrammning yuzi nimaga teng?
18. Uchburchakning yuzichi?
19. Trapetsiyaning yuzi qanday o'lchanadi?
20. Rombning yuzi nimaga teng?

Bu savollar tizimi asosida o'quvchilar uylarida mustaqil tayyorlanadilar, buning natijasida ular o'quvchilarda kitob bilan ishlash malakasi hamda mavzu mazmunlarini mustaqil o'zlashtirish malakalari shakllanadi.

### 3-§. Matematika darsiga tayyorgarlik va darsning tahlili

Matematika o'qituvchisi darsga tayyorgarlik ko'rishni o'quv yili boshida o'ziga ajratilgan sinf dasturiga ko'ra yillik ba'zan yarim yillik ish rejasini tuzishdan boshlaydi. Bundan tashqari har bir matematika darsi uchun alohida ish rejasini tuzadi. Matematikaga doir ish rejada har bir mavzuning asosiy savollari, bu savollarni o'tish uchun ajratilgan soatlar va o'tilish muddati ko'rsatilgan bo'lishi kerak. Matematikadan tuzilgan ish rejada har bir mavzuni o'tish uchun qanday ko'rgazmali qurollardan foydalanish va qanday amaliy xarakterdagi misol va masalalarni yechish ham ko'rsatilgan bo'lishi maqsadga muvofiqdir. Matematikadan tuzilgan ish rejani maktabdagi o'quv metodika hay'ati muhokama qiladi va maktab direktori tomonidan tasdiqlangan u rasmiy hujjatga aylanadi va ana shu tasdiqlangan reja asosida o'qituvchi matematika darsini har bir mavzusini o'tadi, maktab rahbariyati ham ana shu tasdiqlangan ish reja asosida o'qituvchini o'quv faoliyatini tekshiradi. O'qituvchi har bir dars uchun mavzu yuzasidan ish rejani tuzishda quyidagilarga ahamiyat berish kerak bo'ladi.

1. Mavzu va uning shu darsda o'rganiladigan qismi ko'rsatiladi.
2. Uy vazifasi qanday tekshiriladi?
3. Qaysi o'quvchilardan so'raladi?
4. Sinfdagi o'quvchilar uchun qanday mustaqil ishlar beriladi va qanday vaqtda beriladi?
5. Yangi mavzu bayoni ko'rsatiladi, o'quvchilarga qanday metod orqali tushuntirilishi va qaysi erlarini yozishligi belgilanadi?
6. O'tilgan yangi mavzuni mustahkamlash uchun beriladigan savollar yoki misol va masalalar yozib qo'yiladi.
7. Uyga beriladigan vazifa, mavzu paragrafi, misol va masala nomerlari hamda o'quvchilarga beriladigan ko'rsatmalar yozib qo'yiladi. O'qituvchi har bir dars oxirida o'quvchilar bilan birgalikda bugungi darsni yakunlashi va o'quvchilar bilimini tekshirishi lozim. O'qituvchi har bir darsning mazmunini yaxshi o'ylab rejalashtirsagina o'quvchilar chuqur matematik bilimga ega bo'ladilar.

**Matematikadan ish rejani quyidagi ko'rinishda tuzish maqsadga muvofiqdir.**

No	Mavzular va uning	Takrorlash	Soat-	O'tish	Mustaqil	Eslatma
----	-------------------	------------	-------	--------	----------	---------

	mazmuni		lar	muddati	ishlar	
1.	Kvadrat tenglama. a) Kvadrat tenglamaga ta'rif b) Kvadrat uchhaddan to'la kvadrat ajratish v) Diskriminant tushunchasi va uning $D = 0, D > 0, D < 0$ bo'lgandagi hollari g) Kvadrat tenglamani geometrik ma'nosini ochib berish d) Kvadrat tenglama yechimini misollarga tadbiq qilish.	Tenglama ta'rifi, Tenglikdagi ishoralarni o'zgartirish	2	Sentyabr 1-5	Kvadrat tenglamaning ildizlari formulasi tadbiqi asosida misollar yechish kitoblardan misollar keltiriladi.	Geometrik tasvirini chizib ko'rsatish.

Har bir mavzu uchun yuqoridagi kabi aniqlik asosida ish rejasi tuziladi va asosiy darslikdan tashqari qo'shimcha adabiyotlar ro'yxati ham o'qituvchi tomonidan o'quvchilarga berilishi maqsadga muvofiqdir.

Matematika darsining tahlili.

Bizga ma'lumki, har bir dars quyidagi bosqichlardan iborat edi.

1. O'tilgan darsni o'quvchilardan so'rash va uni mustahkamlash.
2. Yangi mavzuni o'qituvchi tomonidan tushuntirish va uni mustahkamlash.
3. Uyga vazifa berish.

Ana shu asosiy uch bosqichni amalga oshirishda o'qituvchini ilmiy-metodik faoliyati maydalab mantiqiy tahlil qilinadi.

1. O'tilgan darsni o'quvchilardan so'rash paytida, o'qituvchi tomonidan o'quvchilarga mavzu yuzasidan berilgan savollar to'g'ri bo'ldimi yoki yo'qmi?
2. Doskaga chiqqan o'quvchilarga savollar to'g'ri berildimi, qo'shimcha savollarchi?
3. Ularni bilimlarini baholashda o'qituvchi reyting mezoniga rioya qildimi, o'quvchilarni javoblari o'qituvchi tomonidan tahlil qilindimi?
4. O'tilgan mavzuni o'quvchilardan so'rash uchun o'qituvchi ortiqcha vaqt sarf qilmadimi?
5. Tarqatma materialni yechib bo'lgan o'quvchilar bilimini qanday baholandi?

6. O'qituvchi o'zi avvalgi mavzu mazmunini va o'quvchilar javoblarini qisqacha tahlil qilib yakunladimi?
7. Yangi mavzuni mazmunini ochib berishda ilmiy-metodik xatoga yo'l qo'ymadimi?
8. Yangi mavzuni qanday metod bilan tushuntirdi?
9. Yangi mavzuni mustahkamlashga qanday e'tibor berdi?
10. Yangi mavzuni geometrik ma'nosini ko'rsatib bera oldimi?
11. Uyga berilgan vazifalardan namuna ko'rsatdimi?
12. 45-minutlik vaqtni to'g'ri taqsimladimi?
13. O'qituvchi mavzu mazmunini tushuntirishda o'zini qanday tutdi?
14. Uqituvchi yangi mavzuni tushuntirishda sinf o'quvchilarini o'ziga qarata oldimi?
15. O'qituvchi o'quvchilarni shaxsiyatiga tegmadimi?
16. Darsni tahlilidan so'ng o'qituvchiga beriladigan o'quv, ilmiy, metodik va tarbiyaviy maslahatlar.

Har bir matematika darsini tahlil qilish yuqoridagi savollarga javob topish orqali amalga oshirilishi maqsadga muvofiqdir. Shundagina darsning tahlili samarali bo'ladi.

#### **4-§. Matematika darsiga qo'yilgan talablar**

Matematika darsining tahlili shuni ko'rsatadiki, darsning maqsadi shu darsning tuzilish strukturasi va ana shu darsda bo'ladigan barcha bosqichlarning o'zaro mantiqiy munosabatlarini aniqlaydi.

1. Matematika darsiga qo'yiladigan birinchi talab bu uning maqsadga tomon yo'naltirilganligidir. Maqsadga tomon yo'naltirilganlik deganda biz darsning maqsadida qo'yilgan mavzu mazmunini tushuntirish orqali o'quvchilarni mantiqiy fikrlash qobiliyatlarini shakllantirish hamda ularni aqliy va ma'naviy tarbiyalashni tushunamiz.
2. Matematika darsiga qo'yilgan ikkinchi talab bu dars va uning mazmunini ratsional taqsimlashdir. Dars va uning turlarini to'qri taqsimlash hamda matematika darsida o'quvchilarning mavzu mazmunini yaxshi o'zlashtirishlari orqali matematik, umumintellektual va o'quv faoliyatiga nisbatan bilim, ko'nikma hamda tafakkur qilish faoliyatlari shakllanadi.
3. Matematika darsiga qo'yilgan uchinchi talab bu darsni o'tkazishdagi o'quv, tarbiya metodi va vositalarini tanlashdan iboratdir. Matematika darslarida o'quv, tarbiya usullarini tanlash katta ahamiyatga egadir. Matematika o'qituvchisi mavzu mazmuniga qarab tushuntirish, ilmiy izlanish va xulosa chiqarish metodlaridan qaysilarini qo'llansa o'quvchilar mavzu mazmunini yaxshiroq o'zlashtirishlarini aniqlab olishi lozim, shundagina dars samarali bo'ladi.
4. Matematika darsiga qo'yilgan to'rtinchi talab bu darsni o'tkazishda o'quvchilarning bilishga doir bo'lgan faoliyatlarini shakllantirish uchun o'quv jarayonini har xil usullarda tashkil qilishdir. O'qituvchi darsda o'tiladigan mavzu mazmuniga qarab o'quvchilar faoliyatlarini oldindan belgilashi kerak bo'ladi. Agar darsda yangi mavzu o'tiladigan bo'lsa, unda o'qituvchining o'zi mavzu mazmunini ma'ruza yoki suhbat usullari orqali o'quvchilarga tushuntiradi. Agar darsdagi mavzu avvalgi o'tilgan mavzuga doir misol yoki masala yechish bo'lsa, unda mustaqil ishlash yoki yakka tartibda topshiriqlar berish usullaridan foydalanish mumkin. Buning natijasida sinfdagi o'quvchilar o'zlarining intellektual qobiliyatlari orqali mavzu mazmunini u nazariy yoki amaliy xarakterda bo'lsin yaxshi o'zlashtiradilar.

## 5-§. O'quvchilarning bilimlarini tekshirish

«Ijroni tekshirish»ning to'g'ri yo'lga qo'yilishi har qanday ish sohasida katta ahamiyatga ega bo'lgani singari, o'qitish ishlarida ham g'oyat katta ahamiyatga egadir. U, o'qituvchiga o'quvchilarda mas'uliyat tuyg'usini tarbiyalashga, o'quvchilarning bilimlaridagi kamchiliklarni o'z vaqtida aniqlab olishga, o'z ishini to'g'ri baholashga imkon beradi.

O'quvchilarning bilimlarini tekshirish ishi muntazam ravishda, ya'ni har kuni olib borilishi kerak. Dastavval yangi materialni bayon etgandan keyin uning qay darajada tushunilganligini tekshirib olish lozim. Darsning asosiy maqsadi o'tiladigan mavzu mazmunini o'quvchilarga tushuntirish ekanini, o'quvchilar bilimni asosan darsda olishlari kerakligini esda tutib, o'qituvchi o'zining shu maqsadga erishgan yoki erishmaganligini har bir darsda o'tilgan mavzu mazmunini asosiy erlarini o'quvchilardan so'rash orqali tekshirib borishi zarur.

O'quvchilarning o'zlashtirish darajasini turli yo'llar bilan tekshirish mumkin, ya'ni biron formulani chiqarish yoki biron teoremani isbotlashdagi asosiy mulohazalarni o'quvchi tomonidan bajarish, ilgaridan tayyorlab qo'yilgan mavzu mazmuniga doir savollarni o'quvchilarga berish, olingan nazariy xulosalarni masala yoki misollar yechishga tatbiq qila olish qobiliyatlarini aniqlab bilishdan iboratdir.

Bularning hammasi o'quvchilarning o'zlashtirish natijalarini aniqlashga va shu bilan birga o'tilgan materialni mustahkamlashga yordam beradi.

Yozma uy vazifalarining bajarilgan-bajarilmaganligini tekshirish ishi ko'pincha sinfni «aylanib chiqib» o'quvchilarning daftarlarini ko'rish yo'li bilan bajariladi. Bu yo'l vazifaning bajarilganligini aniqlashga imkon beradi, ishning sifatini esa bu yo'l bilan aniqlab olish qiyin.

Uy vazifasini tekshirish uchun aylanma daftar tutish ijobiy natija beradi, chunki vazifasi tekshirilgan daftar o'quvchiga berilganda ular daftardagi o'qituvchi tomonidan qo'yilgan baholarni va izohlarni ko'rib berilgan topshiriqlar bo'yicha qanday bilimga ega ekanliklarini bilib oladilar. O'qituvchi uy vazifalar natijasini reyting mezonini bo'yicha ballar asosida baholashi shart.

Bundan tashqari doskaga ayrim o'quvchilarni chiqarib, o'tilgan mavzuga doir o'qituvchi aytgan masala yoki misolning yechilishini so'rash orqali ham aniqlanadi.



Har bir masala yoki misolning yechilishini mufassal bir o'quvchining o'zi oxiriga etkazishi shart emas. Berilgan vazifa yuzasidan eng muhim savollarni ilgari tayyorlab qo'yib, tekshirishni ana shu reja bo'yicha olib borish mumkin.

Masala va misollarning yechilishini tekshirganda bir masalaning bir necha xil yechilish variantlarini aniqlash, hisoblashga doir misollarda esa qo'llanilgan turlicha yechish usullarini ko'rsatish va ular ichidan yechishning eng ma'qul usullarini aniqlab olish kerak.

Har kuni hamma o'quvchilarning daftarlarini tekshirib chiqish mumkin emas, ammo bu ishni hech bo'lmaganda tanlab olish yo'li bilan qilish kerak. Har bir darsning oxirida 8-10 o'quvchining daftarini olish yo'li bilan bir oyda har bir o'quvchining daftarini aqalli uch marotaba ko'zdan kechirish kerak. Bu holda o'quvchining ikki hafta davomida bajargan hamma ishlarini tekshirib chiqishga ulguriladi. Bunda tekshirilgan daftarlarda ko'rsatilgan xatolarni o'quvchilarga albatta tuzatirish kerak, shu holdagina tekshirish ishlari maqsadga muvofiq bo'ladi.

Bunday tekshirganda bajarilgan ishning to'g'riligini, topshiriqning to'la bajarilishini va ishning chiroyli, ozoda va batartib bajarilishini e'tiborga olib turib, uy vazifalarini bajarishga alohida reyting mezonlari asosida baho qo'yish kerak.

Daftarlarni tekshirib borish o'qituvchiga o'quvchilar tomonidan berilgan vazifalarni bo'sh o'zlashtirilgan joylarini, misollarni yechishdagi o'quvchilarni yo'l qo'ygan xatoliklarini aniqlab olishga va o'z vaqtida ularni to'g'rilab olish choralarini ko'rishga imkon beradi.

O'quvchilar bilimini tekshirishning yana yo'llaridan biri bu ulardan og'zaki so'rashdir. Buning uchun avvalo o'qituvchi tomonidan mavzu mazmunini ochib beradigan mantiqiy ketma-ketlikka ega bo'lgan ta'riflar, qoidalar, murakkab bo'lmagan xulosalar va teoremlarning isbotini tushuntirib berishni talab etadigan savollar tizimi tuziladi. Savol sinf o'quvchilariga berilib, javobini o'ylashga bir necha daqiqa vaqt beriladi. So'ngra bir o'quvchidan so'raladi. Uning javobini baholashda butun sinf ishtirok etadi (to'g'ri, noto'g'ri, yetarli darajada mukammal, javob asosli yo asosli emas va hokazo); javobga qo'shimcha qiluvchilarga yoki xatoni tuzatuvchilarga ham so'z beriladi.

Javoblar reyting asosida baholanadi, biroq sinf jurnaliga yozilmaydi, uch-to'rt marta shu xil joyda turib berilgan javoblarga o'qituvchi tomonidan umumiy ball qo'yilib, bu ball sinf jurnaliga va o'quvchining kundalik daftariga yozib

qo'yiladi. Bu holda o'qituvchi berilgan savol va olingan javoblarni maxsus yuritilgan reyting daftariga yozib boradi.

Masalan, B sinfda «Sonlarning bo'linishi» mavzusidan keyin shunday savollarni tuzib olish mumkin:

- 1) Sonning (masalan, 84 ning) hamma bo'luvchilari qanday topiladi?
- 2) Berilgan sonlarning (12, 18 ning) umumiy bo'luvchisi deb qanday songa aytiladi va unday sonlar nechta bo'ladi?
- 3) Berilgan sonlarning (masalan, 24 bilan 36 ning) eng katta umumiy bo'luvchisi deb qanday songa aytiladi va u qanday topiladi?
- 4) Qanday son berilgan sonlarning (masalan, 12 va 9 ning) umumiy bo'linuvchisi deb ataladi va bunday sonlardan nechtasini topish mumkin?
- 5) Qanday son berilgan sonlarning (masalan, 14 va 21 ning) eng kichik umumiy bo'linuvchisi deb ataladi va u qanday topiladi?
- 6) 4 ga bo'linish belgisi, uni tushuntirib bering.
- 7) Biron son qanday shartda 15 ga bo'linadi?
- 8) Yig'indi juft son bo'lishi uchun qo'shiluvchilarning har biri juft son bo'lishi zarurmi? Misollar keltiring.

Maktab tajribasida doskaga chiqarib so'rashning turli yo'llari qo'llaniladi. Doskaga bir o'quvchini chiqarib biron xulosa chiqartirish, teoremani isbotlash yoki masala yechdirish kuproq qo'llaniladi, sinfdagi boshqa o'quvchilar esa doskaga chiqqan o'quvchining javobini eshitib turadilar. Bu holda javob beruvchi o'z javobini bemalol, to'la o'ylab olish, uni bayon etishga tayyorlanib olish imkoniyatidan mahrum bo'ladi, chunki unga o'qituvchi ham qarab turadi, o'quvchilar ham o'zlarining chidamsizlik qarashlari bilan uni bezovta qiladi, shoshiltiradi.

O'qituvchi, darsni ish rejasini tuzgan vaqtidayoq, so'ramoqchi bo'lgan o'quvchilarni belgilab qo'ysa va ularning har biriga navbatdagi va takrorlanadigan material yuzasidan so'raladigan 2-3 ta savolni ham aniqlab qo'yishi kerak bo'ladi.

Doskaga 1-2 o'quvchi chiqarilganda ularning har biriga berilgan savolga javob tayyorlash kerak bo'lib qolganda doskada chizma chizish, javobni bog'lanishli qilib aytib berishni osonlashtiradigan yozuvlarni qisqacha yozib qo'yishga imkon beriladi.

Bu o'quvchilar javob tayyorlagunlaricha o'qituvchi qolgan o'quvchilar bilan suhbat asosida savol-javob qilib, og'zaki masalalar yechdirishi, ta'riflarni,

teoremlarni aytilishini, sodda hulosalar chiqarish kabilarni so‘rab turishi lozim bo‘ladi.

Ba‘zilar, o‘qituvchining sinf bilan qiladigan suhbatidan ikki o‘quvchini bo‘lsa ham ajratib qo‘yish zararli deb, bu xil so‘rashga e‘tiroz bildiradilar. Ammo, chiqarilgan o‘quvchilarning tayyorlanish vaqtida butun sinfni zerikib kutib o‘tirishga majbur qilishdan ko‘ra, ikki o‘quvchini bu xil suhbatdan mahrum qilish yaxshiroq. Doskaga chiqarib o‘quvchilar javobini eshitish ham yaxshi natija beradi.

Doskaga chaqirilganlarning javobini eshitishga kelganda ish boshqacha; ularning javoblarini butun sinf o‘quvchilari eshitishi kerak. Sinf o‘quvchilarini bu vaqtda doskadagi o‘quvchilar javoblarini eshitishga jalb qilish kerak. Chaqirilgan o‘quvchilar javob bergandan keyin boshqa o‘quvchilarga qo‘shimcha qilishga, tuzatishlar berishga, o‘z fikrlarini aytishga imkon beriladi. Bu savolga to‘la va to‘g‘ri javob olingandan keyin o‘qituvchi shu o‘quvchining o‘ziga endi uzoq tayyorlanishni talab etmaydigan va ilgari belgilab qo‘yilgan savollarini berishi mumkin.

Ba‘zi o‘quvchilarning javob beruvchi o‘quvchiga shu mavzuga doir qo‘shimcha savollar berishiga yo‘l qo‘yiladi. Bu, o‘quvchilarni shu mavzuga doir hamma materialni xotirlashga majbur qiladi. Ammo o‘quvchilarni muhim savollar berishga o‘rgatish lozim, buning uchun esa o‘qituvchi mavzuni o‘rganish vaqtida o‘rganiladigan materialning eng kerakli va muhim tomonlarini ajratib ko‘rsata bilishi kerak bo‘ladi.

Har holda, so‘rash usulidan qat‘i nazar, o‘qituvchi, birinchidan, so‘raladigan materialni ilgari belgilab qo‘yishi, savollarning qay tarzda berilishini puxta o‘ylashi, masala yechilishining yoki isbotning qanday borishi kerakligini ham oldindan o‘ylab qo‘yishi lozimdir. Shundagina o‘tilgan mavzu bo‘yicha o‘quvchilarni olgan bilimlari sifatli bo‘ladi.

O‘quvchilar bilimini tekshirishni yana bir usuli bu o‘qituvchi tomonidan o‘tilayotgan mavzuga va takrorlashga doir savollar yozilgan kartochkalarni oldindan tayyorlab qo‘yishdir. Bunday kartochkalar doskaga chiqarilgan 2-3 o‘quvchiga beriladi va tayyorgarlik (javobni o‘ylash, doskada kerakli yozuvlarni yozish) uchun 8-10 minut vaqt ko‘rsatiladi.

Ular tayyorlanayotganda o‘qituvchi sinf bilan suhbat o‘tkazadi yoki butun sinfga kichikina mustaqil ish beradi. Doskaga chiqarilgan o‘quvchilar o‘z javoblarini to‘la bayon etganda o‘quvchilar quloq soladi va ularga har bir

savolning javobidan keyin qo'shimcha qilishga imkon beriladi. O'qituvchi o'quvchilarning javoblarini reyting asosida ballar bilan baholab boradi.

So'rash usuli qanday bo'lishidan qat'i nazar, unga nisbatan ba'zi majburiy talablar qo'yishga to'g'ri keladi. Bu talablar quyidagilardan iboratdir.

a) ma'lum maqsadni ko'zda tutish kerak. Bu maqsad ba'zi o'quvchilarga aniq bo'lmasligi mumkin, ammo o'qituvchi uni ochiq-oydin tasavvur qilishi shart;

b) mavzuning asosiy qoidalarini takrorlashga va mustahkamlashga yordam berishi hamda teoremlar, o'rganilgan qonunlar va bajariladigan shakl o'zgartirishlar orasidagi bog'lanishni aniqlashga, fazoviy tasavvurlarni kengaytirishga, mantiqiy fikrlashni o'stirishga, o'z fikrini to'g'ri va chiroyli nutq bilan bayon etishga yordam berishi kerak;

v) berilgan savolni tezlik bilan o'qib olish va qisqa, aniq javob bera olish qobiliyatini o'quvchilarda tarbiyalashi kerak;

g) teorema yo qonunlarning aytilishiga o'tkir diqqat eta bilishga, javobning, yozuvlarning va chizmalarning to'g'riligini va tugalligini baholay bilishga, qo'shimcha va tuzatishlar bera bilishga o'rgatishi kerak;

d) so'rashda o'qituvchi beradigan savollar oz vaqt talab qiladigan, ravon, mazmunli bo'lishi shart.

Yozma tekshirish ishlari (yozma ish, test nazorat ishlari) qisqa vaqtga –10-12 minutga mo'ljallab, ba'zilar esa ko'proq vaqtga –1-2 soatga mo'ljallab berilishi mumkin. Qisqa vaqtga mo'ljallangan yozma ishlarni darsning ikkinchi yarmida berish qulayroq va bunda ko'proq o'quvchilarning har xil hisoblashlarni tez bajara olishlarini tekshirish, ayniy shakl o'zgartirishlarni bajara bilishini tayyor tenglamalarni tez yecha bilishini, geometrik figuralarning xossalarini aytib bera olishlarini tekshirishlar ko'zda tutilgan bo'lishi kerak.

## **V-BOBNI TAKRORLASH UCHUN SAVOLLAR.**

1. Matematika darsining tuzilishini gapirib bering.
2. Matematika darsini tashkil qilish qanday amalga oshiriladi?
3. Yangi mavzuni tushuntirish qanday usullar bilan amalga oshiriladi?
4. Yangi mavzu mustahkamlash deganda nimani tushunasiz?
5. O'quvchilarning bilimlarini tekshirish qanday usullar orqali amalga oshiriladi?
6. O'quv materialini takrorlash turlarini aytib bering.

7. Yakuniy takrorlash bilan tematik takrorlashni farqlarini aytib bering.
8. O'qituvchini matematika darsiga tayyorgarlik ko'rishini aytib bering.
9. Matematika darsiga qo'yilgan talablarni aytib bering.
10. Matematika darsining tahlilini tushuntiring.
11. O'quvchilar bilimlarini tekshirish usullarini aytib bering.
12. Yozma ish deganda nimani tushunasiz?

### **TAYANCH IBORALAR.**

Matematika darsi, darsning tuzilishi, yangi mavzu, darsni mustahkamlash, takrorlash turlari, darsga tayyorgarlik, ishchi reja, matematika dasturi, darsga qo'yilgan talab, dars tahlili, bilimlarni tekshirish, yozma ish, reyting nazorati.

## VI BOB.

### SON TUSHUNCHALARINI KIRITISH, UNI KENGAYTIRISH VA SONLAR USTIDA AMALLAR BAJARISH METODIKASI.

---

#### 1-§. Natural son tushunchasini kiritish va ular ustida amallar bajarish metodikasi.

Eramizdan avvalgi asrlarda yashagan insonlar tirikchilik uchun har xil qushlar, kiyiklar va boshqa jonivorlarni ovlash bilan kun kechirganlar. Ana shu ovlangan kiyiklarni, umuman olganda jonivorlar sonini dastlab qo'l va oyoq barmoqlari bilan ko'rsatib tushuntirishga odatlanganlar. Agar ovlangan jonivorlar soni ikkala qo'l barmoqlari sonidan ko'p bo'lsa, ularni hisoblash uchun oyoq barmoqlaridan ham foydalanganlar. Vaqt o'tishi bilan kishilarning ongi ham ana shu davrga nisbatan shakllana borgan, Har xil xo'jalik ishlarini bajarish jarayonidagi hisoblarga oyoq va qo'l barmoqlarining soni javob berolmay qolgan, natijada ular hisoblash ishlarini bajarishda tayoqchalardan foydalanganlar. Ana shu qo'l va oyoq barmoqlari hamda ishlatilgan tayoqchalarni sanash natijasida bir, ikki, uch, to'rt va hokazo sonlar hosil qilingan. Masalan, bitta qush, ikkita kiyik, uchta yo'lbars va hokazo. Yuqoridagi mulohazalardan ko'rinadiki, son - bu odamlar sanash natijasida narsalarning miqdoriy qiymatlarini ifoda qiluvchi tushuncha ekan. Sonlar raqamlar bilan belgilanadi, bizning sanoq sistema o'nlik sistema bo'lganligi uchun u to'qqizta qiymatli va bitta qiymatsiz raqam bilan belgilanadi: 0, 1, 2, 3, 4, 5, 6, 7, 8, 9.

Matematika kursida 1, 2, 3, ... qatorni *natural sonlar qatori*, deb ataladi. Natural sonlar to'plami quyidagi xossalarga ega:

1. Natural sonlar to'plamining birinchi elementi 1 ga teng.
2. Natural sonlar to'plamida ixtiyoriy natural sondan keyin keladigan va undan bitta ortiq bo'lgan birgina natural son mavjuddir.
3. Natural sonlar to'plamida 1 sonidan boshqa har bir natural sondan bitta kam bo'lgan va bu sondan oldin keladigan birgina natural son mavjuddir.

Boshlang'ich sinf matematika kursida natural sonlar to'plami haqidagi eng sodda tushunchalar o'quvchilarda shakllantiriladi. IV sinfda esa koordinata tekisligi va nur tushunchalari kiritilganidan keyin natural sonlar to'plamining geometrik tasviri ko'rsatiladi.

Har bir natural songa koordinata nurning bitta nuqtasi mos kelishini o'qituvchi ko'rgazmali qurollar yordamida tushuntirishi lozim. Shundan keyin o'quvchilarga natural sonlarni og'zaki va yozma nomerlash ishlari o'rgatiladi. Buning natijasida o'quvchilar natural sonlarni o'qish va yozishni o'rganadilar.

1. Sanash vaqtida birinchi o'nta sonning har biriga alohida nom beriladi.

2. Sanoq birliklari gruppalariga shunday birlashtiriladiki, buning natijasida bir xil o'nta birligidan yangi ikkinchi xona birligi, ikkinchi xonaning o'nta birligidan yangi uchinchi sanoq birligi va hokazolar tuziladi.

3. Ikkinchi xonadan boshlab har bir xona birligi shu xonadan bevosita quyi xonaning o'nta birligidan tuzilgani uchun bizning sanoq sistemamiz o'nlik sanoq sistemasi deb ataladi. 10 soni esa sanoq sistemasining asosi deb ataladi.

4. Turli xonalardan iborat bo'lgan sonlarning har uchtasining birliklarini birlashtirib sinflar tuziladi. Dastlabki to'rtta xona birliklariga alohida nomlar beriladi, ya'ni bulardan to'rtinchi xona birligi ming, ikkinchi sinf birligi deb qaraladi va undan xuddi asosiy birliklardan tuzilgan kabi, navbatdagi birliklar tuziladi. Ikkinchi sinfning mingta birligi uchinchi sinfning birligi - millionni tashkil etadi va hokazo.

5. Sonlarni yozish uchun 10 ta raqam ishlatiladi, noldan boshqa hamma raqamlar *qiymatli raqamlar* hisoblanadi.

6. Qiymatli raqamlarning qiymati ularning sondagi o'rniga qarab o'zgaradi. Bundan keyin o'qituvchi o'quvchilarga natural sonlarni qo'shish va ayrishni hamda ko'paytirish va bo'lishni kundalik hayotda uchraydigan misollar asosida o'rgatishi maqsadga muvofiqdir.

Masalan, Odiljon 35 ta ko'chat ekdi, Qobiljon esa 30 ta ko'chat ekdi. Ularning ikkalasi birgalikda necha to'p ko'chat ekishgan?  $30 + 35 = 65$  ta

Ikkita natural sonni qo'shish natijasida yangi bir natural son hosil bo'ldi, uni shu sonlarning yig'indisi deyiladi. 30 va 35 sonlari *qo'shiluvchilar*, 65 soni *yig'indi* deb ataladi. Shu fikrlar o'quvchilarga o'rgatiladi, so'ngra qo'shish amaliga ta'rif beriladi.

**Ta'rif.** *Ikki sonning yig'indisini topish amaliga qo'shish deb ataladi.*

Natural sonlarni qo'shish yana quyidagicha usul bilan tushuntirilishi mumkin.

1, 2, 3, 4, 5, 6, 7, 8, 9, 10, 11, ... natural sonlar to'plamini doskaga yozib, unda 4 sonini belgilaymiz, so'ngra ana shu 4 sonidan unga qarab 6 ta sonini sanaymiz, natijada 10 soni hosil bo'ladi. Demak  $4+6=10$  bo'lar ekan.  $6+4=10$  bo'lishini ham yuqoridagidek tushuntirish mumkin. 1, 2, 3, 4, 5, 6, 7, 8, 9, 10, 11 ... natural sonlar

to'plamida 6 sonini belgilab, undan o'ngga qarab 4 ta sonni sanaymiz, natijada 10 soni hosil bo'ladi, demak, bundan quyidagi xulosa kelib chiqadi  $a + b = b + a$ . Bu tenglikdan qo'shish amaliga nisbatan quyidagi qoidani ifoda qilish mumkin.

**Q o i d a.** *Qo'shuvchilarning o'rni almashgani bilan yig'indining qiymati o'zgarmaydi, ya'ni  $a + b = b + a$ .*

Biz qo'shiluvchilar sonini uchta olganimizda ham yuqoridagi qoida o'rinli bo'lib,  $(a+b)+c=(a+c)+b$  tenglik hosil bo'ladi, bu esa qo'shish amaliga nisbatan gruppalash qoidasini ifodalaydi.

Endi natural sonlarni ayirishni qaraymiz. Natural sonlarda ayirish amalini o'rgatish uchun quyidagidek masalalarni qarash mumkin. Taqsimchada 20 dona konfet bor edi. Fozil shu konfetdan 6 donasini yeb qo'ydi. Tarelkada necha dona konfet qoldi? Bu masalani yechish uchun biz shunday noma'lum  $x$  sonini topishimiz kerakki, bunda  $6 + x = 20$  tenglik o'rinli bo'lishi kerak. Bu hosil qilingan tenglikni o'qiydigan bo'lsak, birinchi qo'shiluvchi va yig'indi ma'lum bo'lib, ikkinchi qo'shiluvchi esa noma'lumdir.

**Q o i d a.** *Qo'shiluvchilardan biri va yig'indi ma'lum bo'lganda ikkinchi qo'shiluvchi noma'lum sonni topish amaliga ayirish deb ataladi.*

$$x = 20 - 6. \quad x = 14.$$

Agar biz umumiy holda  $a + x = b$  desak, bundan  $x = b - a$  hosil bo'ladi. bu yerda  $x$  - ayirma,  $b$  - kamayuvchi,  $a$  - ayiriluvchi deb yuritiladi.

Ayirish amalini o'quvchilarga yana quyidagicha tushuntirish mumkin. Masalan, 20 sonidan 6 sonini ayirish kerak bo'lsin. Buning uchun 1, 2, 3, 4, 5, 6, 7, 8, 9, 10, 11, 12, 13, 14, 15, 16, 17, 18, 19, 20, 21 ... natural sonlar qatorini doskaga yozib, 20 sonini belgilaymiz va undan chapga qarab oltita sonni belgilaymiz, natijada 14 soni hosil bo'ladi, bu degan so'z  $20 - 6 = 14$  deganidir deb o'quvchilarga tushuntiramiz. Bu yerda 20 soni kamayuvchi, 6 soni ayiriluvchi, 14-soni esa ayirma deb ataladi.

**Masala.** 5 ta tokchanning har biriga 16 ta donadan kitob terilgan bo'lsa, hammasi bo'lib qancha kitob terilgan?

Bu masalani yechish uchun qo'shish amalidan bunday foydalanamiz.  $16+16+16+16+16=80$  yoki bu tenglikni  $16 \cdot 5=80$  ko'rinishda ham yozish mumkin: bunda javoblarning bir xil bo'lganligini o'qituvchi o'quvchilarga tushuntirishi lozim. Bu yerda 16 va 5 sonlari *ko'paytuvchilar*, 80 soni esa *ko'paytma* deb yuritiladi.



**Ta'rif.** Qo'shiluvchilari o'zaro teng bo'lgan sonlarning yig'indisini topish amaliga ko'paytirish deyiladi va u bunday yoziladi:

$$\underbrace{a + a + \dots + a}_{b} = a \cdot b = c$$

$a$  va  $b$  sonlari ko'paytuvchilar,  $c$  esa ko'paytma deb yuritiladi.

Yuqoridagi ma'lumotlardan keyin ko'paytirish amaliga nisbatan o'rinli bo'lgan quyidagi uch qonunni ko'rsatish lozim.

1. Ko'paytirish amaliga nisbatan o'rin almashtirish (komutativlik) qonuni o'rinli.

$$a \cdot b = c \text{ bo'lsa, } b \cdot a = c \text{ bo'ladi.}$$

2. Ko'paytirish amaliga nisbatan tarqatish (distributivlik) qonuni o'rinli.

$$a(b + c) = ab + ac$$

Bu qonunni bunday tushuntirish mumkin.

$$(b + c) \cdot a = \underbrace{(b + c) + (b + c) + \dots + (b + c)}_a = ab + ac$$

3. Ko'paytirish amaliga nisbatan gruppalash (assotsiativ) qonuni o'rinli ( $a \cdot b$ )  $\cdot$   $c = a \cdot (b \cdot c)$ , bu tenglikni quyidagicha tushuntirish mumkin,

$$(a \cdot b) \cdot c = \underbrace{a + a + \dots + a}_{b} \cdot c = a \cdot (b \cdot c)$$

Bu tenglikni quyidagicha izohlash mumkin. Har bir qatorda  $b$  tadan qo'shiluvchi  $b \cdot c$  bo'lib har bir qo'shiluvchi  $a$  ga teng, ya'ni  $(b \cdot c) \cdot a$  deb yozish mumkin.

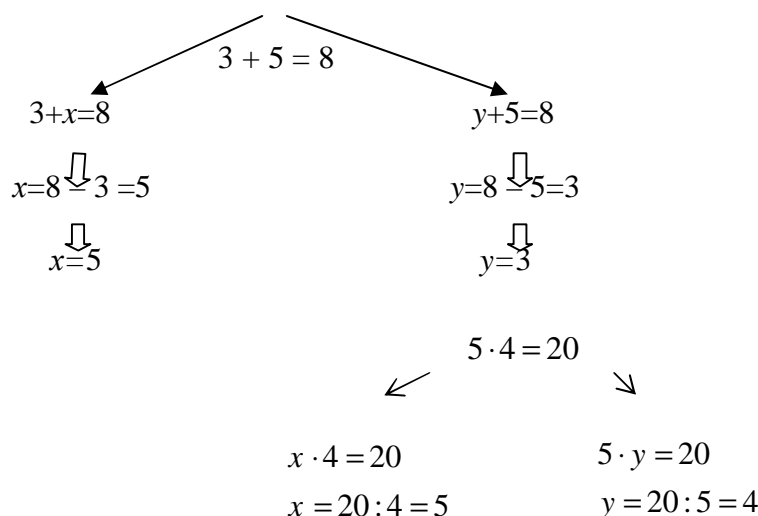
4. Omborga 5 yashikda 625 kg olma keltiridi. Har yashikda necha kilogrammdan olma bo'lgan? Bu masalani yechish uchun biz shunday  $x$  sonini topishimiz kerakki,  $x = 625 : 5$  bo'lsin. Bunday son 125 bo'ladi.

Ana shu 125 sonini hosil qilish uchun bo'lishni, ya'ni  $x = 625 : 5$  amalni bajariladi, bu amal bo'lish deb yuritiladi.

**Ta'rif.** Ko'paytuvchi sonlardan biri va ko'paytma son ma'lum bo'lganda, ikkinchi ko'paytuvchi sonni topish amaliga bo'lish deyiladi va u quyidagicha yoziladi  $a \cdot x = c$ ,  $x = c : a$ ,  $x$  - bo'linma,  $c$  - bo'linuvchi,  $a$  - bo'luvchi deb yuritiladi. Yuqoridagi misolda esa 625 - bo'linuvchi, 5 - bo'luvchi,  $x$  - bo'linma deb ataladi.

Har qanday natural sonni 0 soniga bo'lish mumkin emas, chunki  $0 \cdot x = c$  tenglikni qanoatlantiradigan  $x$  sonini topish mumkin emas. Demak,  $x = x : 0$  tenglikning bo'lishi mumkin emas.

Bizga ma'lumki, qo'shish amaliga nisbatan qarama-qarshi amal ayirishni va bu ko'paytirishga nisbatan teskari amal bo'lishni quyidagi sxema orqali ko'rsatish ham mumkin:



Bu sxemani jadval tarzida ham berish mumkin.

To'g'ri amallar	qarama-qarshi amal
qo'shish	Ayirish
$3 + 5 = 8$	1. $8 - 3 = 5$ 2. $8 - 5 = 3$
ko'paytirish	Teskari amal bo'lish
$5 \times 4 = 20$	1. $20 : 4 = 5$ 2. $20 : 5 = 4$

## 2-§. Natural sonlar to'plamini kengaytirish.

Bu mavzuni tushuntirish jarayonida o'qituvchi o'quvchilarga koordinata nurining har bir nuqtasiga bittadan natural son mos kelmasligini, ya'ni koordinata nuridagi nuqtalar to'plamini ortib qolishini ko'rgazmali asosda tushuntirishi lozimdir. Bu mulohazaga ko'ra natural sonlar to'plamini yanada kengaytirish va natijada yangi sonlar to'plamini hosil qilish ehtiyoji zarur ekanligini o'qituvchi yana bir marta o'quvchilarga tushuntirishi lozim. Bundan tashqari o'qituvchi natural sonlar to'plamida har doim qo'shish va ko'paytirish amallarini bajarish mumkin, ammo ayirish va bo'lish amallarini har doim ham bajarish mumkin emasligini misollar yordamida ko'rsatish kerak.

Masalan,  $5 + 3 = 8$ ,  $2 \cdot 7 = 14$ . Bu yerda hosil qilingan 8 yig'indi va ko'paytma 14 sonlar natural sonlar to'plamida mavjuddir, ammo  $3 - 5$  ayirmada

chiqadigan - 2 soni natural sonlar to'plamida mavjud emas, bu natural sonlar to'plamida har doim ham ayirish amalini bajarish mumkin emas degan so'zdir. Umuman olganda natural sonlar to'plamida  $X + M = P$  ko'rinishdagi tenglama  $P=M$  bo'lgan holda yechimga ega emas.  $X+M=P$  tenglama yechimi  $X = P - M$   $P \leq M$  bo'lganda ham o'rinli bo'lishi uchun 0 soni va barcha butun manfiy sonlar to'plami degan tushuncha kerakdir, shuning uchun ham natural sonlar to'plamini kengaytirish orqali boshqa yangi sonlar to'plamini hosil qilish g'oyasi kelib chiqadi.

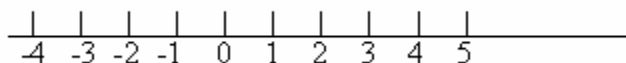
### 3-§. Butun sonlar va ular bilan to'rt amalni bajarish metodikasi

5 - sinfda "Koordinata to'g'ri chizig'i" nomli mavzu o'tiladi, ana shu mavzuni o'tish uchun sanoq boshi degan tushuncha kiritilgan bo'lib, shu sanoq boshi nomli nuqtani 0 (nol) soni bilan belgilangan.

0 so'zi lotincha nollrse - so'zidan olingan bo'lib "hech qanday qiymatga ega bo'lmagan" degan ma'noni bildiradi. Nol soni natural sonlar to'plamiga kirmaydigan qiymatsiz son hisoblanadi. Matematikadan bo'sh to'plam tushunchasini ham 0 soni bilan ifodalanadi.

To'g'ri chiziqdagi sanoq boshi deb ataluvchi 0 nuqtadan unga 1, 2, 3 sonlari, chapga esa -1, -2, -3, ... sonlarni yozish va chapdagi sonlarni "minus bir", "minus ikki", "minus uch" ... deb o'qishga kelishilgan. 0 soni to'g'ri chiziqda musbat va manfiy sonlarni ajratib turadi. 0 sonidan o'ng tomonidagi natural sonlarni butun musbat sonlar, chap tomondagi sonlarni esa butun manfiy sonlar deb ataladi. Yuqoridagi mulohazalarga ko'ra butun sonlar to'plamiga quyidagicha ta'rif berish mumkin.

**Ta'rif.** Barcha natural, butun manfiy va nol sonlari birgalikda butun sonlar to'plami deyiladi (16-chizma).



16-Chizma.

Bu yerda natural sonlarga nisbatan qarama-qarshi sonlar barcha butun manfiy sonlardir, masalan, 1 va - 1, 2 va -2, 3 va -3, -.... qarama-qarshi sonlar barcha butun manfiy sonlardir;

Butun sonlar to'plamida faqatgina 0 soniga nisbatan qarama-qarshi bo'lgan son yo'qdir:

$$0 = 0 + 0$$

Maktab matematika kursida manfiy son tushunchasi kiritilganidan keyin sonning moduli tushunchasi ham kiritiladi.

**Ta'rif.** Musbat sonning moduli o'ziga teng.

$$|a| = a. |5| = 5.$$

**Ta'rif.** Manfiy sonning moduli o'ziga qarama-qarshi songa teng.

$$|-a| = a. |-5| = 5.$$

Butun sonlar bilan to'rt amalning bajarilishini ko'rib chiqaylik.

1. Butun sonlar bilan qo'shish amali quyidagicha bajariladi, masalan 3 soniga 2 sonini qo'shaylik (17-chizma).



17-Chizma.



18-Chizma.

Butun sonlar qatorida 3 sonini belgilab, undan o'ngga qarab ikkita sonni sanaymiz. Natijada 5 soni hosil bo'ladi, demak,  $3 + 2 = 5$

2. -2 soniga -3 sonini qo'shing (18-chizma).

Butun sonlar to'plamidan -2 sonini belgilab, undan chapga qarab uchta sonni sanaymiz, natijada -5 soni hosil bo'ladi, demak,  $(-2) + (-3) = -5$

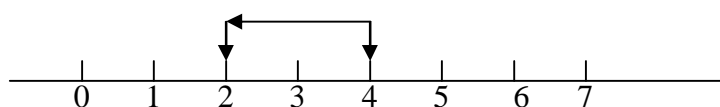
**Q o i d a.**

*Bir xil ishoradagi butun sonlarni o'zaro qo'shish uchun ularning modullarini o'zaro qo'shib yig'indi son oldiga qo'shiluvchilar oldidagi ishora qo'yiladi.*

Masalan.  $5 + 4 = + (5 + 4) = +9 = 9$

$$(-3) + (-2) = -(3 + 2) = -5$$

3. 4 soniga -2 sonini qo'shing. Buning uchun butun sonlar qatorida 4 sonini belgilab, undan chapga qarab ikkita sonni sanaymiz, hosil bo'lgan son izlanayotgan son bo'ladi (19-chizma)



19-Chizma.

**Q o i d a.** *Ishoralari har xil bo'lgan butun sonlarni o'zaro qo'shish uchun ularning kattasini modulidan kichigini ayirib, katta son ishorasi qo'yiladi.*

$$1) 5 + (-3) = 5 - 3 = +2 = 2$$

$$2) (-8) + 3 = -(8 - 3) = -5.$$

Bu yerda  $|8| > 3$ , shuning uchun yig'indi son manfiy bo'ladi.

I. O'zaro qarama-qarshi sonlar yig'indisi esa nolga teng.

$$a + (-a) = 0$$

Masalan,  $5 + (-5) = 0$

II. Butun sonlar ustida ayirish amali quyidagicha bajariladi. Bir butun sondan ikkinchi butun sonni ayirish uchun kamayuvchiga ayiriluvchiga qarama-qarshi sonni qo'shish kerak, ya'ni  $(a-b)+b=a$ .

$$1) 25 - 9 = 16; \quad 2) -15 - 30 = -15 + (-30) = -45;$$

$$3) -12 - (-13) = -12 + 13 = 1.$$

1. Har xil ishorali ikkita butun sonni ko'paytirish uchun bu sonlarning modulini ko'paytirish va hosil bo'lgan son oldiga "minus" ishorasini qo'yish kerak:

$$a(-b) = -(ab) = -ab, \quad 2\checkmark(-3) = -(2\checkmark3) = -6,$$

2. Ikkita butun manfiy conni o'zaro ko'paytirish uchun ularning modullarini o'zaro ko'paytirish kerak:

$$(-a)\checkmark(-b) = a\checkmark b.$$

$$(-5)\checkmark(-3) = 5\checkmark3 = 15.$$

3. Agar ko'paytuvchilardan biri nolga teng bo'lsa, u holda ko'paytma nolga teng bo'ladi:

$$a \checkmark 0 = 0 \checkmark a = 0$$

IV. Butun sonlarni bo'lish amali quyidagicha bajariladi.

1. Butun manfiy sonni manfiy conga bo'lish uchun bo'linuvchining modulini bo'luvchining moduliga bo'lish kerak:

$$(-a) : (-b) = | -a | : | -b | = a : b;$$

$$(-81) : (-3) = | -81 | : | -3 | = 81 : 3 = 27$$

2. Har xil ishorali ikkita butun sonni o'zaro bo'lish uchun bo'linuvchining modulini bo'luvchining moduliga bo'lish va hosil bo'lgan sonning oldiga "minus" ishorasini qo'yish kerak:

$$(-a) : b = | -a | : b = -\frac{a}{b} \quad (-15) : 3 = | -15 | : 3 = -5$$

3. Nolni nolga teng bo'lmagan har qanday butun songa bo'lishda nol soni hosil bo'ladi:

$$0 : a = 0$$

4. Ixtiyoriy butun sonni nol soniga bo'lish mumkin emas:

$$a : 0 = \text{ma'nosizlik}$$

#### 4-§. Kasr son tushunchasini kiritish va uni o'rgatish metodikasi

Butun sonlar to'plamida har doim qo'shish, ayirish, ko'paytirish amallarini bajarish o'rindir, lekin bo'lish amali har doim bajarilavermaydi. Chunki bir butun sonni ikkinchi butun songa bo'lganda har doim bo'linmada butun son hosil bo'lavermaydi.

Masalan,  $7:2 = 3.5$ ,  $9:4 = 2\frac{1}{4}$ , ... Bu erda hosil qilingan bo'linmadagi  $3,5$ ;  $2\frac{1}{4}$ , ... sonlari butun sonlar to'plamida mavjud emas. Umuman olganda  $m\dot{x}=n$ ,  $m \neq 0$  ko'rinishdagi tenglamaning yechimi butun sonlar to'plamida har doim mavjud emas, bu tenglama har doim  $x = \frac{n}{m}$  ko'rinishdagi yechimga ega bo'lishi uchun kasr tushunchasini kiritish orqali butun sonlar to'plamini kengaytirib, unga barcha manfiy va musbat kasr sonlarni qo'shish kerak. Bu degan so'z  $\left\{-\frac{p}{q}, 0, \frac{p}{q}\right\}$  ko'rinishdagi ratsional sonlar to'plamini hosil qilish kerak deganidir. Shundagina  $mx=n$  ko'rinishdagi tenglamalar har doim yechimga ega bo'ladi. Bu yerda  $p$  va  $q$  lar natural sonlardir. Yuqoridagi mulohazalarga ko'ra ratsional songa quyidagicha ta'rif berish mumkin:  $\frac{p}{q}$  ko'rinishdagi qisqarmas kasrga ratsional son deyiladi.

Endi kasr tushunchasini kiritish uchun foydalaniladigan misollarni ko'rib o'taylik.

Agar bir metr uzunlikdagi yog'ochni o'zaro teng ikki bo'lakga bo'linsa, u holda bo'laklarning har birining uzunligi ana shu yog'och uzunligining yarmiga teng bo'ladi va uni  $\frac{1}{2}$  kabi yoziladi. Agar ana shu bir metr uzunlikdagi yog'ochni o'zaro teng uch bo'lakka bo'linsa, u holda bo'laklardan har birining uzunligi shu

yog'och uzunligining uchdan biriga teng bo'ladi va uni  $\frac{1}{3}$  kabi yoziladi. Xuddi

shuningdek,  $\frac{1}{4}, \frac{1}{5}, \frac{1}{6} \dots$

Agar bir metr uzunlikdagi yog'ochni teng uch bo'lakka bo'lib, undan ikki qismini oladigan bo'lsak, olingan uzunligini  $\frac{2}{3}$  kabi yoziladi.

Agar ana shu yog'ochni to'rt bo'lakga bo'lib, undan uch qismini olsak, olingan qism uzunligini  $\frac{3}{4}$  kabi ifodalanadi. Yuqorida qilingan mulohazalarga asoslanib kasr tushunchasining ta'rifini quyidagicha berish mumkin.

**T a ' r i f.** *Butun sonning o'zaro teng bo'lgan ma'lum bir ulushi, shu sonning kasri deyiladi.*

Yuqorida  $\frac{1}{2}, \frac{1}{3}, \frac{2}{3}, \frac{3}{4}$  kasr sonlarni hosil qildik. Berilgan narsalarni yoki butun sonni qancha teng qismga bo'linganligini ko'rsatuvchi sonni kasrning *maxraji*, shunday qismdan nechitasi olinganligini ko'rsatuvchi sonni kasrning *surati* deyiladi. Maxraj kasr chizig'ining ostida, surat esa kasr chizig'ining ustiga yoziladi.

Umumiy holda kasrni  $\frac{p}{q}$  ko'rinishda ifodalanadi. Bunda  $r$  - kasrning surati,  $q$  - kasrning maxraji deb yuritiladi.  $\frac{p}{q}$  ko'rinishdagi kasrlarga qarama-qarshi kasrlarni  $-\frac{p}{q}$  ko'rinishda ifodalanadi.

Koordinata o'qida  $-\frac{p}{q}$  ko'rinishdagi kasrlar nol sonidan chapda joylashgan bo'ladi. Biz butun sonlar to'plamini kengaytirish orqali  $-\frac{p}{q}$  va  $\frac{p}{q}$  ko'rinishdagi kasrlarni hosil qildik. Natijada koordinata o'qida  $\{-\frac{p}{q}, 0, \frac{p}{q}\}$  ko'rinishdagi sonlar to'plami hosil bo'ldi.

Bunday to'plam ***ratsional sonlar to'plami*** deb ataladi. Agar ratsional sonlar to'plamidagi  $-\frac{p}{q}$  va  $\frac{p}{q}$  kasrlarning maxrajlari  $q = 1$  desak, bizga ma'lum bo'lgan butun sonlar to'plami hosil bo'ladi. Bundan ko'rinadiki, butun sonlar ratsional sonlar to'plamining xususiy bir holi ekan. Ratsional sonlar to'plami bilan koordinata to'g'ri chizig'i nuqtalari orasida o'zaro bir qiymatli moslik o'rnatish mumkinmi, degan savol tug'ilishi tabiiydir. Bu savolga quyidagicha javob berishimiz mumkin, aksincha, har bir nuqtaga bittadan ratsional soni mos keltirish mumkin emas.

Kasrlar uch xil bo'ladi:

1. To'g'ri kasrlar.
2. Noto'g'ri kasrlar.
3. O'nli kasrlar.

1. Agar kasrning surati uning maxrajidan kichik bo'lsa, bunday kasrlarni *to'g'ri kasrlar* deyiladi.

Masalan:  $\frac{1}{2}, \frac{3}{4}, \frac{1}{6} \dots$

2. Agar kasrning surati uning maxrajidan katta bo'lsa, bunday kasrlarni *noto'g'ri kasrlar* deyiladi. Masalan,  $\frac{5}{2}, \frac{7}{4}, \frac{17}{5} \dots$

3. Agar kasrning maxraji bir va nol sonlaridan iborat bo'lsa, bunday kasrlarni *o'nli kasrlar* deyiladi. Masalan,  $\frac{1}{10}=0,1; \frac{1}{100}=0,01; \dots$

Kasr tushunchasi kiritilganidan keyin kasrlarning tengligi tushunchasi kiritiladi. Bu tushunchani o'quvchilarga quyidagicha tushuntirish mumkin.

Faraz qilaylik, bizga bir metr uzunlikdagi kesma berilgan bo'lsin. Agar shu kesmani teng ikkiga bo'lsak, har bir kesmaning uzunligi  $\frac{1}{2}$  kabi kasr bilan ifodalanadi. Endi bo'lingan har bir kesmani yana ikkiga bo'lsak har bir kesmaning uzunligi  $\frac{1}{4}$  kasr bilan ifodalanadi. Ana shu teng to'rtga bo'lingan kesmalardan ikkitasining uzunligi  $\frac{2}{4}$  kasr bilan ifodalanadi. Bu esa butun kesma uzunligining teng ikkiga bo'lgandagi  $\frac{1}{2}$  kasr bilan ifodalangan qiymatiga tengdir. Shuning uchun  $\frac{1}{2} = \frac{2}{4} = \frac{4}{8} = \dots$ . Bundan ko'rinadiki,  $\frac{1}{2}$  va  $\frac{2}{4}$  kasrlarning qiymatlari teng bo'lib, ularni ifoda qilish har xildir.

O'quvchilarga kasrlarning tengligi tushunchasini tushuntirilganidan so'ng kasrning quyidagi xossalarini ifoda qilish mumkin.

**I - x o s s a.** Agar kasrning surat va maxrajini bir xil songa ko'paytirilsa, kasrning qiymati o'zgarmaydi.  $\frac{p}{q} = \frac{p \cdot n}{q \cdot n}$ . 1)  $\frac{2}{5} = \frac{2 \cdot 2}{5 \cdot 2} = \frac{4}{10}$ ;

2)  $\frac{3}{7} = \frac{3 \cdot 4}{7 \cdot 4} = \frac{12}{28}$ ; 3)  $1 = \frac{1}{1} = \frac{1 \cdot 4}{1 \cdot 4} = \frac{4}{4} = \frac{4 \cdot 25}{4 \cdot 25} = \frac{100}{100}$ .

**II - x o s s a.** Agar kasrning surat va maxrajini bir xil songa bo'linsa, kasrning qiymati o'zgarmaydi.  $\frac{p:n}{q:n} = \frac{p}{q}$  Bu erda  $n > 1$  bo'lishi kerak.

**Misollar** 1)  $\frac{4}{8} = \frac{4}{4 \cdot 2} = \frac{1}{2}$       2)  $\frac{15}{3} = \frac{3 \cdot 5}{3} = \frac{5}{1} = 5$

**III - x o s s a.** Agar kasrning surat va maxrajidagi sonlar umumiy bo'luvchilarga ega bo'lmasa, u holda bunday kasr qisqarmas kasr bo'ladi. Masalan  $\frac{5}{7}, \frac{4}{5}, \frac{17}{19}, \dots$  qisqarmas kasrlardir, chunki 5 va 7, 4 va 5, 17 va 19 sonlari o'zaro umumiy bo'luvchilarga ega emas.

## 5-§. Kasrlarni taqqoslash



1. Kasrlarni o'zaro taqqoslash uchun berilgan kasrlarni o'zaro bir xil maxrajli kasrlar holiga keltirish kerak, so'ngra ulardan qaysi birining surati katta bo'lsa, o'sha kasrning qiymati katta bo'ladi.

Masalan:  $\frac{3}{4}$  va  $\frac{2}{5}$ ;  $\frac{3 \cdot 5}{4 \cdot 5} = \frac{15}{20}$  va  $\frac{2 \cdot 4}{5 \cdot 4} = \frac{8}{20}$ ,  $\frac{15}{20} > \frac{8}{20}$ , shuning uchun  $\frac{3}{4} > \frac{2}{5}$ . Bu erda kasrning surati va uning maxrajini bir xil songa ko'paytirilsa, kasrning qiymati o'zgarmaydi degan xossadan foydalandik.

2. Suratlarini bir xil va maxrajlarini har xil bo'lgan kasrlardan qaysi birining maxraji katta bo'lsa, o'sha kasr kichik bo'ladi. Qaysi birining maxraji kichik bo'lsa, o'sha kasr katta bo'ladi.

Masalan:  $\frac{4}{15}$  va  $\frac{4}{21}$  lar uchun  $\frac{4}{15} > \frac{4}{21}$ .

## 6-§. Kasrlarni qo'shish

Faraz qilaylik, bizga AB kesma berilgan bo'lsin, biz uni teng ettiga bo'laylik, ulardan  $AC = \frac{1}{7}$ ,  $CD = \frac{3}{7}$ ,  $AD = \frac{4}{7}$  bo'lsin, u holda AD kesmaning qiymati AC va CD kesmalar uzunliklarining yig'indisiga teng bo'ladi, ya'ni  $AD = AC + CD$ . Shu bilan birga  $\frac{1}{7} + \frac{3}{7} = \frac{4}{7}$ . Yuqoridagi mulohazaga ko'ra quyidagi qoidani yozishimiz mumkin.

I. Maxrajlarini bir xil bo'lgan kasrlarni qo'shish uchun ularning suratlarini o'zaro qo'shib, maxrajlaridan bittasini yozish kifoya.

$$\frac{p}{q} + \frac{r}{q} = \frac{p+r}{q}; \quad \frac{3}{5} + \frac{1}{5} = \frac{3+1}{5} = \frac{4}{5}.$$

II. Maxrajlarini har xil bo'lgan kasrlarni qo'shish uchun ularni eng kichik umumiy maxrajga keltirib, bir xil maxrajli kasrlarni qo'shish qoidasidan foydalanib, qo'shish kifoya:

$$1) \quad \frac{2}{5} + \frac{3}{7} = \frac{2 \cdot 7}{5 \cdot 7} + \frac{3 \cdot 5}{7 \cdot 5} = \frac{14}{35} + \frac{15}{35} = \frac{14+15}{35} = \frac{29}{35};$$

$$2) \quad \frac{3}{4} + \frac{1}{6} = \frac{3 \cdot 6}{4 \cdot 6} + \frac{1 \cdot 4}{6 \cdot 4} = \frac{18}{24} + \frac{4}{24} = \frac{18+4}{24} = \frac{22}{24} = \frac{11}{12};$$

Umumiy holatda esa  $\frac{p}{q} + \frac{r}{s} = \frac{p \cdot s}{q \cdot s} + \frac{r \cdot q}{s \cdot q} = \frac{ps + rq}{sq}$ .

III. Yig'indida butun son chiqadigan kasrlarni qo'shish quyidagicha amalga oshiriladi:

$$1) \quad \frac{3}{4} + \frac{1}{4} = \frac{3+1}{4} = \frac{4}{4} = 1;$$

$$2) \quad \frac{1}{8} + \frac{7}{8} = \frac{1+7}{8} = \frac{8}{8} = 1;$$

$$3) \quad \frac{2}{4} + \frac{1}{2} = \frac{2}{4} + \frac{2 \cdot 1}{2 \cdot 2} = \frac{2+2}{4} = \frac{4}{4} = 1;$$

IV. Butun sonni kasrga qo'shish

$$1) 3 + \frac{1}{2} = 3\frac{1}{2};$$

$$2) 3 + \frac{1}{2} = \frac{3}{1} + \frac{1}{2} = \frac{3 \cdot 2}{1 \cdot 2} + \frac{1}{2} = \frac{6+1}{2} = \frac{7}{2} = 3\frac{1}{2};$$

V. Aralash sonni kasrga qo'shish

$$3\frac{3}{4} + \frac{1}{2} = 3 + \left(\frac{3}{4} + \frac{1}{2}\right) = 3 + \left(\frac{3}{4} + \frac{1 \cdot 2}{2 \cdot 2}\right) = 3 + \left(\frac{3}{4} + \frac{2}{4}\right) = 3 + \left(\frac{3+2}{4}\right) = 3 + \frac{5}{4} = 4 + \frac{1}{4} = 4\frac{1}{4}.$$

VI. Aralash sonni aralash songa qo'shish:

$$2\frac{1}{3} + 3\frac{1}{2} = (2+3) + \left[\frac{1}{3} + \frac{1}{2}\right] = 5 + \left[\frac{1 \cdot 2}{3 \cdot 2} + \frac{1 \cdot 3}{2 \cdot 3}\right] = 5 + \frac{2+3}{6} = 5 + \frac{5}{6} = 5\frac{5}{6}.$$

### Qo'shish qonunlari.

1. Kasr qo'shiluvchilarning o'rnini almashgani bilan yig'indi kasr sonning qiymati o'zgarmaydi :

$$\frac{a}{q} + \frac{b}{q} = \frac{a+b}{q} = \frac{b+a}{q} = \frac{b}{q} + \frac{a}{q}.$$

**Misol:**

$$\frac{3}{5} + \frac{1}{5} = \frac{3+1}{5} = \frac{1+3}{5} = \frac{1}{5} + \frac{3}{5}.$$

2. Kasr sonlarda qo'shish amaliga nisbatan gruppalash qonuni o'rinlidir:

$$\left(\frac{a}{q} + \frac{b}{q}\right) + \frac{c}{q} = \frac{a}{q} + \left(\frac{b}{q} + \frac{c}{q}\right)$$

**Isboti:**

$$\left(\frac{a}{q} + \frac{b}{q}\right) + \frac{c}{q} = \frac{a+b}{q} + \frac{c}{q} = \frac{(a+b)+c}{q} = \frac{c+(b+a)}{q} = \frac{a}{q} + \frac{b+c}{q} = \frac{a}{q} + \left(\frac{b}{q} + \frac{c}{q}\right)$$

**Misol:**

$$\frac{1}{7} + \frac{3}{5} + \frac{2}{7} = \left(\frac{1}{7} + \frac{2}{7}\right) + \frac{3}{5} = \frac{1+2}{7} + \frac{3}{5} = \frac{3}{7} + \frac{3}{5} = \frac{3 \cdot 5}{7 \cdot 5} + \frac{3 \cdot 7}{5 \cdot 7} = \frac{15+21}{35} = \frac{36}{35}.$$

## 7-§. Kasrlarni ayirish.

1) Faraz qilaylik, bizga AB kesma berilgan bo'lib, u teng 7 bo'lakka bo'lingan bo'lsin.

Ulardan  $AC = \frac{1}{7}$ ,  $CD = \frac{3}{7}$ ,  $AD = \frac{4}{7}$  larga teng bo'lsin.  $CD$  kesmaning qiymati  $CD = AD - AC$  bo'ladi, u holda  $\frac{4}{7} - \frac{1}{7} = \frac{3}{7}$  tenglik o'rinli.

2) Karim ikki mashinadagi yukni  $\frac{5}{7}$  soatda tushirdi. U birinchi mashinadagi yukni  $\frac{3}{7}$  soatda tushirib bo'ldi. Karim ikkinchi mashinadagi yukni necha soatda tushirgan?  $\frac{5}{7} - \frac{3}{7} = \frac{2}{7}$ . Topilgan natijani to'g'riligini tekshirish qo'shish amali orqali amalga oshiriladi:

$$\frac{2}{7} + \frac{3}{7} = \frac{2+3}{7} = \frac{5}{7}$$

Endi kasrlarni ayirish uchun chiqarilgan quyidagi qoidalarni ko'rib chiqamiz:

1. *Maxrajlari bir xil bo'lgan kasrlarni ayirish uchun ularning suratlarini o'zaro ayirib, maxrajlardan bittasini maxraj qilib yozish kifoya.*

$$1) \frac{3}{5} - \frac{1}{5} = \frac{3-1}{5} = \frac{2}{5}; \quad 2) \frac{4}{7} - \frac{3}{7} = \frac{4-3}{7} = \frac{1}{7};$$

2. Maxrajlari har xil bo'lgan kasrlarni ayirish uchun ularni eng kichik umumiy maxrajga keltirib, bir xil maxrajli kasrlarni ayirish qoidasidan foydalaniladi:

$$\frac{3}{4} - \frac{2}{7} = \frac{3 \cdot 7}{4 \cdot 7} - \frac{2 \cdot 4}{7 \cdot 4} = \frac{21-8}{28} = \frac{13}{28}.$$

Umumiy holda:

$$\frac{p}{q} - \frac{r}{s} = \frac{p \cdot s}{q \cdot s} - \frac{r \cdot q}{s \cdot q} = \frac{ps - rq}{sq}.$$

III. Butun sondan kasrni ayirish:

$$1\text{- usul. } 4 - \frac{2}{3} = \frac{4}{1} - \frac{2}{3} = \frac{4 \cdot 3}{1 \cdot 3} - \frac{2}{3} = \frac{12-2}{3} = \frac{10}{3}.$$

$$2\text{- usul } 4 - \frac{2}{3} = 3 + \left( \frac{3}{3} - \frac{2}{3} \right) = 3 + \left( \frac{3-2}{3} \right) = 3 + \frac{1}{3} = 3\frac{1}{3}.$$

IV. Kasrdan butun sonni ayirish:

$$\frac{3}{7} - 2 = - \left( 2 - \frac{3}{7} \right) = - \left( \frac{2 \cdot 7}{1 \cdot 7} - \frac{3}{7} \right) = - \left( \frac{14-3}{7} \right) = - \frac{14-3}{7} = - \frac{11}{7} = -1\frac{4}{7}.$$

V. Butun sondan aralash sonni ayirish:

$$5 - 2\frac{1}{4} = 4\frac{5}{5} - 2\frac{1}{4} = (4-2) + \left( \frac{5}{5} - \frac{1}{4} \right) = 2 + \left( \frac{5 \cdot 4}{5 \cdot 4} - \frac{1 \cdot 5}{4 \cdot 5} \right) = 2 + \frac{20-5}{20} = 2 + \frac{15}{20} = 2 + \frac{3}{4} = 2\frac{3}{4}.$$

VI. Aralash sondan butun sonni ayirish:

$$1) \quad 3\frac{3}{4} - 2 = (3-2) + \left( \frac{3}{4} - 0 \right) = 1 + \frac{3}{4} = 1\frac{3}{4}.$$

$$2) \quad 3\frac{3}{4} - 2 = \frac{15}{4} - \frac{2}{1} = \frac{15}{4} - \frac{2 \cdot 4}{1 \cdot 4} = \frac{15-8}{4} = \frac{7}{4} = 1\frac{3}{4}.$$

VII. 1 sonidan kasr sonni ayirish:

$$1 - \frac{3}{4} = \frac{1}{1} - \frac{3}{4} = \frac{1 \cdot 4}{1 \cdot 4} - \frac{3}{4} = \frac{4-3}{4} = \frac{1}{4}.$$

VIII. 1 sonidan aralash sonni ayirish:

1 - usul.

$$1 - 3\frac{1}{2} = - \left( 3\frac{1}{2} - 1 \right) = \left[ (3-1) + \left( \frac{1}{2} - 0 \right) \right] = - \left( 2 + \frac{1}{2} \right) = -2\frac{1}{2}.$$

$$2\text{- usul. } 1 - 3\frac{1}{2} = \frac{1}{1} - \frac{7}{2} = \frac{1 \cdot 2}{1 \cdot 2} - \frac{7}{2} = \frac{2-7}{2} = \frac{-5}{2} = -2\frac{1}{2}.$$

## 8-§. Kasrlarni ko'paytirish.

1. Kasrni butun songa ko'paytirish uchun shu butun sonni kasrning suratiga ko'paytirish kifoya:

$$1) \frac{5}{17} \cdot 3 = \frac{5 \cdot 3}{17} = \frac{15}{17}; \quad 2) \frac{2}{9} \cdot (-4) = \frac{2 \cdot (-4)}{9} = -\frac{8}{9}.$$

$\frac{5}{17} \cdot 3$ ,  $\frac{2}{9} \cdot (-4)$  ifodalarni quyidagicha yozish mumkin:

$$1) \frac{5}{17} \cdot 3 = \frac{5}{17} + \frac{5}{17} + \frac{5}{17} = \frac{5+5+5}{17} = \frac{15}{17};$$

$$2) \frac{2}{9} \cdot (-4) = -\frac{2}{9} \cdot 4 = -\frac{2}{9} - \frac{2}{9} - \frac{2}{9} - \frac{2}{9} = -\left(\frac{2}{9} + \frac{2}{9} + \frac{2}{9} + \frac{2}{9}\right) = -\frac{8}{9}.$$

2. Aralash sonni butun songa ko'paytirish uchun aralash sonni noto'g'ri kasrga aylantirib, butun sonni uning suratiga ko'paytirish kifoya:

$$1. a) 2\frac{1}{2} \cdot 3 = \frac{2 \cdot 2 + 1}{2} \cdot 3 = \frac{5}{2} \cdot 3 = \frac{5 \cdot 3}{2} = \frac{15}{2} = 7\frac{1}{2}.$$

$$b) 2\frac{1}{2} \cdot 3 = 2\frac{1}{2} + 2\frac{1}{2} + 2\frac{1}{2} = 6 + \left(\frac{1}{2} + \frac{1}{2} + \frac{1}{2}\right) = 6 + \left(\frac{1+1+1}{2}\right) = 6 + \frac{3}{2} = 7\frac{1}{2}.$$

$$2. a) 3\frac{3}{4}(-2) = \frac{3 \cdot 4 + 3}{4} \cdot (-2) = \frac{15}{4} \cdot (-2) = \frac{15 \cdot (-2)}{4} = -\frac{30}{4} = -\frac{15 \cdot 2}{2 \cdot 2} = -\frac{15}{2} = -7\frac{1}{2}.$$

$$b) 3\frac{3}{4}(-2) = -3\frac{3}{4} \cdot 2 = -3\frac{3}{4} + \left(-3\frac{3}{4}\right) = -\left(3\frac{3}{4} + 3\frac{3}{4}\right) = -\left(6 + \frac{3+3}{4}\right) = -\left(6 + \frac{6}{4}\right) = -7\frac{1}{2}.$$

3. Kasrni kasrga ko'paytirish uchun ularning suratlarini suratlariga va maxrajlarini maxrajlariga ko'paytirish kifoya:

$$\frac{p}{q} \cdot \frac{s}{r} = \frac{p \cdot s}{q \cdot r}.$$

**Misol:**

$$1) \frac{2}{7} \cdot \frac{5}{9} = \frac{2 \cdot 5}{7 \cdot 9} = \frac{10}{63}; \quad 2) \frac{7}{11} \cdot \frac{2}{5} = \frac{7 \cdot 2}{11 \cdot 5} = \frac{14}{55};$$

4. Aralash sonlarni o'zaro ko'paytirish uchun ularning har birini noto'g'ri kasrga aylantirib, suratlarini suratlariga va maxrajlarini maxrajlariga o'zaro ko'paytirish kifoya:

$$1) 2\frac{1}{3} \cdot 4\frac{2}{5} = \frac{7}{3} \cdot \frac{22}{5} = \frac{7 \cdot 22}{3 \cdot 5} = \frac{154}{15} = 10\frac{4}{15}.$$

$$2) 7\frac{2}{3} \cdot 2\frac{1}{2} = \frac{23}{3} \cdot \frac{5}{2} = \frac{23 \cdot 5}{3 \cdot 2} = \frac{115}{6} = 19\frac{1}{6}.$$

Kasrlarni ko'paytirish o'rin almashtirish, gruppalash va taqsimot qonunlariga bo'ysunadi.

1. Kasrlarni ko'paytirishda ko'paytuvchilarning o'rin almashgani bilan ko'paytmaning qiymati o'zgarmaydi:

$$1) \quad \frac{2}{3} \cdot \frac{4}{7} = \frac{2 \cdot 4}{3 \cdot 7} = \frac{8}{21};$$

$$2) \quad \frac{4}{7} \cdot \frac{2}{3} = \frac{4 \cdot 2}{7 \cdot 3} = \frac{8}{21}.$$

2. Kasrlarni ko'paytirishda ularni gruppalar ko'paytirilsa, ko'paytmaning qiymati o'zgarmaydi:

$$1) \quad \left(\frac{2}{3} \cdot \frac{4}{5}\right) \cdot \frac{3}{7} = \left(\frac{2 \cdot 4}{3 \cdot 5}\right) \cdot \frac{3}{7} = \frac{8}{15} \cdot \frac{3}{7} = \frac{24}{105}.$$

$$2) \quad \left(\frac{3}{7} \cdot \frac{2}{3}\right) \cdot \frac{4}{5} = \left(\frac{3 \cdot 2}{7 \cdot 3}\right) \cdot \frac{4}{5} = \frac{6}{21} \cdot \frac{4}{5} = \frac{6 \cdot 4}{21 \cdot 5} = \frac{24}{105}.$$

3. Kasrlarni ko'paytirishda ularga taqsimot qonunini tadbiiq qilinsa, ko'paytmaning qiymati o'zgarmaydi:

$$\left(\frac{a+b}{c}\right) \cdot \frac{p}{q} = \frac{(a+b)p}{cd} = \frac{ap+bp}{cd}.$$

M i s o l.

$$1) \quad \left(\frac{4+3}{9}\right) \cdot \frac{4}{5} = \frac{(4+3) \cdot 4}{9 \cdot 5} = \frac{4 \cdot 4 + 3 \cdot 4}{9 \cdot 5} = \frac{16+12}{45} = \frac{28}{45};$$

$$2) \quad \left(\frac{7+2}{11}\right) \cdot \frac{2}{3} = \frac{(7+2) \cdot 2}{11 \cdot 3} = \frac{7 \cdot 2 + 2 \cdot 2}{11 \cdot 3} = \frac{14+4}{11 \cdot 3} = \frac{18}{33};$$

### 9-§. Kasrlarni bo'lish.

5-sinf matematika kursida kasrlarni bo'lish mavzusi o'tiladi. Bizga butun sonlar mavzusidan ma'lumki, ikkita butun sonni o'zaro bo'lish uchun birinчисini ikkinchi sonning teskarisiga ko'paytirish kerak edi. Xuddi shuningdek, ikki kasr sonni ham o'zaro bo'lish uchun birinchi kasrni ikkinchi kasrning teskarisiga ko'paytirish kerak, ya'ni:  $\frac{15}{27} : \frac{2}{3} = \frac{15}{27} \cdot \frac{3}{2} = \frac{45}{54}$ . Bu qoidani quyidagi masala orqali o'quvchilarga tushuntirish maqsadga muvofiqdir.

**M a s a l a.**  $\frac{6}{7}$  bo'lagi (qismi) 30 ga teng bo'lgan sonni toping.

**Y e c h i s h.** Noma'lum sonni  $x$  bilan belgilasak, u holda masala shartini quyidagicha yozish mumkin:  $\frac{6}{7} \cdot x = 30$ , chunki sonning bo'lagi ko'paytirish amali yordamida topiladi. Bu tenglik bunday yechiladi:  $\frac{1}{7}x = 30 : 6 = 5$ . Bundan  $x = 5 \cdot 7 = 35$  bo'ladi, Demak, izlanayotgan son 35 ekan.

**M a s a l a.** Futbol maydoni yuzining  $\frac{3}{4}$  qismi o'yin o'ynash uchun tayyor holga keltirildi. Bu  $960 \text{ m}^2$  ni tashkil qiladi. Futbol maydonning yuzi kancha?

Ye ch i sh. Futbol maydonning yuzini  $x$  bilan belgilasak, shartga ko'ra bu maydonning  $\frac{3}{4}$  qismi  $960 \text{ m}^2$  edi, shuning uchun  $\frac{3}{4}x = 960$  tenglik o'rinli bo'ladi.  $x$  ni topish uchun tenglamaning ikkala qismini  $\frac{3}{4}$  ga bo'lish kerak. Demak,  $x=960: \frac{3}{4} = 960 \cdot \frac{4}{3} = 320 \cdot 4 = 1280 \text{ m}^2$ .

Futbol maydonining yuzi  $1280 \text{ m}^2$  ekan.

Berilgan kasrning qiymati bo'yicha sonning o'zini topishda ham sonning kasrni topishdek, turli hollarni ko'rib o'tish maqsadga muvofiqdir. Sonni kasrga bo'lish ta'rifi butun sonlarni bo'lish ta'rifidek ifodalanadi. Bu qoidani o'quvchilarga alohida ta'kidlab tushuntirish maqsadga muvofiqdir. Shundan keyin kasrlarni bo'lishga doir quyidagi hollarni ko'rib chiqish foydalidir.

1. Kasrni butun songa bo'lish uchun kasrni o'z holicha, butun sonni esa teskari yozib, ularni o'zaro ko'paytirish kifoya:

$$\frac{5}{7} : 4 = \frac{5}{7} \cdot \frac{1}{4} = \frac{5 \cdot 1}{7 \cdot 4} = \frac{5}{28}.$$

2. Aralash sonni butun songa bo'lish uchun aralash sonni noto'g'ri kasrga aylantirib, so'ngra bo'lish kasrni butun songa bo'lishdek bajariladi:

$$2\frac{5}{7} : 4 = \frac{19}{7} : 4 = \frac{19}{7} \cdot \frac{1}{4} = \frac{19}{28}.$$

3. Butun sonni aralash songa bo'lish uchun butun sonni o'z holicha yozib aralash sonni noto'g'ri kasrga aylantirib, ularni o'zaro ko'paytirish kerak.

$$4 : 1\frac{3}{5} = 4 : \frac{8}{5} = 4 \cdot \frac{5}{8} = \frac{20}{8} = 2\frac{4}{8} = 2\frac{1}{2}$$

4. Aralash sonni aralash songa bo'lish uchun ularning hap birini noto'g'ri kasrlarga aylantirib, so'ngra bo'lishni ikki kasrni o'zaro bo'lish qoidasiga ko'ra bajariladi:

$$2\frac{3}{5} : 3\frac{2}{7} = \frac{13}{5} : \frac{23}{7} = \frac{13}{5} \cdot \frac{7}{23} = \frac{13 \cdot 7}{5 \cdot 23} = \frac{91}{115}$$

### 10-§. O'nli kasrlar va ular bilan to'rt amalni bajarish metodikasi.

O'nli kasr tushunchasi XV asrda Samarqandlik olim Ali Qushchi tomonidan kiritilgan. U o'zining 1427 yilda yozgan "Hisobot san'atiga kalit", "Arifmetika kaliti" nomli kitobida o'nli kasr tushunchasidan foydalangan.

**Ta'rif.** Maxraji o'n yoki uning darajalaridan iborat bo'lgan kasr o'nli kasr deyiladi.

o'nli kasrlarni bunday belgilash qabul qilingan:

$$\frac{1}{10} = 0,1; \quad \frac{1}{100} = 0,01; \quad \frac{1}{1000} = 0,001; \quad \frac{3}{10} = 0,3; \quad \frac{3}{1000} = 0,003; \quad 2,15 = 2\frac{15}{100}, \dots$$

O‘nli kasrlarni maxrajsiz yozilganda verguldan o‘ngdagi birinchi xonadagi raqam o‘ndan birlarni, ikkinchi xonadagilari esa yuzdan birlarni va hokazolarni bildiradi. Masalan, 6,732 o‘nli kasrda

verguldan keyingi sonlarni turgan o‘rniga qarab kasr ko‘rinishda quyidagicha ifodalash mumkin:  $\frac{7}{10}$ ;  $\frac{3}{100}$ ;  $\frac{2}{1000}$ ;

O‘nli kasrlar uchun quyidagi qoidalar o‘rinlidir:

1. Har bir o‘nli kasr o‘zidan oldingi o‘nli kasrga nisbatan o‘n marta kattadir.

Masalan,  $0,001 = \frac{1}{1000}$ ;  $0,01 = \frac{1}{100}$ ;  $0,1 = \frac{1}{10}$ ;

2. O‘nli kasrlarning maxrajlari 10 ning butun ko‘rsatkichli darajalaridan, suratlari esa bir xonali sonlardan iborat kasrlarning yig‘indisi shaklda ifodalash mumkin.

## 11-§. O‘nli kasrlarni qo‘shish va ayirish.

Bu mavzu materialini bayon qilishdan oldin o‘qituvchi o‘quvchilarga maxrajlari har xil bo‘lgan oddiy kasrlarni umumiy maxrajlarga keltirib qo‘shish va ayirish haqidagi tushunchani misollar yordamida ko‘rsatishi, so‘ngra o‘nli kasrlarni qo‘shish va ayirish haqidagi nazariy va amaliy bilimlarni berishi maqsadga muvofiqdir.

**1 - Q o i d a.** *O‘nli kasrlarni qo‘shish uchun bir xil xonalari o‘zaro butun sonlar kabi qo‘shilib, yig‘indida kasrlardagi vergulning tagiga to‘g‘ri keltirib butun qismi ajratiladi.*

$$\begin{array}{r} \text{M i s o l.} \quad 25,382 \\ + \quad 7,200 \\ \hline 32,582 \end{array}$$

**2-Qoida.** *O‘nli kasrlarni ayirish uchun kamayuvchining tagiga ayiriluvchining verguliga to‘g‘rilab, o‘rin qiymati bir xil bo‘lgan raqamlar birini ostiga yozib ayriladi, so‘ngra ayirmani butun qismi vergul bilan ajratiladi.*

$$\begin{array}{r} \text{M i s o l.} \quad 1) \quad 14,273 \quad 2) \quad 27,100 \quad 3) \quad 27,1-3,235=? \\ \quad \quad \quad - \quad 5,040 \quad \quad \quad - \quad 3,236 \\ \hline \quad \quad \quad 9,233 \quad \quad \quad 23,864 \end{array}$$

O‘nli kasrlarni ayirish jarayonida quyidagi hollar bo‘lishi mumkin: ayiriluvchidagi kasr xonalarining soni kamayuvchidagi kasr xonalaridan ko‘p, kamayuvchi va ayiriluvchi o‘nli kasrlardagi kasr xonalari soni bir xil, butun sondan o‘nli kasrni ayirish, o‘nli kasrdan butun sonni ayirish. O‘qituvchi bu hollarning har biriga misollar ko‘rsatishi kerak.

## 12-§. O‘nli kasrlarni ko‘paytirish.

O‘nli kasrlarni o‘zaro ko‘paytirishni oddiy kasrlarni ko‘paytirish qoidasiga asoslangan holda tushuntirishi lozim, chunki o‘quvchilar o‘nli kasrlarni oddiy kasrlarga aylantirish qoidasini biladilar.

M i s o l:

$$3,2 \cdot 0,12 = 3 \frac{2}{10} \cdot \frac{12}{100} = \frac{32}{10} \cdot \frac{12}{100} = \frac{32 \cdot 12}{10 \cdot 100} = \frac{384}{1000} = 0,384$$

Ko‘paytma kasrning maxrajida nechta nol bo‘lsa, uni maxrajsiz yoziladigan o‘nli kasrga aylantirganda shuncha kasr xonasi bo‘lishini o‘quvchilarga tushuntirish lozim.

Ko‘rib o‘tilgan misollar asosida quyidagi qoidalar tushuntiriladi.



$$1) 3,2 \cdot 0,12 = \frac{384}{1000} = 0,384$$

$$2) 2,7 \cdot 1,3 = 2 \frac{7}{10} \cdot 1 \frac{3}{10} = \frac{27}{10} \cdot \frac{13}{10} = \frac{351}{10 \cdot 10} = \frac{351}{100} = 3,51$$

**1 - Q o i d a.** *O‘nli kasrlarni o‘zaro ko‘paytirish uchun ularning suratlarini suratlariga va maxrajlarini maxrajlariga ko‘paytirib, ko‘paytuvchi bilan ko‘payuvchida jami nechta kasr xonasi bo‘lsa, ko‘paytmada shuncha xona ajratiladi. (Bu gap oddiy kasr shakdda yozilgan o‘nli kasr haqida aytilgan.)*

**Masalan,**

$$3,4 \cdot 0,25 = 3 \frac{4}{10} \cdot \frac{25}{100} = \frac{34}{10} \cdot \frac{25}{100} = 0,85$$

**2 - Q o i d a.** *O‘nli kasrlarni o‘zaro ko‘paytirish uchun ularning verguliga e‘tibor bermay, butun sonlar kabi ko‘paytirib, ko‘payuvchi va ko‘paytuvchida hammasi nechta kasr xonasi bo‘lsa, ko‘paytmaning o‘ng tomonidan boshlab sanab shuncha raqamni vergul bilan ajratib qo‘yiladi.*

1) 3,021	2) 7,124
× 2,51	× 3,213
-----	-----
3021	21372
+ 15105	+ 7124
6042	14248
-----	-----
7,58271	21372
	-----
	22,889412

O‘nli kasrlarni o‘zaro ko‘paytirishda ko‘paytirishning ko‘payuvchidagi yig‘indisiga nisbatan tarqatish qonunini qo‘llanishga asoslangan mulohazalarni ham olib borish foydali, buni quyidagicha sxema orqali ham ko‘rsatish mumkin. Masalan, 2,37 ni 2 ta birlik, 3 ta o‘ndan bir, 7 ta yuzdan birning yig‘indisi shaklda yozish mumkin. Yig‘indini biror songa ko‘paytirish uchun har bir qo‘shiluvchini shu songa ko‘paytirish va hosil bo‘lgan ko‘paytmalarni qo‘shish, ya‘ni 2 birlikni 9 ga, 3 ta o‘ndan birni 9 ga, 7 ta yuzdan birni 9 ga ko‘paytirib, ko‘paytmalarni o‘zaro qo‘shish kifoya.

$$2,37 \cdot 9 = 9 \cdot \left( 1 + 1 + \frac{1}{10} + \frac{1}{10} + \frac{1}{10} + \frac{1}{100} + \frac{1}{100} + \frac{1}{100} + \frac{1}{100} + \frac{1}{100} + \frac{1}{100} + \frac{1}{100} + \frac{1}{100} \right) = 9 +$$

$$+ 9 + \frac{9}{10} + \frac{9}{10} + \frac{9}{10} + \frac{9}{100} + \frac{9}{100} + \frac{9}{100} + \frac{9}{100} + \frac{9}{100} + \frac{9}{100} + \frac{9}{100} + \frac{9}{100} = \frac{2133}{100} = 21,33$$

O‘nli kasrlarni 10 ning butun ko‘rsatkichli darajalariga ko‘paytirishni alohida ko‘rib o‘tish lozim, ya‘ni o‘nli kasrni 10 ga, 100 ga, 1000 ga va hokazolarga

ko'paytirish uchun bu kasrda vergulni 1, 2, 3, ... raqam o'ngga surish kerak. O'nli kasrlarni 0,1, 0,01, 0,001 ga va hokazolarga ko'paytirish uchun bu kasrlarda vergulni 1, 2, 3, ... raqam chapga surish kifoya.

Masalan: 1)  $3,7\bar{z}100=3,70\bar{z}100 = 370$ . Bu misolni quyidagicha tushuntirish mumkin: 3,7 ni 100 ga ko'paytirish uchun, qoidaga ko'ra, 3,7 sonidagi vergulni o'ngga qarab ikki xona surish kerak edi, ammo bizda verguldan keyin bitta son bor, xolos. Shuning uchun 7 sonidan keyin bitta nol qo'yamiz. (Bu yerda o'qituvchi o'quvchilarga 3,7 soni 3,70 soniga teng ekanligini tushuntirish va kasr holga keltirib ko'rsatish maqsadga muvofiqdir.)

1)  $45,76\bar{z}0,1=4,576$ . Bu misolni quyidagicha tushuntirish mumkin. Buning uchun 4576 sonini 1 soniga ko'paytirib hosil bo'lgan ko'paytmada o'ngdan chapga qarab uchta raqamni - ikkala ko'paytuvchida ular nechta bo'lsa, shuncha raqamni vergul bilan ajratamiz. Shunday mulohaza yuritib, 45,76 ni 0,01 ga ko'paytirishda 45,76 sonidan vergulni ikki raqam chapga surish kerakligini ko'rsatamiz.

Masalan:  $45,76\bar{z}0,01 = 0,4576$

### 13-§. O'nli kasrlarni bo'lish

O'nli kasrlarni bo'lish mavzusida quyidagi uch hol ko'rib o'tiladi: 1) o'nli kasrni butun songa bo'lish. O'nli kasrni butun songa bo'lish butun sonlarni bo'lishga o'xshash bajariladi, bunda qoldiqlar borgan sari kichikroq ulushlarga maydalanib boradi. Masalan,

$$0,6 : 4 = 0,60 : 4 = 0,15.$$

**1 - Q o i d a.** *O'nli kasrlarni butun songa bo'lish uchun, butun qism bo'luvchiga etadigan bo'lsa, butunini kasr xona almashguncha bo'lib, so'ngra bo'linmada vergul qo'yib bo'lishni davom ettirish kifoya.*

**M i s o l :**

$$\begin{array}{r}
 1) \quad \begin{array}{r|l}
 25,232 & 4 \\
 \hline
 24 & 6,308 \\
 \hline
 12 & \\
 \hline
 \overline{12} & \\
 032 & \\
 \hline
 \overline{32} & \\
 \hline
 0 & 
 \end{array}
 \quad
 \begin{array}{r|l}
 25232 & 4000 \\
 \hline
 2400 & 6,308 \\
 \hline
 \overline{12320} & \\
 12000 & \\
 \hline
 \overline{3200} & \\
 3200 & \\
 \hline
 \overline{3200} & \\
 \hline
 0 & 
 \end{array}
 \end{array}$$

Yuqoridagi misol va qoidalarni tushuntirish jarayonida o'qituvchi o'quvchilarga bo'lish amalining ta'rifini va uni bajarish qoidalarini takrorlashi lozim.

2) **Butun sonni o'nli kasrga bo'lish.** Bu holni ham o'qituvchi o'quvchilarga misol yordamida tushuntirishi kerak. Masalan:  $51 : 0,17 = ?$

Bu misolni yechishni oddiy kasrlarni bo'lish qoidasi asosida bajarib ko'rsatadi.

**Misol:**

$$51 : 0,17 = 51 : \frac{17}{100} = (51 \cdot 100) : 17 = 5100 : 17 = 300$$

Bu mulohazalarga ko'ra quyidagi qoidani ifodalash mumkin.

**Q o i d a.** *Butun sonni o'nli kasrga bo'lish uchun bo'luvchidagi o'nli kasrni butun songa aylantirish kerak. Buning uchun bo'luvchining vergul oxiriga suriladi va necha xona surilgan bo'lsa, bo'luvchining o'ng tomoniga shuncha nol qo'yiladi hamda butun sonni butun songa bo'lish kabi bajariladi.*

**M i s o l:**

$$351 : 2,7 = 3510 : 27 = 130$$

$$25 : 6,25 = 2500 : 625 = 4$$

3) **O'nli kasrni o'nli kasrga bo'lish.** Bu holda ham o'qituvchi o'quvchilarga kasrni kasrga bo'lishning umumiy qoidasini takrorlab, so'ngra o'nli kasrlarni oddiy kasrlar holiga keltirib, kasrlarni o'zaro bo'lish usulidek ko'rsatishi maqsadga muvofiqdir.

**Masalan:**  $8,51 : 3,7 = \frac{851}{100} : \frac{37}{10} = \frac{851 \cdot 10}{100 \cdot 37} = \frac{851}{10} : 37 = 85,1 : 37 = 2,3$

Bu misolni yana bunday yechib ko'rsatish ham mumkin:

$$8,51 : 3,7 = 8,51 : \frac{37}{10} = (8,51 \cdot 10) : 37 = 85,1 : 37 = 2,3$$

Yuqoridagi misollardan ko'rinadiki, o'nli kasrni o'nli kasrga bo'lish uchun bo'luvchida qancha kasr xonasi bo'lsa, bo'linuvchi va bo'luvchidagi vergullarni shuncha xona o'ng tomonga so'ramiz, natijada bo'luvchi butun songa aylanadi.

Buning natijasida bo'linuvchi va bo'luvchi bir xil marta ortgani uchun bo'linma o'zgarmaydi.

#### 14-§. Oddiy kasrni cheksiz davriy kasrga aylantirish

2,73 O'nli kasr berilgan bo'lsin. Agar kasrning o'ng tomonidagi qismiga istalgancha nollar yozib qo'yilsa, uning qiymati o'zgarmaydi.  $2,73 = 2,730 = 2,7300 = \dots = 2,7300\dots 0$ . Shuningdek 2,73 kasrni cheksiz ko'p nollari bo'lgan o'nli kasr ko'rinishida yozish mumkin. Masalan,  $2,73 = 2,73000\dots$ . Bu yerda verguldan keyin cheksiz ko'p o'nli xonalar mavjud. Bunday o'nli kasr cheksiz o'nli kasr deyiladi.

Istalgan oddiy kasrni cheksiz oʻnli kasr koʻrinishida yozish mumkin. Masalan,  $3/14$  sonini olib, uning suratini maxrajiga boʻlib ketma-ket oʻnli xonalarni hosil qilamiz. Bunda istalgan natural sonni barcha oʻnli xonalari nolga teng boʻlgan cheksiz oʻnli kasr koʻrinishida yozish mumkinligini qayd qilib oʻtamiz.

Masalan,  $3 = 3,000000\dots$  .

$$\begin{array}{r|l}
 3,00000000\dots & 14 \\
 \hline
 \underline{28} & 0,214285714\dots \\
 20 & \\
 \underline{14} & \\
 60 & \\
 \underline{56} & \\
 40 & \\
 28\dots & 
 \end{array}$$

Shunday qilib,  $3/14 = 0,214285714 \dots$

Boʻlish davomida chiqqan barcha qoldiqlarni ketma-ket yozib chiqamiz: 2, 6, 4, 12, 8, 10, 2, 6 ... Bu qoldiqlarni barchasi boʻluvchidan, yaʼni 14 sonidan kichik. Bu boʻlishning qaysidir qismida ilgari uchragan qoldiq yana albatta uchrashi kerakligini bildiradi. Bizda ettinchi qadamda 2 qoldiq hosil boʻlib, u birinchi qadamda paydo boʻlgan edi. Bundan tashqari ilgari uchragan qoldiq paydo boʻlgan zaxotiy oq undan keyingi qoldiqlar ular avval qanday tartibda boʻlsa, shunday tartibda takrorlanadilar. Bizning misolimizda 2 qoldiqdan soʻng 6 qoldiq, undan keyin 4, undan keyin 12 keladi va hokazo, yaʼni biz qoldiqlarning quyidagi ketma-ketligini hosil qilamiz: 2, 6, 4, 12, 8, 10, 2, 6, 4, 12, 8, 10, ... . Davriy takrorlanuvchi qoldiqlar gruppasi mos ravishda sonning oʻnli yozuvidagi davriy takrorlanuvchi raqamlar gruppasiga olib keladi, yaʼni  $3/14=0,2142857142857142857\dots$  . Sonning oʻnli yozuvida verguldan keyingi ketma-ket takrorlanib keluvchi bunday raqamlar gruppasi davr deb ataladi, oʻz yozuvida ana shunday davrga ega boʻlgan chekli oʻnli kasr davriy kasr deyiladi. Qisqalik uchun davrni bir marta qavs ichiga olib yozish qabul qilingan:

$0,214285714285714285714\dots=0,2(142857)$ . Agar davr verguldan keyin boshlansa, bunday kasr *sof davriy kasr* deyiladi, agar vergul va davr orasida boshqa oʻnli xonalar boʻlsa, kasr aralash davriy kasr deyiladi. Masalan,  $2,(23)=2,2323232323\dots$  - sof davriy kasr,  $0,2(142857)$  - aralash davriy kasr,  $2,73=2,73000000\dots = 2,73(0)$  aralash davriy kasrdir.

## 15-§. Cheksiz davriy oʻnli kasrni oddiy kasrga aylantirish

Cheksiz oʻnli kasrni 10, 100, 1000 va hokazo koʻpaytirish uchun chekli oʻnli kasr holatidagi kabi vergulni bir, ikki, uch va hokazo xona oʻngga surish kifoya. Masalan,  $0,1(23) \cdot 100 = 0,123232323 \dots \cdot 100 = 12,32323232 \dots = 12,(32)$ . Davriy oʻnli kasrni oddiy kasrga aylantirishni quyidagi misollar orqali koʻrib chiqaylik.

1. Sonni oddiy kasrga aylantiring: a)  $0,(13)$ ; b)  $2,(273)$ ; v)  $0,2(54)$ ; g)  $3,254(9)$ .

Yechish: a)  $x=0,13=0,131313\dots$  boʻlsin. Sof davriy kasr  $x$  ni shunday songa koʻpaytiramizki, natijada vergul kasr davri qadar oʻngga suriladi. Davrda ikkita raqam boʻlgani uchun vergulni oʻng tomonga ikki xona surish kerak, buning uchun esa  $x$  sonni 100 ga koʻpaytirish yetarli, u holda  $100 \cdot x = 0,131313\dots \cdot 100 = 13,13131313\dots = 13,(13)$   $100x - x = 13,(13) - 0,(13)$ . Demak,  $99x = 13$ , bu yerdan  $x = \frac{13}{99}$ .

B)  $x=2,(273)$  boʻlsin. Bu sof davriy kasrning davrida uchta raqam bor.  $x$  ni 1000 ga koʻpaytirib,  $1000x=2273,(273)$  ni hosil qilamiz. Xuddi yuqoridagiga oʻxshash topamiz:

$$1000x - x = 2273,(273) - 2,(273), \quad 999x = 2271, \quad \text{bundan } x = \frac{2271}{999} = \frac{757}{333} = 2\frac{91}{333}$$

V)  $x=0,2(54)$  boʻlsin. Bu aralash davriy kasrda vergulni oʻng tomonga shunday suramizki, natijada sof davriy kasr hosil boʻlsin. Buning uchun  $x$  ni 10 ga koʻpaytirib qoʻyish kifoya.  $10x=2,(54)$  ni hosil qilamiz.

$y=2,(54)$  boʻlsin va yuqoridagilarga oʻxshash bu sof davriy kasrni oddiy kasrga aylantiramiz.  $y=2,(54)$  bundan  $100y=254(54)$ ,  $100y - y = 254(54) - 2,54$ ,  $99y = 252$ ,  $y = \frac{252}{99} = \frac{28}{11}$  demak,  $10x = \frac{28}{11}$ , bundan  $x = \frac{28}{11 \cdot 10} = \frac{11}{55}$

G)  $x=3,254(9)$  deb  $1000x=3254(9)$  ni hosil qilamiz.  $y=1000x$  belgilashni kiritamiz, u holda  $y=3254,(9)$ , bu yerdan  $10y - y = 32549(9) - 3254(9)$ ;  $y=3255$ ,  $1000x=3255$ ,  $x = \frac{3255}{1000} = 3\frac{51}{200}$

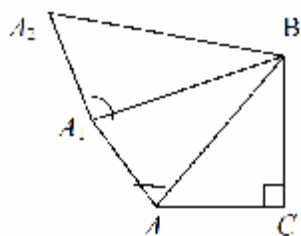
Endi quyidagiga eʼtibor beramiz.  $\frac{3255}{1000} = 3,255 = 3,255(0)$  chekli oʻnli kasr yoki davrida nol boʻlgan cheksiz kasrni hosil qilamiz.

Demak,  $3,254(9)=3,255(0)$ . Bu hol davrida to‘qqiz bo‘lgan istalgan kasr ko‘rinishida yozish mumkin. Buning uchun davr oldidagi o‘nli raqamni bir birlikka ortirish kifoya. Masalan,  $0,45(9)=0,46(0)$ ;  $14,(9) = 15,(0)$ .

### 16-§. Irratsional son tushunchasini kiritish metodikasi

O‘quvchilar VII sinfda birinchi marta irratsional son tushunchasi bilan tanishadilar. O‘qituvchi bu mavzuni tushuntirishdan oldin o‘quvchilarga kvadrat ildiz va arifmetik ildiz tushunchalarini tushuntirishi, so‘ngra irratsional son tushunchasini quyidagi masalani yechish orqali kiritishi lozim.

**Masala:** Katetlari bir birlikka teng bo‘lgan to‘g‘ri burchakli uchburchakning gipotenuzasi topilsin. (20 - chizma).



Berilgan:  $\triangle ABC$ ,  $\angle C=90^\circ$ ,  $CB=AC=1$

Topish kerak:  $AB=?$

Yechish. Pifagor teoremasiga ko‘ra:  $AB^2=AC^2+CB^2$ ,  
 $AB^2=1^2+1^2=2$

20-chizma.

Masalaning yechimini quyidagicha o‘qish mumkin. Shunday AB soni topilsinki, uni kvadratga ko‘tarilganda 2 soni hosil bo‘lsin. Bunday AB son ratsional sonlar to‘plamida mavjud emas. A nuqtadan AB ga perpendikulyar  $AA_1=1$  katetni o‘tkazib, uning  $A_1$  nuqtasini B nuqta bilan birlashtirib,  $A_1B$  ning qiymatini hisoblaymiz:  $A_1B^2=AB^2+1^2$ ;  $A_1B^2=2+1=3$ ;  $A_1B^2=3$  soni ham ratsional sonlar maydonida mavjud emas. Yuqoridagilardan ko‘rinadiki, ratsional sonlar to‘plamida mavjud bo‘lmagan yana qandaydir sonlar to‘plami ham mavjud ekan, ya‘ni:  $AB^2=2$ ;  $A_1B^2=3, \dots$

Yuqoridagi mulohazalarga ko‘ra  $AB^2=2$ ,  $A_1B^2=3, \dots$  ko‘rinishdagi sonlarni *ratsional bo‘lmagan yoki irratsional sonlar* deb ataldi va ularni  $AB=\sqrt{2}$ ,  $A_1B=\sqrt{3}$ , ... kabi belgilash qabul qilingan.

**Ta‘rif:**  $\frac{p}{q}$  kasr ko‘rinishida tasvirlab bo‘lmaydigan sonlar irratsional sonlar deyiladi.  $(p, q) \in \mathbb{N}$

Bu erda o‘quvchilarga yana shu narsani tushuntirish kerakki, har qanday ratsional sonni cheksiz davriy o‘nli kasr ko‘rinishda ifodalash mumkin, irratsional sonni cheksiz davriy o‘nli kasr ko‘rinishida ifodalab bo‘lmaydi, bunga quyidagi misollarni ko‘rsatish mumkin.

1.  $\sqrt{5} = 2,360679\dots$  bu erdagi  $\sqrt{5}$  irratsional son cheksiz davriy bo'lmagan o'nli kasr ko'rinishida ifodalanayapti.

2.  $\sqrt{2} = 1,41\dots$  bu erdagi  $\sqrt{2}$  irratsional son ta'rifini yana quyidagicha berish mumkin.

**Ta'rif.** Cheksiz davriy o'nli kasr ko'rinishida ifodalab bo'lmaydigan sonlarni irratsional sonlar deb ataladi.

**Teorema: kvadrati 2 ga teng bo'lgan ratsional son mavjud emas.**

Bu teoremaning isbotini teskarisidan faraz qilish yo'li bilan isbotlaymiz, chunki  $1^2 < 2 < 2^2$  butun sonlar to'plamida u kvadrati 2 ga teng bo'lgan son mavjud emas.

Isboti. Faraz qilaylik,  $\frac{p}{q}$  ko'rinishidagi qisqarmas kasr mavjud bo'lsin,  $r$  va  $q$  – natural sonlar. Faraz qilaylik, kvadrati 2 ga teng bo'lgan ratsional son mavjud bo'lsin, ya'ni:  $\left(\frac{p}{q}\right)^2 = 2$ , bu erda  $p^2 = 2q^2$ , bu erda  $r$  ning ham ikkiga bo'linishi kelib chiqadi. Agar  $r = 2n$  bo'lsa,  $4n = 2q^2$   $2n = q^2$  bo'ladi, bundan  $q$  ning ham juft son ekanligi kelib chiqadi. Farazimizga ko'ra  $\frac{p}{q}$  kasrni qisqarmas kasr degan edik,

isbotning natijasida esa  $\frac{p}{q}$  kasr qisqaruvchi kasr bo'lib chiqyapti, bunday qarama - qarshilik farazimizning noto'g'ri ekanligini tasdiqlab, teorema to'g'ri ekanligini ko'rsatadi.

Yuqoridagi ta'rif va isbot qilingan teoremalardan ko'rinadiki kvadrati 2, 3, 5, 7, 10, 11 larga teng bo'ladigan ratsional son mavjud emas ekan, biz ta'rifga ko'ra bularni irratsional sonlar deb atadik. Bunday irratsional sonlarni  $\sqrt{2}, \sqrt{3}, \sqrt{5}, \dots$  kabi belgilash qabul qilingan. Ularga qarama - qarshi bo'lgan sonlar ham irratsional sonlar bo'lib, ular  $-\sqrt{2}, -\sqrt{3}, -\sqrt{5}, \dots$  kabi belgilanadi. O'qituvchi bu erda o'quvchilarga shuni eslatishi kerakki, irratsional sonlarga kvadrati berilgan musbat songa teng bo'lgan sonni topish masalasigina olib kelmaydi. Masalan, aylana uzunligining diametriga nisbatini ifodalovchi  $\pi$  sonini oddiy kasr ko'rinishida tasvirlash mumkin emas, u ham irratsional sonidir.

## 17-§. Haqiqiy sonlar.

Ratsional va irratsional sonlar birgalikda haqiqiy sonlar to'plamini hosil qiladi. Har bir haqiqiy songa koordinata to'g'ri chiziqning yagona nuqtasi mos keladi. Haqiqiy sonlar to'plami son to'g'ri chizig'i deb ham ataladi. Son to'g'ri chizig'ining geometrik modeli koordinata to'g'ri chizig'idan iboratdir. O'qituvchi haqiqiy sonlarning geometrik tasvirini ko'rsatganidan keyin savol - javob metodi orqali haqiqiy sonlarni taqqoslashni va ularning natijasi sifatida hosil qilinadigan sonli tengsizlik hamda ularning xossalarini bayon qilishi maqsadga muvofiqdir.

Haqiqiy sonlarni taqqoslash masalasi quyidagi ikkita ta'rif asosida hal qilinadi.

**Ta'rif.** *a sonidan b sonini ayirganda ayirma musbat bo'lsa, u holda a soni b sonidan katta deyiladi va u quyidagicha yoziladi.  $a-b > 0$  bundan  $a > b$  ekanini ko'rinadi.*

**Ta'rif.** *a sonidan b sonini ayirganda ayirma manfiy bo'lsa, u holda a soni b sonidan kichik deyiladi va u bunday yoziladi:  $a-b < 0$ , bundan  $a < b$  ekanini ko'rinadi.*

Bu erdagi  $a > b$  va  $a < b$  ifodalar sonli tengsizliklar deyiladi.

**Sonli tengsizliklar xossalari:**

1. agar  $a > b$  bo'lsa,  $b < a$  bo'ladi.
2. agar  $a > b$  va  $b < c$  bo'lsa, u holda  $a < c$  bo'ladi.
3. agar  $a > b$  bo'lsa,  $a + c > b + c$  bo'ladi.
4. agar  $a > b$  va  $s$  musbat son bo'lsa, u holda  $ac > bc$

Isboti:  $ac - bc$  ayirmani hosil qilamiz.  $ac - bc = c(a - b)$  shartga ko'ra  $c$  musbat son va  $a > b$  bo'lgani uchun  $a - b$  musbat son. Ikkita musbat sonning ko'paytmasi musbat sondir, demak  $c(a - b) > 0$ . shunday qilib,  $ac - bc > 0$ . bundan:  $ac > bc$ .

5. Agar  $a > b$  va  $c$  manfiy son bo'lsa, u holda  $ac < bc$  bo'ladi. Agar tengsizlikning har ikkila tomoni bir xil manfiy songa ko'paytirilsa, tengsizlikning ishorasi qarama - qarshiga o'zgaradi.

6. agar  $a > b$  va  $c > d$  bo'lsa, u holda  $a + c > b + d$  bo'ladi.

7. Agar  $a > b > 0$  bo'lsa, u holda  $\frac{1}{a} < \frac{1}{b}$  bo'ladi.

8. Agar  $a > b > 0$  bo'lsa, istalgan  $n$  natural son uchun  $a^n > b^n$  tengsizlik o'rinli bo'ladi.

**Sonli oraliqlar va ularning tasviri.**

Oraliqlar turi	Belgilanish	Tengsizliklar yordamida yozilishi.
Interval	$(a; b)$	$a < x < b$
Kesma	$[a; b]$	$a \leq x \leq b$
Yarim interval	$(a; b]$	$a < x \leq b$
Yarim interval	$[a; b)$	$a \leq x < b$
Nur	$[a; +\infty)$	$x \geq a$
Nur	$(-\infty; b]$	$x \leq b$
Ochiq nur	$(a; +\infty)$	$x > a$
Ochiq nur	$(-\infty; b)$	$x < b$

**Haqiqiy sonning moduli va uning xossalari.** Haqiqiy son  $a$  ning moduli deb, agar  $a > 0$  bo'lsa, bu sonning o'ziga, agar  $a < 0$  bo'lsa, uning qarama-qarshi songa aytiladi.  $a$  sonning moduli  $|a|$  kabi belgilanadi. Shunday qilib:

$$|a| = \begin{cases} \text{agar } a > 0 \text{ bo'lsa, } & a, \\ \text{agar } a < 0 \text{ bo'lsa, } & -a \end{cases}$$

masalan,  $|x-3| = x-3$ , chunki agar  $\begin{cases} x-3 > 0, & x > 3 \\ x-3 < 0, & x < 3 \end{cases}$



Geometrik nuqtai nazardan  $|a|$  ifoda koordinata to'g'ri chizig'ida  $a$  nuqtadan 0 nuqtagacha bo'lgan masofani bildiradi.

Modullarning xossalari:

$$1. |a| \geq 0 \quad 2. |a| = |-a| \quad 3. |ab| = |a| \cdot |b| \quad 4. \left| \frac{a}{b} \right| = \frac{|a|}{|b|}; b \neq 0 \quad 5. |a|^2 = a^2$$

### 18-§. Haqiqiy sonlar ustida amallar bajarish qoidalari.

Bir xil ishorali ikkita sonning yig'indisi o'sha ishorali yig'indi songa tengdir. Bunday yig'indining modulini topish uchun qo'shiluvchilar yig'indisini topish kerak.

**Masalan,**  $(+12)+(+8)=+20$ ,  $(-12)+(-8)=-20$ .

Turli ishorali ikkita sonning yig'indisi katta bo'lgan qo'shiluvchining ishorasi bilan bir xil ishorali sonidir, bu yig'indining qiymatini topish uchun katta sondan kichik sonni ayirish va ayirma oldiga katta son ishorasini qo'yish kerak.

**Masalan:**

$$(12)+(-8)=+(12-8)=4, \quad (-12)+(+8)=- (12-8)=-4.$$

Bir sondan ikkinchisini ayirish uchun kamayuvchiga ayiriluvchiga qarama-qarshi bo'lgan sonni qo'shish kerak.

**Masalan,**  $12 - (-8)=12+8=20$ ,  $12 - (+8)=12 - 8=4$ .

Bir xil ishorali ikki sonning ko'paytmasi (bo'linmasi) musbat, har xil ishorali ikki sonning ko'paytmasi manfiy, bo'linmasi ham manfiy bo'lgan sonidir. Ko'paytmaning (bo'linmaning) topish uchun berilgan sonlarning o'zaro ko'paytirish (bo'lish) kerak.

**Masalan,**  $(-12) \cdot (-8)=+12 \cdot 8=96$ ,  $(-24):( +3)=-24:3=-8$ .

Arifmetik amallarni xossalari.

1.  $a+b=b+a$

6.  $(ab)c=a(bc)$

2.  $(a+b)+c=a+(b+c)$

7.  $a(b+c)=ab+ac$

3.  $a+0=a$

8.  $a \cdot 1=a$

4.  $a+(-a)=0$

9.  $a \cdot \frac{1}{a}=1, \quad a \neq 0$

5.  $ab=ba$

## 19-§. Arifmetik kvadrat ildiz tushunchasini kiritish.

VII sinf algebra kursida «arifmetik kvadrat ildiz» tushunchasi kiritiladi. Agar bizga  $x^2=16$  tenglama berilgan bo'lsa, bu tenglamani o'quvchilar ko'paytuvchilarga ajratish orqali yechishni biladilar, ya'ni:

$$(x^2=16)P[(x^2-16)=0]P[(x^2-4^2)=0]P \\ [(x-4)(x+4)]=0P(x_1=4)U(x_2=-4)$$

Demak,  $x^2=16$  tenglamaning yechimlari  $x_1=4$  va  $x_2=-4$  sonlaridan iborat ekan. Yuqoridagi mulohazalarga ko'ra quyidagi qoidani chiqarish mumkin:  $x^2=16$  tenglamaning ildizlari, ya'ni kvadrati 16 ga teng bo'lgan sonlar 16 sonining *kvadrat ildizlari* deyiladi.  $(-4)^2=16$  bundan  $4^2=16$  bo'lgani uchun  $-4$  va  $4$  sonlari  $x^2=16$  tenglamaning kvadrat ildizlaridir.

**Ta'rif.**  $a$  sonining kvadrat ildizi deb kvadrati  $a$  songa teng bo'lgan songa aytiladi.

Kvadrat ildiz tushunchasidan tashqari arifmetik kvadrat ildiz tushunchasi ham bo'lib, uni quyidagicha tushuntirish mumkin:  $x_1=4$  va  $x_2=-4$  lar  $x^2=16$  tenglamada ikkita ildiz bo'lib, ulardan  $x_1=4$  yechimi musbatdir. Bunday musbat yoki nomanfiy yechim ana shu tenglamaning *arifmetik kvadrat ildizi* deyiladi. Bu tushuncha umumiy holda esa quyidagicha ta'riflanadi.

**Ta'rif.**  $a$  sonining arifmetik kvadrat ildizi deb kvadrati  $a$  ga teng bo'lgan nomanfiy songa aytiladi va u  $\sqrt{a}$  kabi belgilanadi.

## 20-§. Arifmetik to'rt amalga doir misollar yechish metodikasi.

**1-misol.** 
$$\frac{172\frac{5}{6}-170\frac{1}{3}+3\frac{5}{12}}{0,8\cdot 0,25}=29\frac{7}{12}$$

1)  $172\frac{5}{6}-170\frac{1}{3}+3\frac{5}{12}=(172-170+3)+\left(\frac{5}{6}-\frac{1}{3}+\frac{5}{12}\right)=5+\frac{10-4+5}{12}=5+\frac{11}{12}=5\frac{11}{12}$

2)  $0,8\cdot 0,25=\frac{8}{10}\cdot\frac{25}{100}=\frac{4}{5}\cdot\frac{1}{4}=\frac{1}{5}$

3)  $5\frac{11}{12}:\frac{1}{5}=\frac{71}{12}\cdot 5=\frac{355}{12}=29\frac{7}{12}$

**2-misol.** 
$$\frac{\left[\left(40\frac{7}{30}-38\frac{5}{12}\right):10,9+\left(\frac{7}{8}-\frac{7}{30}\right)\frac{9}{11}\right]\cdot 4,2}{0,008}=700$$

Yechish:

$$1) 40\frac{7}{30} - 38\frac{5}{12} = (40 - 38) + \left(\frac{7}{30} - \frac{5}{12}\right) = 2 + \frac{14 - 25}{60} = 1 + \frac{74 - 25}{60} = 1\frac{49}{60}$$

$$2) 1\frac{49}{60} : 10,9 = \frac{109}{60} : \frac{109}{10} = \frac{109}{60} \cdot \frac{10}{109} = \frac{1}{6};$$

$$3) \frac{7}{8} - \frac{7}{30} = \frac{105 - 28}{120} = \frac{77}{120}$$

$$4) \frac{77}{120} \cdot 1\frac{9}{11} = \frac{77}{120} \cdot \frac{20}{11} = \frac{7}{6}$$

$$5) \frac{1}{6} + \frac{7}{6} = \frac{8}{6} = \frac{4}{3};$$

$$6) \frac{4}{3} \cdot 4,2 = \frac{4}{3} \cdot \frac{21}{5} = \frac{28}{5};$$

$$7) \frac{28}{5} : 0,008 = \frac{28}{5} \cdot 125 = 28 \cdot 25 = 700;$$

**3-misol.**  $1\frac{7}{20} : 2,7 + 2,7 : 1,35 + \left(0,4 : 2\frac{1}{2}\right) \cdot \left(4,2 - 1\frac{3}{40}\right) = 3$  yechish.

$$1) 1\frac{7}{20} : 2,7 = \frac{27}{20} : 2\frac{7}{10} = \frac{27}{20} : \frac{27}{10} = \frac{27}{20} \cdot \frac{10}{27} = \frac{1}{2};$$

$$2) 2,7 : 1,35 = 2\frac{7}{10} : 1\frac{35}{100} = \frac{27}{10} : 1\frac{7}{20} = \frac{27}{10} : \frac{27}{20} = \frac{27}{10} \cdot \frac{20}{27} = 2$$

$$3) \frac{1}{2} + 2 = 2\frac{1}{2}$$

$$4) 0,4 : 2\frac{1}{2} = \frac{2}{5} : \frac{5}{2} = \frac{2}{5} \cdot \frac{2}{5} = \frac{4}{25}$$

$$5) 4,2 - 1\frac{3}{40} = 4\frac{1}{5} - 1\frac{3}{40} = (4 - 1) + \left(\frac{1}{5} - \frac{3}{40}\right) = 3 + \frac{8 - 3}{40} = 3 + \frac{5}{40} = 3 + \frac{1}{8} = 3\frac{1}{8}$$

$$6) \frac{4}{25} \cdot 3\frac{1}{8} = \frac{4}{25} \cdot \frac{25}{8} = \frac{1}{2}$$

$$7) 2\frac{1}{2} + \frac{1}{2} = 3$$

**4-misol.**  $1,7 : \frac{\left(4,5 \cdot 1\frac{2}{3} + 3,75\right) \cdot \frac{7}{135}}{5 : 9} - \left(0,5 + \frac{1}{3} - \frac{5}{12}\right) = 1\frac{17}{84}$  yechish

$$1) 4,5 \cdot 1\frac{2}{3} = 4\frac{1}{2} \cdot 1\frac{2}{3} = \frac{9}{2} \cdot \frac{5}{3} = \frac{15}{2} = 7\frac{1}{2};$$

$$2) 7\frac{1}{2} + 3\frac{75}{100} = 7\frac{1}{2} + 3\frac{3}{4} = (7+3) + \left(\frac{1}{2} + \frac{3}{4}\right) = 10 + \frac{2+3}{4} = 10 + \frac{5}{4} = 11\frac{1}{4};$$

$$3) 11\frac{1}{4} \cdot \frac{7}{135} = \frac{45}{4} \cdot \frac{7}{135} = \frac{7}{12};$$

$$4) \frac{7}{12} : \frac{5}{9} = \frac{7}{12} \cdot \frac{9}{5} = \frac{7 \cdot 3}{4 \cdot 5} = \frac{21}{20};$$

$$5) 1,7 : \frac{21}{20} = 1\frac{7}{10} : \frac{21}{20} = \frac{17}{10} \cdot \frac{20}{21} = \frac{34}{21};$$

$$6) 0,5 + \frac{1}{3} - \frac{5}{12} = \frac{1}{2} + \frac{1}{3} - \frac{5}{12} = \frac{6+4-5}{12} = \frac{5}{12};$$

$$7) \frac{34}{21} - \frac{5}{12} = \frac{136-35}{84} = \frac{101}{84} = 1\frac{17}{84};$$

$$\mathbf{5-misol.} \frac{\left(1,75 : \frac{2}{3} - 1,75 \cdot 1\frac{1}{8}\right) : \frac{7}{2}}{\left(\frac{17}{80} - 0,0325\right) : 4} \cdot (6,79 : 0,7 + 0,3) = 250$$

$$1) 1,75 : \frac{2}{3} = 1\frac{75}{100} : \frac{2}{3} = 1\frac{3}{4} : \frac{2}{3} = \frac{7}{4} \cdot \frac{3}{2} = \frac{21}{8};$$

$$2) 1,75 \cdot 1\frac{1}{8} = 1\frac{75}{100} \cdot 1\frac{1}{8} = 1\frac{3}{4} \cdot 1\frac{1}{8} = \frac{7}{4} \cdot \frac{9}{8} = \frac{63}{32};$$

$$3) \frac{21}{8} - \frac{63}{32} = \frac{84-63}{32} = \frac{21}{32};$$

$$4) \frac{21}{32} : \frac{7}{12} = \frac{21}{32} \cdot \frac{12}{7} = \frac{3 \cdot 3}{8} = \frac{9}{8};$$

$$5) \frac{17}{80} - 0,0325 = \frac{17}{80} - \frac{325}{10000} = \frac{17}{80} - \frac{13}{400} = \frac{5 \cdot 17 - 13}{80} = \frac{85-13}{10000} = \frac{72}{400} = \frac{9}{50};$$

$$6) \frac{9}{50} : 4 = \frac{9}{50} \cdot \frac{1}{4} = \frac{9}{200};$$

$$7) \frac{9}{8} : \frac{9}{200} = \frac{9}{8} \cdot \frac{200}{9} = 25;$$

$$8) 6,79 : 0,7 = 6\frac{79}{100} : \frac{7}{10} = \frac{679}{100} \cdot \frac{10}{7} = \frac{97}{10};$$

$$9) \frac{97}{10} + 0,3 = \frac{97}{10} + \frac{3}{10} = \frac{100}{10} = 10;$$

$$10) 25 \cdot 10 = 250.$$

## VI-BOBNI TAKRORLASH UCHUN SAVOLLAR

1. Natural sonlar to‘plamini tushuntirib bering.
2. Butun sonlar to‘plamiga misollar keltiring.
3. Ratsional sonlar to‘plamini ta’riflang.
4. Haqiqiy sonlar to‘plamini tushuntirib bering.
5. Sonning moduli deganda nimani tushunasiz?
6. Qo‘shish amalini tushuntirib bering.
7. Ayirish amalini ta’riflang.
8. Ko‘paytirish amalini ta’riflang.
9. Bo‘lish amalini ta’riflang.
10. Kasr son deganda qanday sonni tushunasiz?
11. Kasr sonlar ustida to‘rt amal bajarish metodikasini aytib bering.
12. Kasrlarni taqqoslash qanday amalga oshiriladi?
13. Qanday kasr o‘nli kasr deyiladi?
14. O‘nli kasrlarni qo‘shish va ayirish qanday bajariladi?
15. O‘nli kasrlarni ko‘paytirish va bo‘lish qanday bajariladi?
16. Oddiy kasr qanday qilib cheksiz davriy o‘nli kasrga aylantiriladi?
17. Cheksiz davriy o‘nli kasr qanday qilib oddiy kasrga aylantiriladi?
18. Irratsional son tushunchasini tushuntirib bering.
19. Sonli tengsizlik xossalari aytib bering.
20. Sonli oraliqlar deganda nimani tushunasiz?
21. Arifmetik kvadrat ildiz tushunchasini tushuntirib bering.
22. Kvadrat ildiz tushunchasi deganda qanday son tushuniladi?

## VI-BOB UCHUN TAYANCH IBORALAR

Natural son, butun son, ratsional son, irratsional son, haqiqiy son, sonning moduli, to‘rt amal tushunchasi, kasr son, kasrlarni taqqoslash, kasrlarni qo‘shish, kasrlarni ayirish, kasrlarni ko‘paytirish, kasrlarni bo‘lish, o‘nli kasr, cheksiz davriy o‘nli kasr, kvadrat ildiz, arifmetik kvadrat ildiz, sonli oraliqlar, sonli tengsizlik.

## MUSTAQIL YECHISH UCHUN MISOLLAR

$$1. \frac{1,4 : \left( \frac{1}{2} + \frac{1}{3} - \frac{1}{4} \right)}{\left( 3\frac{1}{6} \cdot 6 - 5\frac{1}{2} \cdot 2\frac{5}{11} \right) : 3\frac{2}{3}}.$$

j. 1,6

$$2. \frac{\left( 2 - 1\frac{3}{4} \cdot \frac{2}{7} \right) \left( 1\frac{1}{3} - 2\frac{1}{2} : 3\frac{3}{4} \right)}{2\frac{1}{3} : \left( \frac{1}{4} - \frac{5}{8} + \frac{7}{8} \right)}.$$

j.  $\frac{3}{14}$

$$3. \frac{11\frac{2}{3} \cdot 2\frac{4}{7}}{12\frac{4}{5} \cdot 3\frac{3}{4} - 4\frac{4}{11} \cdot 4\frac{1}{8}}.$$

j. 1

$$4. \frac{28\frac{4}{5} : 14\frac{2}{5} + 6\frac{3}{2} \cdot \frac{2}{3}}{1\frac{11}{16} : 2\frac{1}{4}}.$$

j.  $9\frac{1}{3}$

$$5. \frac{1\frac{9}{16} \cdot 3\frac{1}{5} - 9 : 2\frac{2}{5}}{1\frac{1}{3} \cdot \left( 17\frac{7}{12} - 6\frac{1}{3} \right) : \frac{3}{4}}.$$

j.  $\frac{1}{16}$

$$6. \left( \frac{0,012}{5} + \frac{0,04104}{5,4} \right) \cdot 4560 - 42\frac{1}{3}.$$

j.  $3\frac{4}{15}$

$$7. \frac{\left( 85\frac{7}{30} - 83\frac{5}{18} \right) : 2\frac{2}{3}}{0,04}.$$

j.  $18\frac{1}{3}$

$$8. \frac{\left( 140\frac{7}{30} - 138\frac{5}{12} \right) : 18\frac{1}{6}}{0,002}.$$

j. 50

$$9. \frac{\left( 95\frac{7}{30} - 93\frac{5}{18} \right) \cdot 2\frac{1}{4} + 0,373}{0,2}.$$

j. 23,865

$$10. \frac{\left( 12\frac{1}{6} - 6\frac{1}{27} - 5\frac{1}{4} \right) \cdot 13,5 + 0,111}{0,02}.$$

j. 599,3 11.

$$\frac{\left( 68\frac{7}{30} - 66\frac{5}{18} \right) : 6\frac{1}{9} + \left( \frac{7}{40} + \frac{3}{32} \right) \cdot 4,5}{0,04}.$$

j.  $38\frac{15}{64}$

12.  $\frac{(2,1-1,965):(1,2 \cdot 0,045)}{0,00325:0,013} - \frac{1:0,25}{1,6 \cdot 0,625}$ . j. 6
13.  $\left(17\frac{1}{2} - 8,25 \cdot \frac{10}{11}\right) \cdot \left(11\frac{2}{3} : \frac{2}{9} + 3,5\right)$  j. 560
14.  $\left(\frac{1}{2} - 0,375\right) : \frac{1}{8} - \frac{1}{4} \cdot (0,358 - 0,108)$  j.  $\frac{15}{16}$
15.  $(10,5 \cdot 2,04 - 0,1) \cdot (6,25 \cdot 0,2 + 0,8 : 0,64)$ . j. 53,3
16.  $\frac{2\frac{5}{8} - \frac{2}{3} \cdot 2\frac{5}{14}}{\left(3\frac{1}{12} + 4,375\right) : 19\frac{8}{9}}$ . j.  $2\frac{17}{21}$
17.  $\frac{0,134 + 0,05}{18\frac{1}{6} - 1\frac{11}{14} - \frac{2}{15} \cdot 2\frac{6}{7}}$ . j. 0,0115
18.  $\frac{\left(58\frac{4}{15} - 56\frac{7}{24}\right) : 0,8 + 2\frac{1}{9} \cdot 0,225}{8\frac{3}{4} \cdot \frac{3}{5}}$ . j.  $\frac{157}{280}$
19.  $\left[\frac{\left(6 - 4\frac{1}{2}\right) : 0,03}{\left(3\frac{1}{20} - 2,65\right) \cdot 4 + \frac{2}{5}} - \frac{\left(0,3 - \frac{3}{20}\right) \cdot 1\frac{1}{2}}{\left(1,88 + 2\frac{3}{25}\right) \cdot \frac{1}{80}}\right] : 2\frac{1}{20}$ . j. 10
20.  $\left(\frac{0,216}{0,15} + \frac{2}{3} : \frac{4}{15}\right) + \left(\frac{196}{225} - \frac{7,7}{24\frac{3}{4}}\right) + 0,695 : 1,39$ . j. 5
21.  $\frac{1}{3} : \frac{2}{3} + 0,228 : \left[\left(1,5291 - \frac{14,53662}{3 - 0,095} \cdot 0,305\right) : 0,12\right]$  j. 5
22.  $\frac{\left[\left(6,2 : 0,31 - \frac{5}{6} \cdot 0,9\right) \cdot 0,2 + 0,15\right] : 0,02}{\left(2 + 1\frac{4}{11} \cdot 0,22 : 0,1\right) \cdot \frac{1}{33}}$ . j. 1320
23.  $6 : \frac{1}{3} - 0,8 : \frac{1,5}{\frac{3}{2} \cdot 0,4 \cdot \frac{50}{1 : \frac{1}{2}}} + \frac{1}{4} + \frac{1 + \frac{1}{2} \cdot \frac{1}{0,25}}{6 - \frac{46}{1 + 2,2 \cdot 10}}$  j. 11

24.  $\frac{(7 - 6,35) : 6,5 + 9,9}{\left(1,2 : 36 + 1,2 : 0,25 - 1 \frac{5}{16}\right) : \frac{169}{24}}$ . j. 20
25.  $\frac{\left(\frac{1}{6} + 0,1 + \frac{1}{15}\right) : \left(\frac{1}{6} + 0,1 - 1 \frac{1}{15}\right) \cdot 2,52}{\left(0,5 - \frac{1}{3} + 0,25 - \frac{1}{5}\right) : \left(0,25 - \frac{1}{6}\right) \cdot \frac{7}{13}}$ . j.  $-\frac{3}{4}$
26.  $\frac{2 \frac{3}{4} : 1,1 + 3 \frac{1}{3} : \frac{5}{7} - \left(2 \frac{1}{6} + 4,5\right) \cdot 0,375}{2,5 - 0,4 \cdot 3 \frac{1}{3} : \frac{1}{2}}$ . j. 5
27.  $\frac{\left(13,75 + 9 \frac{1}{6}\right) \cdot 1,2 + \left(6,8 - 3 \frac{3}{5}\right) \cdot 4 \frac{1}{6} - 27 \frac{1}{6}}{\left(10,3 - 8 \frac{1}{2}\right) \cdot \frac{5}{9} + \left(3 \frac{2}{3} - 3 \frac{1}{6}\right) \cdot 56}$ . j.  $\frac{34}{42}$
28.  $\frac{0,4 + \left(5 - 0,8 \cdot \frac{5}{8}\right) - 5 : 2 \frac{1}{2}}{\left[1 \frac{7}{8} \cdot 8 - \left(8,9 - 2,6 \cdot \frac{2}{3}\right)\right] : 23 \frac{1}{2}}$ . j.  $8 \frac{7}{10}$
29.  $\frac{0,125 : 0,25 + 1 \frac{9}{16} : 2,5}{(10 - 2 : 2,3) \cdot 0,46 + 1,6} + \left(\frac{17}{20} + 1,9\right) : 0,5$ . j.  $5 \frac{23}{28}$
30.  $\left[\frac{8,8077}{20 - [28,2 : (13,333 \cdot 0,3 + 0,0001)] \cdot 2,004} + 4,9\right] \cdot \frac{5}{32}$ . j. 1



**VII - BOB.**  
**MAKTABDA AYNIY SHAKL ALMASHTIRISHLARNI O'RGATISH**  
**METODIKASI**

---

**1-§. Ayniy shakl almashtirishlar.**

Algebraik ifodalarni ayniy almashtirishlar maktab matematika kursida muhim o'rin egallaydi va VI-XI sinflarning dastur materiallarini o'rganish jarayonida qo'llaniladi. Maktab matematika kursida sonlar va harflar bilan belgilangan algebraik ifodalarni qo'shish, ayirish, ko'paytirish va bo'lish, darajaga ko'tarish, ildiz chiqarish va logarifmlash kabi amallar bajariladi. Bu amallarni bajarish jarayonida ana shu algebraik ifodalarning miqdoriy qiymatlarini saqlab, ularni turli ko'rinishlarda yozishga to'g'ri keladi.

**Ta'rif.** *Algebraik ifodaning miqdoriy qiymatini o'zgarmsdan bir shakldan ikkinchi bir shaklga o'zgartirib yozish ayniy almashtirish deyiladi.*

Maktab matematika kursida ayniyat degan tushuncha o'rganiladi, so'ngra ayniy almashtirish degan tushuncha kiritiladi.

**Ta'rif.** *Tarkibidagi xarflarni har qanday qiymatlarida ham to'g'ri bo'laveradigan ikki algebraik ifodaning tengligi ayniyat deyiladi.*

Masalan,  $\frac{x^3-1}{x-1} = x^2 + x + 1$  tenglik ayniyatdir, chunki tenglikda qatnashayotgan noma'lum  $x$  ning ixtiyoriy qiymatlarida tenglikning chap tomoni uning o'ng tomoniga har doim teng chiqadi. 6-sinfda o'rganiladigan qisqa ko'paytirish formulalari ham ayniy tengliklardir:

$$1) (a \pm b)^2 = a^2 \pm 2ab + b^2;$$

$$2) (a \pm b)^3 = a^3 \pm 3a^2b + 3ab^2 \pm b^3;$$

$$3) a^3 \pm b^3 = (a \pm b)(a^2 \mp ab + b^2);$$

$$4) a^2 - b^2 = (a - b)(a + b).$$

Yuqoridagi ta'rif va misollardan ko'rinadiki, ayniyat arifmetik amallar qonunlarining harfiy ifodalangan shakli ekan. Ayniy shakl almashtirishlarda algebraik ifodalarni solishtirish, ular ustida amallar bajarish uchun ifodalardagi birhad va ko'phadlarning shaklini o'zgartirish kabi ishlarni bajarish ko'zda tutiladi.

Maktab matematika kursidagi ayniy shakl almashtirishlarni shartli ravishda quyidagicha ketma-ketlik asosida ifodalash mumkin:

1. Butun ifodalarni ayniy almashtirish.
2. Kasr ifodalarni ayniy almashtirish.
3. Irratsional ifodalarni ayniy almashtirish.
4. Trigonometrik ifodalarni ayniy almashtirish.

Har qaysi almashtirishni ko‘rib chiqamiz.

1. Butun ifodalarni ayniy almashtirish. Ayniyat va ayniy almashtirish tushunchalari VI sinfdan boshlab kiritiladi, lekin I sinf matematika darslaridayoq ayniy almashtirishlar bajariladi. Masalan  $3+2=5$  ifodaning yig‘indisini hisoblash  $3+(1+1)=(3+1)+1=4+1=5$  kabi ayniy almashtirish yordamida bajariladi. IV-V sinflarda sonlar ustida murakkabroq ayniy almashtirishlar bajariladi. Masalan:  $52=5\check{1}0+2=5\check{5}\check{2}+2=25\check{2}+2$ ;  $35=3\check{1}0+5= =3\check{5}\check{2}+5=6\check{5}+5$ . Bu misollarda bajarilgan ishlar o‘quvchilariga ayniy almashtirish deb o‘rgatilmaganda lekin aslida sonlar ustida ayniy almashtirish bajariladi.

Bizga ma‘lumki, ratsional algebraik ifodalar arifmetik to‘rt amal hamda darajaga ko‘tarish amallari asosida tuziladi. Agar algebraik ifoda qo‘shish, ayirish, ko‘paytirish va darajaga ko‘tarish amallari asosida tuzilgan bo‘lsa, u holda bunday ifodalar butun ifodalar deyiladi. Masalan:

- |                        |                        |
|------------------------|------------------------|
| 1) $5y^2(2x^2 - 3y)$ ; | 5) $\frac{5x-1}{4}$ ;  |
| 2) $(x+y)(y-x)$ ;      | 6) $\frac{x^2-y^2}{7}$ |
| 3) $(2x+5)(7-3x)$ ;    |                        |
| 4) $(c+5)(c^2-3c+5)$ ; |                        |

Butun ifodalarni ayniy almashtirishdagi asosiy vazifa berilgan matematik ifodani ko‘phadlarni imkoniyati boricha algebraik amallar yordamida standart shaklidagi birhadlar ko‘rinishiga keltirib soddalashtirishdan iboratdir. Shu yerda o‘qituvchi o‘quvchilarga o‘xshash hadlar, birhad va ko‘phad tushunchalarini tushuntirish hamda ularga misollar ko‘rsatishi lozim.

Har qanday algebraik ifoda birhad va ko‘phadlardan iborat bo‘ladi.

**Ta‘rif.** *Ko‘paytirish va darajaga ko‘tarish amallari yordamida tuzilgan ifodalarni birhad deyiladi.*

Masalan:  $5y^2x$ ,  $\frac{4}{5}xya^2$ ;...

Birhadlarni ham standart shakllarga keltirish misollar yordamida tushuntiriladi. Masalan:  $6x \times 4y$  birhad sodda holga keltirilsin. Bu misolga biz

ko'paytirish, o'rin almashtirish va gruppalash qonunlarini qo'llasak,  $6x \cdot 4y = 24xy$  bo'ladi.

**Ta'rif:** *Bir necha birhadlarning yig'indisidan iborat bo'lgan ifoda ko'phad deyiladi.*

Masalan: 1)  $5x^2y + \frac{3}{5}y^2x$

2)  $13a^2b + \frac{4}{7}c^2a + \frac{3}{5}a^2b$

Yuqorida ta'rif va misollardan ko'rinadiki, birhad ko'phadning xususiy holi ekan.

**Ta'rif:** *Ko'phadning o'zaro koeffitsientlari bilangina farq qiladigan yoki butun koeffitsientli bo'lgan hadlari o'xshash hadlar deyiladi. O'xshash hadlarni arifmetik amallar yordamida birhad ko'rinishida ifodalashni ixchamlash deyiladi.*

Masalan:

1)  $20y^2x + 4zt - 12y^2x - 3tz = 20y^2x - 12y^2x + (4zt - 3tz) = 8y^2x + zt$

2)  $2,4a^2b^2 + 3,2cd - 1,4a^2b^2 - 2,5cd = (2,4a^2b^2 - 1,4a^2b^2) + (3,2cd - 2,5cd) = a^2b^2 + 0,7cd$

Butun ifodalarni ayniy almashtirishda belgilangan ko'phadlar birhadlarga, birhadlar esa standart shaklga keltiriladi. Bu ishlarni bajarishda o'qituvchi o'quvchilarni bir xil hadlardan iborat ko'phadlarni standart shaklga keltirishdan boshlashi kerak.

Ifodalarni soddalashtiring:

1.  $x + x + x = x \cdot 3 = 3x;$

2.  $x+x+x+x+x=(x+x)+(x+x+x)=2x+3x=5x;$

3.  $(1,2x^2)(-5x)+(-7x)-(-2x)(3x^2)=-6x^3-7x+6x^3=-7x$

4.  $(5x^2y - 14x^3 - 8xy^2) + (3x^3 - 7x^2y + 9xy^2) = 5x^2y - 14x^3 - 8xy^2 + 3x^3 - 7x^2y + 9xy^2 = -2x^2y - 11x^3 + xy^2$

Shundan keyin qisqa ko'paytirish formulalari yordamida soddalashtiriladigan misollarni ko'rsatish lozim.

1)  $(2x+3y)^2 + (4y-5x)^2 = 4x^2 + 12xy + 9y^2 + 16y^2 - 40xy + 25x^2 = 29x^2 - 28xy + 25y^2.$

2)  $(xy+4y)^3 - (2xy-3y)^3 = (xy)^3 + 3(xy)^2 \cdot 4y + 3xy(4y)^2 + (4y)^3 - [(2xy)^3 - 3(2xy)^2 \cdot 3y + 3 \cdot 2xy(3y)^2 - (3y)^3] = x^3y^3 + 12x^2y^3 + 48xy^3 + 64y^3 - 8x^3y^3 + 36x^2y^3 - 54xy^3 + 27y^3 = -7x^3y^3 + 48x^2y^3 - 6xy^3 - 6xy^3 + 91y^3.$

4) Ifoda soddalashtirilsin:  $(a-b+c+d)^2 + (a+b-c+d)^2$

**1-usul:**  $(a-b+c+d)^2 + (a+b-c+d)^2 = [(a+d)-(b-c)]^2 + [(a+d)+(b-c)]^2 = (a+d)^2 - 2(a+d)(b-c) + (b-c)^2 + (a+d)^2 + 2(a+d)(b-c) + (b-c)^2 = 2[(a+d)^2 + (b-c)^2].$

**2-usul:**  $(a-b+c+d)^2=A$  deb  $(a+b-c+d)^2=B$  deb belgilasak,  $A^2+B^2$  hosil bo'ladi.  $A^2+B^2$  ni ayniy almashtirish orqali quyidagicha yozish mumkin:  $A^2+B^2=(A+B)^2-2AB$ , bularga asosan  $(a-b+c+d)^2+(a+b-c+d)^2=(a-b+c+d+a+b-c+d)^2-2(a-b+c+d)\cdot(a+b-c+d)=$   
 $= (2a+2d)^2-2(a-b+c+d)(a+b-c+d)=4(a+d)^2-2[(a+d)^2-(b-c)^2]=2[(a+d)^2+(b-c)^2]$ .

## 2-§. Kasr ifodalarni ayniy almashtirish

VII sinf algebra kursidan boshlab kasr ratsional ifodalarni ayniy almashtirish bajariladi.

**Ta'rif:** Agar algebraik ifoda qo'shish, ayirish, ko'paytirish va bo'lish amallari yordamida sonlar va o'zgaruvchilardan tuzilgan bo'lsa, u holda bunday ifodani kasr ratsional ifoda deyiladi.

Masalan:  $\frac{y^2-1}{y}$ ;  $\frac{x^2-3x-4}{x+4}$ ;  $\frac{x+5}{x(x-2)}$ ; ....

Kasr ratsional ifodalarni ayniy almashtirish jarayonida ana shu ifoda qatnashayotgan noma'lum sonlarning qabul qiladigan qiymatlarini aniqlash lozim.

**Ta'rif:** Kasr ratsional ifodadagi o'zgaruvchilarning ma'noga ega bo'ladigan qiymatlari o'zgaruvchilarning qabul qiladigan qiymatlari deyiladi.

Masalan,  $\frac{2x-y}{4xy} + \frac{11y-2x}{4xy}$  kasr ratsional ifodadagi x va y larning qabul

qiladigan qiymatlari  $x=0$ , va  $y=0$  dan boshqa barcha son qiymatlardan iboratdir. Agar x va y o'zgaruvchilardan biri nol qiymatini qabul qilsa, kasrning maxraji nol bo'lib, o'zining ma'nosini yo'qotadi, chunki har qanday sonni nolga bo'lish mumkin emas.

Kasr ratsional ifodalarni ayniy almashtirishdagi asosiy vazifa berilgan ifodaning surat va maxrajlarida turgan ko'phadlarni ayniy almashtirishlar bilan bir hadlar ko'rinishiga keltirishdan iboratdir.

Kasr ratsional ifodalarni ayniy almashtirishdan oldin o'qituvchi kasr va ular ustida bajariladigan to'rt amalga doir sonli misollardan namunalar ko'rsatib, so'ngra esa harfiy ifodalar qatnashgan kasrlar ustida bajariladigan ayniy almashtirishlarni ko'rsatishi maqsadga muvofiqdir.

1. a)  $\frac{2}{3} + \frac{1}{5} = \frac{2 \cdot 5}{3 \cdot 5} + \frac{1 \cdot 3}{5 \cdot 3} = \frac{10+3}{15} = \frac{13}{15}$ ;
- b)  $\frac{x}{a} + \frac{y}{c} = \frac{x \cdot c}{a \cdot c} + \frac{y \cdot a}{c \cdot a} = \frac{xc + ya}{ca}$ ;
2. a)  $\frac{4}{7} - \frac{1}{9} = \frac{4 \cdot 9}{7 \cdot 9} - \frac{1 \cdot 7}{9 \cdot 7} = \frac{36}{63} - \frac{7}{63} = \frac{36-7}{63} = \frac{29}{63}$ ;

$$\begin{aligned} \text{b)} \quad & \frac{a}{b} - \frac{c}{d} = \frac{a \cdot d}{b \cdot d} - \frac{c \cdot b}{d \cdot b} = \frac{ad - cb}{db}; \\ \text{3. a)} \quad & \frac{5}{6} \cdot \frac{3}{4} = \frac{5 \cdot 3}{6 \cdot 4} = \frac{5}{8}; \quad \text{b)} \quad \frac{a}{b} \cdot \frac{c}{d} = \frac{ac}{bd}; \\ \text{4. a)} \quad & \frac{7}{9} : \frac{28}{36} = \frac{7}{9} \cdot \frac{36}{28} = \frac{4}{4} = 1; \quad \text{b)} \quad \frac{a}{b} : \frac{c}{d} = \frac{a}{b} \cdot \frac{d}{c} = \frac{ad}{bc}; \end{aligned}$$

Yuqorida o'xshash misollarni ko'rsatgandan so'ng o'qituvchi yana bir ayniy almashtirishning mazmunini quyidagicha tushuntirishi lozim. Har qanday ayniy almashtirishning maqsadi misol yoki masalani yechish uchun berilgan matematik ifodani eng sodda yoki qulay holatga keltirib hisoblashdan iboratdir.

**1-misol.**  $\frac{a^2 - 25}{a + 3} \cdot \frac{a}{a^2 + 5a} - \frac{a + 5}{a^2 + 3a}$  ifodani soddalashtiring.

Yechish.

$$\begin{aligned} 1) \quad & \frac{a^2 - 25}{a + 3} \cdot \frac{a}{a^2 + 5a} = \frac{a^2 - 5^2}{a + 3} \cdot \frac{a}{a(a + 5)} = \frac{(a - 5)(a + 5)}{(a + 3)} \cdot \frac{a}{a(a + 5)} = \frac{a - 5}{a + 3} \\ 2) \quad & \frac{a - 5}{a + 3} - \frac{a + 5}{a^2 + 3a} = \frac{a - 5}{a + 3} - \frac{a + 5}{a(a + 3)} = \frac{(a - 5)a}{(a + 3)a} - \frac{a + 5}{a(a + 3)} = \frac{a^2 - 5a - a - 5}{a(a + 3)} = \frac{a^2 - 6a - 5}{a(a + 3)} \end{aligned}$$

**2-misol.**  $(\frac{5x + y}{x^2 - 5xy} + \frac{5x - y}{x^2 + 5xy}) \cdot \frac{x^2 - 25y^2}{x^2 + y^2}$  ifodani soddalashtiring.

Yechish:

$$\begin{aligned} 1) \quad & \frac{5x + y}{x^2 - 5xy} + \frac{5x - y}{x^2 + 5xy} = \frac{5x + y}{x(x - 5y)} + \frac{5x - y}{x(x + 5y)} = \frac{(5x + y)(x + 5y)}{x(x - 5y)(x + 5y)} + \frac{(5x - y)(x - 5y)}{x(x + 5y)(x - 5y)} = \\ & = \frac{5x^2 + xy + 25xy + 5y^2 + 5x^2 - xy - 25xy + 5y^2}{x(x + 5y)(x - 5y)} = \frac{10x^2 + 10y^2}{x(x + 5y)(x - 5y)}; \\ 2) \quad & \frac{10x^2 + 10y^2}{x(x + 5y)(x - 5y)} \cdot \frac{x^2 - 25y^2}{x^2 + y^2} = \frac{10(x^2 + y^2)}{x(x + 5y)(x - 5y)} \cdot \frac{(x - 5y)(x + 5y)}{x^2 + y^2} = \frac{10}{x} \end{aligned}$$

### MUSTAQIL YECHISH UCHUN MISOLLAR.

$$\begin{aligned} 1. \quad & (2x + 1 - \frac{1}{1 - 2x}) : (2x - \frac{4x^2}{2x - 1}). & \text{J. } -2x \\ 2. \quad & (a^2 + 2a + 1)(\frac{1}{a + 1} + \frac{1}{a^2 - 1} - \frac{1}{a - 1}) & \text{j. } \frac{1 + a}{1 - a} \\ 3. \quad & (1 - \frac{9x^2 + 4}{12x}) : (\frac{1}{3x} - \frac{1}{2}) + 1 & \text{j. } 1,5x \\ 4. \quad & 1 - (\frac{2}{a - 2} - \frac{2}{a + 2}) \cdot (a - \frac{3a + 2}{4}) & \text{j. } \frac{a}{a + 2} \\ 5. \quad & (y^2 - 4)(\frac{3}{y + 2} - \frac{2}{y - 2}) + 3 & \text{j. } y - 7. \\ 6. \quad & (a + b - \frac{2ab}{a + b}) : (\frac{a - b}{a + b} + \frac{b}{a}). & \text{J. } a \\ 7. \quad & (m + 1 - \frac{1}{1 - m}) : (m - \frac{m^2}{m - 1}). & \text{J. } -m \end{aligned}$$

8.  $\left[ \frac{x-2y}{x+2y} - \frac{1}{x^2-4y^2} : \frac{x+2y}{(2y-x)^3} \right] \cdot \frac{(x+2y)^2}{4y^2}$     j.  $\frac{x^2-2xy}{2y^2}$
9.  $\left( \frac{2a}{2a+b} - \frac{4a^2}{4a^2+4ab+b^2} \right) : \left( \frac{2a}{4a^2-b^2} + \frac{1}{b-2a} \right)$     J.  $\frac{2ab-4a^2}{2a+b}$
10.  $\left[ \frac{a-1}{3a+(a-1)^2} - \frac{1-3a+a^2}{a^3-1} - \frac{1}{a-1} \right] : \frac{a^2-1}{1-a}$     j.  $\frac{a^2+1}{(a^2+a+1)(a^2-1)}$
11.  $\left( \frac{1}{x+1} - \frac{3}{x^3+1} + \frac{3}{x^2-x+1} \right) \cdot \left( x - \frac{2x-1}{x+1} \right)$     j. 1
12.  $\left( a+2b + \frac{4b^2}{a-2b} \right) : \left( a - \frac{2ab}{a+2b} \right) + 1$     j.  $\frac{2a}{a-2b}$
13.  $a^2 - b^2 - c^2 + 2bc : \frac{a+b-c}{a+b+c}$     j.  $a^2 - (b+c)^2$
14.  $\left( \frac{5x^2-15xy}{x^2-9y^2} - \frac{3xy+9y^2}{x^2+6xy+9y^2} \right) : \left( \frac{5}{y} - \frac{3}{x} \right)$     J.  $\frac{xy}{x+3y}$
15.  $\left( \frac{4a^2-6ac}{4a^2-6ac+9c^2} - \frac{6ac+9c^2}{4a^2+6ac+9c^2} \right) \cdot \frac{6a+9c}{4a^2+9c^2}$     j.  $\frac{3}{2a-3c}$
16.  $\left( x - \frac{4xy}{x+y} + y \right) \cdot \left( x + \frac{4xy}{x-y} - y \right)$     j.  $x^2 - y^2$
17.  $\left( a - \frac{1-2a^2}{1-a} + 1 \right) : \left( 1 - \frac{1}{1-a} \right)$     j.  $-a$
18.  $ab + \frac{ab}{a+b} \cdot \left[ \frac{a+b}{a-b} - a - b \right]$     j.  $\frac{ab}{a-b}$
19.  $\left( \frac{y^2-xy}{x^2+xy} - xy + y^2 \right) \cdot \frac{x}{x-y} + \frac{x}{x+y}$     j.  $-xy-1$
20.  $\left[ \frac{1}{(2a-b)^2} + \frac{2}{4a^2-b^2} + \frac{1}{(2a+b)^2} \right] \cdot \frac{4a^2+4ab+b^2}{16a}$     j.  $\frac{a}{(2a-b)^2}$
21.  $\frac{4}{(c-2)^2} : \left( \frac{1}{(c+2)^2} + \frac{1}{(c-2)^2} + \frac{1}{c^2-4} \right)$     j.  $\frac{4(c+2)^2}{3c^2+4}$
22.  $\left( \frac{25}{a^2+5a+25} - \frac{2a}{5-a} - \frac{2a^3+10a^2}{a^3-125} \right) : \left( a-5 + \frac{13a-a^2-30}{a-5} \right)$     j.  $\frac{25}{a^2+5a+25}$
23.  $\frac{x}{ax-2a^2} - \frac{2}{x^2+x-2ax-2a} \cdot \left( 1 + \frac{3x+x^2}{3+x} \right)$     j.  $\frac{1}{a}$
24.  $\left( \frac{x}{x^2-x-6} - \frac{x-1}{3x^2-4x-15} \right) : \frac{x^4-2x^2+1}{3x^2+11x+10}$     j.  $\frac{2}{(x-3)(x-1)^2}$
25.  $\frac{a^2}{6x(a+x)^2} - \left( \frac{a-x}{2a+2x} + \frac{ax}{a^2-x^2} \right) \cdot \frac{a-x}{3x} \cdot \frac{x}{6a+6x}$     j.  $\frac{6a^2-a^2x-x^3}{36x(a+x)^2}$
26.  $\frac{a-x}{2a+2} \cdot \left( \frac{2a+1}{a+x} - \frac{x(2a+1)}{x^2-a^2} + \frac{x}{a+x} - 1 \right)$     j.  $\frac{a^2+ax-x^2}{2(a+1)(x+a)}$
27.  $\left( \frac{x+1}{x^2+xy} - \frac{1}{x^2-y^2} \right) \cdot \frac{(x-y)^2}{x^2-y-yx} + \frac{y-x}{(x+y)^2}$     j.  $\frac{y}{x} \cdot \frac{x-y}{(x+y)^2}$

28.  $\frac{1}{\frac{1}{a^2}(a^2 - b^2)} - \frac{a^2b}{a^2 + b^2} \cdot \left[ \frac{1}{\frac{1}{a}(ab + b^2)} + \frac{1}{\frac{1}{b}(a^2 + ab)} \right]$       j.  $\frac{ab}{a^2 - b^2}$ .
29.  $\left[ \left( \frac{1}{c^2} - \frac{1}{a^2} \right) \left( \frac{1}{c^2} + \frac{1}{a^2} \right) + \left( \frac{1}{c^2} + \frac{1}{b^2} \right) \left( \frac{1}{b^2} - \frac{1}{c^2} \right) \right] : \left( \frac{1}{b^2} + \frac{1}{a^2} \right)$       j.  $\frac{a^2 - b^2}{a^2 + b^2}$ .
30.  $\left[ \frac{p}{q} - \frac{q}{p} + \frac{1}{p+q} \left( \frac{q^2}{p} - \frac{p^2}{q} \right) \right] : \left( 1 - \frac{q}{p} \right)$       j.  $\frac{p}{p+q}$ .
31.  $\left( \frac{1}{a+b} + \frac{1}{a-b} \right) \cdot \left\{ \left( \frac{a}{b} + \frac{b}{a} - 2 \right) : \left[ \frac{a^2 + ab}{\frac{1}{2}(a^2 + 2ab + b^2)} - 1 \right] \right\}$       j.  $\frac{2}{b}$ .
32.  $\frac{a^3 - 1}{n^2 + an} \cdot \left( \frac{1}{1 - \frac{1}{n}} - 1 \right) \cdot \frac{a - an^3 - n^4 + n}{1 - a^2}$       j.  $\frac{n^2 + n + 1}{n} \cdot \frac{(1 + a + a^2)}{a + 1}$ .
33.  $\left( \frac{2a + 10}{3a - 1} + \frac{130 - a}{1 - 3a} + \frac{30}{a} - 3 \right) \cdot \frac{3a^3 + 8a^2 - 3a}{1 - \frac{1}{4}a^2}$       j.  $\frac{12(2a + 5)(a + 3)}{a - 2}$ .
34.  $\left[ \frac{3(x+2)}{2(x^3 + x^2 + x + 1)} + \frac{2x^2 - x - 10}{2(x^3 - x^2 + x - 1)} \right] : \left[ \frac{5}{x^3 + 1} + \frac{3}{2(x+1)} - \frac{3}{2(x-1)} \right]$       j.  $\frac{x+2}{2}$ .
35.  $\left( \frac{x-y}{2y-x} - \frac{x^2 + y^2 + y - 2}{x^2 - xy - 2y^2} \right) : \frac{4x^4 + 4x^2y + y^2 - 4}{x^2 + y + xy + x}$       j.  $\frac{x+1}{(2y-x)(2x^2 + y + 2)}$ .
36.  $\frac{a^2 + a - 2}{a^{n+1} - 2a^n} \cdot \left[ \frac{(a+2)^2 - a^2}{4a^2 - 4} - \frac{3}{a^2 - a} \right]$       j.  $\frac{a+2}{a^{n+1}}$ .
37.  $\frac{1}{a(a-b)(a-c)} + \frac{1}{b(b-a)(b-c)} + \frac{1}{c(c-a)(c-b)}$       j.  $\frac{1}{abc}$ .
38.  $\frac{2a^2(b+c)^{2n} - \frac{1}{2}}{an^2 - a^3 - 2a^2 - a} : \frac{2a(b+c)^n - 1}{a^2c - a(nc - c)}$       j.  $\frac{[2a(b+c)^n + 1]c}{2(n+a+1)}$ .
39.  $\frac{a-c}{a^2 + ac + c^2} \cdot \frac{a^3 - c^3}{a^2b - bc^2} \cdot \left( 1 + \frac{c}{a-c} - \frac{1+c}{c} \right) : \frac{c(1+c) - a}{bc}$       j.  $\frac{1}{a+c}$ .
40.  $\frac{\left[ \frac{(a+x)^2}{ax} - 4 \right] \cdot \left[ \frac{(a-x)^2}{ax} + 4 \right] : (a^6 - x^6)}{(a^2x - ax^2) : [(a+x)^2 - ax] \cdot [(a-x)^2 + ax]} \cdot \frac{a - \frac{ax}{a+x}}{a + \frac{ax}{a-x}}$       j.  $\frac{3(x-2)}{2(x+3)}$ .
41.  $\left( \frac{1+x+x^2}{2x+x^2} + 2 - \frac{1-x+x^2}{2x-x^2} \right)^{-1} \cdot 5 - 2x^2$       j.  $\frac{5-2x^2}{2}$ .
42.  $\frac{\left( m^2 - \frac{1}{n^2} \right)^m \cdot \left( n + \frac{1}{m^2} \right)^{n-m}}{\left( n^2 - \frac{1}{m^2} \right)^n \cdot \left( m + \frac{1}{n} \right)^{m-n}}$       j.  $\left( \frac{m}{n} \right)^{m+n}$ .

$$43. \left( \frac{3}{2x-y} - \frac{2}{2x+y} - \frac{1}{2x-5y} \right) : \frac{y^2}{4x^2-y^2} \quad \text{j.} \quad \frac{24}{5y-2x}.$$

$$44. \left( 1+2x - \frac{3x^2+11x-6}{3x+1} \right) : \left( x+1 - \frac{3x^2+x+2}{3x+1} \right) \quad \text{j.} \quad -\frac{3x^2-6x+7}{3x-1}.$$

$$45. \left( 5a-1 - \frac{5a^2+3}{a+1} \right) : \left( 3a - \frac{3a}{a+1} \right) \quad \text{j.} \quad \frac{4(a-1)}{3a^2}$$

$$46. \left[ \left( \frac{x}{y-x} \right)^{-2} - \frac{(x+y)^2-4xy}{x^2-xy} \right]^2 : \frac{x^4}{x^2y^2-y^4} \quad \text{j.} \quad \frac{x-y}{x+y}.$$

$$47. \left[ \left( \frac{1}{a} + \frac{1}{b+c} \right) : \left( \frac{1}{a} - \frac{1}{b+c} \right) \right] : \left( 1 + \frac{b^2+c^2-a^2}{2bc} \right) \quad \text{j.} \quad \frac{2bc}{(b+c-a)^2}.$$

### 3-§. Irratsional ifodalarni ayniy almashtirish.

Agar berilgan matematik ifodada irratsional ifoda qatnashgan bo'lsa, ayniy almashtirishlar orqali irratsional ifodani ratsional ifoda ko'rinishga keltiriladi va u hisoblanadi. Irratsional ifoda bu ildizlardan yoki butun son bo'lmagan ratsional ko'rsatkichli darajadan tashkil topgan algebraik ifodadir. Shuning uchun irratsional ifodaga quyidagicha ta'rif berilgan.

**Ta'rif.** Agar berilgan algebraik ifodada ildiz chiqarish amali qatnashsa, bunday ifoda irratsional ifoda deyiladi.

Irratsional ifodalarni ayniy almashtirish orqali ratsional ifoda ko'rinishiga keltirish uchun asosan ildiz ostida qatnashayotgan birhad yoki ko'phadni ildiz ostidan chiqarish, imkoniyati boricha maxrajni irratsionallikdan qutqarish, noma'lum o'zgaruvchilar kiritish orqali berilgan irratsional ifodani ratsional ifoda ko'rinishiga keltirish kabi ishlar qilinadi.

Bundan tashqari o'quvchilarga sonning arifmetik ildizi va uning kvadrat ildizi hamda irratsional ifodalarning xossalari kabi tushunchalar tushuntirib o'tilib, so'ngra quyidagi ko'rinishdagi misollarni yechish maqsadga muvofiqdir.

**1 - misol.**  $\frac{1}{\sqrt{5}-\sqrt{3}} - \frac{1}{\sqrt{3}-\sqrt{5}}$  ni hisoblang.

Yechish.

$$\frac{1}{\sqrt{5}-\sqrt{3}} - \frac{1}{\sqrt{3}-\sqrt{5}} = \frac{1}{\sqrt{5}-\sqrt{3}} + \frac{1}{\sqrt{5}-\sqrt{3}} = \frac{2}{\sqrt{5}-\sqrt{3}} = \frac{2(\sqrt{5}+\sqrt{3})}{(\sqrt{5}-\sqrt{3})(\sqrt{3}+\sqrt{5})} = \frac{2(\sqrt{5}+\sqrt{3})}{5-3} = \sqrt{5} + \sqrt{3}.$$

**2- misol.**  $\left( \frac{\sqrt{a}}{2} + \frac{3a\sqrt{a^5}}{4} - \frac{\sqrt{a^5}}{4a} \right) : (-\sqrt{a})$ . ifodani soddalashtiring.

Yechish.



$$1) \quad \frac{\sqrt{a}}{2} + \frac{3a\sqrt{a^5}}{4} - \frac{\sqrt{a^5}}{4a} = \frac{\sqrt{a}}{2} + \frac{3a\sqrt{a^4a}}{4} - \frac{\sqrt{a^4a}}{4a} =$$

$$= \frac{\sqrt{a}}{2} + \frac{3a^3\sqrt{a}}{4} - \frac{a^2\sqrt{a}}{4a} = \frac{2\sqrt{a} + 3a^3\sqrt{a} - a\sqrt{a}}{4} = \frac{\sqrt{a}}{4} \cdot (2 + 3a^3 - a).$$

$$2) \quad \frac{\sqrt{a}}{4} (2 + 3a^3 - a) : (-\sqrt{a}) = -\frac{1}{4} (2 + 3a^3 - a).$$

**3- misol.**  $\sqrt{a^3} + a\sqrt{9a} - \frac{1}{a}\sqrt{a^5}$  ifodani soddalashtiring.

Yechish.

$$\sqrt{a^3} + a\sqrt{9a} - \frac{1}{a}\sqrt{a^5} = a\sqrt{a} + 3a\sqrt{a} - a\sqrt{a} = 3a\sqrt{a}.$$

**4-misol.**  $\frac{a}{a-b} \sqrt[3]{(a^2 - 2ab + b^2)(a^2 - b^2)(a+b)} \cdot \frac{a^3 - b^3}{\sqrt[3]{(a+b)^2}}$

ifodani soddalashtiring.

$$\text{Yechish.} \quad \frac{a}{a-b} \sqrt[3]{(a^2 - 2ab + b^2)(a^2 - b^2)(a+b)} \cdot \frac{a^3 - b^3}{\sqrt[3]{(a+b)^2}} =$$

$$= \frac{a}{a-b} \sqrt[3]{(a-b)^2(a-b)(a+b)(a+b)} \cdot \frac{a^3 - b^3}{\sqrt[3]{(a+b)^2}} =$$

$$= \frac{a}{a-b} \cdot (a-b) \cdot \sqrt[3]{(a+b)^2} \cdot \frac{a^3 - b^3}{\sqrt[3]{(a+b)^2}} = a(a^3 - b^3).$$

**5-misol.**  $\left( \frac{x\sqrt{x} + y\sqrt{x}}{\sqrt{x} + \sqrt{y}} - \sqrt{xy} \right) : (x-y) + \frac{2\sqrt{y}}{\sqrt{x} + \sqrt{y}}$  ifodani soddalashtiring.

Yechish.

$$1) \quad \frac{x\sqrt{x} + y\sqrt{x}}{\sqrt{x} + \sqrt{y}} - \sqrt{xy} = \frac{x\sqrt{x} + y\sqrt{x} - \sqrt{xy} \cdot \sqrt{x} - \sqrt{xy} \cdot \sqrt{y}}{\sqrt{x} + \sqrt{y}} =$$

$$= \frac{x\sqrt{x} + y\sqrt{x} - x\sqrt{y} - y\sqrt{x}}{\sqrt{x} + \sqrt{y}} = \frac{x(\sqrt{x} - \sqrt{y})}{\sqrt{x} + \sqrt{y}};$$

$$2) \quad \frac{x(\sqrt{x} - \sqrt{y})}{\sqrt{x} + \sqrt{y}} : (x-y) = \frac{x(\sqrt{x} - \sqrt{y})}{\sqrt{x} + \sqrt{y}} \cdot \frac{1}{(\sqrt{x} + \sqrt{y})(\sqrt{x} - \sqrt{y})} = \frac{x}{(\sqrt{x} + \sqrt{y})^2};$$

$$3) \quad \frac{x}{(\sqrt{x} + \sqrt{y})^2} + \frac{2\sqrt{y}}{\sqrt{x} + \sqrt{y}} = \frac{x + 2\sqrt{y}(\sqrt{x} + \sqrt{y})}{(\sqrt{x} + \sqrt{y})^2} = \frac{x + 2\sqrt{xy} + 2y}{(\sqrt{x} + \sqrt{y})^2}.$$

**1 - m i s o l.**  $\frac{1}{\sqrt{5} - \sqrt{3}} - \frac{1}{\sqrt{3} - \sqrt{5}}$  ni hisoblang.

Yechish.

$$\frac{1}{\sqrt{5} - \sqrt{3}} - \frac{1}{\sqrt{3} - \sqrt{5}} = \frac{1}{\sqrt{5} - \sqrt{3}} + \frac{1}{\sqrt{5} - \sqrt{3}} = \frac{2}{\sqrt{5} - \sqrt{3}} = \frac{2(\sqrt{5} + \sqrt{3})}{(\sqrt{5} - \sqrt{3})(\sqrt{3} + \sqrt{5})} = \frac{2(\sqrt{5} + \sqrt{3})}{5 - 3} = \sqrt{5} + \sqrt{3}.$$

**2- misol.**  $\left( \frac{\sqrt{a}}{2} + \frac{3a\sqrt{a^5}}{4} - \frac{\sqrt{a^5}}{4a} \right) : (-\sqrt{a})$ . ifodani soddalashtiring.

Yechish.

$$1) \quad \frac{\sqrt{a}}{2} + \frac{3a\sqrt{a^5}}{4} - \frac{\sqrt{a^5}}{4a} = \frac{\sqrt{a}}{2} + \frac{3a\sqrt{a^4a}}{4} - \frac{\sqrt{a^4a}}{4a} =$$

$$= \frac{\sqrt{a}}{2} + \frac{3a^3\sqrt{a}}{4} - \frac{a^2\sqrt{a}}{4a} = \frac{2\sqrt{a} + 3a^3\sqrt{a} - a\sqrt{a}}{4} = \frac{\sqrt{a}}{4} \cdot (2 + 3a^3 - a).$$

$$2) \quad \frac{\sqrt{a}}{4} (2 + 3a^3 - a) : (-\sqrt{a}) = -\frac{1}{4} (2 + 3a^2 - a).$$

**3- misol.**  $\sqrt{a^3} + a\sqrt{9a} - \frac{1}{a}\sqrt{a^5}$  ifodani soddalashtiring.

Yechish.

$$\sqrt{a^3} + a\sqrt{9a} - \frac{1}{a}\sqrt{a^5} = a\sqrt{a} + 3a\sqrt{a} - a\sqrt{a} = 3a\sqrt{a}.$$

**4-misol.**  $\frac{a}{a-b} \sqrt[3]{(a^2 - 2ab + b^2)(a^2 - b^2)(a+b)} \cdot \frac{a^3 - b^3}{\sqrt[3]{(a+b)^2}}$

ifodani soddalashtiring.

$$\text{Yechish.} \quad \frac{a}{a-b} \sqrt[3]{(a^2 - 2ab + b^2)(a^2 - b^2)(a+b)} \cdot \frac{a^3 - b^3}{\sqrt[3]{(a+b)^2}} =$$

$$= \frac{a}{a-b} \sqrt[3]{(a-b)^2(a-b)(a+b)(a+b)} \cdot \frac{a^3 - b^3}{\sqrt[3]{(a+b)^2}} =$$

$$= \frac{a}{a-b} \cdot (a-b) \cdot \sqrt[3]{(a+b)^2} \cdot \frac{a^3 - b^3}{\sqrt[3]{(a+b)^2}} = a(a^3 - b^3).$$

**5-misol.**  $\left( \frac{x\sqrt{x} + y\sqrt{x}}{\sqrt{x} + \sqrt{y}} - \sqrt{xy} \right) : (x-y) + \frac{2\sqrt{y}}{\sqrt{x} + \sqrt{y}}$  ifodani soddalashtiring.

Yechish.

$$1) \quad \frac{x\sqrt{x} + y\sqrt{x}}{\sqrt{x} + \sqrt{y}} - \sqrt{xy} = \frac{x\sqrt{x} + y\sqrt{x} - \sqrt{xy} \cdot \sqrt{x} - \sqrt{xy} \cdot \sqrt{y}}{\sqrt{x} + \sqrt{y}} =$$

$$= \frac{x\sqrt{x} + y\sqrt{x} - x\sqrt{y} - y\sqrt{x}}{\sqrt{x} + \sqrt{y}} = \frac{x(\sqrt{x} - \sqrt{y})}{\sqrt{x} + \sqrt{y}};$$

$$2) \quad \frac{x(\sqrt{x} - \sqrt{y})}{\sqrt{x} + \sqrt{y}} : (x-y) = \frac{x(\sqrt{x} - \sqrt{y})}{\sqrt{x} + \sqrt{y}} \cdot \frac{1}{(\sqrt{x} + \sqrt{y})(\sqrt{x} - \sqrt{y})} = \frac{x}{(\sqrt{x} + \sqrt{y})^2};$$

$$3) \quad \frac{x}{(\sqrt{x} + \sqrt{y})^2} + \frac{2\sqrt{y}}{\sqrt{x} + \sqrt{y}} = \frac{x + 2\sqrt{y}(\sqrt{x} + \sqrt{y})}{(\sqrt{x} + \sqrt{y})^2} = \frac{x + 2\sqrt{xy} + 2y}{(\sqrt{x} + \sqrt{y})^2}.$$

## MUSTAQIL YECHISH UCHUN MISOLLAR.

1.  $\frac{\sqrt{1+x}}{\sqrt{1+x}-\sqrt{1-x}} + \frac{\sqrt{1-x}}{\sqrt{1+x}+\sqrt{x-1}} \quad j. \quad \frac{1}{x}(x+\sqrt{1-x^2})$
2.  $\frac{a-\sqrt{a^2-4}}{a+\sqrt{a^2-4}} + \frac{a-\sqrt{a^2-4}}{a+\sqrt{a^2+4}} : \frac{a-\sqrt{a^2-4}}{a+\sqrt{a^2+4}} \quad j. \quad \frac{2a}{a+\sqrt{a^2-1}}$
3.  $\left(\frac{\sqrt{y+1}}{\sqrt{y+1}-\sqrt{y}} - \frac{\sqrt{y}}{\sqrt{y+1}+\sqrt{y}}\right) : (2y+1) + \sqrt{\frac{1}{y^2}-1} - 1 \quad j. \quad \frac{1}{y}\sqrt{1-y^2}$
4.  $\frac{\sqrt[3]{a}}{\sqrt[3]{a}-\sqrt[3]{b}} - 1 \quad j. \quad -\frac{\sqrt[3]{a^2b} + \sqrt[3]{ab^2} + b}{a-b}$  agar  $a \neq b$  bo'lsa.
5.  $3b^4\sqrt{\frac{a^7\sqrt[3]{a^2}}{27b^2}} \quad j. \quad a^{\sqrt[12]{27a^{11}b^6}}$  agar  $b > 0, a \geq 0$  bo'lsa.
6.  $(x^{\frac{1}{2}} + y^{\frac{1}{2}})^2 - (4xy)^{\frac{1}{2}} \quad j. \quad x + y$
7.  $\frac{(\sqrt{x}+1)(x^2-\sqrt{x})^{-1}}{(x+\sqrt{x}+x\sqrt{x})^{-1}} \quad j. \quad \frac{\sqrt{x}+1}{\sqrt{x}-1}$
8.  $\frac{a-1}{a^{\frac{3}{4}}+a^{\frac{1}{2}}} \cdot \frac{\sqrt{a}+\sqrt[4]{a}}{\sqrt{a}+1} \cdot a^{\frac{1}{4}} + 1 \quad j. \quad \sqrt{a}$
9.  $\left[\frac{(1-x^2)^{\frac{1}{2}}+1}{2}\right]^{\frac{1}{2}} + \left[\frac{(1-x^2)^{\frac{1}{2}}-1}{2}\right]^{\frac{1}{2}} \quad j. \quad \frac{2^{\sqrt[4]{4-x^2}}}{x}$
10.  $\left(\frac{y-\sqrt{xy}}{\sqrt{x}+\sqrt{y}} + \sqrt{x}\right) : \left(\frac{y}{\sqrt{xy}-x} + \frac{x}{\sqrt{xy}+x} - \frac{x+y}{\sqrt{xy}}\right) \quad j. \quad \sqrt{y}-\sqrt{x}$
11.  $\left(\frac{\sqrt{x^3}-2}{\sqrt{x}-2x} + \sqrt{x}\right) \left(\frac{\sqrt{x^3}+2}{\sqrt{x}+2x} - \sqrt{x}\right) : \frac{1+\frac{1}{4}x^2}{x-\frac{1}{4}} \quad j. \quad \frac{1-x}{x}$

12.  $\left(\frac{\sqrt[4]{a^3} - \sqrt[4]{a} + 1 + \sqrt{a}}{1 - \sqrt{a} + \sqrt[4]{a}}\right)^2 : \left(1 + \frac{2}{\sqrt{a}} + \frac{1}{a}\right) \quad j. \frac{\sqrt{a}}{(\sqrt{a}+1)^2}.$
13.  $\frac{(a+b)^{\frac{1}{2}} - \sqrt{a-b}}{\sqrt{a+b} + \sqrt{a-b}}. \quad j. \frac{a - \sqrt{a^2 - b^2}}{b}.$
14.  $\left[ a^2 (a^2 + b^2)^{\frac{1}{2}} + \sqrt{a^2 + b^2} \cdot 2^{-1} \right] : \frac{a + \sqrt{a^2 + b^2}}{a(a^2 + b)^{\frac{1}{2}} + 1}. \quad j. \frac{3a^2 + b^2}{2(a^2 + b^2)}.$
15.  $\frac{c + \sqrt{c^2 - 4} + 2}{c - \sqrt{c^2 - 4} + 2} + \frac{c - \sqrt{c^2 - 4} + 2}{c + 2 + \sqrt{c^2 - 4}} - 2c. \quad j. -c$
16.  $\frac{a^{\frac{1}{2}} + 1}{a + a^{\frac{1}{2}} + 1} : \left(a^{\frac{3}{2}} - 1\right)^{-1} + 1 \quad j. a$
17.  $2a + \sqrt{a^2 - 1} \left( \frac{a^2}{a^2 - 1} + 1 \right) - 1 : \frac{a + (a^2 - 1)^{\frac{1}{2}}}{1 + a(a^2 - 1)^{\frac{1}{2}}}. \quad j. 2(a + \sqrt{a^2 - 1}).$
18.  $\frac{x^2 + 2 + \sqrt{x^2 - 4}}{x^2 + 2 - \sqrt{x^2 - 4}} + \frac{x^2 + 2 - \sqrt{x^2 - 4}}{x^2 + 2 + \sqrt{x^2 - 4}}. \quad |x| > 2 \quad j. x.$
19.  $\frac{1}{2} \left( \frac{3x^{-1}}{x^2 - x^{-1}} - \frac{x}{x^4 - x} \right) (x^2 + x + 1) : \quad x \neq 0, x \neq 1. \quad j. \frac{1}{x-1}$
20.  $\frac{\sqrt{a^3} + \sqrt{b^3}}{\sqrt{[a(a-b)]^4}} \cdot \frac{a^{\frac{2}{3}}(a\sqrt{a} - b\sqrt{b})}{\sqrt[3]{(a-b)}}. \quad j. a^2 + ab + b^2 \dots$
21.  $\frac{\sqrt{\frac{1+a}{1-a}} + \sqrt{\frac{1-a}{1+a}}}{\sqrt{\frac{1+a}{1-a}} - \sqrt{\frac{1-a}{1+a}}} - \frac{1}{a}. \quad j. 0.$

#### 4-§. Trigonometrik ifodalarni ayniy almashtirish

Maktab matematika kursining trigonometriya bo'limida juda ko'p ayniy munosabatlar, jumladan, quyidagi munosabatlar o'rganiladi:

1. Trigonometrik funksiyalarning birini ikkinchisi orqali ifodalaydigan ayniy almashtirishlar.

2. Trigonometrik ifodalarni soddalashtirishdagi ayniy almashtirishlar.

3. Trigonometrik ayniyatlarni isbotlashdagi ayniy almashtirishlar.

4. Trigonometrik tenglamalarni yechishdagi ayniy almashtirishlar.

Yuqoridagilardan ko'rinadiki, trigonometriya kursida ayniy almashtirishlar muhim o'rinni egallaydi. IX sinf geometriya kursida trigonometrik funksiyalarga ta'rif berilganidan so'ng, to'rtta trigonometrik funksiyalarni o'zaro bog'lovchi quyidagi uchta ayniyat o'rganiladi:

1.  $\cos^2 a + \sin^2 a = 1;$

2.  $\operatorname{tga} = \frac{\sin a}{\cos a};$

3.  $\operatorname{ctga} = \frac{\cos a}{\sin a}.$

Bu ayniyatlarni keltirib chiqarish maktab geometriya kursida batafsil bayon qilingan. Bu ayniyatdardan yana quyidagi uchta ayniyat keltirib chiqariladi:

1.  $\operatorname{tga} \cdot \operatorname{ctga} = 1;$  2.  $\frac{1}{\cos^2 a} = 1 + \operatorname{tg}^2 a;$  3.  $\frac{1}{\sin^2 a} = 1 + \operatorname{ctg}^2 a.$

Yuqoridagi ayniyatlar trigonometrik ifodalarni hisoblashda bajariladigan ayniy shakl almashtirishlarda eng ko'p ishlatiladigan ayniyatlar bo'lib hisoblanadi. O'qituvchi o'quvchilarga ildizli ifodalar ustida bajariladigan trigonometrik ayniy shakl almashtirishlarni bajarishga alohida e'tibor berish lozim. Masalan,  $\sqrt{1 - \cos^2 a}$  ifodani olaylik. Buni hisoblaydigan bo'lsak,  $\sqrt{1 - \cos^2 a} = \pm \sin a$  tengligi o'rinli bo'ladi.

O'quvchilarga  $\sqrt{1 - \cos^2 a} = \sin a$  va  $\sqrt{1 - \cos^2 a} = -\sin a$  tengliklarning ma'nosini tushuntirish lozim. Bu yerda  $\sqrt{1 - \cos^2 a} = \sin a$  qiymat I chorakdagi,  $\sqrt{1 - \cos^2 a} = -\sin a$  esa III chorakdagi qiymat ekanligini geometrik nuqtai nazaridan ko'rsatib tushuntirish maqsadga muvofiq. Bundan tashqari  $\alpha$  ning aniq son qiymatlarida ham bu ifodalarni hisoblash lozim. Masalan,  $a = \frac{\pi}{3}$  bo'lganda

$\sin \frac{p}{3} = \frac{\sqrt{3}}{2}$ , shuning uchun  $\sqrt{1 - \cos^2 a} = \frac{\sqrt{3}}{2}$ , ammo  $-\sin a = \sin\left(-\frac{p}{3}\right) = -\frac{\sqrt{3}}{2}$ . Demak,  $\sqrt{1 - \cos^2 a} = \pm \sin a$  ekan.

O‘quvchilar ayniy shakl almashtirishlarni yaxshi o‘zlashtirishlari uchun birinchidan trigonometrik funksiyalar ta’rifini, ulardan birini ikkinchisi orqali ifodalovchi va asosiy ayniyatlar kabi formulalarni bilishlariga, ikkinchidan esa ana shu formulalarni trigonometrik ifoda berilishiga qarab tadbiiq qila olish malakalariga bog‘liqdir. Maktab matematika kursidagi trigonometrik ayniy shakl almashtirishlarni og‘zaki bajarishga o‘quvchilarni o‘rgatish ularda mantiqiy matematik tafakkurni shakllantiradi. O‘qituvchi biror trigonometrik ifodaning shaklini almashtirishni bajarishdan oldin o‘quvchilarga eng sodda bo‘lgan og‘zaki trigonometrik mashqlardan namunalarni doskaga yozib, o‘quvchilardan tezroq og‘zaki soddalashtirishni bajarishlarini talab qilishi o‘quvchilarni trigonometrik ayniyat va formulalarni esda doimo saqlashlariga imkon yaratadi.

Masalan,

$$1 - \cos^2 a; \quad 1 - \sin^2 a; \quad (1 - \cos a)(1 + \cos a);$$

$$\sin a \cdot \operatorname{tga} \cdot \cos a; \quad \frac{\operatorname{tga}}{\operatorname{ctga}}; \quad \frac{1}{\operatorname{ctga}} - \operatorname{tga}; \quad \frac{\operatorname{tga}}{\operatorname{ctga}} + 1; \quad \frac{\cos a}{\operatorname{tga}};$$

Bundan keyin o‘qituvchi murakkabrok trigonometrik almashtirishlarni ko‘rsatishi maqsadga muvofiqdir.

**1-misol.**  $(1 - \sin a)(1 + \sin a) - \cos^2 a$  ifodani soddalashtiring.

**1-usul.**

$$(1 - \sin a)(1 + \sin a) - \cos^2 a = 1 - \sin^2 a - \cos^2 a =$$

$$= 1 - (1 - \cos^2 a) - \cos^2 a = 1 - 1 + \cos^2 a - \cos^2 a = 0.$$

**2-usul.**

$$(1 - \sin a)(1 + \sin a) - \cos^2 a = 1 - \sin^2 a - \cos^2 a =$$

$$= 1 - (\sin^2 a + \cos^2 a) = 1 - 1 = 0;$$

**2-misol.**  $\frac{\sin^4 x + \cos^4 x - 1}{\sin^6 x + \cos^6 x - 1}$  ifodani soddalashtiring.

$$\frac{\sin^4 x + \cos^4 x - 1}{\sin^6 x + \cos^6 x - 1} = \frac{(\sin^2 x)^2 + \cos^4 x - 1}{(\sin^2 x)^3 + \cos^6 x - 1} = \frac{(1 - \cos^2 x)^2 + \cos^4 x - 1}{(1 - \cos^2 x)^3 + \cos^6 x - 1} =$$

$$= \frac{1 - 2\cos^2 x + \cos^4 x + \cos^4 x - 1}{1 - 3\cos^2 x + 3\cos^4 x - \cos^6 x + \cos^6 x - 1} = \frac{2\cos^2 x(\cos^2 x - 1)}{3\cos^2 x(\cos^2 x - 1)} = \frac{2}{3}.$$

**3-misol.**  $\frac{\cos(a + b) + \cos(a - b)}{\sin(a + b) + \sin(a - b)} = \operatorname{ctga}$  ayniyatni isbotlang.

$$\begin{aligned} & \frac{\cos(a+b) + \cos(a-b)}{\sin(a+b) + \sin(a-b)} = \\ & = \frac{\cos a \cos b - \sin a \sin b + \cos a \cos b + \sin a \sin b}{\sin a \cos b + \cos a \sin b + \sin a \cos b - \cos a \sin b} = \\ & = \frac{2 \cos a \cos b}{2 \sin a \cos b} = \frac{\cos a}{\sin a} = \operatorname{ctg} a. \end{aligned}$$

**4 - misol.**  $\frac{1 + \cos b + \cos^2 b}{1 + \sec b + \sec^2 b}$  ifodani soddalashtiring.

$$\begin{aligned} \frac{1 + \cos b + \cos^2 b}{1 + \sec b + \sec^2 b} &= \frac{1 + \cos b + \cos^2 b}{1 + \frac{1}{\cos b} + \frac{1}{\cos^2 b}} = \frac{1 + \cos b + \cos^2 b}{\frac{\cos^2 b + \cos b + 1}{\cos^2 b}} = \\ &= \frac{(1 + \cos b + \cos^2 b) \cos^2 b}{\cos^2 b + \cos b + 1} = \cos^2 b. \end{aligned}$$

Yuqoridagilardan ko‘rinadiki, trigonometriya kursida ayniy almashtirishlar muhim o‘rin egallaydi. O‘quvchilar trigonometrik ayniy shakl almashtirishlarni yaxshi o‘zlashtirishlari uchun birinchidan, trigonometrik funksiyalarni birini ikkinchisi orqali ifodalovchi va asosiy ayniyat kabi formulalarni, ikkinchidan esa shu formulalarni trigonometrik ifodani berilishiga qarab tadbiiq qila olish malakalariga bog‘liqdir. Trigonometrik ayniy shakl almashtirishlarni bajarish uchun quyidagi formulalarni bilishlari kerak:

1. Asosiy trigonometrik ayniyatlar:

$$\begin{aligned} 1) \sin^2 a + \cos^2 a &= 1; & 2) \operatorname{tga} &= \frac{\sin a}{\cos a}, \left[ a \neq \frac{p}{2}(2n+1) \right], n \in Z; \\ 3) \operatorname{ctga} &= \frac{\cos a}{\sin a}, (a \neq pn); & 4) \operatorname{seca} &= \frac{1}{\cos a}, \left[ a \neq \frac{p}{2}(2n+1) \right], n \in Z; \\ 5) \operatorname{coseca} &= \frac{1}{\sin a}, (a \neq pn), n \in Z. \end{aligned}$$

Bu ayniyatlardan kelib chiqadigan formulalar quyidagilardir:

$$\begin{aligned} 1) \operatorname{tga} \cdot \operatorname{ctga} &= 1 \quad \left( a \neq \frac{p}{2}n \right), n \in Z. \\ 2) 1 + \operatorname{tg}^2 a &= \operatorname{sec}^2 a, \quad \left[ a \neq \frac{p}{2}(2n+1) \right], n \in Z. \\ 3) 1 + \operatorname{ctg}^2 a &= \operatorname{cosec}^2 a, \quad (a \neq p), n \in Z. \end{aligned}$$

**1-misol.** Ayniyatni isbotlang.

$$\cos^2 a (\operatorname{tga} + 2)(2\operatorname{tga} + 1) - 5 \sin a \cos a = 2, \left[ a \neq \frac{p}{2}(2n+1) \right].$$

Isboti:

$$\begin{aligned}
& \cos^2 a (tga + 2)(2tga + 1) - 5 \sin a \cos a = \\
& = \cos^2 a \left( \frac{\sin a}{\cos a} + 2 \right) \left( \frac{2 \sin a}{\cos a} + 1 \right) - 5 \sin a \cos a = \\
& 2 \sin^2 a + 4 \sin a \cos a + 2 \cos^2 a + \sin a \cos a - 5 \sin a \cos a = \\
& = 2(\sin^2 a + \cos^2 a) = 2.
\end{aligned}$$

**2-misol.** Ayniyatni isbotlang:

$$(1 + \sin a)(tga + ctga)(1 - \sin a) = ctga \cdot \left( a \neq \frac{p}{2}, n \in Z \right)$$

Isboti.

$$\begin{aligned}
(1 + \sin a)(tga + ctga)(1 - \sin a) &= (1 + \sin a) \left( \frac{\sin a}{\cos a} + \frac{\cos a}{\sin a} \right) (1 - \sin a) = \\
&= \frac{(1 - \sin^2 a)(\sin^2 a + \cos^2 a)}{\sin a \cdot \cos a} = \frac{\cos^2 a}{\sin a \cdot \cos a} = ctga.
\end{aligned}$$

II. Ikki burchak yig'indisi va ayirmasining trigonometrik funksiyalari.

1)  $\sin(a \pm b) = \sin a \cos b \pm \cos a \sin b$

2)  $\cos(a \pm b) = \cos a \cos b \mp \sin a \sin b$

3)  $tg(a \pm b) = \frac{tga \pm tgb}{1 \pm tga \cdot tgb}$ .

$$\left[ a, b, a \pm b \neq \frac{p}{2}(2n+1), n \in Z \right].$$

4)  $ctg(a \pm b) = \frac{ctga \cdot ctgb \mp 1}{ctga \pm ctgb}$ . ( $\delta, \epsilon, \delta + \epsilon \neq pn, n \in Z$ ).

**1-misol.**  $\cos 15^\circ$  ni hisoblang.

Hisoblash.

$$\begin{aligned}
\cos 15^\circ &= \cos(45^\circ - 30^\circ) = \cos 45^\circ \cos 30^\circ + \sin 45^\circ \sin 30^\circ = \\
&= \frac{\sqrt{2}}{2} \cdot \frac{\sqrt{3}}{2} + \frac{\sqrt{2}}{2} \cdot \frac{1}{2} = \frac{1}{4}(\sqrt{6} + \sqrt{2}) \approx 0,9659.
\end{aligned}$$

**2-misol.**  $\sin 15^\circ$  ni hisoblang.

Hisoblash.

$$\begin{aligned}
\sin 15^\circ &= \sin(45^\circ - 30^\circ) = \sin 45^\circ \cos 30^\circ - \cos 45^\circ \sin 30^\circ = \\
&= \frac{\sqrt{2}}{2} \cdot \frac{\sqrt{3}}{2} - \frac{\sqrt{2}}{2} \cdot \frac{1}{2} = \frac{1}{4}(\sqrt{6} - \sqrt{2})
\end{aligned}$$

Xuddi shuningdek,  $tg 15^\circ = 2 - \sqrt{3}$ ,  $stg 15^\circ = 2 + \sqrt{3}$ ,  $sec 15^\circ = \sqrt{6} - \sqrt{2}$  larni hisoblash mumkin.

**3-misol.**  $\frac{tg^2 a - tg^2 b}{1 - tg^2 a \cdot tg^2 b} = tg(a + b)(tga - b)$  ayniyatni isbotlang.



$$\begin{aligned} \text{Isboti.} \quad \frac{\operatorname{tg}^2 a - \operatorname{tg}^2 b}{1 - \operatorname{tg}^2 a \cdot \operatorname{tg}^2 b} &= \frac{\operatorname{tga} + \operatorname{tgb}}{1 - \operatorname{tga} \cdot \operatorname{tgb}} \cdot \frac{\operatorname{tga} - \operatorname{tgb}}{1 + \operatorname{tga} \cdot \operatorname{tgb}} = \\ &= \operatorname{tg}(a + b)\operatorname{tg}(a - b). \end{aligned}$$

**4-misol.**  $\sin(a+b)\sin(a-b) = \sin^2 a - \sin^2 b$  ayniyatni isbotlang.

$$\begin{aligned} \text{Isboti} \quad \sin(a + b) \cdot \sin(a - b) &= (\sin a \cos b + \cos a \sin b)(\sin a \cos b - \cos a \sin b) = \\ &= \sin^2 a \cos^2 b - \sin^2 b \cos^2 a = \sin^2 a(1 - \sin^2 b) - \sin^2 b(1 - \sin^2 a) = \\ &= \sin^2 a - \sin^2 a \sin^2 b - \sin^2 b + \sin^2 a \sin^2 b = \sin^2 a - \sin^2 b. \end{aligned}$$

Keltirish formulalari:

- 1)  $\sin\left(\frac{p}{2} \pm a\right) = \cos a, \quad \sin(p \pm a) = m \sin a;$
- 2)  $\sin\left(\frac{3p}{2} \pm a\right) = -\cos a, \quad \sin(2p \pm a) = \pm \sin a;$
- 3)  $\cos\left(\frac{p}{2} \pm a\right) = m \sin a, \quad \cos(p \pm a) = -\cos a;$
- 4)  $\cos\left(\frac{3p}{2} \pm a\right) = \pm \sin a, \quad \cos(2p \pm a) = \cos a;$
- 5)  $\operatorname{tg}\left(\frac{p}{2} \pm a\right) = m \operatorname{ctga}, \quad \operatorname{tg}(p \pm a) = \pm \operatorname{tga};$
- 6)  $\operatorname{ctg}\left(\frac{p}{2} \pm a\right) = m \operatorname{tga}, \quad \operatorname{ctg}(p \pm a) = \pm \operatorname{ctga};$

IV. Ikkilangan va uchlangan burchakning trigonometrik funksiyalari:

- 1)  $\sin 2a = 2 \sin a \cos a;$  2)  $\cos 2a = \cos^2 a - \sin^2 a;$
- 3)  $\operatorname{tg} 2a = \frac{2 \operatorname{tga}}{1 - \operatorname{tg}^2 a} \left[ 2a, a \neq \frac{p}{2}(2n+1), n \in Z \right];$
- 4)  $\operatorname{ctg} 2a = \frac{\operatorname{ctg}^2 a - 1}{2 \operatorname{ctg} a} \quad (2a, a \neq pn, n \in Z);$
- 5)  $\sin 3a = 3 \sin a - 4 \sin^3 a;$  6)  $\cos 3a = 4 \cos^3 a - 3 \cos a;$
- 7)  $\operatorname{tg} 3a = \frac{1 - 3 \operatorname{tg}^2 a}{3 \operatorname{tga} - \operatorname{tg}^3 a} \left[ 2a, a \neq \frac{p}{2}(2n+1), n \in Z \right];$
- 8)  $\operatorname{ctg} 3a = \frac{3 \operatorname{tga} - \operatorname{tg}^3 a}{1 - 3 \operatorname{tg}^2 a} \left[ a \neq \frac{pn}{3}, n \in Z \right];$
- 9)  $\sin^2 a = \frac{1 - \cos 2a}{2};$  10)  $\cos^2 a = \frac{1 + \cos 2a}{2};$
- 11)  $\sin^3 a = \frac{3 \sin a - \sin 3a}{4};$  12)  $\cos^3 a = \frac{\cos 3a + 3 \cos a}{4};$

**1-misol.**  $\sin a \sin(60^\circ - a) \sin(60^\circ + a) = \frac{1}{4} \sin 3a$  ayniyatni isbotlang.

*Isboti.*  $\sin a \cdot \sin(60^\circ - a) \cdot \sin(60^\circ + a) = \sin a (\sin^2 60^\circ - \sin^2 a) = \sin a \left( \frac{3}{4} - \sin^2 a \right) =$   
 $= \frac{1}{4} (3 \sin a - 4 \sin^3 a) = \frac{1}{4} \sin 3a.$

**2-misol.**  $\cos a \cos(60^\circ - a) \cos(60^\circ + a) = \frac{1}{4} \cos 3a$  ayniyatni isbotlang.

**3-misol.**  $\operatorname{tg} a \operatorname{tg}(60^\circ - a) \operatorname{tg}(60^\circ + a) = \operatorname{tg} 3a$  ayniyatni isbotlang.

Bu ayniyatlardan foydalanib, quyidagi trigonometrik ifodalarni osonlikcha hisoblash mumkin:

a)  $\sin 20^\circ \cdot \sin 40^\circ \cdot \sin 80^\circ = \frac{1}{4} \sin 3 \cdot 20^\circ = \frac{1}{4} \sin 60^\circ = \frac{1}{4} \cdot \frac{\sqrt{3}}{2} = \frac{\sqrt{3}}{8};$

b)  $\cos 10^\circ \cdot \cos 50^\circ \cdot \cos 70^\circ = \frac{1}{4} \cos 30^\circ = \frac{\sqrt{3}}{8};$

c)  $\operatorname{tg} 6^\circ \cdot \operatorname{tg} 54^\circ \cdot \operatorname{tg} 66^\circ = \operatorname{tg} 18^\circ.$

**4-misol.**  $\sin 3a \cos^3 a + \sin^3 a \cos 3a = \frac{3}{4} \sin a$  ayniyatni isbotlang.

*Isboti*  $\sin 3a \cos^3 a + \sin^3 a \cos 3a = \sin 3a \frac{\cos 3a + 3 \cos a}{4} +$   
 $+ \cos 3a \frac{3 \sin a - \sin 3a}{4} = \frac{3}{4} (\sin 3a \cos a + \sin a \cos 3a) = \frac{3}{4} \sin 4a.$

**5-misol.**  $\cos a \cos 2a \cos 4a$  ifodani soddalashtiring.

*Yechish.* Berilgan ifodani  $\sin a$  ga ko'paytiramiz hamda bo'lamiz.

$$\frac{\cos a \cdot \cos 2a \cdot \cos 4a \cdot \sin a}{\sin a} = \frac{\frac{1}{2} \sin 2a \cdot \cos 2a \cdot \cos 4a}{\sin a} =$$

$$= \frac{\frac{1}{2} \left( \frac{1}{2} \sin 4a \cdot \cos 4a \right)}{\sin a} = \frac{\frac{1}{2} \left[ \frac{1}{2} \left( \frac{1}{2} \sin 8a \right) \right]}{\sin a} = \frac{\sin 8a}{8 \sin a}.$$

**6-misol.**  $\operatorname{tg} 4a - \operatorname{sec} 4a = \frac{\sin 2a - \cos 2a}{\sin 2a + \cos 2a}$  ayniyatni isbotlang.

V. Yarim argumentning trigonometrik funksiyalari

1)  $\left| \sin \frac{a}{2} \right| = \sqrt{\frac{1 - \cos a}{2}};$  2)  $\left| \cos \frac{a}{2} \right| = \sqrt{\frac{1 + \cos a}{2}};$

3)  $\left| \operatorname{tg} \frac{a}{2} \right| = \sqrt{\frac{1 - \cos a}{1 + \cos a}};$   $[a \neq p(2n+1), n \in \mathbb{Z}];$

4)  $\left| \operatorname{ctg} \frac{a}{2} \right| = \sqrt{\frac{1 + \cos a}{1 - \cos a}};$

$$5) \operatorname{tg} \frac{a}{2} = \frac{\sin a}{1 + \cos a} = \frac{1 - \cos a}{\sin a}; \quad [a \neq pn, n \in Z];$$

$$6) \operatorname{ctg} \frac{a}{2} = \frac{1 + \cos a}{\sin a} = \frac{\sin a}{1 - \cos a}; \quad [a \neq pn, n \in Z];$$

**1-misol.**  $\operatorname{tg} 7^{\circ}30'$  ni hisoblang.

Yechish.

$$\begin{aligned} \operatorname{tg} 7^{\circ}30' &= \frac{1 - \cos 15^{\circ}}{\sin 15^{\circ}} = \frac{1 - \frac{1}{4}(\sqrt{6} + \sqrt{2})}{\frac{1}{4}(\sqrt{6} - \sqrt{2})} = \frac{(4 - \sqrt{6} + \sqrt{2})(\sqrt{6} + \sqrt{2})}{(\sqrt{6} - \sqrt{2})(\sqrt{6} + \sqrt{2})} = \\ &= \frac{4\sqrt{6} + 4\sqrt{2} - 4\sqrt{3} - 8}{4} = \sqrt{6} - \sqrt{3} + \sqrt{2} - 2. \end{aligned}$$

**2-misol.**  $\frac{1 - \operatorname{tg}^2 15^{\circ}}{1 + \operatorname{tg}^2 15^{\circ}} = \frac{\sqrt{3}}{2}$  ni isbotlang.

$$\text{Isboti. } \frac{1 - \operatorname{tg}^2 15^{\circ}}{1 + \operatorname{tg}^2 15^{\circ}} = \frac{1 - \frac{1 - \cos 30^{\circ}}{1 + \cos 30^{\circ}}}{1 + \frac{1 - \cos 30^{\circ}}{1 + \cos 30^{\circ}}} = \cos 30^{\circ} = \frac{\sqrt{3}}{2}.$$

VI. Trigonometrik funksiyalar ko‘paytmasini yig‘indiga keltirish formulalari:

$$1) \sin a \cos b = \frac{1}{2} [\sin(a + b) + \sin(a - b)];$$

$$2) \cos a \cos b = \frac{1}{2} [\cos(a + b) + \cos(a - b)];$$

$$3) \sin a \sin b = \frac{1}{2} [\cos(a - b) - \cos(a + b)];$$

**Misol.**  $\cos a + \cos(a + 2b) + \dots + \cos(a + pb)$  ifodani soddalashtiring.

Yechish. Berilgan ifodani  $\sin \frac{b}{2}$  ga ko‘paytiramiz va bo‘lamiz.

$$\begin{aligned} &\frac{1}{\sin \frac{b}{2}} \left[ \sin \frac{b}{2} \cos a + \sin \frac{b}{2} \cos(a + b) + \sin \frac{b}{2} \cos(a + 2b) + \right. \\ &\left. + \dots + \sin \frac{b}{2} \cos(a + nb) \right] = \frac{1}{2 \sin \frac{b}{2}} \left[ \sin \left( a + \frac{b}{2} \right) - \sin \left( a - \frac{b}{2} \right) \right] + \end{aligned}$$

$$\begin{aligned}
& + \sin\left(\dot{r}\ddot{i} + \frac{3\dot{r}A}{2}\right) - \sin\left(\dot{r}\ddot{i} + \frac{\dot{r}A}{2}\right) + \sin\left(\dot{r}\ddot{i} + \frac{5\dot{r}A}{2}\right) - \sin\left(\dot{r}\ddot{i} + \frac{3\dot{r}A}{2}\right) + \dots + \\
& + \sin\left(\dot{r}\ddot{i} + \frac{3\dot{r}A}{2}\right) - \sin\left(\dot{r}\ddot{i} + \frac{\dot{r}A}{2}\right) + \sin\left(\dot{r}\ddot{i} + \frac{5\dot{r}A}{2}\right) - \sin\left(\dot{r}\ddot{i} + \frac{3\dot{r}A}{2}\right) + \dots + \\
& + \sin\left(\dot{r}\ddot{i} + \frac{2n+1}{2}\dot{r}A\right) - \sin\left(\dot{r}\ddot{i} + \frac{2n-1}{2}\dot{r}A\right) \Bigg] = \frac{1}{\sin\frac{\dot{r}A}{2}} \left[ \sin\left(\dot{r}\ddot{i} + \frac{2n+1}{2}\dot{r}A\right) - \sin\left(\dot{r}\ddot{i} - \frac{\dot{r}A}{2}\right) \right] = \\
& = \frac{1}{\sin\frac{\dot{r}A}{2}} 2\sin\frac{n+1}{2}\dot{r}A \cos\left(\dot{r}\ddot{i} + \frac{n}{2}\dot{r}A\right) = \frac{\sin\frac{n+1}{2}\dot{r}A \cos\left(\dot{r}\ddot{i} + \frac{n}{2}\dot{r}A\right)}{\sin\frac{\dot{r}A}{2}}.
\end{aligned}$$

## VII. Trigonometrik funksiyalar yig'indisi va ayirmasining formulalari:

- 1)  $\sin a + \sin b = 2\sin\frac{a+b}{2} \cdot \cos\frac{a-b}{2}$ ;
- 2)  $\sin a - \sin b = 2\sin\frac{a-b}{2} \cdot \cos\frac{a+b}{2}$ ;
- 3)  $\cos a + \cos b = 2\cos\frac{a+b}{2} \cdot \cos\frac{a-b}{2}$ ;
- 4)  $\cos a - \cos b = 2\sin\frac{a+b}{2} \cdot \sin\frac{a-b}{2}$ ;
- 5)  $\operatorname{tga} + \operatorname{tgb} = \frac{\sin(a+b)}{\cos a \cdot \cos b}$ ,  $\left[ a, b \neq \frac{p}{2}(2n-1), n \in Z \right]$ ;
- 6)  $\operatorname{tga} - \operatorname{tgb} = \frac{\sin(a-b)}{\cos a \cdot \cos b}$ ,  $\left[ a, b \neq \frac{p}{2}(2n-1), n \in Z \right]$ ;
- 7)  $\operatorname{ctga} + \operatorname{ctgb} = \frac{\sin(a+b)}{\sin a \cdot \sin b}$ ,  $[a, b \neq pn, n \in Z]$ ;
- 8)  $\operatorname{ctga} - \operatorname{ctgb} = \frac{\sin(a-b)}{\sin a \cdot \sin b}$ .

**1-misol.**  $\cos a + \cos b + \cos g + \cos(a + b + g) = 4\cos\frac{a+b}{2}\cos\frac{a+g}{2}\cos\frac{b+g}{2}$

ayniyatni isbotlang.

Isboti.

$$\begin{aligned}
& \cos a + \cos b + \cos g + \cos(a + b + g) = \\
& = 2\cos\frac{a+b}{2}\cos\frac{a-b}{2} + 2\cos\frac{g+a+b+g}{2} \cdot \cos\frac{g-a-b-g}{2} = \\
& = 2\cos\frac{a+b}{2} \left( \cos\frac{a-b}{2} + \cos\frac{a+b+2g}{2} \right) = \\
& = 2\cos\frac{a+b}{2} 2\cos\frac{a-b+a-b+2g}{4} \cdot \cos\frac{a-b-a-b-2g}{4} = \\
& = 4\cos\frac{a+b}{2}\cos\frac{a+g}{2}\cos\frac{b+g}{2}.
\end{aligned}$$

**2-misol.** Agar  $a + b + g = p$  bo'lsa,  $\sin^2 a + \sin^2 b + \sin^2 g - 2 = 2 \cos a \cos b \cos g$  tenglikning o'rinli ekanligini isbotlang.

Isboti. Shartga ko'ra  $g = p - a - b$  u holda

$$\begin{aligned} \sin^2 a + \sin^2 b + \sin^2 g - 2 &= \sin^2 a + \sin^2 b + \sin^2 [p - (a + b)] - 2 = \\ &= \sin^2 a + \sin^2 b + \sin^2 (a + b) - 2 = \\ &= \frac{1 - \cos 2a}{2} + \frac{1 - \cos 2b}{2} + \frac{1 - \cos 2(a + b)}{2} - 2 = \\ &= -\frac{1}{2} [\cos 2a + \cos 2b + \cos 2(a + b) + 1] = \\ &= -\frac{1}{2} [\cos(a + b) \cos(a - b) + 2 \cos^2(a + b)] = \\ &= -\cos(a + b) [\cos(a - b) + \cos(a + b)] = \\ &= -2 \cos(a + b) \cos a \cos b = -2 \cos(p + g) \cos a \cos b = \\ &= 2 \cos a \cos b \cos g. \end{aligned}$$

VII. Trigonometrik funksiyalarni yarim argumentning tangensi orqali ifodalash:

$$\begin{aligned} 1) \quad \sin a &= \frac{2 \operatorname{tg} \frac{a}{2}}{1 + \operatorname{tg}^2 \frac{a}{2}} \quad [a \neq p(2n + 1), n \in Z]; \\ 2) \quad \cos a &= \frac{1 - \operatorname{tg}^2 \frac{a}{2}}{1 + \operatorname{tg}^2 \frac{a}{2}} \quad [a \neq p(2n + 1), n \in Z]; \\ 3) \quad \operatorname{tga} &= \frac{2 \operatorname{tg} \frac{a}{2}}{1 - \operatorname{tg}^2 \frac{a}{2}} \quad \left[ a, \frac{a}{2} \neq \frac{p}{2}(2n + 1), n \in Z \right]; \end{aligned}$$

### 5-§. Trigonometrik ifodalarni soddalashtirishga doir misollar yechish metodikasi.

**1-misol.**  $(1 - \sin a)(1 + \sin a) - \cos^2 a$  ifodani soddalashtiring.

Yechish. **I-usul.**

$$\begin{aligned} (1 - \sin a)(1 + \sin a) - \cos^2 a &= 1 - \sin^2 a - \cos^2 a = 1 - (1 - \cos^2 a) - \cos^2 a = \\ &= 1 - 1 + \cos^2 a - \cos^2 a = 1 - 1 + \cos^2 a - \cos^2 a = 0. \end{aligned}$$

**II-usul.**  $(1 - \sin a)(1 + \sin a) - \cos^2 a =$

$$= 1 - \sin^2 a - \cos^2 a = 1 - (\sin^2 a + \cos^2 a) = 1 - 1 = 0.$$

**2 misol.**  $\frac{\sin^4 x + \cos^4 x - 1}{\sin^6 x + \cos^6 x - 1}$  ifodani soddalashtiring.

Yechish. 
$$\frac{\sin^4 x + \cos^4 x - 1}{\sin^6 x + \cos^6 x - 1} = \frac{(\sin^2 x)^2 + \cos^4 x - 1}{(\sin^2 x)^3 + \cos^6 x - 1} =$$

$$= \frac{(1 - \cos^2 x)^2 + \cos^4 x - 1}{(1 - \cos^2 x)^3 + \cos^6 x - 1} = \frac{1 - 2\cos^2 x + \cos^4 x + \cos^4 x - 1}{1 - 3\cos^2 x + 3\cos^4 x - \cos^6 x + \cos^6 x - 1} =$$

$$= \frac{2\cos^2 x(\cos^2 x - 1)}{3\cos^2 x(\cos^2 x - 1)} = \frac{2}{3}.$$

**3 misol**  $\frac{1 - (\sin x - \cos x)^2}{1 + \sin^2 x - \cos^2 x}$  ifodani soddalashtiring.

Yechish. 
$$\frac{1 - (\sin x - \cos x)^2}{1 + \sin^2 x - \cos^2 x} = \frac{1 - \sin^2 x + 2\sin x \cos x - \cos^2 x}{\sin^2 x + \cos^2 x + \sin^2 x - \cos^2 x} =$$

$$= \frac{1 - (\sin^2 x + \cos^2 x) + 2\sin x \cos x}{2\sin^2 x} = \frac{2\sin x \cos x}{2\sin^2 x} = \frac{\cos x}{\sin x} = \operatorname{ctgx}.$$

**4-misol.**  $\frac{1}{\cos^2 x} - \frac{1}{\operatorname{ctg}^2 x} - \frac{\sin^2 x}{\operatorname{tg}^2 x}$  ifodani soddalashtiring.

Yechish. 
$$\frac{1}{\cos^2 x} - \frac{1}{\operatorname{ctg}^2 x} - \frac{\sin^2 x}{\operatorname{tg}^2 x} = \frac{1}{\cos^2 x} - \frac{\sin^2 x}{\cos^2 x} - \frac{\sin^2 x \cos^2 x}{\sin^2 x} =$$

$$= \frac{1}{\cos^2 x} - \frac{\sin^2 x}{\cos^2 x} - \cos^2 x = \frac{1 - \sin^2 x - \cos^4 x}{\cos^2 x} = \frac{\cos^2 x - \cos^4 x}{\cos^2 x} =$$

$$= \frac{\cos^2 x(1 - \cos^2 x)}{\cos^2 x} = \sin^2 x.$$

**5-misol.**  $\frac{[\cos(-a) + \sin(-a)]^2 - 1}{\cos^2(-a) + \sin^2(-a) - 1}$  ifodani soddalashtiring.

$$\frac{[\cos(-a) + \sin(-a)]^2 - 1}{\cos^2(-a) + \sin^2(-a) - 1} = \frac{(\cos a - \sin a)^2 - 1}{\cos^2 a - \sin^2 a - 1} =$$

$$\frac{\cos^2 a - 2\cos a \sin a + \sin^2 a - 1}{\cos^2 a - \sin^2 a - (\cos^2 a + \sin^2 a)} = \frac{-2\cos a \sin a}{-2\sin^2 a} = \operatorname{ctga}.$$

**6-misol.**  $1 + \sin a + \cos a$  ifodani ko'paytma shakliga keltiring.

Yechish. 
$$1 + \sin a + \cos a = (1 + \cos a) + \sin a =$$

$$= 2\cos^2 \frac{a}{2} + 2\sin \frac{a}{2} \cos \frac{a}{2} = 2\cos \frac{a}{2} \left( \cos \frac{a}{2} + \sin \frac{a}{2} \right) =$$

$$= 2\cos \frac{a}{2} \left( \sin \left( 90^\circ - \frac{a}{2} \right) + \sin \frac{a}{2} \right) = 2\cos \frac{a}{2} \cdot 2\sin 45^\circ \cdot$$

$$\cdot \cos \left( 45^\circ - \frac{a}{2} \right) = 2\sqrt{2} \cos \frac{a}{2} \cdot \cos \left( 45^\circ - \frac{a}{2} \right)$$

**7-misol.**  $\sqrt{3} - 2\sin a$  ifodani ayniy almashtirish orqali ko'paytma shakliga keltiring.

$$\begin{aligned} \text{Yechish. } \sqrt{3} - 2\sin a &= 2\left(\frac{\sqrt{3}}{2} - \sin a\right) = 2(\sin 60^\circ - \sin a) = \\ &= 4\sin\left(30^\circ - \frac{a}{2}\right) \cdot \cos\left(30^\circ + \frac{a}{2}\right) \end{aligned}$$

**8-misol.**  $\frac{\sin a + 2\sin 3a + \sin 5a}{\sin 3a + 2\sin 5a + \sin 7a}$  ifodani soddalashtiring.

$$\begin{aligned} \text{Yechish. } \frac{\sin a + 2\sin 3a + \sin 5a}{\sin 3a + 2\sin 5a + \sin 7a} &= \frac{(\sin a + \sin 5a) + 2\sin 3a}{(\sin 3a + \sin 7a) + 2\sin 5a} = \\ &= \frac{2\sin 3\delta \cos 2\delta + 2\sin 3\delta}{2\sin 5\delta \cos 2\delta + 2\sin 5\delta} = \frac{2\sin 3a(\cos 2a + 1)}{2\sin 5a(\cos 2a + 1)} = \frac{\sin 3a}{\sin 5a}. \end{aligned}$$

**9-misol.**  $1 - \cos\left(\frac{a}{2} - 3p\right) - \cos^2 \frac{a}{4} + \sin^2 \frac{a}{2}$  ifodani soddalashtiring.

$$\begin{aligned} \text{Yechish. } 1 - \cos\left(\frac{a}{2} - 3p\right) - \cos^2 \frac{a}{4} + \sin^2 \frac{a}{4} &= 1 - \cos\left(\frac{a}{2} - 3p\right) - \\ &- \left(\cos^2 \frac{\delta}{4} - \sin^2 \frac{\delta}{4}\right) = 1 + \cos \frac{\delta}{2} - \cos \frac{a}{2} = 1. \end{aligned}$$

**10-misol.**  $\sin^4 a + \cos^4 a - \sin^6 a - \cos^6 a - \sin^2 a \cdot \cos^2 a$  ifodani soddalashtiring.

$$\begin{aligned} \text{Yechish. } \sin^4 a + \cos^4 a &= (\sin^2 a + \cos^2 a)^2 - 2\sin^2 a \cos^2 a = 1 - 2\sin^2 a \cdot \cos^2 a, \\ &= 1 - 2\sin^2 a \cdot \cos^2 a, \\ \sin^6 a + \cos^6 a &= (\sin^2 a + \cos^2 a)^3 - 3\sin^4 a \cdot \cos^2 a - \\ &- 3\sin^2 a \cdot \cos^4 a = 1 - 3\sin^2 a \cos^2 a (\sin^2 a + \cos^2 a) = \\ &= 1 - 3\sin^2 a \cdot \cos^2 a, \\ \sin^4 a + \cos^4 a - \sin^6 a - \cos^6 a - \sin^2 a \cos^2 a &= \\ 1 - 2\sin^2 a \cos^2 a - (1 - 3\sin^2 a \cos^2 a) - \sin^2 a \cos^2 a &= \\ = 1 - 2\sin^2 a \cos^2 a - 1 + 3\sin^2 a \cos^2 a - \sin^2 a \cos^2 a &= 0. \end{aligned}$$

**11-misol.**  $A = \sin^4 \frac{p}{16} + \sin^4 \frac{3p}{16} + \sin^4 \frac{5p}{16} + \sin^4 \frac{7p}{16}$  ifodani hisoblang.

$$\text{Yechish. } A = \left(\sin^2 \frac{p}{16}\right)^2 + \left(\sin^2 \frac{3p}{16}\right)^2 + \left(\sin^2 \frac{5p}{16}\right)^2 + \left(\sin^2 \frac{7p}{16}\right)^2 =$$

$$\begin{aligned}
&= \frac{1}{4} \left[ \left(1 - \cos \frac{p}{8}\right)^2 + \left(1 - \cos \frac{3p}{8}\right)^2 + \left(1 - \cos \frac{5p}{8}\right)^2 + \left(1 - \cos \frac{7p}{8}\right)^2 \right] = \\
&= \frac{1}{4} \left[ 4 - 2 \left( \cos \frac{p}{8} + \cos \frac{3p}{8} + \cos \frac{5p}{8} + \cos \frac{7p}{8} \right) + \left( \cos^2 \frac{p}{8} + \cos^2 \frac{3p}{8} + \cos^2 \frac{5p}{8} + \cos^2 \frac{7p}{8} \right) \right] = 1 - \frac{1}{2} \times \\
&\times 2 \left( 2 \cos \frac{p}{2} \cos \frac{3p}{8} + 2 \cos \frac{p}{2} \cos \frac{p}{2} \right) + \frac{1}{4} \cdot \frac{1}{2} \left( 4 + \cos \frac{p}{4} + \cos \frac{3p}{4} + \right. \\
&\left. + \cos \frac{5p}{4} + \cos \frac{7p}{4} \right) = 1 + \frac{1}{2} = \frac{3}{2} = 1\frac{1}{2}.
\end{aligned}$$

### MUSTAQIL YECHISH UCHUN MISOLLAR.

1.  $\frac{1 + \operatorname{tg}(-60^\circ)}{\sin 60^\circ + \sin(-30^\circ)}$  ifodani soddalashtiring. J: -2
2.  $\frac{2 - \sin(-45^\circ) \cdot \cos(-45^\circ)}{\operatorname{tg}(-45^\circ) \cdot \operatorname{ctg} 45^\circ}$  ifodani soddalashtiring. J: -2,5
3.  $\frac{[\cos(-a) - \sin(-a)]^2}{1 - 2 \sin(-a) \cdot \cos(-a)}$  ifodani soddalashtiring. J: 1
4.  $\frac{\cos(-a)}{1 + 2 \sin^2(-a)} - \frac{\sin(-a)}{1 - 2 \cos^2(-a)}$  ifodani soddalashtiring. J:  $\frac{1}{\sin a + \cos a}$

### QUYIDAGI IFODALARNI HISOBLANG:

5.  $\frac{4 - 2 \operatorname{tg} 45^\circ + \operatorname{tg} 60^\circ}{3 \sin 90^\circ - 4 \cos 60^\circ + 4 \operatorname{ctg} 45^\circ} \cdot j. \frac{2 + \sqrt{3}}{5}$
6.  $\frac{4 - \operatorname{tg}^2 \frac{p}{4} + \operatorname{ctg}^4 \frac{p}{3}}{3 \sin^3 \frac{p}{2} + \cos^2 \frac{p}{3} + \operatorname{ctg} \frac{p}{4}} \cdot j. \frac{112}{153}$
7.  $\left(4 \sin \frac{p}{4}\right)^2 - \left(2 \operatorname{tg} \frac{p}{6}\right)^2 - \left(2 \cos \frac{p}{6}\right)^2 - \left(2 \operatorname{ctg} \frac{p}{4}\right)^2 \cdot j. -1.$
8.  $\sin 2p + \cos 4p + \operatorname{tg} 2p \quad j. 1$
9.  $\operatorname{ctg} \frac{p}{2} + \operatorname{cosec} \frac{p}{2} + \sec 0^\circ \cdot j. 2.$
10.  $a^2 \sin \frac{p}{2} + 2ab \cos p - b^2 \sin \frac{3}{2}p \cdot j. (a-b)^2.$
11.  $10 \operatorname{tg} 2p + 3 \cos \frac{3}{2}p - 4 \operatorname{tg} p - 5 \sin \frac{3}{2}p \cdot j. 5.$
12.  $4 \sin 90^\circ + 3 \cos 720^\circ - 3 \sin 630^\circ + 5 \cos 900^\circ \cdot j. 5.$
13.  $5 \operatorname{tg} 540^\circ + 2 \cos 1170^\circ + 4 \sin 990^\circ - 3 \cos 540^\circ \cdot j. -1.$
14.  $100 \operatorname{ctg}^2 990^\circ + 25 \operatorname{tg}^2 540^\circ - 3 \cos^2 900^\circ \cdot j. -3.$



15.  $\operatorname{tg}900^{\circ} - \sin(-1095^{\circ}) + \cos(-1460^{\circ})$ .  $j. \sqrt{1,5}$ .
16.  $\sin(-1125^{\circ}) + \cos^2(-900^{\circ}) + \operatorname{tg}1710^{\circ}$   $j. \frac{2-\sqrt{2}}{2}$ .
17.  $\cos20^{\circ} + \cos40^{\circ} + \cos60^{\circ} + \dots + \cos160^{\circ} + \cos180^{\circ}$ .  $j. -1$ .
18.  $\sin\left(-\frac{14p}{3}\right) + \operatorname{cosec}^2\frac{29p}{4} - \operatorname{tg}^2\frac{3p}{4}$ .  $j. \frac{2-\sqrt{3}}{2}$ .
19.  $\frac{5 + \sin 30^{\circ} \cos 60^{\circ} - \operatorname{tg} \frac{p}{4}}{a + b \cos 2p - \sin p}$ .  $j. \frac{17}{4(a+b)}$ .
20.  $\frac{m \cos \frac{p}{4} + n \sin \frac{p}{4} - \operatorname{tg} p}{mn - m \operatorname{tg} \frac{p}{4} - \operatorname{ctg} \frac{p}{2}}$ .  $j. \frac{\sqrt{2}(m+n)}{2m(n-1)}$ .
21.  $(\sin j + \cos j)^2 + (\sin j - \cos j)^2$ .  $j. 2$ .
22.  $\frac{1 + \cos b + \cos^2 b}{1 + \sec b + \sec^2 b}$ .  $j. \cos^2 b$ .
23.  $\sin^2 \frac{a}{2} + \sin^2 \frac{a}{2} \cos^2 \frac{a}{2} + \cos^4 \frac{a}{2}$ .  $j. 1$ .
24.  $\frac{1}{\operatorname{cosec}^2 2a - 1} + \frac{\cos^2 2a}{1 - \sin^2 a}$ .  $j. \sec^2 2a$ .
25.  $\frac{1 - \operatorname{tg}^2 b}{1 + \operatorname{tg}^2 b} + \sin^2 b$ .  $j. \cos^2 b$ .
26.  $(1 - \cos^2 x) \operatorname{ctg}^2 x - 1$ .  $j. -\sin^2 x$ .
27.  $\cos^4 x - \sin^4 x + \sin^2 x$ .  $j. \cos^2 x$ .
28.  $\frac{1 - \sin^4 2a - \cos^4 2a}{2 \sin^4 2a} + 1$ .  $j. 1$ .
29.  $(1 - \cos^2 b) \operatorname{tg}^2 b - \sec^2 b$ .  $j. -\cos^2 b$ .
30.  $\cos^2 \frac{a}{2} \operatorname{cosec}^2 \frac{a}{2} + \sin^2 \frac{a}{2} \cdot \operatorname{cosec}^2 \frac{a}{2}$ .  $j. \operatorname{cosec}^2 \frac{a}{2}$ .
31.  $\frac{\cos a}{1 - \cos a} - \frac{\cos a}{1 + \cos a} - 2 \operatorname{ctg}^2 a$ .  $j. 0$ .

32.  $\frac{1+2\sin 2x \cdot \cos 2x}{\cos 2x + \sin 2x} - \cos 2x \quad j. \sin 2x.$
33.  $(\operatorname{tg}^2 a - \sin^2 a) \operatorname{ctg}^2 a + \cos^2 a \quad j. 1.$
34.  $\frac{\sin^2 a - \sin^2 b}{\sin^2 a \cdot \sin^2 b} + \operatorname{ctg}^2 a + \cos^2 b + \sin^2 b \quad j. \operatorname{cosec}^2 b.$
35.  $\sqrt{\frac{\operatorname{cosec}^4 a - \operatorname{ctg}^4 a}{\sin^2 a + 2\cos^2 a}} \quad j. \frac{1}{|\sin a|} = |\operatorname{cosec} a|.$
36.  $\frac{\operatorname{cosec}^2 a - 1}{\cos^2 2a - \sin^2 a + \sin^2 2a} \cdot j. \operatorname{cosec}^2 a$
37.  $\frac{\sin^3 a - \cos^3 a}{\cos a - \sin a} - \sin a \cdot \cos a \quad j. -1.$
38.  $\frac{\sin^4 3a - \cos^4 3a}{\sin^2 3a - \cos^2 3a} + \operatorname{tg}^2 a \quad j. \sec^2 a.$
39.  $\frac{\sin^2 b - \operatorname{tg}^2 b}{\operatorname{cosec}^2 b - \operatorname{ctg}^2 b} \cdot \operatorname{ctg}^2 b \quad j. -\sin^2 b.$
40.  $\sin a(1 + \operatorname{tga}) + \cos a(1 + \operatorname{ctga}) \quad j. \operatorname{cosec} a + \sec a.$
41.  $\frac{\operatorname{cosec} a - \sin a}{\cos a} \cdot \frac{\sec a - \cos a}{\sin a} \quad j. 1.$
42.  $\frac{\sqrt{2} \cos a - 2 \cos(45^\circ - a)}{\sqrt{3} \sin a - 2 \sin(30^\circ + a)} \quad j. \sqrt{2} \operatorname{tga}.$
43.  $\frac{\sin(a - b) - 2 \cos a \sin b}{\cos(a - b) - 2 \cos a \cos b} \quad j. \operatorname{tg}(a + b).$
44.  $\frac{\cos(a - b) \cos(a + b) - \sin(a + b) \sin(a - b)}{\sin 2a} \quad j. \operatorname{ctg} 2a.$
45.  $\frac{\sqrt{2} \cos a - 2 \cos\left(\frac{p}{4} + a\right)}{2 \sin\left(\frac{p}{4} + a\right) - \sqrt{2} \sin a} \quad j. \operatorname{tga}.$
46.  $\frac{\sin\left(\frac{p}{4} + a\right) \cos a - \cos\left(\frac{p}{4} + a\right) \sin a}{\cos \frac{p}{4}} \quad j. 1.$
47.  $\frac{\sin(a + b) \sin(a - b)}{\sin a + \sin b} \quad j. \operatorname{cosec} a - \sin b.$
48.  $\left(\frac{\operatorname{tga} + \operatorname{tgb}}{1 - \operatorname{tga} \cdot \operatorname{tgb}}\right)^2 + \sin^4 a + \cos^4 a + 2 \sin^2 a \cos^2 a \quad j. \sec^2(a + b)$
49.  $\frac{\cos^2 a - \sin^2 a + \cos^2(a - b)}{\cos a \cdot \cos b \cdot \cos(a - b)} \quad j. 2 \operatorname{ctgb}.$

$$50. \frac{tg(25^{\circ} + a) + tg(65^{\circ} - a)}{1 - tg(65^{\circ} - a)tg(25^{\circ} + a)} \quad j. \quad \infty.$$

$$51. \frac{\sin(a - b)}{(tg a - tg b) \sin\left(\frac{p}{2} - b\right)} \quad j. \quad \cos a.$$

$$52. \frac{1 - \cos^2 j}{1 - \sin^2 j} + tg j ctg j = \sec^2 j.$$

$$53. (tg a + ctg a)^2 - (tg a - ctg a)^2 = 4.$$

$$54. \frac{\cos a + ctg a}{\cos a \cdot \operatorname{cosec} a} = 1 + \sin a.$$

## VII-BOBNI TAKRORLASH UCHUN SAVOLLAR

1. Ayniy shakl almashtirish deb nimaga aytiladi?
2. Ayniyat tushunchasini ta'riflab bering.
3. Birhad deb nimaga aytiladi?
4. Ko'phad deganda nimani tushunasiz?
5. O'xshash hadni ta'riflab bering.
6. Ixchamlash deganda nimani tushunasiz?
7. Qanday ifodaga kasr ratsional ifoda deyiladi?
8. Irratsional ifodani ta'riflab bering.
9. Trigonometrik ifodalardagi ayniy almashtirishlar qanday bajariladi?
10. Ikki burchak yig'indisi va ayirmasining sinusi nimaga teng?
11. Ikki burchak yig'indisi va ayirmasining kosinusi nimaga teng?
12. Ikki burchak yig'indisi va ayirmasining tangensi nimaga teng?
13. Ikki burchak yig'indisi va ayirmasining kotangensi nimaga teng?
14. Asosiy trigonometrik ayniyatlarni yozib bering.
15. Ikkilangan va uchlangan trigonometrik funksiyalarni tushuntirib bering.
16. Yarim argumentni trigonometrik funksiyalari deganda nimani tushunasiz?
17. Trigonometrik funksiyalar ko'paytmasini yig'indiga qanday keltiriladi?
18. Trigonometrik funksiyalar yig'indisi va ayirmasining ko'paytmaga qanday keltiriladi?
19. Trigonometrik funksiyalarni yarim argumentli tangensi orqali qanday ifodalanadi?
20. Trigonometrik ifodalarni soddalashtirish deganda nimani tushunasiz?

## **VII-BOB UCHUN TAYAN IBORALAR**

Ayniyat tushunchasi, birhad, ko'phad, o'xshash had, ixchamlash, kasr ratsional ifoda, irratsional ifoda, trigonometrik ifoda, ikki burchak yig'indisining sinusi, kosinusi, tangensi, kotangensi, ikki burchak ayirmasining sinusi, kosinusi, tangensi va kotangensi, trigonometrik ayniyat, ikkilangan trigonometrik funksiyalar.

## VIII BOB.

### TENGLAMALARNI O'RGANISH METODIKASI.

---

#### 1-§. Tenglama tushunchasini kiritish metodikasi.

Tenglama tushunchasi maktab matematika kursida konkret-induktiv metod orqali kiritiladi. O'quvchilar IV sinfgacha natural sonlar ustida ta'rifsiz to'rt amalni bajarishni o'rganadilar, so'ngra o'quvchilarga qo'shish, ayirish, bo'lish amallarida qatnashayotgan komponentlardan ikkitasi ma'lum bo'lganda noma'lum qatnashayotgan komponentni topish o'rganiladi. Bunda ana shu topilishi kerak bo'lgan komponentni harf bilan belgilanadi. Masalan, qanday songa 4 ni qo'shsak, 7 soni hosil bo'ladi? ( $x + 4 = ?$ ). Qanday sondan 8 ni ayirsak, 10 soni hosil bo'ladi? ( $x - 8 = 10?$ ). Qanday sonni 5 ga bo'lsak, 7 soni hosil bo'ladi? ( $x : 5 = 7?$ ), 18 soni qanday songa bo'linsa, 3 soni hosil bo'ladi? ( $18 : x = 3?$ ). Shu xildagi savollar asosida harfiy ifoda qatnashgan to'rt amalga doir tengliklarni hosil qilishimiz mumkin. O'quvchilar  $x + 4 = 7$  tenglikdagi noma'lum  $x$  sonini topishni ayirish mavzusidan biladilar, ya'ni "noma'lum qo'shiluvchini topish uchun yig'indidan ma'lum qo'shiluvchini ayirish kerak" degan qoidaga ko'ra berilgan  $x + 4 = 7$  tenglikdagi noma'lum sonni quyidagicha topadilar:  $x = 7 - 4 = 3$ . Ana shu fikrlarni o'quvchilarga tushuntirib, so'ngra  $x + 4 = 7$  tenglik matematika kursida tenglama deb atalishini, so'ngra unga berilgan quyidagi ta'rifni keltirish mumkin.

**Ta'rif.** *Noma'lum son qatnashgan tenglik tenglama deyiladi.*

$$x + 4 = 7; x - 5 = 9; 12 - x = 6,27; x = 9; x : 8 = 7 \dots$$

Tenglama deb qaralayotgan tengliklarda noma'lum sonlar  $x, y, z, \dots$  harflar bilan belgilanadi. Tenglamani yechish degan so'z uning hamma ildizlarini topish demakdir, boshqacha qilib aytganda, noma'lumning tenglamani chap qismini uning o'ng qismiga teng qiladigan qiymatni topish tenglamani yechish deb ataladi. Masalan,  $x + 4 = 7$  tenglama,  $x = 3$  soni uning ildizidir, chunki tenglamaning ildizigina berilgan tenglikni to'g'ri tenglikka aylantira oladi.

**T a' r i f.** *Nomalum sonning topilgan qiymati berilgan tenglamaning yechimi yoki ildizi deyiladi.*

Bundan ko'rinadiki, noma'lumning tenglamani ikkala qismini son jihatidan teng qiladigan qiymati tenglamaning ildizi yoki yechimi bo'lar ekan. Demak,  $x = 3$

yechim bo'lgani uchun  $3+4=7$  bo'ladi. IV sinf o'quvchilariga bir noma'lumli tenglamalarni yechish uchun quyidagi qoida o'rgatiladi:

1. Agar berilgan tenglamada noma'lum son kamayuvchi bo'lsa, u quyidagi qoidaga ko'ra topiladi. *Noma'lum kamayuvchini topish uchun ayiriluvchi bilan ayirmani ko'shish kerak.* Umumiy holda  $x-b=c$  bo'lsa,  $x=b+c$  bo'ladi.

2. Agar berilgan tenglamada noma'lum son ayiriluvchi bo'lsa, u quyidagi qoidaga ko'ra topiladi. *Noma'lum ayiriluvchini topish uchun kamayuvchidan ayirmani ayirish kerak.* Umumiy holda:  $a-x=c$  bo'lsa,  $x=a-c$  bo'ladi.

3. Agar berilgan tenglamada noma'lum son ko'payuvchilardan biri bo'lsa, u quyidagi qoidaga ko'ra topiladi. *Noma'lum ko'payuvchini topish uchun ko'paytmani ma'lum ko'payuvchiga bo'lish kerak.* Umumiy holda:  $a \cdot x = c$  bo'lsa.  $x=c:a$  bo'ladi.

4. Agar berilgan tenglamada noma'lum son bo'luvchi bo'lsa, u holda u quyidagi qoidaga ko'ra topiladi. *Noma'lum bo'luvchini topish uchun bo'linuvchini bo'linmaga bo'lish kerak.* Umumiy holda  $a : x = c$  bo'lsa,  $x = a : c$  bo'ladi.

5. Agar berilgan tenglamada noma'lum son bo'linuvchi bo'lsa, u quyidagi qoidaga ko'ra topiladi. *Noma'lum bo'linuvchini topish uchun bo'linmaga bo'luvchini ko'paytirish kerak.* Umumiy holda  $x : a = c$  bo'lsa,  $x = a \cdot c$  bo'ladi.

6. V sinf matematika kursida manfiy sonlarni ayirish mavzusi o'tiladi, bunda berilgan yig'indi va qo'shiluvchilardan biriga ko'ra ikkinchi qo'shiluvchi topiladi. Masalan,  $x+(-5)=12$  tenglik berilgan bo'lsin.  $x$  ni topish uchun tenglikni har ikki qismiga 5 sonni qo'shamiz,  $x+(-5)+5=12+5$ ,  $x=17$ . Bundagi 17 soni 12 va -5 sonlarining ayirmasidir, ya'ni  $12-(-5)=12+5=17$ . Javobning to'g'riligini qo'shish amali orqali tekshiriladi:  $17+(-5)=12$ . Agar  $x+(-5)=12$  tenglikka IV sinfdagi berilgan tenglama ta'rifini qo'llasak,  $x+(-5)=12$  tenglik tenglama bo'lib hisoblanadi. Bu yerdagi  $x=17$  soni esa  $x+(-5)=12$  tenglamaning ildizi bo'ladi. Yuqoridagi yechish bosqichlariga ko'ra  $x+a=0$  yoki  $-x+a=0$  ko'rinishdagi tenglamalarni yechish qoidasini chiqarish mumkin.  $x+a=b$  yoki  $-x+a=b$  ko'rinishdagi har qanday tenglamani yechish uchun ularning chap va o'ng qismlariga birgina  $-a$  sonini qo'shish kifoya.  $(x+a=b) \Rightarrow [x+a-a=b-a] \Rightarrow (x=b-a)$ ;

$$(-x+a=b) \Rightarrow (-x+a-a=b-a) \Rightarrow (-x=b-a) \Rightarrow (x=a-b).$$

**M i s o l l a r:** 1)  $y+9=-5$                       2)  $x-3=-17$ .

$$y+9-9=-5-9 \qquad x-3+3=-17+3$$

$$y=-14. \qquad x=-14.$$

3)  $4 - (2,8 - x) = 1,5$                       Tekshirish:

$$\begin{aligned}
4 - 1,5 &= 2,8 - x & 4 - (2,8 - 0,3) &= 1,5 \\
-2,8 + 2,5 &= 2,8 - 2,8 - x & 1,5 &= 1,5. \\
-x &= -0,3 \Rightarrow x & &= 0,3.
\end{aligned}$$

Shu misollardan keyin tenglama tuzishga olib keladigan masalalarni yechish foydali bo'ladi.

**1 - m a s a l a.** Savatda bir necha qo'ziqorin bor edi. Unga yana 27 ta qo'ziqorin solinganidan keyin qo'ziqorinlar 75 ta bo'ldi. Savatda nechta qo'ziqorin bo'lgan?

Yechish. Savatdagi bor qo'ziqorinlar sonini  $x$  bilan belgilaymiz. U holda shartga muvofiq  $x+27=75$  tenglamani tuzamiz.

Tenglamani yechish uchun bunday mulohaza yuritimiz: tenglikdagi noma'lum qo'shiluvchini topish uchun yig'indidan ma'lum qo'shiluvchini ayirish kifoya, ya'ni  $x=75-27=48$  (ta). Tenglama yechimini to'g'ri yoki noto'g'ri ekanligini bilish uchun tuzilgan tenglamadagi noma'lum  $x$  o'rniga 48 sonini qo'yib, uni hisoblaymiz. Agar tenglamaning chap qismida ham 75 chiqsa u to'g'ri yechilgan bo'ladi.  $48+27=75$ ,  $75=75$ . Demak, yechim to'g'ri ekan.

**2- m a s a l a.** O'quvchida 81 tiyin bor edi. U bir necha tiyinga konfet oldi, shundan keyin unda 63 tiyin qoldi. Konfet qancha tiyin turadi?

Matematika fanida tenglik tushunchasi taqqoslash tushunchasi orqali quyidagicha tushuntiriladi: o'rganilayotgan matematik ob'ektdagi narsalarning o'zaro o'xshash va farqli tomonlarini fikran aniqlash taqqoslash deyiladi. Ana shu o'rganilayotgan narsalarning o'xshash yoki farqli tomonlarini taqqoslaganda bir xil son qiymatiga ega bo'lsa, u holda bu narsalar son jihatidan teng deb qaraladi, u tenglik (=) ishorasi bilan belgilanadi. Agar  $a$  va  $b$  sonlar o'zaro teng bo'lsa, u  $a=b$  kabi belgilanadi, agar ular teng bo'lmasa,  $a \neq b$  kabi belgilanadi. Masalan,  $3=3$ ,  $7+1=8$ ,  $9-6=3$ . ... . Xuddi shuningdek,  $8 \neq 9$ ,  $3+5 \neq 4$ , ... kabi yoziladi.

Matematika kursida tengliklar ikki xil bo'ladi, ayniyat va tenglama.

**Ta'rif.** Tarkibidagi noma'lum sonlarning yo'l qo'yiladigan har qanday qiymatlarida ikkali qismi bir xil son qiymatlarini qabul qiladigan tenglik ayniyat deyiladi. Masalan,

$$\begin{aligned}
x^2 - 1 &= (x - 1)(x + 1); \\
\frac{x^3 - y^3}{x - y} &= x^2 + xy + y^2, & \frac{1}{x^2 - 1} &= \frac{1}{x+1} \cdot \frac{1}{x-1}.
\end{aligned}$$

1)  $x^2-1=(x-1)(x+1)$  tenglikni olaylik,  $x$  ning ixtiyoriy qiymatlarida tenglikning chap tomoni o'ng tomoniga teng chiqadi. Masalan,

$$x = 2 \text{ bo'lsin, } 2^2 - 1 = (2-1)(2+1), \text{ bundan } 3 = 3$$

$$x = 5 \text{ bo'lsin, } 5^2 - 1 = (5-1)(5+1), \text{ bundan } 24 = 24$$

$$2) \frac{1}{x^2 - 1} = \frac{1}{x+1} \cdot \frac{1}{x-1} \text{ tenglikni olaylik, bu yerda eng avvalo bu tenglikdagi}$$

noma'lumlarning yo'l qo'yiladigan qiymatlarini aniqlash lozim. Bu tenglikda  $x^2 \pm 1$  bo'lishi kerak, aks holda kasrning maxraji nolga teng bo'lib, u ma'noga ega bo'lmay qoladi. Shuning uchun berilgan xarflarning yo'l qo'yiladigan qiymatlariga quyidagicha ta'rif berilgan.

**Ta'rif.** Tenglik tarkibiga kiruvchi harflarning shu tenglikning o'ng va chap qismi ma'noga ega bo'ladigan qiymatlari bu harflarning yo'l qo'yiladigan qiymatlari deyiladi. Yuqoridagi tenglamada yo'l quyiladigan qiymatlar  $x^2 \pm 1$  lardan boshqa barcha haqiqiy sonlardir. Masalan,

$$\text{agar } x = 2 \text{ bo'lsa, } \frac{1}{2^2 - 1} = \frac{1}{2+1} \cdot \frac{1}{2-1}, \quad \frac{1}{3} \cdot \frac{1}{1} = \frac{1}{3}$$

$$\text{agar } x = 3 \text{ bo'lsa, } \frac{1}{3^2 - 1} = \frac{1}{3+1} \cdot \frac{1}{3-1}, \quad \frac{1}{4} \cdot \frac{1}{2} = \frac{1}{8}$$

Endi matematika kursida shunday tengliklar ham borki, ularning ikkala qismi harfning bir xil yo'l qo'yiladigan qiymatlarida turli son qiymatlarini qabul qiladi. Masalan:  $x+5=7$ ,  $2x-7=8$ .

Bu ko'rinishdagi tengliklarni tenglamalar deb ataladi, tenglama biror berilgan tenglikni ikkala qismi noma'lum harfning yo'l qo'yiladigan qiymatlarida bir xil son qiymatlar qabul qilishini aniqlash masalasini o'rganuvchi tenglik bo'lib hisoblanadi. V sinfda  $4x=2x+16$  ko'rinishdagi tenglamani yechish o'rganiladi. Bunday tenglamalarni yechish uchun tenglikning har ikkala tomoniga  $-2x$  ifodani qo'shamiz.  $4x+(-2x)=2x+(-2x)+16$ ,  $4x-2x=2x-2x+16$ . Bu ifodaning tengligini quyidagicha tushuntirish mumkin. Tarozining har ikkala pallasidan o'zaro teng bo'lgan miqdordagi narsalarni olib tashlaymiz, u holda  $2x=16$  tenglik hosil bo'ladi, bundan  $x=8$  soni kelib chiqadi,  $x=8$  soni  $4x=2x+16$  tenglamaning yechimi yoki ildizi bo'ladi.

Bir noma'lumga nisbatan ikki tenglamadan birining har bir ildizi ikkinchi tenglamaning ham ildizi bo'lsa, ikkinchi tenglamaning har bir ildizi esa shu bilan birga birinchi tenglamaning ham ildizi bo'lsa, bu ikki tenglama *teng kuchli (ekvivalent) tenglamalar* deyiladi. Masalan,  $2x+5=7$  va  $x-1=0$  tenglamalar teng kuchli tenglamalardir, chunki ularning ikkalasining ham ildizi  $x=1$  sonidan iboratdir. Bundan tashqari ildizlari mavjud bo'lmagan tenglamalar ham teng



kuchlidir. Masalan,  $x^2=-3$  va  $x^2+2=-5$  va hokazo. Teng kuchli tenglamalarning quyidagi xossalari o'quvchilarga tushuntirish maqsadga muvofiqdir.

**1 - x o s s a.** Agar tenglamaning ikkala qismi noldan farqli biror songa ko'paytirilsa yoki bo'linsa, berilgan tenglamaga teng kuchli tenglash hosil bo'ladi.

Masalan,  $15x-5=25$ , bu tenglamaning har ikki tomonini 5 soniga bo'lsak,  $3x-1=5$  tenglama hosil bo'ladi, bu tenglama oldingi tenglamaga teng kuchli bo'lgan tenglamadir.

Masalan:  $12x-7=2x+13$ .  $12x-2x=13+7$ ,  $10x=20$ ,  $x=2$ .

## 2-§. Chiziqli tenglamalar.

Maktab matematika kursida chiziqli tenglama tushunchasini kiritish abstrakt-deduktiv usul orqali amalga oshiriladi, chunki bu tenglama uchun avvalo ta'rif beriladi, so'ngra tenglamaning umumiy ko'rinishi va uni yechish usullari hamda grafigi o'rganiladi.

**Ta'rif.** Agar tenglamaning chap va o'ng qismlari, noma'lum o'zgaruvchiga nisbatan chiziqli funksiyalardan iborat bo'lsa, bunday tenglama chiziqli tenglama deyiladi.

Chiziqli tenglama umumiy holda  $ax+b=cx+d$  ko'rinishda ifodalanadi. Bu yerda  $a, b, c, d$  - berilgan ma'lum sonlar,  $x$  esa noma'lum son. Bu ko'rinishdagi tenglamalarni yechish quyidagicha amal oshiriladi.

$$ax+b=cx+d. (1), ax-cx=d-b, x(a-c)=d-b, \quad x = \frac{d-b}{a-c} \quad (2)$$

1. Agar  $a \neq c$  bo'lsa, (1) tenglama (2) ko'rinishdagi bitta yechimga ega bo'ladi.

2. Agar  $a-c=0$ .  $d-b \neq 0$  bo'lsa. (1) tenglama  $0x=d-b$  ko'rinishni oladi, bunday tenglama  $x$  ning hech bir qiymatida o'rinli bo'lmaydi. Demak, bu holda tenglama yechimga ega emas.

3. Agar  $a-c=0$  va  $d-b=0$  bo'lsa, (1) tenglama  $0x=0$  ko'rinishni oladi, bu tenglik  $x$  ning barcha qiymatlarida o'rinli, shuning uchun (1) tenglama cheksiz ko'p yechimga ega bo'ladi. Boshqacha qilib aytganda, Har qanday son uning yechimi bo'laveradi.

**1-m i s o l.**  $a+x=a^2x-1$  tenglamani  $x$  ga nisbatan yeching.

Ye ch i sh.  $a+1=a^2x-x$ ,  $a+1=x(a^2-1)$ ;  $a+1=x(a-1)(a+1)$

1. Agar  $a \neq -1$  bo'lsa, tenglama  $x = \frac{1}{a-1}$  yechimga ega.

2. Agar  $a=1$  bo'lsa, tenglama  $0x = 1$  ko'rinishni oladi, bu holda u yechimga ega emas.

3. Agar  $a=-1$  bo'lsa, tenglama  $-2x=1$ ,  $x = -\frac{1}{2}$  ko'rinishni oladi, bu holda u tenglama yechimga ega.

**2 - m i s o l.**  $3-ax=x-b$  tenglamani  $x$  ga nisbatan yeching.

**3 - m i s o l.**  $ax-b=1+x$  tenglamani  $x$  ga nisbatan yeching.

### 3-§. Parametrik usulda berilgan kasr - ratsional tenglamalarni yechish.

Parametrik usuldagi tenglamalarni yechish degan so'z tenglamada qatnashayotgan parametrlarning yo'l qo'yiladigan barcha qiymatlariga mos keluvchi ildizlarni topish demakdir.

**M i s o l.**  $\frac{5}{ax-4} = \frac{1}{9x-a}$  tenglama yechilsin.

Bu tenglama ma'noga ega bo'lishi uchun  $ax-4 \neq 0$  va  $9x-a \neq 0$  bo'lishi kerak. Tenglamani har ikkala tomonini  $(ax-4)(9x-a)$  ga ko'paytirsak  $45x-ax=5a-4$  tenglama hosil bo'ladi, bundan:

$$45x-ax=5a-4, x(45-a)=5a-4. \quad (1)$$

Endi biz  $a$  ning qanday qiymatlarida  $9x-a=0$  ga  $ax-4=0$  tengliklar o'rinli bo'lishini topamiz.  $x=\frac{a}{9}$  va  $x=\frac{4}{a}$ ,  $a \neq 0$ . Bu qiymatlarni (1) tenglamaga qo'ysak,  $a$  ga nisbatan kvadrat tenglama hosil bo'ladi:

$$1) \frac{a}{9} (45-a)=5a-4, \quad 2) \frac{4}{a} (45-a)=5a-4$$

$$45a - a^2 = 45a - 36, \quad 180 - 4a = 5a^2 - 4a$$

$$a^2 = 36, \quad a = \pm 6. \quad a^2 = 36, \quad a = \pm 6.$$

Agar parametr  $a=\pm 6$  qiymatni qabul qilsa, berilgan tenglama maxraji nolga teng bo'lib, u ma'noga ega bo'lmaydi, shu sababli  $(45-a)x=5a-4$ . (1) tenglama berilgan tenglamaga teng kuchli bo'lganligi uchun,  $a \neq \pm 6$  shartga ko'ra, bu tenglamani quyidagicha yechamiz:

1. a) Agar  $45-a \neq 0$  bo'lsa,  $a \neq 45$  bo'ladi. Bu holda (1) tenglama bitta yechimga ega bo'ladi.

b) Agar  $45-a=0$  bo'lsa, (1) tenglama  $0\bar{x}=221$  bo'ladi, bu holda tenglama yechimga ega emas. Javob:  $x = \frac{5a-4}{45-a}$ ,  $a \neq 45$  va  $a \neq \pm 6$ .

2. Agar  $a = 45$  bo'lsa, tenglama yechimga ega emas.

3. Agar  $a \neq \pm 6$  bo'lsa, tenglama ma'noga ega bo'lmaydi.

**2-misol.**  $\frac{1}{2n+nx} + \frac{1}{x^2-2x} = \frac{2(n+3)}{x^3-4x}$  tenglama yechilsin.

J a v o b : 1) agar  $n=-4$  bo'lsa,  $x=8$ ; 2) agar  $n=-2$  bo'lsa,  $x=4$ ; 3) agar  $n=-1$  bo'lsa,  $x=1$ ; 4) agar  $n=1$  bo'lsa,  $x=3$ .

**3 - m i s o l.**  $\frac{1}{x-1} + \frac{1}{x-b} = 1 + \frac{1}{b}$  tenglama yechilsin.

J a v o b :  $x_1 = b + 1$ ,  $x_2 = \frac{2b}{b+1}$ ,  $b \neq 0$ ,  $b \neq 1$ .

Agar  $b=-1$  bo'lsa,  $x=0$ . Agar  $b=1$  bo'lsa,  $x=2$ .

#### 4-§. Noma'lum absolyut miqdor belgisi ostida qatnashgan tenglamalarni yechish metodikasi

Absolyut miqdor ta'rifiga ko'ra  $x$  sonining absolyut miqdori quyidagicha aniqlanadi:

$$|x| = \begin{cases} x, & \text{agar } x > 0 \text{ bo'lsa,} \\ -x, & \text{agar } x < 0 \text{ bo'lsa,} \\ 0, & \text{agar } x = 0 \text{ bo'lsa.} \end{cases}$$

Masalan.  $|5| = 5$ ,  $|-2| = 2$ ; ...

**Ta'rif.** Agar tenglamadagi noma'lum soni absolyut qiymati belgisi bilan kelsa, bunday tenglama absolyut miqdor belgisi ostidagi tenglama deyiladi.

Masalan,  $|3x - 1| = 4$ .  $|2x - 1| = |5x - 7|$ ,  $|5x - 7| = 13$

Bu ko'rinishdagi tenglamalarni quyidagi usullar bilan yechiladi.

**1-misol.**  $|5x - 7| = 13$ .

Y e c h i s h. **1 - u s u l.**

1)  $5x - 7 = 13$ ,

2)  $5x - 7 = -13$ ,

$5x = 13 + 7$ ,

$5x = -13 + 7$ ,

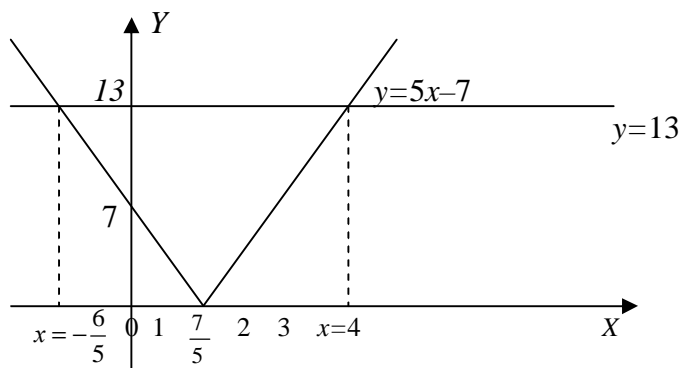
$5x = 20$ ,

$5x = -6$ ,

$x = 4$ ,

$x = -\frac{6}{5} = -1\frac{1}{5}$ ,

Tekshirish.  $20-7=13$ ,  $13=13$ . Demak,  $x=4$ ,  $x=-6/5$  sonlari berilgan tenglamaning ildizlari bo'ladi.



21-chizma.

**2-usul.** (Grafik usuli):  $y=5x-7$  funksiya grafigini chizamiz, ularning kesishish nuqtasining absissasi berilgan tenglamaning yechimi bo'ladi (21-chizma).

X	0	1	2	3	4	5	6	-1	-2	-3	-4
Y	7	2	3	8	13	18	23	12	17	22	27

Buning uchun  $y=|5x-7|$  funksiyaning grafigini yasaymiz. Bu grafikning  $x$  o'qidan yuqorida yotgan qismini o'zgarishsiz qoldiramiz. Uning uchun  $5x-7>0$ , shu sababli  $|5x-7|=5x-7$  bo'ladi. Bu grafikning absissalar o'qidan pastga yetgan qismiga shu o'qqa nisbatan simmetrik akslantiramiz. Bu holda  $5x-7<0$  bo'ladi, ya'ni  $|5x-7|=-(5x-7)$ . Natijada  $y=5x-7$  funksiya grafigi  $y=13$  chiziq bilan ikki nuqtada kesishadi, kesishish nuqtalarning absissalari  $x=4$  va  $x=-1\frac{1}{5}$  nuqtalardan iborat bo'ladi, ana shu nuqtalar  $|5x-7|=13$  tenglamaning yechimi bo'ladi.

**3 - u s u l.** (oraliqlar metodi). Absolyut miqdor belgisi ostidagi  $|5x-7|$  ifoda  $x=\frac{7}{5}$  da nolga aylanadi. Sonlar to'g'ri chizig'ida  $x=\frac{7}{5}$  nuqtani belgilab, bu nuqtadan chapda  $\left(-\infty;\frac{7}{5}\right)$  va o'ngda  $\left(\frac{7}{5};\infty\right)$  olingan qiymatlarga ko'ra  $|5x-7|$  ifodani absolyut miqdor belgisiz quyidagicha yozish mumkin:

$$|5x-7|= \begin{cases} -5x+7, & \text{birinchi } \left(-\infty;\frac{7}{5}\right) \text{ oraliqda} \\ 5x-7, & \text{ikkinchi } \left(\frac{7}{5};\infty\right) \text{ oraliqda} \end{cases}$$

Bularga ko'ra tenglamani quyidagi ikki ko'rinishda yozish mumkin:

$$\begin{array}{ll} 1) & -5x+7=13, & 2) & 5x-7=13, \\ & -5x=13-7, & & 5x=13+7, \\ & -5x=6, & & 5x=20, \\ & x=-\frac{6}{5}=-1\frac{1}{5}, & & x=4, \end{array}$$

**2 - m i s o l.**  $|7x-1|=21-9x$ .

Yechish.

$$\begin{array}{ll} 1) \quad 7x-1=21-9x, & 2) \quad 7x-1=-(21-9x), \\ \quad 7x+9x=21+1, & \quad 7x-1=9x-21 \\ \quad 16x=22, & \quad 9x-7x=21-1, \\ x=\frac{22}{16}=\frac{11}{8}, \quad x=1\frac{3}{8}. & \quad 2x=20, \quad x=10. \end{array}$$

Tekshirish.

$$7 \cdot \frac{11}{8} - 1 = 21 - 9 \cdot \frac{11}{8}, \quad \frac{77-8}{8} = \frac{168-99}{8}.$$

Demak,  $x = \frac{11}{8}$  soni berilgan tenglama yechimi ekan.

**3-misol.**  $|x-1|+|x+1|=2$  tenglama yechilsin. Bu tenglamada  $x-1=0$  va  $x+1=0$ , demak, ular  $x=1$  va  $x=-1$  yechimlarga ega bo'ladi. Sonlar to'g'ri chizig'ida  $x=1$  va  $x=-1$  nuqtalarni belgilaymiz, bu holda sonlar to'g'ri chizig'i uchta oraliqqa ajraladi. Birinchi oraliq  $(-\infty, -1)$ , ikkinchi oraliq  $[-1, 1]$ , uchinchi oraliq  $(1, \infty)$  dan iboratdir.  $|x-1|$  va  $|x+1|$  ifodalarning har birini hosil qilingan oraliqlarda absolyut miqdor belgisiz quyidagicha yozish mumkin:

1) agar  $x \leq -1$  bo'lsa,  $|x-1|+|x+1|=2$  tenglama  $-x+1-x-1=2$  bo'ladi, bundan  $-2x=2$  yoki  $x=-1$  yechimga ega bo'lamiz;

2) agar  $-1 \leq x \leq 1$  bo'lsa,  $|x-1|+|x+1|=2$  tenglama  $-x+1+x+1=2$  bo'ladi, bundan  $2x=2$  yoki  $x=1$  bo'ladi. Demak,  $x=-1$  va  $x=1$  yechimlarga ega bo'ladi.

**4 - m i s o l.**  $2x^2-5x-3 |x-2|=0$  tenglama yechilsin.

1) agar  $x < 2$  bo'lsa,  $2x^2-5x-3 |x-2|$  tenglama  $2x^2-5x+3x-6=0$  yoki  $x^2-x-3=0$  ko'rinishni oladi, uni yechsak  $x_{1,2} = \frac{1}{2} \pm \sqrt{\frac{1}{4}+3} = \frac{1}{2} \pm \frac{\sqrt{13}}{2}$ ,

ya'ni  $x_1 = \frac{1+\sqrt{13}}{2}$  va  $x_2 = \frac{1-\sqrt{13}}{2}$  yechimlar hosil qilinadi.

Bunda:  $x_1 = \frac{1+\sqrt{13}}{2}$  yechim qaralayotgan sohada yetmaydi, shuning uchun

$x_2 = \frac{1-\sqrt{13}}{2}$   $(-\infty, 2)$  oraliq uchun yechim bo'ladi;

2) agar  $x \geq 2$  bo'lsa, berilgan tenglamadan  $2x^2-5x-3x+6=0$  hosil bo'ladi yoki ushbu  $x^2-4x+3=0$  ko'rinishni oladi, uni yechsak,  $x_1=1$  va  $x_2=3$  yechimlarga ega bo'lamiz. Bunday  $x_1=1$  yechim qaralayotgan oraliqda yotmaydi, shuning uchun

$(2, \infty)$  oraliq uchun yechim  $x_2=3$  bo'ladi. Demak.  $2x^2-5x-3/x-2/=0$  tenglamaning yechimi  $x_1=1-\frac{\sqrt{13}}{2}$ ,  $x_2=3$  bo'ladi.

### 5-§. Kvadrat tenglama tushunchasini kiritish metodikasi.

Kvadrat tenglama tushunchasi VII sinfdan o'tiladi. Bu tema materialini o'tishdan bir necha kun oldin o'qituvchi qo'shimcha vazifa sifatida o'quvchilarga kvadrat uchhaddan to'la kvadrat ajratish mavzusini o'rganib kelishlarini vazifa qilib berilishi kerak.

$$\begin{aligned} y &= ax^2 + bx + c = a\left(x^2 + \frac{b}{a}x + \frac{c}{a}\right) = a\left(x^2 + 2\frac{b}{2a}x + \frac{c}{a}\right) = \\ &= a\left(x^2 + 2\frac{b}{2a}x + \frac{b^2}{4a^2} - \frac{b^2}{4a^2} + \frac{c}{a}\right) = \\ &= a\left[\left(x + \frac{b}{2a}\right)^2 - \frac{b^2 - 4ac}{4a^2}\right] = a\left(x + \frac{b}{2a}\right)^2 - \frac{b^2 - 4ac}{4a}. \end{aligned}$$

**Misol.**

$$\begin{aligned} 2x^2 + 4x - 3 &= 2\left(x^2 + 2x - \frac{3}{2}\right) = 2\left(x^2 + 2x + 1 - \frac{3}{2} - 1\right) = \\ &= 2\left((x+1)^2 - \frac{5}{2}\right) = 2(x+1)^2 - 5. \end{aligned}$$

Kvadrat uchhaddan to'la kvadrat ajratishni tushuntirilganidan so'ng kvadrat tenglama tushunchasini abstrakt-deduktiv usul orqali kiritiladi.

**Ta'rif.**  $ax^2+bx+c=0$  (1) ko'rinishdagi tenglama kvadrat tenglama deyiladi, bu yerda  $a, b, c$  berilgan sonlar,  $a \neq 0$ ,  $x$  noma'lum sonidir.

Bu tenglamaning ildizlarini topish uchun tenglikning chap tomonida turgan kvadrat uchhaddan to'la kvadrat ajratamiz, ya'ni

$$a\left(x + \frac{b}{2a}\right)^2 - \frac{b^2 - 4ac}{4a} = 0 \text{ yoki } \left(x + \frac{b}{2a}\right)^2 = \frac{b^2 - 4ac}{4a^2}. \quad (2)$$

(2) tenglama (1) tenglamaga teng kuchli tenglamadir. (2) haqiqiy yechimga ega bo'lishi uchun  $\frac{b^2 - 4ac}{4a^2} \geq 0$  bo'lishi kerak. Bu yerdagi  $b^2 - 4ac$  (1) ning diskriminanti deyiladi va u  $D = b^2 - 4ac$  kabi belgilanadi.

1) Agar diskriminant  $D = b^2 - 4ac > 0$  bo'lsa, (1) tenglama ikkita haqiqiy har xil yechimga ega bo'ladi. Bu yechimni (2) tenglamadan topa olamiz:

$$x_{1,2} = \frac{b}{2a} \pm \sqrt{\frac{b^2 - 4ac}{4a^2}} = \frac{b}{2a} \pm \frac{\sqrt{b^2 - 4ac}}{2a} = \frac{-b \pm \sqrt{b^2 - 4ac}}{2a};$$

$$x_1 = \frac{-b + \sqrt{b^2 - 4ac}}{2a}; \quad x_2 = \frac{-b - \sqrt{b^2 - 4ac}}{2a};$$

2) Agar diskriminant  $D=b^2-4ac<0$  bo'lsa, (1) tenglama haqiqiy sonlar to'plamida yechimga ega emas.

3) Agar diskriminant  $D=b^2-4ac=0$  bo'lsa, (1) bitta haqiqiy yechimga ega bo'ladi:  $x_1 = x_2 = -\frac{b}{2a}$ .

Maktab matematika kursida to'la kvadrat tenglama koeffitsientlariga ma'lum shartlar qo'yish orqali chala kvadrat tenglamalar hosil qilamiz.

Agarda (1)  $b=0$  va  $c=0$  bo'lsa,  $ax^2+bx+c=0$  tenglama  $ax^2=0$  ko'rinishni oladi, uning yechimi  $x=0$  bo'lgan  $x_1=x_2=0$  bo'ladi. Agar  $b=0$  bo'lsa,  $ax^2+bx+c=0$  tenglama  $ax^2+c=0$  ko'rinishni oladi, uni yechsak,  $x^2 = -\frac{c}{a}$  bo'ladi, agar  $\frac{c}{a} < 0$  bo'lsa,  $-\frac{c}{a} > 0$  bo'ladi, bunda  $ax^2+c=0$  tenglama haqiqiy sonlar to'plamida

yechimga ega bo'ladi, ya'ni  $x_{1,2} = \pm\sqrt{\frac{c}{a}}$ . Agar  $\frac{c}{a} > 0$  bo'lsa,  $ax^2+c=0$  tenglama haqiqiy sonlar to'plamida yechimga ega emas.

3) Agar  $c=0$  bo'lsa,  $ax^2+bx+c=0$  tenglama  $ax^2+bx=0$  ko'rinishni oladi, uni yechsak

$$(ax^2+bx)=0 \Leftrightarrow x(ax+b)=0 \Leftrightarrow \begin{cases} x_1 = 0 \\ x_2 = -\frac{b}{a} \end{cases} \text{ yechimlarni hosil qilamiz.}$$

$ax^2+bx+c=0$  ko'rinishdagi tenglama ildizlarini yana quyidagi usul bilan ham hisoblash mumkin. Berilgan tenglamani  $ax^2+bx=-c$  ko'rinishda ifodalab, uning har ikkala tomonini  $4a$  ga ko'paytiramiz, natijada  $4a^2x^2+4abx=-4ac$  tenglik hosil bo'ladi. Hosil bo'lgan tenglikning har ikki tomoniga  $b^2$  ni qo'shamiz:  $4a^2c^2+4abx+b^2=b^2-4ac$  bundan:  $(2ax+b)^2=b^2-4ac$ .

Agar  $D=b^2-4ac \geq 0$  bo'lsa, bu tenglikning har ikki tomonidan arifmetik kvadrat ildiz chiqarish mumkin:

$$(2ax+b) = \sqrt{b^2 - 4ac}.$$

Bunda ikki hol bo'lish mumkin:

$$1) \quad \text{agar } 2ax+b < 0 \text{ bo'lsa, } -(2ax+b) = \sqrt{b^2 - 4ac}, \quad x_1 = \frac{-b - \sqrt{b^2 - 4ac}}{2};$$

2) agar  $2ax+b>0$  bo'lsa,

$$2ax+b=\sqrt{b^2-4ac},$$

$$x_2 = \frac{-b+\sqrt{b^2-4ac}}{2a}.$$

Shunday qilib, diskriminant  $D=b^2-4ac>0$  bo'lsa, tenglama ikkita haqiqiy har xil yechimga ega bo'ladi.

Kvadrat tenglama ildizlarini uning diskriminantiga ko'ra tekshirishni quyidagi jadval orqali tushuntirilsa, o'quvchilarning mantiqiy fikrlash qobiliyatlari ortadi:

$D=b-4ac>0$	Agar $c>0$ bo'lsa,	$b<0$ bo'lsa, ikkala ildiz musbat, $b>0$ bo'lsa, ikkala ildiz manfiy.
	$c<0$ bo'lsa, ikkala ildiz har xil bo'ladi	$b<0$ bo'lsa, ikkala ildiz musbat, $b>0$ bo'lsa, ikkala ildiz manfiy.
	$c = \begin{cases} x_1 = 0 \\ x_2 = -\frac{b}{a} \end{cases}$	$b>0$ bo'lsa, ildizlardan biri nolga teng, ikkinchisi esa manfiy bo'ladi, $b<0$ bo'lsa, ildizlardan biri nolga teng, ikkinchisi esa musbat bo'ladi.
$D=b-4ac=0$		$b>0$ bo'lsa, ikkala ildiz manfiy bo'ladi, $b<0$ bo'lsa, ikkala ildiz musbat bo'ladi.

Agar  $ax^2+bx+c=0$  tenglamada  $a=1$  bo'lsa, hosil bo'lgan  $x^2+bx+c=0$  tenglama keltirilgan kvadrat tenglama deyiladi. Har qanday to'la kvadrat tenglamaning har ikkala tomonini  $a$  ga bo'lish orqali uni keltirilgan kvadrat tenglama ko'rinishiga keltirish mumkin;  $ax^2+bx+c=0$  bo'lsa,  $x^2+\frac{b}{a}x+\frac{c}{a}=0$ , agar  $\frac{b}{a}=p$ ,  $\frac{c}{a}=q$  desak, u holda  $x^2+bx+q=0$  tenglama keltirilgan kvadrat tenglamaning umumiy ko'rinishi bo'ladi.

Bu tenglamaning yechimi  $x_{1,2} = -\frac{p}{2} \pm \sqrt{\frac{p^2}{4}-q}$  formula bilan ifodalanadi.

**Misollar:** 1)  $3x^2-5x+2=0$ ,  $a=3$ ,  $b=-5$ .  $c=2$ . To'la kvadrat tenglama yechimi formulasiga ko'ra



$$x_{1,2} = \frac{-b \pm \sqrt{b^2 - 4ac}}{2a} = \frac{5 \pm \sqrt{25 - 4 \cdot 3 \cdot 2}}{6} = \frac{5 \pm 1}{6}$$

$$x_1 = \frac{5+1}{6} = \frac{6}{6} = 1, \quad x_2 = \frac{5-1}{6} = \frac{4}{6} = \frac{2}{3}. \text{ bo'ladi.}$$

2)  $3x^2 - 5x + 2 = 0$  tenglamaning har ikki tomonini 3 ga bo'lsak,  $x^2 - \frac{5}{3}x + \frac{2}{3} = 0$  bo'ladi. Bu tenglamaning ildizlarini keltirilgan kvadrat tenglama formulasidan foydalanib topamiz:

$$p = -\frac{5}{3}, \quad q = +\frac{2}{3}$$

$$x_{1,2} = -\frac{p}{q} \pm \sqrt{\frac{p^2}{4} - q} = -\left(-\frac{5}{6}\right) \pm \sqrt{\frac{25}{36} - \frac{2}{3}} =$$

$$= \frac{5}{6} \pm \sqrt{\frac{25-24}{36}} = \frac{5}{6} \pm \frac{1}{6}$$

$$x_1 = \frac{5+1}{6} = \frac{6}{6} = 1, \quad x_2 = \frac{5-1}{6} = \frac{4}{6} = \frac{2}{3}.$$

## 6-§. Viyet teoremasi.

Viyet teoremasi ham matematik tushunchalarni kiritishning konkret induktiv usuli orqali kiritiladi, chunki bu teoremani bayon qilishdan oldin teorema xulosasiga olib keladigan quyidagi ko'rinishdagi tushuntirish ishlari bilan shug'ullaniladi. Agar  $x^2 + px + q = 0$  keltirilgan kvadrat tenglama diskriminanti manfiy bo'lmasa, uning ildizlari  $x_1 = -\frac{p}{2} + \sqrt{\frac{p^2}{4} - q}$  va  $x_2 = -\frac{p}{2} - \sqrt{\frac{p^2}{4} - q}$  bo'lar edi.

Bu  $x_1$  va  $x_2$  yechimlarni o'zaro qo'shsak,

$$x_1 + x_2 = -\frac{p}{2} + \sqrt{\frac{p^2}{4} - q} - \frac{p}{2} - \sqrt{\frac{p^2}{4} - q} = -p, \text{ ko'paytirsak}$$

$$x_1 \cdot x_2 = \left(-\frac{p}{2} + \sqrt{\frac{p^2}{4} - q}\right) \cdot \left(-\frac{p}{2} - \sqrt{\frac{p^2}{4} - q}\right) = \left(-\frac{p}{2}\right)^2 - \left(\sqrt{\frac{p^2}{4} - q}\right)^2 = \frac{p^2}{4} - \frac{p^2}{4} + q = q$$

tengliklarni hosil qilamiz. Bularga ko'ra teoremani quyidagicha ifodalash mumkin.

**Teorema.** *Agar keltirilgan kvadrat tenglama haqiqiy ildizlarga ega bo'lsa, bu ildizlarning yig'indisi qarama-qarshi ishora bilan olingan  $x$  oldidagi koeffitsientga, ularning ko'paytmasi esa shu tenglamaning ozod xadiga teng bo'ladi.*

**M i s o l.**  $x^2 - 3x + 2 = 0$  tenglamani Viyet teoremasi asosida tekshiring.

Yechish.  $D = \sqrt{\left(\frac{3}{2}\right)^2 - 2} = \sqrt{\frac{9}{4} - 2} = \sqrt{\frac{1}{4}} = \frac{1}{2} > 0$  shuning uchun  $\begin{cases} x_1 + x_2 = 3 \\ x_1 \cdot x_2 = 2 \end{cases}$  bo'ladi.

Agar berilgan tenglamani yechsak,  $x_{1,2} = \frac{3}{2} \pm \sqrt{\frac{9}{4} - 2} = \frac{3}{2} \pm \frac{1}{2}$ , bundan  $x_1 = 2$ ,  $x_2 = 1$  ekani topiladi. Demak,  $x_1 + x_2 = 2 + 1 = 3$ ,  $x_1 x_2 = 2 \cdot 1 = 2$ .

Bundan tashqari bu sistemani yechsak, noma'lumlarning biriga nisbatan berilgan tenglama hosil bo'ladi:

$$\begin{cases} x_1 x_2 + x_2^2 = 3x_2 \\ x_1 \cdot x_2 = 2 \end{cases} \Rightarrow (x_2^2 = 3x_2 - 2) \Rightarrow x_2^2 - 3x_2 + 2 = 0.$$

Xuddi shuningdek  $x_1$  noma'lumga nisbatan yechish ham mumkin.

## 7-§. Kvadrat tenglamaga keltirib yechiladigan tenglamalar

1.  $ax^4 + bx^2 + c = 0$  (1) tenglama bikvadrat tenglama deyiladi. Bu yerda  $a$ ,  $b$  va  $c$  berilgan sonlar bo'lib,  $a \neq 0$  dir. Agar (1) da  $x^2 = z$  desak,  $az^2 + bz + c = 0$  (2) ko'rinishdagi kvadrat tenglama hosil bo'ladi. Bu tenglamani  $z$  ga nisbatan yechamiz:  $z_1 = \frac{-b + \sqrt{b^2 - 4ac}}{2a}$  va  $z_2 = \frac{-b - \sqrt{b^2 - 4ac}}{2a}$  Agar  $z_1 > 0$  va  $z_2 > 0$  ( $a > 0$ ,  $c > 0$ ,  $b^2 - 4ac \geq 0$ ,  $b < 0$  yoki  $a < 0$ ,  $c < 0$ ,  $b^2 - 4ac \geq 0$ ,  $b > 0$ ) bo'lsa, (1) ko'rinishdagi kvadrat tenglama quyidagi ko'rinishdagi to'rtta yechimga ega bo'ladi:

$$x_{1,2} = \pm \sqrt{\frac{-b - \sqrt{b^2 - 4ac}}{2a}}, \quad x_{3,4} = \pm \sqrt{\frac{-b + \sqrt{b^2 - 4ac}}{2a}}.$$

**1 - m i s o l.**  $x^4 - 3x^2 - 4 = 0$  tenglama yechilsin.

Agar  $x^2 = z$  deb belgilasak, tenglama  $z^2 - 3z - 4 = 0$  ko'rinishni oladi. Bu tenglamaning yechimi  $z_1 = 4$  va  $z_2 = -1$  bo'lib  $x_{1,2} = \pm 2$  bo'ladi,  $x_{3,4} = \pm \sqrt{-1}$  yechimi esa haqiqiy sonlar to'plamida mavjud emas.

**2 - m i s o l.**  $2x^4 - 5x^2 + 3 = 0$ .  $a = 2$ ,  $b = -5$ ,  $c = 3$ .

Yechish. Agar  $x^2 = z$  desak, berilgan tenglama  $2z^2 - 5z + 3 = 0$  ko'rinishni oladi. Bunda  $D = b^2 - 4ac = 25 - 24 = 1 > 0$ :

$$z_{1,2} = \frac{5 \pm 1}{4}, \quad z_1 = \frac{3}{2}, \quad z_2 = 1.$$

$$x_{1,2} = \pm \sqrt{z} = \pm \sqrt{\frac{3}{2}}; \quad x_{3,4} = \pm \sqrt{1} = \pm 1.$$

Yechimni formulalardan foydalanib topish mumkin:

$$x_{1,2} = \pm \sqrt{\frac{5 - \sqrt{25 - 4 \cdot 3 \cdot 2}}{4}} = \pm \sqrt{\frac{5-1}{4}} = \pm \sqrt{\frac{4}{4}} = \pm 1;$$

$$x_{3,4} = \pm \sqrt{\frac{5 + \sqrt{25 - 4 \cdot 3 \cdot 2}}{4}} = \pm \sqrt{\frac{5+1}{4}} = \pm \sqrt{\frac{6}{4}} = \pm \sqrt{\frac{3}{2}}.$$

Maktab matematika kursida o'zaro teskari noma'lum ifodalarni o'z ichiga olgan tenglamalar ham kvadrat tenglamaga keltirib yechiladi. Fikrimizning dalili quyidagi tenglamani yechaylik:

$$\left(\frac{x}{x+1}\right)^2 - \left(\frac{x+1}{x}\right)^2 = \frac{3}{2}.$$

Bu ko'rinishdagi tenglamalarni yechish jarayonida o'qituvchi eng avvalo noma'lum o'zgaruvchining yo'l qo'yiladigan qiymatlari sohasini aniqlash lozimligini o'quvchilarga tushuntirishi kerak. Bu tenglamadagi o'zgaruvchining

yo'l qo'yiladigan qiymatlari sohasi  $x \neq -1$  va  $x \neq 0$ . Agar  $\left(\frac{x}{x+1}\right)^2 = z$  desak,

$\left(\frac{x+1}{x}\right)^2 = \frac{1}{z}$  bo'lib,  $z$  o'zgaruvchiga ko'ra berilgan tenglama  $z - \frac{1}{z} = \frac{3}{2}$  yoki  $2z^2 - 3z -$

$2=0$  ko'rinishni oladi. Bu tenglamadan:  $z_1 = -\frac{1}{2}$ ,  $z_2 = 2$

1)  $z_1 = -\frac{1}{2}$  bo'lganda  $\left(\frac{x}{x+1}\right)^2 = -\frac{1}{2}$  bo'ladi, bundan  $\frac{x}{x+1} = \pm \sqrt{-\frac{1}{2}}$  tenglama hosil bo'ladi. Bu tenglama haqiqiy sonlar to'plamida yechimga ega emas.

2)  $z = 2$  bo'lganda  $\left(\frac{x}{x+1}\right)^2 = 2$  bo'ladi, bundan yoki  $\frac{x}{x+1} = \pm \sqrt{2}$  tenglamalar hosil qilamiz.

$$\begin{aligned} a) \quad \left(\frac{x}{x+1} = \sqrt{2}\right) &\Rightarrow (x = \sqrt{2}x + \sqrt{2}) \Rightarrow (x - \sqrt{2}x = \sqrt{2}) \Rightarrow \\ &\Rightarrow [x(1 - \sqrt{2}) = \sqrt{2}] \Rightarrow \left(x = \frac{\sqrt{2}}{1 - \sqrt{2}}\right) \Rightarrow \left(x = \frac{\sqrt{2}(1 + \sqrt{2})}{(1 - \sqrt{2})(1 + \sqrt{2})}\right) \Rightarrow \\ &\Rightarrow \left(x = \frac{\sqrt{2} + 2}{1 - 2}\right) \Rightarrow (x_1 = -2 - \sqrt{2}). \end{aligned}$$

$$b) \quad \left(\frac{x}{x+1} = -\sqrt{2}\right) \Rightarrow (x = -\sqrt{2}x - \sqrt{2}) \Rightarrow (x + \sqrt{2}x = -\sqrt{2}) \Rightarrow$$

$$\Rightarrow [x(1+\sqrt{2}) = -\sqrt{2}] \Rightarrow \left(x = \frac{-\sqrt{2}}{1+\sqrt{2}}\right) \Rightarrow \left(x = \frac{(1-\sqrt{2})(-\sqrt{2})}{(1+\sqrt{2})(1-\sqrt{2})}\right) \Rightarrow$$

$$\Rightarrow \left(x = \frac{-\sqrt{2}+2}{1-2}\right) \Rightarrow (x_2 = \sqrt{2}-2)$$

Javob:  $x_1 = -2 - \sqrt{2}$ ,  $x_2 = \sqrt{2} - 2$ .

3. To‘rtinchi darajali  $ax^4+bx^3+cx^2+dx+c=0$  ko‘rinishdagi tenglamalarni ham to‘la kvadrat ajratish yo‘li bilan kvadrat tenglama ko‘rinishiga keltirib yechiladi.

**M i s o l.**  $x^4+6x^3+9x^2-4x^2+12x+3=0$  tenglamani yeching.

Yechish.  $x^4+6x^3+9x^2-4x^2+12x+3=(x^2+3x)^2-4(x^2+3x)+3=0$

$x^2+3x=z$  desak, tenglama  $z^2-4z+3=0$  ko‘rinishni oladi. Bundan  $z_1=1$  va  $z_2=3$ .

1)  $z_1=1$  bo‘lganda  $x^2+3x=1$  yoki  $x^2+3x-1=0$  bo‘ladi.

$$x_{1,2} = -\frac{3}{2} \pm \sqrt{\frac{9}{4}+1} = -\frac{3}{2} \pm \frac{\sqrt{13}}{2} = \frac{-3 \pm \sqrt{13}}{2};$$

2)  $z_2=3$  bo‘lganda  $x^2+3x=3$  yoki  $x^2+3x-3=0$  bo‘ladi.

$$x_{3,4} = -\frac{3}{2} \pm \sqrt{\frac{9}{4}+3} = -\frac{3}{2} \pm \frac{\sqrt{21}}{2} = \frac{-3 \pm \sqrt{21}}{2}.$$

Javob:  $x_{1,2} = \frac{-3 \pm \sqrt{13}}{2}$ ; va  $x_{3,4} = \frac{-3 \pm \sqrt{21}}{2}$ .

4. Agar  $a_n x^n + a_{n-1} x^{n-1} + \dots + a_1 x + a$  tenglamada koeffitsientlarning  $a_n = a_0$ ,  $a_{n-1} = a_1$ ,  $a_{n-2} = a_2$ , ... tengliklari o‘rinli bo‘lsa, bunday tenglama qaytma tenglama deyiladi. Qaytma tenglamalar ham ayniy almashtirishlar bajarish orqali kvadrat tenglama ko‘rinishiga keltirib yechiladi.

**M i s o l.**  $2x^4+3x^3-16x^2+3x+2=0$  tenglamani yeching.

Yechish. Berilgan tenglamani har ikkala tomonini  $x^2 \neq 0$  ga bo‘lamiz.

$$2x^2+3x-16+\frac{3}{x}+\frac{2}{x^2}=0 \text{ yoki } 2\left(x^2+\frac{1}{x^2}\right)+3\left(x+\frac{1}{x}\right)-16=0. \text{ Agar } x+\frac{1}{x}=z \text{ desak,}$$

$\left(x+\frac{1}{x}\right)^2 = z^2$  bo‘ladi, bunda:  $x^2+\frac{1}{x^2} = z^2-2$ . Bu belgilashlarga asosan berilgan tenglama quyidagi ko‘rinishni oladi:  $2(z^2-2)+3z-16=0$  yoki  $2z^2+3z-20=0$ , bundan

$$z_{1,2} = \frac{-3 \pm \sqrt{9+4 \cdot 2 \cdot 20}}{4} = \frac{-3 \pm 13}{4}, \quad z_1 = \frac{5}{2}, \quad z_2 = -4$$

1) Agar  $z_1 = \frac{5}{2}$  bo‘lsa,  $x+\frac{1}{x} = \frac{5}{2}$  yoki  $2x^2-5x+2=0$ , bundan

$$x_{1,2} = \frac{5 \pm \sqrt{25-16}}{4} = \frac{5 \pm 3}{4}, \quad x_1 = 2, \quad x_2 = \frac{1}{2};$$

2) agar  $z_2 = -4$  bo'lsa,  $x + \frac{1}{x} = -4$  yoki  $x^2 + 4x + 1 = 0$  bo'ladi, bundan  $x_1 = -2 + \sqrt{3}$

va  $x_2 = -2 - \sqrt{3}$ .

J a v o b:  $x_1 = 2$ ,  $x_2 = \frac{1}{2}$ ,  $x_{3,4} = -2 \pm \sqrt{3}$

5.  $ax^4 + bx^3 + cx^2 + dx + e = 0$  ( $a \neq 0$ ,  $b \neq 0$ ) ko'rinishdagi tenglama ham qaytma tenglama ko'rinishiga keltirib yechiladi. Berilgan tenglamani  $x^2 \neq 0$  ga bo'lsak,  $a\left(x^2 + \frac{e}{ax^2}\right) + b\left(x + \frac{d}{bx}\right) + c = 0$  bo'ladi. Agar  $x + \frac{d}{bx} = t$  desak,  $\left(x + \frac{d}{bx}\right)^2 = t^2$  bo'ladi, bundan  $x^2 + \frac{d^2}{b^2x^2} = t^2 - \frac{2d}{b}$ , agar  $\frac{e}{d} = \frac{d^2}{b^2}$  bo'lsa,  $x^2 + \frac{e}{dx^2} = x^2 + \frac{d^2}{b^2x^2} = t^2 - \frac{2d}{b}$  yoki  $at^2 + bt + c - \frac{2ad}{b} = 0$  ko'rinishdagi kvadrat tenglama hosil bo'ladi. Demak,  $ax^4 + bx^3 + cx^2 + dx + e = 0$  tenglamada  $\frac{e}{d} = \frac{d^2}{b^2}$  tenglik bajarilsa, bu tenglama ham qaytma tenglama kabi kvadrat tenglamaga keltirib yechilar ekan.

**M i s o l.**  $2x^4 - 21x^3 + 74x^2 - 105x + 50 = 0$ .

Yechish.  $a = 2$ ,  $e = 50$ ,  $d = 105$ ,  $b = 21$ . Shartga ko'ra  $\frac{e}{a} = \frac{d^2}{b^2}$  bo'lishi kerak edi,

shuning uchun  $\frac{50}{2} = \left(\frac{105}{21}\right)^2$  yoki  $25 = 25$  tenglik o'rinli bo'ladi. Bu tenglikning har

ikkala tomonini  $x^2 \neq 0$  ga bo'lsak,  $2x^2 - 21x + 74 - \frac{105}{x} + \frac{50}{x^2} = 0$ .

$2\left(x^2 + \frac{25}{x^2}\right) - 21\left(x + \frac{5}{x}\right) + 74 = 0$  Agar  $x + \frac{5}{x} = t$  desak,  $x^2 + \frac{25}{x^2} = t^2 - 10$  tenglik hosil

bo'ladi, u holda tenglama  $2t^2 - 21t + 54 = 0$  ko'rinishni oladi.

Bundan  $t_1 = \frac{9}{2}$  va  $t_2 = 6$  yechimlarni hosil qilamiz.

1) Agar  $t_1 = \frac{9}{2}$  bo'lsa,  $x + \frac{5}{x} = \frac{9}{2}$  yoki  $2x^2 - 9x + 10 = 0$  bundan  $x_1 = 2$  va  $x_2 = \frac{5}{2}$

yechimlarni topamiz.

2) agar  $t_2 = 6$  bo'lsa,  $x + \frac{5}{x} = 6$  yoki  $x^2 - 6x + 5 = 0$ , bundan  $x_3 = 1$  va  $x_4 = 5$

yechimlarni topamiz. Javob.  $x_1 = 2$ ,  $x_2 = \frac{5}{2}$ ,  $x_3 = 1$ ,  $x_4 = 5$ .

6.  $(x+a)(x+b)(x+c)(x+d) = m$  ko'rinishdagi tenglama ham ma'lum bir shart va ayniy almashtirishlarni bajarish orqali kvadrat tenglama ko'rinishiga keltirib

yechiladi. Agar bu berilgan tenglamada  $a+b=c+d$  yoki  $a+c=b+d$  yoki  $a+d=b+c$  tengliklar o‘rinli bo‘lsa, bu tenglama ham kvadrat tenglama ko‘rinishiga keltirib yechiladi.

**Misol.**  $(x+2)(x-3)(x+1)(x+6)=-96$ .

$a=2$ ,  $b=-3$ ,  $c=1$ ,  $d=6$ . Shartga ko‘ra  $a+c=b+d$  edi, shuning uchun  $2+1=-3+6$ , bunga ko‘ra berilgan tenglamani quyidagicha guruhlaymiz:  $[(x+2)(x+1)][(x-3)(x+6)]=-96$ ,  $(x^2+3x+2)(x^2+3x-18)=-96$ .  $x^2+3x=t$  desak,  $(t+2)(t-18)=-96$  tenglik o‘rinli bo‘ladi, bundan tenglama hosil bo‘ladi. Bu tenglamaning yechimi  $t_1=6$  va  $t_2=10$  bo‘ladi.

1) agar  $t_1=6$  bo‘lsa,  $x^2+3x=6$  yoki  $x^2+3x-6=0$ , bundan

$$x_{1,2} = \frac{-3 \pm \sqrt{9+24}}{2} = \frac{-3 \pm \sqrt{33}}{2};$$

2) agar  $t_2=10$  bo‘lsa,  $x^2+3x=10$  yoki  $x^2+3x-10=0$  bo‘ladi.

$$x_{3,4} = \frac{-3 \pm \sqrt{9+40}}{2} = \frac{-3 \pm 7}{2}, \quad x_3=-5, \quad x_4=2.$$

$$\text{Javob: } x_{1,2} = \frac{-3 \pm \sqrt{33}}{2}, \quad x_3=-5, \quad x_4=2.$$

7.  $(x+a)^4+(x+b)^4=c$  ko‘rinishdagi tenglama ham  $x=t-\frac{a-b}{2}$  almashtirish

orqali bikvadrat tenglama ko‘rinishiga keltirib yechiladi.

Agar  $\begin{cases} x+a=t+m \\ x+b=t-m \end{cases}$  desak, bu sistemadagi tenglamalarni o‘zaro hadma-had

ayirsak,  $a-b=2m$ ,  $m=\frac{a-b}{2}$  bo‘ladi, u holda  $x+a=t+\frac{a-b}{2}$  yoki  $x=t-\frac{a-b}{2}$  bo‘ladi.

U holda berilgan tenglama quyidagi ko‘rinishni oladi:  $\left(t+\frac{a-b}{2}\right)^4 + \left(t-\frac{a-b}{2}\right)^4 = c$

Bundan:

$$t^4 + 4t^3 \frac{a-b}{2} + 6t^2 \frac{(a-b)^2}{4} + 4t \frac{(a-b)^3}{8} + \frac{(a-b)^4}{16} +$$

$$+ t^4 - 4t^3 \frac{a-b}{2} + 6t^2 \frac{(a-b)^2}{4} - 4t \frac{(a-b)^3}{8} + \frac{(a-b)^4}{16} =$$

$$= 2t^4 + 12t^2 \left(\frac{a-b}{2}\right)^2 + 2\left(\frac{a-b}{2}\right)^4 = c.$$

$$t^4 + 6t^2 \left(\frac{a-b}{2}\right)^2 + \left(\frac{a-b}{2}\right)^4 = \frac{c}{2}.$$

Bu tenglamani bikvadrat tenglamani yechish usuli bo'yicha yecha olamiz. Masalan,  $(x+6)^4+(x+4)^4=82$  tenglama berilgan bo'lsin.

Bu tenglamada  $x=t-\frac{6+4}{2}=t-5$  almashtirishni bajaramiz, u holda berilgan tenglama ko'rinishi quyidagicha bo'ladi:

$$(t+1)^4+(t-1)^4=82.$$

$$t^4+4t^3+6t^2+4t+1+t^4-4t^3+6t^2-4t+1=82,$$

$$2t^4+12t^2+2=82, \quad t^4+6t^2-40=0.$$

$$t^2=y \text{ desak, } y^2+6y-40=0, \quad y_1=4, \quad y_2=-10.$$

1) agar  $t^2=4$  bo'lsa,  $t_{1,2}=\pm 2$ ;

2) agar  $t^2=-10$  bo'lsa, haqiqiy sonlar to'plamida yechim mavjud emas.

$$x_1=t-5=2-5=-3, \quad x_2=t-5=-2-5=-7.$$

8. Agar tenglama  $\frac{ax}{px^2+nx+q}+\frac{bx}{px^2+mx+q}=c$  ko'rinishda berilgan bo'lsa,

unda  $px+\frac{q}{x}=t$  almashtirish bajariladi. Agar tenglamada  $c=0$  bo'lsa,  $x_1=0$  bo'lib qolgan yechimlarni  $x$  o'zgaruvchiga nisbatan kvadrat tenglamaga keltirib topiladi. Agar  $c \neq 0$  bo'lsa,  $x \neq 0$  bo'lib, bu holda berilgan tenglamaning surat va maxrajini  $x$  ga bo'lamiz:

$$\frac{a}{px+n+\frac{q}{x}}+\frac{b}{px+m+\frac{q}{x}}=c$$

Bunda  $px+\frac{q}{x}=t$  desak,  $t$  o'zgaruvchiga nisbatan kvadrat tenglama hosil

bo'ladi:  $\frac{a}{t+n}+\frac{b}{t+m}=c$ . Bu yerda  $t^1-n$ ,  $t^1-m$  dir. Bularga ko'ra tenglamaning

ko'rinishi quyidagicha bo'ladi:

$$ct^2+(mc+nc-a-b)t+mnc-am-bn=0$$

**M i s o l.**  $\frac{2x}{2x^2-5x+3}+\frac{13x}{2x^2+x+3}=6$  tenglama yechilsin.

Yechish. Tenglamaning chap tomonida turgan qo'shiluvchilarning surat va maxrajlarini  $x$  ga bo'lsak,  $\frac{2}{2x-5+\frac{3}{x}}+\frac{13}{2x+1+\frac{3}{x}}=6$  tenglik hosil bo'ladi.  $2x+\frac{3}{x}=t$

desak,  $\frac{2}{t-5}+\frac{13}{t+1}=6$  tenglik hosil bo'ladi, (bu yerda  $t^1-5$  va  $t^1-1$  bo'lishi kerak):

$$2t^2-13t+11=0, \text{ bundan } t_1=1, \quad t_2=\frac{11}{2}.$$

1) agar  $t_1=1$  bo'lsa,  $2x+\frac{3}{x}=1$  yoki  $2x^2-x+3=0$  bo'lib, uning yechimlari haqiqiy sonlar to'plamida mavjud emas.

2) agar  $t_2=\frac{11}{2}$  bo'lsa,  $2x+\frac{3}{x}=\frac{11}{2}$  yoki  $4x^2-11x+6=0$  bo'ladi, bundan  $x_1=\frac{3}{4}$  va  $x_2=2$  yechimlar topiladi.

J a v o b:  $x_1=\frac{3}{4}$ ,  $x_2=2$ .

## 8-§. Irratsional tenglamalarni yechish

Irratsional son tushunchasi maktab matematika kursining VIII sinfida o'tiladi. O'quv qo'llanmasida irratsional tenglamaga ta'rif berib, uni yechish usullari ko'rsatilgan. O'quv qo'llanmasidagi ta'rif quyidagicha ifodalanadi.

**T a' r i f.** "Noma'lumlari ildiz ishorasi ostida bo'lgan tenglamalar irratsional tenglamalar deyiladi".

Bu ta'rifni kengroq ma'noda quyidagicha ham berish mumkin. "Noma'lumlari ildiz ishorasi ostida yoki kasr ko'rsatkichli daraja belgisi ostida bo'lgan tenglama irratsional tenglama deyiladi".

Masalan,  $\sqrt{4-5x}=6$ ,  $x^{\frac{1}{2}}-7=0$   
 $\sqrt{2x+8}+\sqrt{x+5}=7$ ,  $\sqrt{1-\sqrt{x^4-x^2}}=x-1$   
 $\sqrt[3]{x-a}+\sqrt[3]{x-b}$  va hokazo.

Maktab matematika kursida faqatgina kvadrat ildizlarni o'z ichiga olgan irratsional tenglamalarni yechish o'rgatiladi. Shuning uchun ham bu mavzu materialini o'tish jarayonida o'qituvchi o'quvchilarga sonning kvadrat ildizi va uning arifmetik ildizi degan tushunchalarni takrorlab tushuntirish lozim, chunki biz maktab algebra kursida faqat manfiy bo'lmagan sonlardan ildiz chiqarishni o'rgatamiz.  $\sqrt{-3}, \sqrt{-7}, \sqrt{-36}, \dots$  lar haqiqiy sonlar maydonida ma'noga ega emas. Biz musbat sonning kvadrat ildizi deganda uning arifmetik ildizini, ya'ni uning musbat qiymatlarini tushunamiz. Masalan,  $\sqrt{9}=\pm 3$  bo'ladi, ammo  $-3$  soni arifmetik ildiz bo'la olmaydi, 3 soni esa 9 sonning arifmetik ildizidir.

Irratsional tenglamaning yechishdan avval uning aniqlanish sohasini topish lozim.

**1 - m i s o l.**  $\sqrt{3x-6}+\sqrt{1+x}=2$  tenglamaning aniqlanish sohasi topilsin.



Yechish.  $3x-6 \geq 0$  va  $1+x \geq 0$  bu tengsizliklardan:  $x \geq 2$  va  $x \geq -1$ . Demak, bu tenglamaning aniqlanish sohasi  $x \geq 2$  bo'ladi. Haqiqatdan ham, bu tenglama yechilsa, uning ildizi 2 ga teng yoki undan katta son chiqishi uning aniqlanish sohasidan ko'rinadi.

**2 - m i s o l.**  $\sqrt{x-1} - \sqrt{3-x} = \sqrt{x+2}$  tenglamaning aniqlanish sohasi topilsin.  $x-1 \geq 0$ ,  $3-x \geq 0$ ,  $x+2 \geq 0$  bu tengsizliklardan  $x \geq 1$ ,  $x \leq 3$ ,  $x \geq -2$ . Bularga ko'ra tenglamaning aniqlanish sohasi  $1 \leq x \leq 3$  bo'ladi, bu degan so'z tenglama ildizi 1 soni bilan 3 soni orasida bo'ladi, deganidir.

Irratsional tenglamalar ayniy shakl almashtirishlar orqali ratsional tenglama ko'rinishiga keltiriladi. Irratsional tenglamalarni yechish uchun eng ko'p ishlatiladigan shakl almashtirish berilgan tenglikning har ikkala tomonini bir xil darajaga ko'tarish va  $\sqrt{f(x)} \cdot \sqrt{g(x)} = \sqrt{f(x)g(x)}$ ,  $\frac{\sqrt{f(x)}}{\sqrt{g(x)}} = \sqrt{\frac{f(x)}{g(x)}}$  kabi usullardir.

Bunday shakl almashtirishlarni bajarish jarayonida yechilayotgan tenglama uchun chet ildiz hosil bo'lishi mumkin, chunki bu ayniy tengliklarning o'ng tomonlarining aniqlanish sohasi chapga qaraganda kengroqdir.

**Teorema.** Agar  $f(x)=g(x)$  (1) tenglamaning har ikkala qismini kvadratga ko'tarilsa, berilgan tenglama uchun chet ildiz hosil bo'ladi, bu chet ildiz  $f(x)=-g(x)$  tenglamaning ildizidir.

**I s b o t i.** Agar (1) tenglamaning har ikkala tomonini kvadratga ko'tarsak,  $[f(x)]^2=[g(x)]^2$  yoki  $[f(x)]^2-[g(x)]^2=0$ . Bu degan so'z  $[f(x)-g(x)][f(x)+g(x)]=0$  deganidir. Bunda quyidagi ikki hol bo'lishi mumkin: 1) agar  $f(x)-g(x)=0$  bo'lsa,  $f(x)+g(x) \neq 0$  u holda  $f(x)=g(x)$  bo'ladi; 2) agar  $f(x)+g(x)=0$  bo'lsa,  $f(x)-g(x) \neq 0$  u holda  $f(x)=-g(x)$  bo'ladi. Demak, hosil bo'ladigan chet ildiz yoki  $[f(x)]^2-[g(x)]^2=0$  tenglamaning ildizi bo'ladi.

**Misol.**  $4x=7$  tenglama berilgan bo'lsin. Bu tenglamaning har ikkala tomonini kvadratga ko'tarsak,  $16x^2=49$  bo'ladi. Bundan  $(16x^2-49=0) \Rightarrow (4x-7)(4x+7)=0$ .

1) agar  $4x-7=0$  bo'lsa,  $4x+7 \neq 0$  bundan  $x = \frac{7}{4} = 1\frac{3}{4}$

2) agar  $4x+7=0$  bo'lsa,  $4x-7 \neq 0$  bundan  $x = -\frac{7}{4} = -1\frac{3}{4}$

Bunda  $x = -1\frac{3}{4}$  chet ildizdir, haqiqatda ham  $4 \cdot \left(-\frac{7}{4}\right) = 7$  bundan  $-7=7$ , bu

$x = -1\frac{3}{4}$  yechim tenglamani qanoatlantirmaydi deganidir. Bu chet ildiz  $4x=7$

tenglamaning har ikkala tomonini kvadratga ko‘tarish natijasida hosil bo‘ladi. Maktab matematika kursida irratsional tenglamalarni yechish quyidagi ikkita usul orqali amalga oshiriladi:

- 1) irratsional tenglamaning har ikkala tomonini bir xil darajaga ko‘tarish;
- 2) yangi o‘zgaruvchilar kiritish usuli;

Irratsional tenglamalarning ikkala tomonini bir xil darajaga ko‘tarish usuli quyidagi ketma-ketlik asosida amalga oshiriladi:

- a) berilgan irratsional tenglama  $\sqrt[n]{f(x)} = \sqrt[n]{g(x)}$  ko‘rinishga keltiriladi;
- b) bu tenglamaning ikkala tomoni  $n$  darajaga ko‘tariladi;
- v) hosil bo‘lgan  $f(x)=g(x)$  ratsional tenglama hosil bo‘ladi;
- g) natijada  $f(x)=g(x)$  ratsional tenglama yechiladi va tekshirish orqali chet ildiz aniqlanadi.

**1 - m i s o l.**  $\sqrt{3x+4} = x$  tenglama yechilsin.

Yechish. Tenglamaning aniqlanish sohasini topamiz:  $x \geq 0$  va  $3x+4 \geq 0$ , bundan  $x \geq -\frac{4}{3}$ .

**1-usul.** Har ikkala tomonini kvadratga ko‘tarsak,  $[(\sqrt{3x+4})^2 = x^2] \Rightarrow [3x+4 = x^2]$ . Bundan  $x^2-3x-4=0$  tenglamani hosil qilamiz. Uning yechimlari  $x_1=4$  va  $x_2=-1$ ,  $x_2=-1$  yechim  $\sqrt{3x+4} = x$  tenglama uchun chet ildizdir, chunki u tenglamani qanoatlantirmaydi.

**2-usul.**  $[(\sqrt{3x+4})^2 = x^2] \Rightarrow (3x+4=x^2) \Rightarrow$

$$\{[x^2-(3x+4)]=0\} \Rightarrow (x-\sqrt{3x+4})(x+\sqrt{3x+4})=0$$

1) Agar  $x-\sqrt{3x+4}=0$  bo‘lsa,  $x+\sqrt{3x+4} \neq 0$  bo‘ladi, bundan  $x=\sqrt{3x+4}$  berilgan tenglama hosil bo‘ladi, buning yechimi  $x=4$  bo‘ladi.

2) Agar  $x+\sqrt{3x+4}=0$  bo‘lsa,  $x-\sqrt{3x+4} \neq 0$  bo‘ladi, bundan  $x=-\sqrt{3x+4}$  bo‘ladi, buning yechimi  $x=-1$  dir.

Demak,  $\sqrt{3x+4} = x$  tenglamaning har ikkala tomonini kvadratga ko‘tarish natijasida  $x=-1$  chet ildiz hosil bo‘ladi,  $x=4$  esa uning haqiqiy yechimi bo‘ladi.

Irratsional tenglamalarni yangi o‘zgaruvchilar kiritish usuli bilan ham yechiladi.

**2 - m i s o l.**  $\sqrt[5]{(x-5)^2} - \sqrt[5]{x-5} = 6$  tenglamani yeching.

Yechish. Bu tenglamaning aniqlanish sohasi  $(-\infty, \infty)$ . Agar  $\sqrt[5]{x-5} = y$  deb belgilasak, tenglama  $y^2-y-6=0$  ko‘rinishga keladi. Bu tenglama  $y_1=3$  va  $y_2=-2$

yechimlarga ega. Bunga ko'ra  $(\sqrt[5]{x-5}=3) \Rightarrow (\sqrt[5]{x-5})^5=3^5; x-5=243; x=248$ .  
 $\sqrt[5]{x-5}=-2$  tenglama aniqlanish sohasiga tegishli bo'lgan ildizga ega. Demak,  
 $x_1=248, x_2=-27$  tenglamaning yechimi bo'lar ekan.

**3 - m i s o l.**  $\sqrt{x+4} + \sqrt{x+20} = 8$  tenglama yechilsin.

Yechish. 1. Aniqlanish sohasini topamiz.  $x+4 \geq 0$  va  $x+20 \geq 0$ , bulardan  $x \geq -4$  va  $x \geq -20$  bo'ladi. Bundan  $x \geq -4$  qiymat olinadi.

2. Berilgan tenglamaning har ikkala tomonini kvadratga ko'taramiz:

$$\begin{aligned} (\sqrt{x+4} + \sqrt{x+20})^2 &= 8^2, \\ x+4 + 2\sqrt{x+4} \cdot \sqrt{x+20} + x+20 &= 64. \\ 2x + 2\sqrt{x+4} \cdot \sqrt{x+20} &= 40. \\ (\sqrt{(x+4)(x+20)})^2 &= (20-x)^2, \\ (x+4)(x+20) &= 400 - 40x + x^2 \\ x^2 + 24x + 80 &= 400 - 40x + x^2, \\ 64x &= 320, \quad x = 5. \end{aligned}$$

Bu tenglamani yana quyidagi usul bilan ham yechish mumkin:

$$\begin{aligned} (\sqrt{x+4} + \sqrt{x+20})^2 &= 8^2, \quad [(\sqrt{x+4} + \sqrt{x+20})^2 - 8^2] = 0 \Rightarrow \\ \Rightarrow [(\sqrt{x+4} + \sqrt{x+20}) - 8][(\sqrt{x+4} + \sqrt{x+20}) + 8] &= 0 \end{aligned}$$

1)  $\sqrt{x+4} + \sqrt{x+20} = 8$ , buning yechimi  $x=5$

2)  $\sqrt{x+4} + \sqrt{x+20} = -8$ , bu tenglama yechimga ega emas.

**4 - m i s o l.**  $\sqrt{2x+3} = a$ , parametrik ko'rinishdagi irratsional tenglama yechilsin. Bu yerda tenglamaning aniqlanish sohasiga nisbatan  $a > 0$  shartni qo'yish yetarli bo'ladi.  $(\sqrt{2x+3})^2 = a^2, 2x+3=a^2$ , bundan  $2x=a^2-3$  yoki  $x = \frac{a^2-3}{2}$  yechim hosil bo'ladi.

T e k s h i r i s h.  $\sqrt{2 \frac{a^2-3}{2} + 3} = a, \quad \sqrt{a^2} = a, \quad a = a$

**5-misol.**  $\sqrt{x^2+4x+4} + \sqrt{x^2-10x+25} = 10$  irratsional tenglamani yeching.

Yechish. Bu tenglamani  $\sqrt{(x+2)^2} + \sqrt{(x-5)^2} = 10$  yoki  $|x+2| + |x-5| = 10$  ko'rinishga keltirib, so'ngra yechamiz.

a) agar  $x < -2$  bo'lsa,  $-x-2-x+5=10$ , bundan  $-2x=7$  yoki  $x=-3,5$

b) agar  $-2 \leq x \leq 5$  bo'lsa,  $x+2-x+5=10$ , yoki  $7=10$ , bu holda tenglama yechimga ega emas.

v) agar  $x > 5$  bo'lsa,  $x+2+x-5=10$ , bundan  $2x=13$  yoki  $x=6,5$ . J a v o b.  $x=3,5$  va  $x=6,5$

### MUSTAQIL YECHISH UCHUN MISOLLAR.

1.  $1 + \sqrt{2x-2} = x$ . j. 3.
2.  $\sqrt{4-x} + \sqrt{5+x} = 3$ . j.  $x_1 = 4$ ;  $x_2 = -5$
3.  $\sqrt{2x+1} = 2\sqrt{x} - \sqrt{x-3}$ . j.  $x = 4$ .
4.  $\sqrt{1+x}\sqrt{x^2+24} = x+1$ . j.  $x_1 = 0$ ;  $x_2 = 5$
5.  $\sqrt{a+x} + \sqrt{a-x} = \sqrt{2x}$ . j.  $x_1 = -a$ ;  $x_2 = a$
6.  $\sqrt{x-3} + \sqrt{x+18} = x$  j.  $x = 7$ .
7.  $\sqrt{x+4} + \sqrt{20+x} = 8$  j.  $x = 5$ .
8.  $\sqrt{3x+4} + \sqrt{x-4} = 2\sqrt{x}$ . j.  $x = 4$ .
9.  $\sqrt{x} + \sqrt{x+11} + \sqrt{x-\sqrt{x+11}} = 4$ . j.  $x = 5$ .
10.  $\sqrt{15-x} + \sqrt{3-x} = 6$ . j.  $x = -1$
11.  $1 + \sqrt{1+x}\sqrt{x^2-24} = x$  j.  $x = 7$ .
12.  $\sqrt{3x+7} - \sqrt{x+1} = 2$ . j.  $x_1 = -1$ ;  $x_2 = 3$ .
13.  $\sqrt[3]{1+\sqrt{x}} + \sqrt[3]{1-\sqrt{x}} = 2$ . j.  $x = 0$ .
14.  $\sqrt{x+6} - \sqrt{x+1} = 1$ . j.  $x = 3$ .

### 9-§. Parametrlir irratsional tenglamalarni yechish

**1-misol.**  $\sqrt{x-1} = x-a$  tenglama yechilsin.

Yechish. Berilgan tenglamani quyidagicha yozib olamiz:

$$x-1-\sqrt{x-1}+1-a=0 \quad (1)$$

Agar bu tenglamada  $\sqrt{x-1} = y$  desak,  $x-1 = y^2$  bo'ladi, u holda tenglamani quyidagicha yozish mumkin:

$$\begin{aligned} y^2 - y + 1 - a &= 0, & y_{1,2} &= \frac{1}{2} \pm \sqrt{\frac{1}{4} - (1-a)} = \\ &= \frac{1}{2} \pm \sqrt{\frac{1-4+4a}{4}} = \frac{1}{2} \pm \frac{\sqrt{4a-3}}{2}; \\ y_1 &= \frac{1+\sqrt{4a-3}}{2}; & y_2 &= \frac{1-\sqrt{4a-3}}{2}. \end{aligned}$$

(1) tenglama faqat  $a \geq \frac{3}{4}$  bo'lgandagina, yechimga ega bo'ladi, ya'ni:

$$\sqrt{x-1} = \frac{1-\sqrt{4a-3}}{2}, \quad (2)$$

$$\sqrt{x-1} = \frac{1+\sqrt{4a-3}}{2}, \quad (3)$$

(2) tenglana  $1 - \sqrt{4a-3} \geq 0$  bo'lganida yechimga ega bo'ladi. (2) va (3) ni yechsak,  $\frac{3}{4} \leq a \leq 1$  tengsizlik hosil bo'ladi, u holda tenglana quyidagi ko'rinishdagi ikkita

haqiqiy har xil yechimga ega bo'ladi:

$$x_1 = \frac{2a+1+\sqrt{4a-3}}{2}; \quad x_2 = \frac{2a+1-\sqrt{4a-3}}{2}$$

Agar  $a > 1$  bo'lsa, tenglana  $x_{1,2} = \frac{2a+1-\sqrt{4a-3}}{2}$  yechimga ega bo'ladi, agar

$a < \frac{3}{4}$  bo'lsa, tenglana yechimga ega bo'lmaydi.

**2 - misol.**  $\sqrt{3x-2} + \sqrt{x+2} = a$  tenglana yechilsin.

Yechish: Bu tenglamaning aniqlanish sohasi

$$\begin{cases} 3x-2 \geq 0, \\ x+2 \geq 0 \end{cases} \Rightarrow \begin{cases} x \geq \frac{2}{3}, \\ x \geq -2 \end{cases} \Rightarrow x \geq \frac{2}{3}$$

bo'ladi, u holda berilgan tenglana  $a_1 \geq \frac{2\sqrt{6}}{3}$  bo'lgandagina yechimga ega bo'ladi,

agar  $a < \frac{2\sqrt{6}}{3}$  bo'lsa, yechimga ega emas:

$$\sqrt{3x-2} = a - \sqrt{x+2} \quad (1)$$

$$3x-2 = a^2 - 2a\sqrt{x+2} + x+2,$$

$$2x-4 = a^2 - 2a\sqrt{x+2},$$

$$2x+4 + 2a\sqrt{x+2} - a^2 - 8 = 0,$$

$$2(x+2) + 2a\sqrt{x+2} - a^2 - 8 = 0.$$

agar  $\sqrt{x+2} = y$  desak,  $2y^2 + 2ay - a^2 - 8 = 0$  yoki  $2y^2 + 2ay - (a^2 + 8) = 0$ , bundan

$$y_{1,2} = \frac{-a \pm \sqrt{a^2 + 2a^2 + 16}}{2} = \frac{-a \pm \sqrt{3a^2 + 16}}{2};$$

$$\sqrt{x+2} = \frac{-a - \sqrt{3a^2 + 16}}{2}; \quad (3)$$

$$\sqrt{x+2} = \frac{-a + \sqrt{3a^2 + 16}}{2}; \quad (4)$$

$a \geq \frac{2\sqrt{6}}{3}$  da (3) tenglana yechimga ega emas, (4) tenglana esa

$x = \frac{2a^2 + 4 - a\sqrt{3a^2 + 16}}{2}$  yechimga ega bo'ladi.

**3 - misol.**  $\sqrt{x^2 - ax + 2} = x - 1$  tenglana yechilsin.

$$\text{Yechish: } \begin{cases} x-1 \geq 0, \\ x^2 - ax + 2 = (x-1)^2 \end{cases} \Leftrightarrow \begin{cases} x \geq 1 \\ (a-2)x = 1. \end{cases}$$

Agar  $a=2$  bo'lsa, sistema yechimga ega emas, agar  $a \neq 2$  bo'lsa  $\begin{cases} x \geq 1 \\ x = \frac{1}{a-2} \end{cases}$

hosil bo'ladi, u holda  $\frac{1}{a-2} \geq 1$  yoki  $2 < a \leq 3$  bo'ladi.

J. Agar  $2 < a \leq 3$  bo'lsa,  $x = \frac{1}{a-2}$ , agar  $a \leq 2$ ,  $a > 3$  bo'lsa, tenglama yechimga ega emas.

**4 - misol.**  $\sqrt{a - \sqrt{a+x}} = x$  tenglama yechilsin.

$$\text{Yechish. } \begin{cases} x \geq 0, \\ a+x \geq 0, \\ a - \sqrt{a+x} \geq 0 \end{cases} \Rightarrow \begin{cases} x \geq 0, \\ x \geq -a, \\ a \geq \sqrt{a+x} \end{cases} \Rightarrow \begin{cases} x \geq 0, \\ x \geq -a, \\ a^2 \geq a+x \end{cases} \Rightarrow \begin{cases} x \geq 0, \\ x \geq -a, \\ x \leq a^2 - a. \end{cases}$$

Tenglamaning aniqlanish sohasi, agar  $a \geq 1$  bo'lsa,  $0 \leq x \leq a^2 - a$  bo'ladi.  $a - \sqrt{a+x} = x^2$  yoki  $\sqrt{a+x} = a - x^2$ , bu tenglama  $a - x^2 \geq 0$  bo'lgandagina yechimga ega, shuning uchun  $a+x = a^2 - 2ax^2 + x^4$  yoki  $a^2 - (2x^2 + 1)a + (x^4 - x) = 0$

$$a_{1,2} = \frac{2x^2 + 1 \pm \sqrt{(2x^2 + 1)^2 - 4x^2 + 4x}}{2}; \quad a_1 = x^2 - x; \quad a_2 = x^2 + x + 1, \quad a_1 = x^2 - x$$

tenglama  $a^2 - x^2 \geq 0$  shart uchun  $x = \frac{-1 \pm \sqrt{4a-3}}{2}$

## MUSTAQIL YECHISH UCHUN MISOLLAR.

Quyidagi tenglamalarni yeching.

1.  $\sqrt{x-3} = x-a$ , J: agar  $2,75 \leq a \leq 3$  bo'lsa,  $x = \frac{1}{2}(2a+1 \pm \sqrt{4a-11})$  agar  $a < 2,75$  bo'lsa,

$$x = \frac{1}{2}(2a+1 + \sqrt{4a-11})$$

2.  $\sqrt{x-a} = b-x$ . J; agar  $b \geq a$  bo'lsa,  $x = \frac{1}{2}(2b+1 - \sqrt{4b-4a+1})$ ; agar  $b < a$

yechimga ega emas.

3.  $\sqrt{x^2 - ax + 3a} = 2-x$ . J: agar  $-4 \leq a \leq 4$  bo'lsa,  $x = \frac{3a-4}{a-4}$   $a < -4$ ,  $a \geq 4$  bo'lsa,

yechimga ega emas.

4.  $\sqrt{2x-4} + \sqrt{x+7} = a$  J; agar  $a \geq 3$  bo'lsa,  $x = 3a^2 + 11 - 2a\sqrt{2a^2 + 18}$ ; agar  $a < 3$  bo'lsa, yechimga ega emas.

5.  $\sqrt{2x-1} + \sqrt{x-2} = a$ . J; agar  $0,5\sqrt{6} \leq a \leq \sqrt{3}$  bo'lsa,  $x = 3a^2 - 1 \pm 2a\sqrt{2a^3 - 3}$  agar  $a > \sqrt{3}$  bo'lsa,  $x = 3a^2 - 1 + 2a\sqrt{2a^3 - 3}$ ; agar  $a < 0,5\sqrt{6}$  bo'lsa, yechimga ega emas.

6.  $\sqrt{2x^2 - 2ax + 1} = x - 2$ . J; agar  $a \geq \frac{9}{4}$  bo'lsa,  $x = a - 2 + \sqrt{a^2 - 4a + 7}$ ; agar  $a < \frac{9}{4}$  bo'lsa, yechimga ega emas.

7.  $\sqrt{3x-a} = a - 2x$ . J; agar  $a \geq 0$  bo'lsa,  $x = \frac{1}{8}(4a + 3 - \sqrt{8a + 9})$ ; agar  $a < 0$  bo'lsa yechimga ega emas.

8.  $\sqrt{x-1} + \sqrt{3-x} = a$ . J; agar  $\sqrt{2} \leq a \leq 2$  bo'lsa,  $x = (2 \pm \sqrt{4a^2 - a^4}) : 2$ ; agar  $a \leq \sqrt{2}$ ,  $a > 2$  bo'lsa, yechimga ega emas.

9.  $x + \sqrt{1-x} = a$  J; agar  $x_{1,2} = \frac{1 - 2a \pm \sqrt{5 - 4a}}{2}$ ,  $a > \sqrt{2}$  bo'lsa, yechimga ega emas.

## 10 - §. Irratsional tenglamalar sistemasini yechish.

**1 - misol.** Tenglamalar sistemasini yechilsin:

$$\begin{cases} \sqrt{x} + \sqrt{y} = \frac{5}{6}\sqrt{xy}, \\ x + y = 13 \end{cases}$$

Yechish. Sistemadagi  $\sqrt{x} + \sqrt{y} = \frac{5}{6}\sqrt{xy}$  tenglamaning har ikki tomonini kvadrat ko'tarib, ayniy almashtirishlarni bajarish orqali ratsional tenglamalar sistemasini hosil qilamiz;

$$x + y + 2\sqrt{xy} = \frac{25}{36}xy$$

$x + y = 13$  bo'lgani uchun  $13 + 2\sqrt{xy} = \frac{25}{36}xy$  bo'ladi.  $25xy - 72\sqrt{xy} - 468 = 0$ . Agar

$\sqrt{xy} = t$  desak,  $25t^2 - 72t - 468 = 0$  bo'ladi, bundan  $t_1 = 6$  va  $t_2 = -\frac{78}{25}$  ildizlarni hosil

qilamiz.  $\sqrt{xy} = 6$  bo'lsa,  $xy = 36$  bo'ladi:

$$\begin{cases} x + y = 13 \\ xy = 36 \end{cases}$$

bu sistemani yechamiz:  $x = 13 - y$ ,  $(13 - y)y = 36$ ;  $y^2 - 3y = 36$ ;

$$y_{1,2} = \frac{13}{2} \pm \sqrt{\frac{169}{4} - 36} = \frac{13}{2} \pm \frac{5}{2}.$$

J:  $y_1=9, y_2=4, x_1=4, x_2=9.$

**2 - m i s o l.** 
$$\begin{cases} x + y - \sqrt{\frac{x+y}{x-y}} = \frac{12}{x-y} \\ xy = 15 \end{cases}$$
 tenglama yechilsin.

Yechish.  $\frac{x+y}{x-y} \geq 0$  bo'lsa, ikki hol bo'lishi mumkin:

a)  $x > 0, y > 0, x > y$  u holda  $x + y - \sqrt{\frac{x^2 + y^2}{(x-y)^2}} - \frac{12}{x-y} = 0$

yoki  $x^2 - y^2 - \sqrt{x^2 - y^2} - 12 = 0.$  Endi  $\sqrt{x^2 - y^2} = t$  desak,

$$t^2 - t - 12 = 0; \quad t_{1,2} = \frac{1}{2} \pm \sqrt{\frac{1}{4} + 12} = \frac{1}{2} \pm \frac{7}{2}$$

$t_1 = 4, t_2 = -3,$  shuning uchun  $\sqrt{x^2 - y^2} = 4,$  bundan  $x^2 - y^2 = 16$  bo'ladi. Shuning uchun

$$\begin{cases} x^2 - y^2 = 16, \\ xy = 15 \end{cases}$$

ratsional tenglama sistemasi hosil bo'ladi. Bu tenglamani yechib,  $x = \pm 5, y = \pm 3$  yechimlarni hosil qilamiz.

b)  $x < 0, y < 0$  va  $x < y$  bo'lsa, tenglama quyidagi ko'rinishda yoziladi:

$$x + y - \frac{\sqrt{x^2 - y^2}}{-(x-y)} - \frac{12}{x-y} = 0,$$

$$x^2 - y^2 + \sqrt{x^2 - y^2} - 12 = 0,$$

$$\sqrt{x^2 - y^2} = t, \quad t^2 + t - 12 = 0,$$

$$t_{1,2} = -\frac{1}{2} \pm \sqrt{\frac{1}{4} + 12} = -\frac{1}{2} \pm \frac{7}{2}; \quad t_1 = 3, \quad t_2 = -4.$$

$$\sqrt{x^2 - y^2} = 3 \text{ yoki } x^2 - y^2 = 9.$$

Natijada

$$\begin{cases} x^2 - y^2 = 9, \\ xy = 15. \end{cases}$$

sistemani hosil qilamiz. Bu sistemani yechib,

$$x_{1,2} = \pm \sqrt{\frac{\sqrt{981} + 9}{2}}, \quad y_{1,2} = \pm \sqrt{\frac{\sqrt{981} - 9}{2}},$$

yechimlar hosil qilamiz.



**3-misol.** Tenglamalar sistemasini yeching:

$$\begin{cases} \sqrt{x^2 + y^2} + \sqrt{2xy} = 8\sqrt{2}, \\ \sqrt{x} + \sqrt{y} = 4. \end{cases}$$

Yechish. Sistemadagi ikkinchi tenglamaning har ikkala tomonini kvadratga ko'taramiz:  $x + y + 2\sqrt{xy} = 16$  (1) hosil bo'ladi. Sistemadagi birinchi tenglamaning har ikki tomonini  $\sqrt{2}$  ga ko'paytiramiz:

$$\sqrt{2(x^2 + y^2)} + 2\sqrt{xy} = 16 \quad (2)$$

(2) dan (1) ni ayiramiz:

$$\begin{aligned} \sqrt{2(x^2 + y^2)} - (x + y) &= 0, \\ \sqrt{2(x^2 + y^2)} &= x + y, \\ 2(x^2 + y^2) &= x^2 + 2xy + y^2, \\ x^2 - 2xy + y^2 &= 0, \quad (x - y)^2 = 0, \quad x = y. \end{aligned}$$

Sistemadagi ikkinchi tenglamadagi  $x$  o'rniga  $u$  ni qo'ysak,  $2\sqrt{y} = 4$ ,  $\sqrt{y} = 2$ , bundan  $y = 4$  bo'ladi. J:  $x = y = 4$ .

## MUSTAQIL YECHISH UCHUN MISOLLAR.

1. Sistemani yeching:

$$\begin{cases} x^2 + x\sqrt{xy^2} = 208 \\ y^2 + y\sqrt{yx^2} = -1053, \end{cases}$$

J:  $x_1 = 8, \quad y_1 = 27, \quad x_2 = -8, \quad y_2 = 27,$

$x_3 = 8, \quad y_3 = -27, \quad x_4 = -8, \quad y_4 = -27.$

2. Sistemani yeching:

$$\begin{cases} 8\sqrt{x^2 - y^2} = x + 9y, \\ x^4 + 2x^2y + y^2 + x = 2x^3 + 2xy + y + 506. \end{cases}$$

J:  $x_1 = 5, \quad y_1 = 3;$

$x_2 = \frac{25 - 48\sqrt{6}}{29}, \quad y_2 = \frac{21(5 - 48\sqrt{6})}{29^2}.$

3. Sistemani yeching:

$$\begin{cases} \frac{x + \sqrt{x^2 - y^2}}{x - \sqrt{x^2 - y^2}} + \frac{x - \sqrt{x^2 - y^2}}{x + \sqrt{x^2 - y^2}} = \frac{17}{4}, \\ x(x + y) + \sqrt{x^2 + xy + 4} = 52. \end{cases} \quad j: \begin{matrix} x_1 = 5, & y_1 = 4; \\ x_2 = -5, & y_2 = -4; \\ x_3 = 15, & y_3 = -12; \\ x_4 = -15, & y_4 = 12; \end{matrix}$$

4. Sistemani yeching:

$$\begin{cases} \sqrt{x^2 + y^2} + \sqrt{x^2 - y^2} = \frac{5 + \sqrt{7}}{5 - \sqrt{7}} \\ \sqrt{x^2 + y^2} - \sqrt{x^2 - y^2} = \frac{5 - \sqrt{7}}{5 + \sqrt{7}} \\ x^3 + 2y^3 = 118. \end{cases} \quad \text{j. } x = 4, y = 3$$

### 11-§. Ko'rsatkichli tenglama.

Ko'rsatkichli tenglama tushunchasini tushuntirishdan oldin o'qituvchi o'quvchilarga daraja, ko'rsatkichli funksiya va ularning xossalari haqidagi ma'lumotlarni takrorlashi, so'ngra ko'rsatkichli funksiyaning ta'rifini berish lozim.

**T a' r i f.** Daraja ko'rsatkichida noma'lum miqdor qatnashgan tenglamalar ko'rsatkichli tenglamalar deyiladi. Masalan,  $3^x = 2^{x-1}$ ,  $5^{x^2-6} - 1 = 0$ ,  $7^{x-2} = \sqrt[3]{49}$  va hokazo.  $a^x = b$  tenglama maktab matematika kursidagi eng sodda ko'rsatkichli tenglamadir. Bu yerda  $a$  va  $b$  berilgan musbat sonlar bo'lib,  $a \neq 1$   $a > 0$  bo'lishi kerak.  $x$  esa noma'lum miqdordir.  $a^x = b$  tenglama bitta yechimga egadir. Har qanday ko'rsatkichli tenglama ayniy almashtirishlarni bajarish orqali algebraik yoki  $a^x = b$  ko'rinishdagi sodda holga keltirib yechimlari topiladi. Ko'rsatkichli tenglamalarni yechish darajasini quyidagi xossalarga asoslanadi:

1. Agar o'zaro ikkita teng darajaning asoslari teng bo'lsa, ularning daraja ko'rsatkichlari ham o'zaro teng bo'ladi.

Masalan, agar  $a^m = a^n$  bo'lsa,  $m = n$  bo'ladi, albatta bu yerda  $a \neq 0$  va  $a \neq 1$ ,  $a > 0$  bo'lishi kerak.

2. Agar o'zaro teng darajaning ko'rsatkichlari teng bo'lsa, u holda ularning asoslari ham teng bo'ladi, ya'ni  $a^m = b^m$  bo'lsa, u holda  $a = b$  bo'ladi. Maktab matematika kursidagi ko'rsatkichli tenglamalar asoslarini tenglash, kvadrat tenglamaga keltirish, logarifmlash, ya'ni o'zgaruvchini kiritish va gruppalash usullari bilan yechiladi. Bu usullarni quyidagi misollar orqali ko'rib chiqaylik.

**1-misol.**  $36^x = \frac{1}{216}$  tenglamani yeching.

Yechish. Bu tenglama asoslarini tenglash yo'li orqali yechiladi:

$$(36^x = 216^{-1}), (6^{2x} = 6^{-3}) \Rightarrow (2x = -3) \Rightarrow (x = -\frac{3}{2})$$

Ushbu tenglamani logarifmlash usuli bilan ham yechish mumkin. Logarifm ta'rifiga ko'ra:  $x = \log_{36} \left( \frac{1}{216} \right)$  bundan  $x = -\log_{36} 216 = -\frac{1}{2} \log_6 216 = -\frac{3}{2}$ , chunki  $\log_6 216 = 3$ .

**2-misol.**  $5^{2x} - 5^x - 600 = 0$  tenglama yechilsin. Bu tenglama yangi o'zgaruvchi kiritish usuli orqali kvadrat tenglamaga keltirib yechiladi. Agar  $y = 5^x$  desak, berilgan tenglama  $y^2 - y - 600 = 0$  ko'rinishni oladi.

$$y_{1,2} = \frac{1}{2} \pm \sqrt{\frac{1}{4} + 600} = \frac{1}{2} \pm \frac{49}{2}; \quad y_1 = 25, \quad y_2 = 24$$

$$5^x = y \quad \text{yoki} \quad 5^x = 25, \quad 5^x = 5^2, \quad x = 2$$

$$\text{Javob: } x = 2$$

**3 - misol.**  $3^{x^2+1} + 3^{x^2-1} = 270$  tenglamani yeching.

$$\text{Yechish. } 3^{x^2} \cdot 3 + 3^{x^2} \cdot \frac{1}{3} = 270, \quad 3^{x^2} = y \quad \text{desak, } 3y + \frac{1}{3}y = 270$$

yoki  $\frac{10}{3}y = 270$ , bundan  $y = 81$ ,  $3^{x^2} = 81$  yoki  $3^{x^2} = 3^4$  bundan  $x^2 = 4$  va  $x_1 = 2$ ,  $x_2 = -2$

**4 - misol.**  $5^{2x} - 7^x - 5^{2x} \cdot 35 + 7^x \cdot 35 = 0$  tenglamani yeching. Bu tenglama gruppalash usuli bilan yechiladi:

$$5^{2x}(1 - 35) = 7^x(1 - 35), \quad 5^{2x} = 7^x, \quad x = 0$$

**5-misol.**  $\left( \sqrt{5+2\sqrt{6}} \right)^x + \left( \sqrt{5-2\sqrt{6}} \right)^x = 10$  tenglamani yeching.

Yechish. Bu tenglamani yechishda  $\left( \sqrt{5+2\sqrt{6}} \right)^x + \left( \sqrt{5-2\sqrt{6}} \right)^x = 1$  ekanligidan foydalanamiz. Agar  $\left( \sqrt{5+2\sqrt{6}} \right)^x = y$  desak, u holda  $\left( \sqrt{5-2\sqrt{6}} \right)^x = \frac{1}{y}$  bo'ladi. bu belgilashlarga ko'ra tenglama quyidagicha ko'rinishni oladi.  $y + \frac{1}{y} = 10$ , bundan  $y^2 - 10y + 1 = 0$  yoki  $y_1 = 5 - 2\sqrt{6}$  va  $y_2 = 5 + 2\sqrt{6}$  ildizlarga ega bo'lamiz.

$$\text{a) } \left( \sqrt{5+2\sqrt{6}} \right)^x = 5 - 2\sqrt{6} \quad \text{bo'lsin, u holda}$$

$$(5 + 2\sqrt{6})^{\frac{x}{2}} = \frac{(5 + 2\sqrt{6})(5 - 2\sqrt{6})}{5 + 2\sqrt{6}} = (5 + 2\sqrt{6})^{-1}, \quad \text{bundan } \frac{x}{2} = -1, \quad x_1 = -2;$$

$$\text{b) } \left( \sqrt{5+2\sqrt{6}} \right)^x = 5 + 2\sqrt{6} \quad \text{bo'lsin, u holda } (5 + 2\sqrt{6})^{\frac{x}{2}} = (5 + 2\sqrt{6})^1, \quad \text{bundan } \frac{x}{2} = 1, \quad x_1 = 2;$$

$$\text{Javob: } x = -2 \quad \text{va} \quad x = 2$$

**6 - misol.**  $100^x = 300$  tenglama yechilsin.

Yechish. Tenglikning ikkala tomonini 10 asosga ko'ra logarifmlaymiz.  
 $x \lg 100 = \lg 300$ .

Bizga ma'lumki,  $\lg 100 = 2$ . Bu yerda  $\lg 300 = \lg(100 \cdot 3) = \lg 100 + \lg 3 = 2 + \lg 3$  kabi ayniy almashtirishlar bajaramiz. Bu almashtirishlarga ko'ra berilgan tenglama

$$x \cdot 2 = 2 + \lg 3 \text{ ko'rinishni oladi. Bundan: } x = \frac{2 + \lg 3}{2} = 1 + \frac{\lg 3}{2}$$

**7 - m i s o l.**  $\left(2^{3x} - \frac{8}{2^{3x}}\right) - 6\left(2^x - \frac{1}{2^{x-1}}\right) = 1$

Yechish. Bu tenglamani quyidagi ko'rinishda yozish mumkin:

$$\left(2^{3x} - \frac{8}{2^{3x}}\right) - 6\left(2^x - \frac{2}{2^x}\right) - 1 = 0$$

$$2^x - \frac{2}{2^x} = y \text{ deb belgilasak, u holda}$$

$$2^{3x} - \frac{8}{2^{3x}} = \left(2^x - \frac{2}{2^x}\right)\left(2^{2x} + 2 + \frac{4}{2^{2x}}\right) = \left(2^x - \frac{2}{2^x}\right)\left[\left(2^x - \frac{2}{2^x}\right)^2 + 6\right] = y(y^2 + 6)$$

bo'ladi. Bu almashtirishlarga ko'ra berilgan tenglama o'zgaruvchi  $y$  ga nisbatan

quyidagi ko'rinishni oladi:  $y(y^2 + 6) - 6y - 1 = 0$  yoki  $y^3 = 1$ ,  $y = 1$ .  $2^x - \frac{2}{2^x} = 1$ , bundan

$2^{2x} - 2^x - 2 = 0$  bo'ladi. Agar  $2^x = t$  desak, u holda tenglama  $t^2 - t - 2 = 0$  ko'rinishni oladi.

Uning yechimlari  $t_1 = 2$ ,  $t_2 = -1$  bo'ladi. U holda  $2^x = 2$  yoki  $x = 1$ ,  $2^x = -1$  tenglama yechimga ega emas.

Javob:  $x = 1$

### MUSTAQIL YECHISH UCHUN MISOLLAR.

Quyidagi tenglamalarni yeching:

1.  $5^{x+1} + 3 \cdot 5^{x-1} - 6 \cdot 5^x + 10 = 0$  J: 2
2.  $\sqrt{27^{x-1}} = \sqrt[3]{9^{2-x}}$  J:  $x = \frac{17}{13}$
3.  $16\sqrt{(0.25)^{\frac{5-x}{4}}} = 2^{\sqrt{x+1}}$  J:  $x = 24$
4.  $4 + \frac{2}{3^x - 1} = \frac{5}{3^{x-1}}$  J:  $x = 1$
5.  $\left(\frac{3}{5}\right)^{x+1} + \left(\frac{3}{5}\right)^{1-x} = 1,2$  J:  $x = 0$
6.  $7 \cdot 2^x = 5 \cdot 3^x$  J:  $x = \frac{\lg 7 - \lg 5}{\lg 3 - \lg 2}$
7.  $5^{2x} - 7^x - 5^{2x} \cdot 7 + 7^x \cdot 7 = 0$  J:  $x = 0$

$$8. 9^x = \left(\frac{1}{243}\right)^{5x}$$

$$J: x = 0$$

$$9. (0,4)^{\lg^2 x-1} = (6,25)^{2-\lg x^2}$$

$$J: x_1 = 10^5, x_2 = 10$$

$$10. x^{\lg^2 x + \lg x^3 + 3} = \frac{2}{\frac{1}{\sqrt{x+1}} - \frac{1}{\sqrt{x+1}+1}}$$

$$J: x_1 = 1, x_2 = \frac{1}{100}$$

$$11. 2\sqrt[3]{1}^{4(x-1)} - 1 = 121^{x-1}$$

$$J: x = 1$$

$$12. 2\sqrt[3]{3}^{x+1} - 5\sqrt[3]{9}^{x-2} = 81$$

$$J: x_1 = 4, x_2 = 4 - \frac{\lg 5}{\lg 3}$$

## 12-§. Logarifmik tenglamalar.

Maktab matematika kursida logarifmik tenglamaga ta'rif berib, so'ngra uni yechish usullari ko'rsatiladi.

**T a' r i f.** Noma'lum miqdor logarifm belgisi ostida qatnashgan tenglamalar logarifmik tenglamalar deyiladi.

Masalan,  $\lg x = 3 - \lg 5$ ,  $\lg x = \lg 2$ ,  $2\lg \sqrt{x} = \lg(15 - 2x)$  va hokazo. Logarifmik tenglama ham ko'rsatkichli tenglama singari transsendent tenglama turiga kiradi.  $\log_a x = b$  tenglama eng sodda logarifmik tenglamadir. Bu yerda  $a$ ,  $b$  lar ma'lum sonlar,  $x$  noma'lum sonidir. Bu ko'rinishdagi tenglama  $x = a^b$  bitta yechimga ega bo'ladi.

Logarifmik tenglamaning yechish jarayonida o'qituvchi o'quvchilarga logarifmik funksiya va uning xossalari haqidagi ma'lumotlarni takrorlab berish lozim. Ayniqsa, o'qituvchi ko'paytmaning  $\lg(a \cdot b) = \lg a + \lg b$ , kasrning  $\lg \frac{a}{b} = \lg a - \lg b$  va darajaning  $\lg a^n = n \lg b$  logarifmlari hamda logarifmlarning bir asosidan boshqa asosiga o'tish  $\log_a b = \frac{\log_c b}{\log_c a}$  formulasi va qoidalarini imkoniyat boricha

isboti bilan tushuntirib berishi maqsadga muvofiqdir, chunki logarifmik tenglamalarni yechish jarayonida ana shu qoidalardan foydalaniladi. Logarifmik tenglamalarni yechish jarayonida ko'pincha  $\lg A = \lg B$  bo'lsa,  $A = B$  bo'ladi degan qoidaga amal qilamiz. Ayrim hollarda o'quvchilar  $\lg A + \lg B = \lg C$  tenglikdan ham  $A + B = C$  bo'ladi degan noto'g'ri xulosaga keladilar. Mana shunday xatoliklarning oldini olish uchun o'qituvchi yuqoridagi tengliklarni aniq misollar yordamida ko'rsatib berishi lozim. Masalan.  $\lg 5 + \lg 9 = \lg 45$ . Bu tenglikdan yuqoridagi xato mulohazaga ko'ra  $5 + 9 = 45$  bo'lishi kerak, bunda  $14 \neq 45$ . Bundan ko'rinadiki,

$\lg A + \lg B = \lg C$  dan  $A + B = C$  deb yozish katta xatolikka olib kelar ekan. Demak,  $\lg A + \lg B = \lg C$  bo'lsa, ikki son ko'paytmasining logarifmi qoidasiga ko'ra  $\lg(A \cdot B) = \lg C$  bo'ladi, bundan  $A \cdot B = C$  ekanligi ko'rsatish kifoya.  $\lg 5 + \lg 9 = \lg 45$ ,  $\lg(5 \cdot 9) = \lg 45$ .  $45 = 45$ .  $\log_a f(x) = \log_a g(x)$  tenglamani yechish uchun  $f(x) = g(x)$  tenglamani yechish kerak va topilgan yechimlar ichidan  $f(x) > 0$ ,  $g(x) > 0$  tengsizliklarni qanoatlantiradiganlarini tanlab olinadi.  $f(x) = g(x)$  tenglamaning qolgan ildizlari esa  $\log_a f(x) = \log_a g(x)$  tenglama uchun chet ildiz bo'ladi. Har qanday logarifmik tenglama ayniy almashtirishlar yordamida uni  $\log_a f(x) = \log_a g(x)$  ko'rinishga keltirib,  $f(x) = g(x)$  tenglamani yechish orqali va yangi o'zgaruvchi kiritish orqali yechiladi. Logarifmik tenglamalarni yechishni uning aniqlanish sohasini topishdan boshlash lozim.

**1 - m i s o l.**  $\log_a x = b$  tenglama yechilsin.

Yechish. Agar  $a > 0$  va  $a \neq 1$  bo'lsa,  $x = a^b$  bo'ladi.

**2 - m i s o l.**  $\frac{\lg 2x}{\lg(4x-15)} = 2$  tenglama yechilsin.

Yechish.  $\lg 2x$  ning aniqlanish sohasi  $x > 0$  bo'ladi.  $\lg(4x-15)$  ning aniqlanish sohasi  $4x-15 > 0$ , bundan  $x > \frac{15}{4}$  bo'ladi. Bundan tashqari  $4x-15 \neq 0$  yoki  $x \neq \frac{15}{4}$  bo'lishi kerak, bularga asoslanib tenglamaning aniqlanish sohasi  $x > 3\frac{3}{4}$  va  $x \neq \frac{15}{4}$  bo'ladi. Tenglamani yechish uchun quyidagicha ayniy almashtirish bajaramiz:  $\lg 2x = 2 \lg(4x-15)$ ,  $\lg 2x = \lg(4x-15)^2$ ;  $2x = 16x^2 - 120x + 225$  yoki  $16x^2 - 122x + 225 = 0$ , bundan  $x_1 = \frac{72}{15} = \frac{9}{2} = 4\frac{1}{2}$  yechim tenglamaning aniqlanish sohasida yotadi, shuning uchun  $x_1 = 4\frac{1}{2}$  yechim bo'ladi.

**3 - m i s o l.**  $\log_2(\lg x + 2\sqrt{\lg x + 1}) - \log_2(\sqrt{\lg x + 1}) = 1$  tenglama yechilsin.

Yechish. Bu tenglamadagi o'zgaruvchining qabul qiladigan qiymatlari sohasi  $x \geq 1$  bo'ladi. Berilgan tenglamani potensirlasak,  $\frac{\lg x + 2\sqrt{\lg x + 1}}{\sqrt{\lg x + 1}} = 2$  yoki  $\sqrt{\lg x + 1} = 2$ ,  $\sqrt{\lg x + 1} = 1$  bundan  $x = 10$ .

**4 - m i s o l.**  $x^{1+\lg x} = 100$  tenglamani yeching.

Yechish. Bu tenglamadagi noma'lumning qabul qiladigan qiymatlar sohasi  $x > 0$  dir. Tenglikning har ikkala tomonini 10 asosga ko'ra logarifmlaymiz:  $\lg x \cdot (1 + \lg x) = \lg 100$

Agar  $lgx=t$  desak,  $lg100=2$  bo'ldi. U holda  $(1+t)t=2$  yoki  $t^2+t-2=0$ , bundan  $t_1=1$ ,  $t_2=-2$ .  $lgx=1$ , bundan  $x=10$ ,  $lgx=-2$ , bundan  $x=\frac{1}{100}$  Javob.  $x_1=10$ ,  $x_2=\frac{1}{100}$

**5-misol.**  $lg\sqrt{5x-4} + lg\sqrt{x+1} = 2 + lg0,18$  tenglama yechilsin

Yechish. Bu tenglamaning aniqlanish sohasi  $5x-4>0$  va  $x+1>0$  bo'lishi kerak, bundan  $x>\frac{4}{5}$  bo'ldi. Tenglamani potensirlasak:  $\sqrt{5x-4} \cdot \sqrt{x+1} = 100 \cdot 0,18$  yoki  $\sqrt{5x-4} \cdot \sqrt{x+1} = 18$ . Bunda  $5x^2+x-328=0$ , bundan  $x_1=-\frac{41}{5}$  va  $x_2=8$ ,  $x_1=-\frac{41}{5}$  bo'lgani uchun yechim bo'lolmaydi. Javob.  $x=8$ .

**6 - m i s o l.**  $\frac{1}{12}lg^2 x = \frac{1}{3} - \frac{1}{4}lg x$  tenglamani yeching.

Yechish. Bu tenglamaning aniqlanish sohasi  $x>0$ . Agar  $lgx=y$  desak,  $\frac{1}{12}y^2 = \frac{1}{3} - \frac{1}{4}y$ ,  $y^2+3y-4=0$ , bundan  $y_1=1$  va  $y_2=-4$ , u holda  $lgx=1$  yoki  $x=10$ .  $lgx=-4$  yoki  $x=\frac{1}{10^4}$ .

J a v o b.  $x_1 = 10$ ,  $x_2 = \frac{1}{10^4}$ .

**7 - m i s o l.**  $log_5x + log_x5 = 2,5$

Yechish. Tenglamaning aniqlanish sohasi  $x>0$  va  $x \neq 1$ . Bu tenglamada logarifm asoslarini bir xilga keltirish kerak. Buning uchun  $log_a b = \frac{log_c b}{log_c a}$  formuladan foydalanamiz:

$$log_x 5 = \frac{log_5 5}{log_5 x} = \frac{1}{log_5 x}$$

Bu almashtirishlarga ko'ra tenglama quyidagi ko'rinishni oladi:  $log_5 x + \frac{1}{log_5 x} = 2,5$ , agar  $log_5 x = y$  desak,  $y + \frac{1}{y} = 2,5$  yoki  $y^2 - 2,5y + 1 = 0$ . Uni yechsak,  $y_1=2$  va  $y_2=\frac{1}{2}$ . Bularga ko'ra  $log_5 x = 2$ , bundan  $x=25$  va  $log_5 x = \frac{1}{2}$ , bundan  $x = \sqrt{5}$ .

Javob:  $x_1 = 25$ ,  $x_2 = \sqrt{5}$

## MUSTAQIL YECHISH UCHUN MISOLLAR.

Quyidagi tenglamalarni yeching:

1.  $\lg x = 3 - \lg 5$   $J: x = 200$
2.  $100^{\lg(x+20)} = 10000$   $J: x = 80$
3.  $\lg(0,5 + x) = \lg 2 - \lg x$   $J: x = \frac{\sqrt{33}-1}{4}$
4.  $\lg(x+6) - 2 = \frac{1}{2} \lg(2x-3) - \lg 25$   $J: x_1 = 14, x_2 = 6$
5.  $\frac{1}{5-4\lg x} + \frac{1}{1+\lg x} = 1$   $J: x = \sqrt{10}$
6.  $\frac{1}{5-4\lg(x+1)} + \frac{4}{1+\lg(x+1)} = 3$   $J: x = 9, x = \sqrt{1041}$
7.  $x^x = x$   $J: x = 1, x = -1$
8.  $x^{\lg x + 2} = 1000$   $J: x = \frac{1}{1000}, x = 10$
9.  $x = 10^{1-0.25\lg x}$   $J: \sqrt[5]{10000}$
10.  $\log_3 x + \log_5 x = \log_x 15$   $J: x = 5$
11.  $\log_{16} x + \log_4 x + \log_2 x = 7$   $J: x = 16$
12.  $\log_{3x} 3 = \log_3 (3x)^2$   $J: x = 1$
13.  $\log_{\sqrt{\frac{1}{16}}} x = 4$   $J: x = \frac{1}{256}$
14.  $\log_{\sqrt{x-2}} (2\sqrt{x} + 6) = 2$   $J: x = 16$
15.  $\log_3 (3 + \sqrt{3+x}) + \frac{2}{\log_x 3}$   $J: x = \frac{1+\sqrt{3}}{2}$
16.  $\sqrt{\log_x \sqrt{2x}} \cdot \log_2 x = -1$   $J: x = \frac{1}{4}$
17.  $\frac{\lg(x+4) - \lg(x-3)}{\lg 200 - \lg 25} = 1$   $J: x = 4$
18.  $\log_b x + \log_{b^2} x + \log_{b^4} x = 1,75$   $J: x = b$
19.  $\frac{\lg(2x+5) - \lg x}{2 + \lg 100} = \frac{1}{4}$   $J: x = \frac{5}{8}$
20.  $\log_3 \{1 + \log_2 [1 + \log_4 (1 + \log_{\frac{1}{2}} x)]\} = 0$   $J: x = 1$
21.  $\log_4 x + \log_x 4 = 2$   $J: x = 4$
22.  $\log_{\sqrt[3]{x}} x + \log_3 x - \log_{\frac{1}{3}} x = 8$   $J: 9$
23.  $\log_7 [x + \log_2 (9 - 2^x) + 4] = 1$   $J: x = 0$



24.  $\log_7 \log_4 \log_3^2(x-7) = 0$   $J: x = 7\frac{1}{9}, x = 16$   
 25.  $\log_3 x + 6\log_x 3 = 5$   $J: x = 9, x = 27$   
 26.  $\lg x + \lg(x+3) = \lg 2 + \lg(9-2\sqrt{x^2+3x-6})$   $J: x = 2.$

### 13-§. Parametrlı logarifmik va ko'rsatkichli tenglamalarnı yechish

Parametrlı logarifmik va ko'rsatkichli tenglamalarnı yechish parametrsiz shunday tenglamalardan ana shu parametrlı qanoatlantiruvchi tenglama yechimini uning yo'l qo'yiladigan qiymatlari ichidan izlash bilan farq qiladi.

**1-m i s o l.**  $\log_a(a + \sqrt{a+x}) = \frac{2}{\log_x a}$  tenglama yechilsin.

Yechish. Bu tenglamani yechish uchun avvalo uning parametrini qanoatlantiruvchi yo'l qo'yiladigan qiymatlar sohanini topamiz:

$$x > 0, x \neq 1, a > 0, a \neq 1. \log_a(a + \sqrt{a+x}) = \log_a x^2$$

Potensirlash qoidasiga ko'ra  $a + \sqrt{a+x} = x^2$   $\sqrt{a+x} = x^2 - a$ , bu yerda  $x^2 > a$  tenglikning har ikki tomonini kvadratga ko'tarsak,  $a+x = x^4 - 2ax^2 + a^2$ ,

$a^2 - (2x^2 + 1)a + (x^4 - x) = 0$  bu tenglamani yechsak,  $a_{1,2} = \frac{2x^2 + 1 \pm (2x+1)}{2}$  hosil bo'ladi:

$a_1 = x^2 + x + 1$  va  $a^2 = x^2 - x$ .  $a_1 = x^2 + x + 1$  tenglamaning yechimi yo'l qo'yiladigan qiymatlar sohasida yotmaydi,  $x^2 - a > 0, x > 0$  bo'lgani uchun  $a = x^2 - x$  tenglamani yechamiz:  $x^2 - x - a = 0$ , bundan

$$x_{1,2} = \frac{1}{2} \pm \sqrt{\frac{1}{4} + a} = \frac{1}{2} \pm \sqrt{\frac{1+4a}{4}} = \frac{1 \pm \sqrt{4a+1}}{2}$$

Bulardan:  $x_1 = \frac{1 + \sqrt{4a+1}}{2}$ ,  $x_2 = \frac{1 - \sqrt{4a+1}}{2}$ . Bu yechimlardan  $x_1 = \frac{1 + \sqrt{4a+1}}{2}$

tenglamaning yo'l qo'yiladigan qiymatlar sohasida yotadi, shuning uchun u yechim bo'ladi.

Bu berilgan tenglamaning logarifm xossalari va potencirlashga ko'ra  $a = \sqrt{a+x} = x^2$  ko'rinishda yozib olamiz. Bu tenglamaning har ikki tomoniga  $x$  ni qo'shamiz.

$$a + x + \sqrt{a+x} = x^2 + x$$

agar  $\sqrt{a+x} = b$  desak,  $b^2 + b = x^2 + x$  hosil bo'ladi. Bundan

$$\begin{aligned}(x^2 - b^2) + (x - b) &= 0, \\ (x - b)(x + b) + (x - b) &= 0, \\ (x - b)(x + b + 1) &= 0;\end{aligned}$$

$x + b + 1 \neq 0$  bo'lgani uchun  $x - b = 0$  bo'ladi,  $b$  ning o'rniga  $\sqrt{a+x}$  ni qo'ysak,  $x - \sqrt{a+x} = 0$  yoki  $x^2 - x - a = 0$  bo'ladi. Biz bu tenglamani yechishni yuqorida ko'rib o'tdik.

**2 - m i s o l.**  $a^{\frac{x}{2}} + b^{\frac{x}{2}} = m(ab)^{\frac{1}{x}}$  tenglama yechilsin.

Yechish. Bu tenglamadagi o'zgaruvchining yo'l qo'yiladigan qiymati  $x \neq 0$

a)  $a \neq b > 0$  bo'lsin, u holda tenglamaning ikkala tomonidagi ifodalarni  $(a \cdot b)^{\frac{1}{x}}$  ga bo'lamiz.

$$\left(\frac{a}{b}\right)^{\frac{1}{x}} + \left(\frac{b}{a}\right)^{\frac{1}{x}} = m, \quad (m > 0).$$

Agar  $\left(\frac{a}{b}\right)^{\frac{1}{x}} = t$  desak,  $t + \frac{1}{t} = m$ , bundan  $t^2 - tm + 1 = 0$  bo'ladi. Bu tenglamani

yechamiz:

$$t_{1,2} = \frac{m \pm \sqrt{m^2 - 4}}{2}, \quad \left(\frac{a}{b}\right)^{\frac{1}{x}} = \frac{m \pm \sqrt{m^2 - 4}}{2}. \quad (1)$$

Bu yerda  $m \geq 2$  bo'ladi.

a)  $m > 2$  bo'lsin, bu holda (1) ning har ikki tomonini 10 asosga ko'ra logarifmlaymiz:

$$\begin{aligned}\frac{1}{x} \lg \frac{a}{b} &= \lg(m \pm \sqrt{m^2 - 4}) - \lg 2, \\ x &= \frac{\lg a - \lg b}{\lg(m \pm \sqrt{m^2 - 4}) - \lg 2}, \quad (a \neq b).\end{aligned}$$

b)  $m = 2$  bo'lsin, u holda (1) quyidagi ko'rinishni oladi:

bundan:  $\left(\frac{a}{b}\right)^{\frac{1}{x}} = 1, \quad a^{\frac{1}{x}} = b^{\frac{1}{x}}; \quad a = b \neq 0$  bo'lishi kerak.

2)  $a \neq b = 0$  bo'lsin.

a)  $a = b = 0$  bo'lsa, berilgan tenglamaning yechimi bo'lgan barcha sonlar.

b)  $a = 0, b \neq 0$  yoki  $a \neq 0, b = 0$  bo'lsa, tenglama yechimga ega emas.

J: 1) Agar  $m > 2, a \neq 0, b \neq 0, a \neq b$  bo'lsa,

$$x = \frac{\lg a - \lg b}{\lg(m \pm \sqrt{m^2 - 4}) - \lg 2}$$

2) Agar a)  $m = 2$ ,  $a = b^{-1} \neq 0$  bo'lsa,  $x$  – ixtiyoriy son.

b)  $a=b=0$ ,  $x \neq 0$  – ixtiyoriy son

**3-misol.**  $\left(\frac{1+a^2}{2a}\right)^x + \left(\frac{1-a^2}{2a}\right)^x = 1$  tenglama yechilsin.

Yechish. Bu tenglamadagi  $a$  parametrning yo'1 qo'yiladigan qiymatlari sohasi  $0 < a < 1$  bo'ladi. Tenglamaning har ikki tomonini  $\left(\frac{1+a^2}{2a}\right)^x \neq 0$  ga bo'lamiz:

$$\left(\frac{1-a^2}{1+a^2}\right)^x + \left(\frac{2a}{1+a^2}\right)^x = 1, \quad \frac{2a}{1+a^2} = \sin z, \quad \frac{1-a^2}{1+a^2} = \cos z,$$
$$(\cos z)^x + (\sin z)^x = 1. \quad (1)$$

(1) tenglikning chap tomonida turgan ifodaning yo'1 qo'yiladigan qiymatlar sohasi  $0 < z < \frac{\pi}{2}$  bo'ladi, bu oraliqda  $f(x) = (\sin z)^x + (\cos z)^x$  funksiya monoton kamayuvchidir.  $x=2$  da  $f(x)=1$  bo'ladi, shuning uchun  $x=2$  bu tenglamaning yechimi bo'ladi.

**4-misol.**  $a^x - \frac{a^{2x} - 4a^x + 4}{\sqrt{a^{2x} - 4a^x + 4}} = 1$  tenglama yechilsin.

Yechish: Bu tenglama ma'noga ega bo'lishi uchun  $\sqrt{a^{2x} - 4a^x + 4} = \sqrt{(a^x - 2)^2} = |a^x - 2| \neq 0$  bo'lishi kerak.

$$a^x - \frac{(a^x - 2)^2}{|a^x - 2|} = 1; \quad a^x - a^x - 2 = 1$$

A) agar  $a^x \geq 2$  bo'lsa,  $a^x - a^x + 2 = 1$  tenglama yechimga ega emas.

B) agar  $0 < a^x < 2$  bo'lsa,  $2a^x = 3$ ;  $x = \log_a \frac{3}{2}$  yechim hosil bo'ladi.

**5-misol.**  $2 \log_x^2 b - 3 \log_x b x^2 + 14 \log_{b^2 x^2} b x = 0$  tenglama yechilsin.

Yechish.  $x > 0$ ,  $x \neq \frac{1}{b^2}$  va  $b > 0$ , agar  $\log_x b = y$  desak,  $2y^2 - 3y + 1 = 0$ ,

$$y_{1,2} = \frac{3 \pm \sqrt{9-8}}{4} = \frac{3 \pm 1}{4}; \quad y_1 = 1, \quad y_2 = \frac{1}{2}, \quad \log_x b = 1$$

bundan  $x_1 = b$ ,  $\log_x b = \frac{1}{2}$  bundan  $x_2 = \sqrt{b}$

**6-misol.**  $\frac{2}{a} \lg x = 1 + \frac{a}{\lg x}$ ,  $a \neq 0$  tenglama yechilsin.

Yechish.

$$\frac{2}{a} \lg^2 x = \lg x + a; \quad \frac{2}{a} \lg^2 x - \lg x - a = 0;$$

$$\lg x = y; \quad 2y^2 - ay - a^2 = 0,$$

$$y_{1,2} = \frac{a \pm \sqrt{a^2 + 8a^2}}{4} = \frac{a \pm 3a}{4},$$

$$y_1 = a, \quad y_2 = -\frac{a}{2};$$

$$\lg x = a, \quad x = 10^a; \quad \lg x = -\frac{a}{2}, \quad x = 10^{-\frac{a}{2}}.$$

## MUSTAQIL YECHISH UCHUN MISOLLAR.

**1-misol.**  $2 \log_x a + \log_{ax} a + 3 \log_{a^2x} a \neq 0, \quad a \neq 1, \quad a > 0$  tenglama yechilsin.

$$J: \quad x_1 = \frac{1}{\sqrt{a}}, \quad x_2 = \frac{1}{a^3 \sqrt{a}}.$$

**2-misol.**  $\frac{\log_3 4 - 2}{\log_3(x+2)} = \frac{\log_a(5-x)}{\log_a(x+2)} - 1, \quad a > 0, \quad a \neq 1$  tenglama yechilsin.

$$J: \quad x = 2 \frac{11}{13}.$$

**3-misol.**  $\frac{\lg(4+a-x)}{\lg x} = 1 + \frac{\log_a 4 - 2}{\log_a x}, \quad a > 0, \quad a \neq 1$  tenglama yechilsin.

$$J: \quad x = \frac{a^2(a+4)}{a^2+4}.$$

## 14-§. Ko'rsatkichli va logarifmik tenglamalar sistemasini yechish.

**1-misol.**  $\begin{cases} \sqrt{x+y} = 5 \\ (x+y) \cdot 2^x = 100 \end{cases}$  tenglamalar sistemasini yechilsin.

Yechish. Sistemadagi birinchi tenglamaning har ikki tomonini  $x$  darajaga ko'taramiz:

$$\begin{cases} x + y = 5^x, \\ (x + y) \cdot 2^x = 100. \end{cases}$$

$$(5^x \cdot 2^x = 100) \Rightarrow (10^x = 10^2) \Rightarrow (x = 2).$$

$$(2 + y = 5^2) \Rightarrow y = 25 - 2 = 23. \quad \mathcal{K}: x = 2, \quad y = 23$$

**2-misol.**  $\begin{cases} x^y = 243 \\ \sqrt[3]{1024} = \left(\frac{2}{3}x\right)^2 \end{cases}$  tenglamalar sistemasini yechilsin.

Yechish. Sistemadagi ikkinchi tenglamaning har ikki tomonini  $y$  darajaga ko'taramiz.

$$\begin{aligned} & \begin{cases} x^y = 243, \\ 1024 = \left(\frac{2}{3}x\right)^{2y} \end{cases} \Rightarrow \begin{cases} x^y = 243, \\ 1024 = \left(\frac{2}{3}\right)^{2y} \cdot (x^y)^2 \end{cases} \Rightarrow \\ & \Rightarrow \begin{cases} x^y = 243, \\ 1024 = \left(\frac{2}{3}\right)^{2y} \cdot (243)^2 \end{cases} \Rightarrow \begin{cases} x^y = 243, \\ 2^{10} = \left(\frac{2}{3}\right)^{2y} \cdot (3^5)^2 \end{cases} \Rightarrow \\ & \Rightarrow \begin{cases} x^y = 243, \\ \left(\frac{2}{3}\right)^{10} = \left(\frac{2}{3}\right)^{2y} \end{cases} \Rightarrow \begin{cases} x^y = 243, \\ 2y = 10 \end{cases} \Rightarrow \begin{cases} x^y = 243, \\ y = 5 \end{cases} \Rightarrow \begin{cases} x = 3, \\ y = 5. \end{cases} \end{aligned}$$

**3 - misol.**  $\begin{cases} y^{\frac{x}{y}} = x, \\ y^3 = x^2 \end{cases}$  tenglamalar sistemasi yechilsin.

Sistemadagi birinchi tenglamaning har ikki tomonini  $2y$  darajaga, ikkinchi tenglamani esa  $y$  darajaga ko'taramiz:

$$\begin{cases} y^{2x} = x^{2y} \\ y^{3y} = x^{2y} \end{cases} \Rightarrow y^{2x} = y^{3y}; \quad y \neq 1 \quad \text{bo'lsa,} \quad 2x = 3y, \quad x = \frac{3}{2}y, \quad x \text{ ning bu topilgan qiymatini}$$

sistemadagi ikkinchi tenglamaga qo'yamiz:

$$\begin{aligned} & \left(y^3 = \frac{9}{4}y^2\right) \Rightarrow \left(y^3 - \frac{9}{4}y^2 = 0\right) \Rightarrow y^2\left(y - \frac{9}{4}\right) = 0; \\ & y_{1,2} = 0, \quad y_3 = \frac{9}{4}, \quad x_{1,2} = 0, \quad x_3 = \frac{27}{8}, \quad y_3 = \frac{9}{4}, \end{aligned}$$

**4-misol.**  $\begin{cases} 9 \cdot 5^x + 7 \cdot 2^{x+y} = 457, \\ 6 \cdot 5^x - 14 \cdot 2^{x+y} = -890 \end{cases}$  sistemani yeching.

Yechish.  $5^x = a, 2^{x+y} = b$  desak,

$$\begin{cases} 9a + 7b = 457, \\ 6 \cdot a - 14b = -890 \end{cases} \Rightarrow \begin{cases} a = 1 \\ b = 64, \end{cases}$$

$$(5^x = 1) = (5^x = 5^0) = (x = 0); \quad 2^y = 64 = 2^6; \quad y = 6. \quad \text{J: } x=0, y=6.$$

**5-misol.**  $\begin{cases} \sqrt{x-y} \sqrt{x+y} = 2\sqrt{3} \\ (x+y) \cdot 2^{y-x} = 3 \end{cases}$  sistemani yeching.

Yechish.

$$\begin{cases} x + y = 2^{x-y} \cdot 3^{\frac{x-y}{2}} \\ x + y = 3 \cdot 2^{x-y} \end{cases} \Rightarrow (2^{x-y} \cdot 3^{\frac{x-y}{2}} = 3 \cdot 2^{x-y}) \Rightarrow (3^{\frac{x-y}{2}} = 3) \Rightarrow$$

$$\Rightarrow \left( \frac{x-y}{2} = 1 \right) \Rightarrow [(x-y) = 2] \Rightarrow (x = 2 + y).$$

$$\begin{cases} x + y = 3 \cdot 2^2 = 12, \\ x - y = 2 \end{cases} \Rightarrow (2x = 14) \Rightarrow (x = 7);$$

$$\begin{cases} y = x - 2 \Rightarrow y = 5. \\ x = 7. \end{cases}$$

$$J: x=7, y=5.$$

**6-misol.**  $\begin{cases} (\sqrt{3})^{x-y} = \left(\frac{1}{3}\right)^{x-2y} \\ \log_2(x+y) + \log_2(x-y) = 4 \end{cases}$ , sistemani yeching.

Yechish.

$$\begin{cases} 3^{\frac{x-y}{2}} = 3^{2y-x} \\ \log_2(x+y)(x-y) = 4 \end{cases} \Rightarrow \begin{cases} \frac{x-y}{2} = 2y-x, \\ (x+y)(x-y) = 16 \end{cases} \Rightarrow \begin{cases} x-y = 4y-2x, \\ x^2 - y^2 = 16 \end{cases} \Rightarrow$$

$$\Rightarrow \begin{cases} 3x = 5y \\ x^2 - y^2 = 16 \end{cases} \Rightarrow \begin{cases} x = \frac{5}{3}y, \\ x^2 - y^2 = 16 \end{cases} \Rightarrow \begin{cases} x = \frac{5}{3}y \\ \frac{25}{9}y^2 - y^2 = 16 \end{cases} \Rightarrow$$

$$\Rightarrow \begin{cases} x = \frac{5}{3}y \\ 16y^2 = 144 \end{cases} \Rightarrow \begin{cases} x = \frac{5}{3}y \\ y^2 = 9 \end{cases} \Rightarrow \begin{cases} x = \frac{5}{3}y \\ y_{1,2} = \pm 3. \end{cases}$$

$$j: x_1 = 5; y_1 = 3; x_2 = -5; y_2 = -3.$$

### MUSTAQIL YECHISH UCHUN MISOLLAR.

$$1. \begin{cases} 3^{x+y} + 3^x + 3^y = 7, \\ 3^{2x+y} + 3^{x+2y} = 12. \end{cases} \quad j: \begin{cases} x_1 = 0, & y_1 = 1, \\ x_2 = 1, & y_2 = 0, \end{cases}$$

$$2. \begin{cases} 2 \cdot 9^x + 9^x = 5^x \cdot 5^{-y}, \\ 2 \cdot 3^{x-y} - 5^{y-x} = 3 \cdot 9^x, \end{cases} \quad j: x = -\frac{1}{2}, \quad y = -\frac{1}{2}.$$

$$3. \begin{cases} (3x - y)^{x+y} = 4, \\ 48^{\frac{1}{x+y}} = 7x^2 - 18xy + 3y^2 \end{cases} \quad j: x = \frac{5}{4}, \quad y = -\frac{1}{4}.$$

$$4. \begin{cases} x \cdot 2^{x-y+1} + 3y \cdot 2^{2x+y} = 2, \\ 2x \cdot 2^{2x+y} + 3y \cdot 8^{x+y} = 1. \end{cases} \quad j: x = 1 \quad y = -1.$$

$$5. \begin{cases} \sqrt[y]{4^x} = 32\sqrt[3]{8^y}, \\ \sqrt[y]{3^x} = 3\sqrt[3]{9^{1-y}}. \end{cases} \quad j: \begin{cases} x_1 = -2, & y_1 = 4, \\ x_2 = \frac{3}{2}, & y_2 = \frac{1}{2}. \end{cases}$$

6.  $\begin{cases} \log_a x + \log_a y = 2, \\ \log_b x - \log_b y = 4. \end{cases} \quad j: x = ab^2, \quad y = \frac{a}{b^2}.$
7.  $\begin{cases} (1 + \log_x y) \log_2 x = 3 \\ \log_{\sqrt{y}}(y^4 x^2) - 0,5 \log_{\sqrt{x}} y^4 = 2. \end{cases} \quad j: \begin{matrix} x_1 = 2, & y_1 = 4, \\ x_2 = 2^{12}, & y_2 = 2^{-9}. \end{matrix}$
8.  $\begin{cases} x \cdot \log_2 \frac{1}{4} \cdot \log_{\frac{1}{x}} 4 = y \sqrt{y} (\log_x 4 - 2), \\ \log_y 4 \cdot \log_{\sqrt{2}} x = 2. \end{cases} \quad j: x = 2^{\frac{3}{5}}, \quad y = 2^{\frac{2}{5}}.$
9.  $\begin{cases} \log_2 xy + 4 \log_4 (x - y) = 5, \\ x^2 + y^2 = 20, \end{cases} \quad j: \begin{matrix} x_1 = 4, & y_1 = 2, \\ x_2 = 2, & y_2 = 4. \end{matrix}$
10.  $\begin{cases} \log_y x + \log_x y = 2, \\ x^2 - y = 20, \end{cases} \quad j: x = 5, \quad y = 5.$
11.  $\begin{cases} \log_{xy}(x + y) = 0 \\ \log_{xy}(y - x) = 1 \end{cases} \quad j: x = \frac{3 - \sqrt{5}}{2}, \quad y = \frac{-1 + \sqrt{5}}{2}.$
12.  $\begin{cases} \lg^2 \frac{x}{y} = 3 \lg^2 x - \lg^2 y, \\ \lg^2(y - 3x) - \lg x \cdot \lg y = 0. \end{cases} \quad j: \begin{matrix} x_1 = 1, & y_1 = 4, \\ x_2 = \frac{1}{2}, & y_2 = 2, \end{matrix}$
13.  $\begin{cases} \sqrt[10]{2^x} \cdot \sqrt[5]{2^y} = \sqrt[3]{128}, \\ \lg(x + y) = \lg 40 - \lg(x - y). \end{cases} \quad j: x = 7, \quad y = 3.$
14.  $\begin{cases} 3^x \cdot 2^y = 576, \\ \log_{\sqrt{2}}(y - x) = 4. \end{cases} \quad j: x = 2, \quad y = 6.$

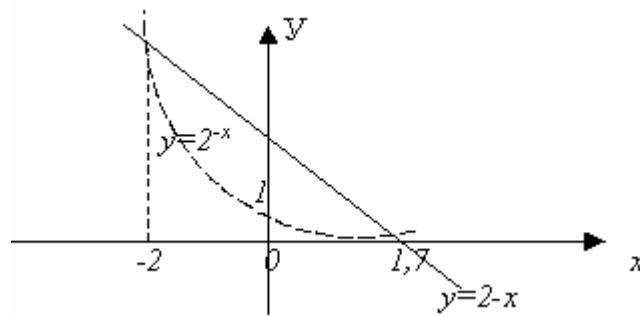
## 15-§. Ko‘rsatkichli va logarifmik tenglamalarni grafik usulda yechish.

**1-misol.**  $2^{x+1} - x \cdot 2^x - 1 = 0$  tenglama grafik usulda yechilsin.

Yechish. Tenglamaning chap tomonida berilgan  $y = 2^{x+1} - x \cdot 2^x - 1 = 0$  funksiyaning grafigini chizish murakkabdir, shuning uchun bu tenglamani quyidagacha yozib olamiz:  $2^{x+1} - x \cdot 2^x = 1$ .

Bu tenglamaning har ikki tomonini  $2^x \neq 0$  ga bo‘lamiz. natijada  $2 - x = 2^{-x}$  hosil bo‘ladi.  $y = 2 - x$  va  $y = 2^{-x}$  funksiyalarning grafiklarini (22-chizma) koordinata tekisligida chizsak, ularning kesishish nuqtalarining absissalari berilgan tenglamaning yechimi bo‘ladi.

$$J: x_1 = -2, \quad x_2 = 1, 7.$$



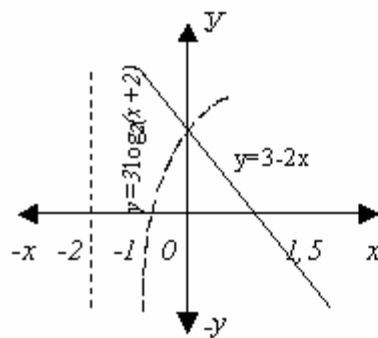
22-Chizma.

**2-misol.**  $3\log_2(x+2)+2x-3=0$  tenglama grafik usulda yechilsin.

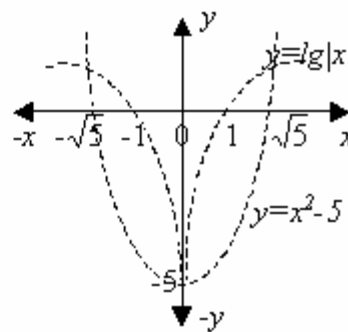
Yechish. Berilgan tenglamaning  $3\log_2(x+2)=3-2x$  ko‘rinishida yozib olib, tenglikning har ikki tomonida turgan  $y=3\log_3(x+2)$  va  $y=3-2x$  funksiyalarning grafiklarini koordinata tekisligida yasaymiz (23-chizma). Bu grafiklar kesishish nuqtasining absissasi berilgan tenglamaning yechimi bo‘ladi. J:  $x=0$ .

**3-misol.**  $\lg|x|-x^2-5=0$  tenglama grafik usulda yechilsin.

Yechish. Berilgan tenglamani quyidagicha yozib olamiz:  $\lg|x|=x^2-5$ .  $y=\lg|x|$  va  $y=x^2-5$  funksiyalarini koordinata tekisligida grafiklarini yasaymiz (24- chizma).



23-chizma.

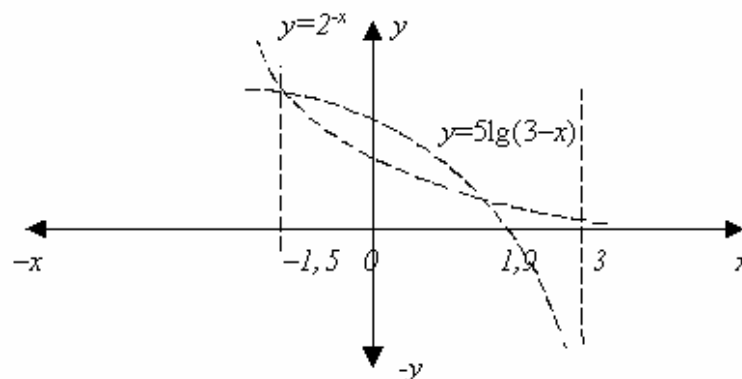


24-chizma.

Bu grafiklar kesishish nuqtalarining absissasi berilgan tenglamaning yechimi bo‘ladi.

$$J: x_1 = \sqrt{5}, x_2 = -\sqrt{5}.$$

**4 - misol.**  $2^{-x} - 5\lg(3-x) = 0$  tenglama grafik usulda yechilsin.



25-chizma.



Yechish. Berilgan tenglamani  $y=2^{-x}$  va  $y=5lg(3-x)$  ko‘rinishda yozib, ularning grafiklarini koordinata tekisligida yasaymiz. Bu grafiklar kesishish nuqtalarining absissasi berilgan tenglamaning yechimi bo‘ladi (25-chizma).

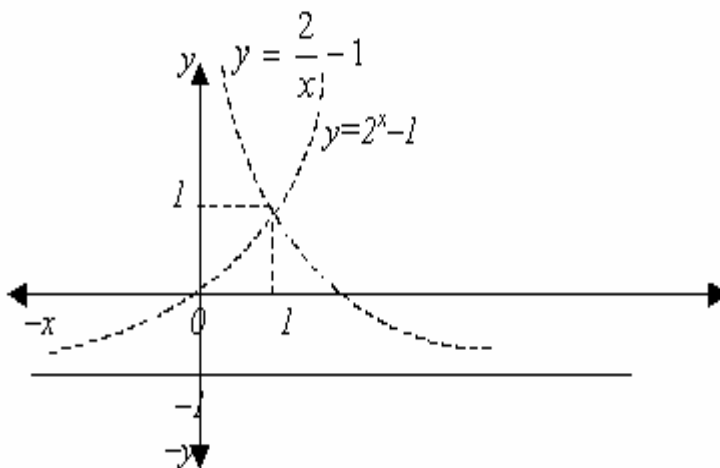
$$J: x_1=-1,5. x_2=1,9.$$

**5 - misol.**  $\begin{cases} xy+x-2=0, \\ x-\log_2(y+1)=0 \end{cases}$  tenglamalar sistemasi grafik usulda yechilsin.

Yechish. Berilgan tenglamalar sistemasini quyidagi ko‘rinishda yozib olamiz:

$$\begin{cases} xy=2-x, \\ \log_2(y+1)=x \end{cases} \Rightarrow \begin{cases} y=\frac{2-x}{x}, \\ y+1=2^x \end{cases} \Rightarrow \begin{cases} y=\frac{2}{x}-1, \\ y=2^x-1 \end{cases} \Rightarrow$$

$y = \frac{2}{x} - 1$  va  $2^x - 1$  funksiyalarning grafiklarini koordinata tekisligida chizamiz (26-chizma).



26-chizma.

Ularning kesishish nuqtalarining absissasi tenglamaning yechimi bo‘ladi.

$$J: x = 1, y = 1.$$

### 16-§. Trigonometrik tenglamalar.

1.  $\sin x = a$  tenglamada  $|a| \leq 1$  bo‘lsa, u  $x = (-1)^k \arcsin a + pk$ ,  $k \in \mathbb{Z}$  yechimga ega bo‘ladi. Xususiyl holda

a) agar  $\sin x = 0$  bo‘lsa,  $x = pk$ ,  $k \in \mathbb{Z}$ ;

b) agar  $\sin x = 1$  bo‘lsa,  $x = \frac{\pi}{2} + 2pk$ ,  $k \in \mathbb{Z}$ ;

v) agar  $\sin x = -1$  bo‘lsa,  $x = -\frac{\pi}{2} + 2pk$ ,  $k \in \mathbb{Z}$ ;

g) agar  $\sin^2 x = a$  bo'lsa,  $x = \pm \arcsin \sqrt{a} + pk, k \in Z$ ;

**Misol.**  $2\sin\left(\frac{p}{4} + x\right) + \sqrt{3} = 0$  tenglama yechilsin.

Yechish:

$$\left[2\sin\left(\frac{p}{4} + x\right) + \sqrt{3} = 0\right] \Leftrightarrow \left[\sin\left(\frac{p}{4} + x\right) = -\frac{\sqrt{3}}{2}\right] \Leftrightarrow$$

$$\Leftrightarrow \left[\frac{p}{4} + x = (-1)^k \arcsin\left(-\frac{\sqrt{3}}{2}\right) + pk\right] \Leftrightarrow$$

$$\Leftrightarrow \left[\frac{p}{4} + x = (-1)^k \left(-\frac{p}{3}\right) + pk\right] \Leftrightarrow$$

$$\Leftrightarrow (x = (-1)^{k+1} \cdot \frac{p}{3} - \frac{p}{4} + pk), \quad k \in Z$$

2.  $\cos x = a$  tenglamada  $|a| \leq 1$  bo'lsa, u  $x = \pm \arccos a + 2pk, k \in Z$ ; yechimga ega bo'ladi. Xususiyl holda:

a) agar  $\cos x = 0$  bo'lsa,  $x = \frac{p}{2} + pk, k \in Z$ ;

b) agar  $\cos x = 1$  bo'lsa,  $x = 2pk, k \in Z$ ;

v) agar  $\cos x = -1$  bo'lsa,  $x = p + 2pk, k \in Z$ ;

g) agar  $\cos^2 x = a$  bo'lsa,  $x = \pm \arccos \sqrt{a} + pk, k \in Z$ ;

**Misol.**  $\cos\left(\frac{2}{3}x - \frac{1}{2}\right) - 1 = 0$  tenglama yechilsin.

Yechish.

$$\left[\cos\left(\frac{2}{3}x - \frac{1}{2}\right) - 1 = 0\right] \Leftrightarrow \left[\left(\frac{2}{3}x - \frac{1}{2}\right) = \frac{pk}{2}\right] \Leftrightarrow$$

$$\Leftrightarrow \left(\frac{2}{3}x = \frac{1}{2} + \frac{pk}{2}\right) \Leftrightarrow \left(x = \frac{3}{4} + \frac{3pk}{2}\right), \quad k \in Z.$$

3.  $tg x = a$  tenglama  $x = \arctg a + pk, k \in Z$  yechimga ega bo'ladi. Xususiyl holda

a) agar  $tg x = 0$  bo'lsa,  $x = pk, k \in Z$ ;

b) agar  $tg x = 1$  bo'lsa,  $x = \frac{p}{4} + pk, k \in Z$ ;

v) agar  $tg x = -1$  bo'lsa,  $x = -\frac{p}{4} + pk, k \in Z$ ;

g) agar  $tg^2 x = a$  bo'lsa,  $x = \pm \arctg \sqrt{a} + pk, k \in Z$ .

**Misol.**  $3tg^2 3x - 1 = 0$  tenglama yechilsin.

Yechish.

$$\left( \operatorname{tg}^2 3x = \frac{1}{3} \right) \Leftrightarrow \left( 3x = \pm \operatorname{arctg} \frac{1}{\sqrt{3}} + kp \right) \Leftrightarrow$$

$$\Leftrightarrow \left( 3x = \pm \frac{p}{6} + kp \right) \Leftrightarrow \left( x = \pm \frac{p}{18} + \frac{p}{3}k \right) \Leftrightarrow \left( x = \frac{p}{18}(6k+1) \right)$$

4.  $\operatorname{ctg} x = a$  tenglama  $x = \operatorname{arccotg} a + pk, k \in Z$  yechimga ega bo'ladi.

a) agar  $\operatorname{ctg} x = 0$  bo'lsa,  $x = \frac{p}{2}pk, k \in Z$ ;

b) agar  $\operatorname{ctg} x = 1$  bo'lsa,  $x = \frac{p}{4} + pk, k \in Z$ ;

v) agar  $\operatorname{ctg} x = -1$  bo'lsa,  $x = -\frac{p}{4} + pk, k \in Z$ ;

g) agar  $\operatorname{ctg}^2 x = a$  bo'lsa,  $x = \pm \operatorname{arccotg} \sqrt{a} + pk, k \in Z$ .

**Misol.**  $\operatorname{ctg}^2 \left[ 2x - \frac{p}{3} \right] = 3$  tenglama yechilsin.

Yechish.

$$\left[ \operatorname{ctg}^2 \left( 2x - \frac{p}{3} \right) = 3 \right] \Leftrightarrow \left[ \operatorname{ctg} \left( 2x - \frac{p}{3} \right) = \pm \sqrt{3} \right] \Leftrightarrow$$

$$\Leftrightarrow \left[ \left( 2x - \frac{p}{3} = \pm \operatorname{arccotg} \sqrt{3} + pk \right) \right] \Leftrightarrow \left( 2x = \pm \frac{p}{6} + \frac{p}{3} + pk \right) \Leftrightarrow$$

$$\Leftrightarrow \left( x = \pm \frac{p}{12} + \frac{p}{6} + \frac{pk}{2} \right) \quad k \in z.$$

Matematika kursida har qanday trigonometrik tenglamalar ayniy almashtirishlarni bajarish orqali sodalashtirib,  $\sin x = a, \cos x = a, \operatorname{tg} x = a, \operatorname{ctg} x = a$  ko'rinishdagi eng sodda trigonometrik tenglamalarga keltiriladi.

Trigonometrik tenglamalar quyidagi metodlar yordamida yechiladi.

1. Ko'paytuvchilarga keltirish usuli.

**1 - misol.**  $\sin 2x = \cos 2x \sin 2x$  tenglama yechilsin.

Yechish.  $\sin 2x - \cos 2x \sin 2x = 0, \sin 2x(1 - \cos x) = 0$

1) Agar  $1 - \cos x \neq 0$  bo'lib,  $\sin 2x = 0$  bo'lsa,  $x = \frac{p}{2}n, n \in Z$  bo'ladi.

2) Agar  $\sin 2x \neq 0$  bo'lib,  $1 - \cos x = 0$  bo'lsa,  $\cos x = 1, x = 2pn, n \in Z$  bo'ladi.

**2 - misol.**  $\sin 3x - \sin x = 0$  tenglama yechilsin.

Yechish.  $\sin 3x - \sin x = 2 \sin x \cos 2x = 0$

1) Agar  $\cos 2x \neq 0$  bo'lib,  $\sin x = 0$  bo'lsa,  $x = pn, n \in Z$

2) Agar  $\sin x \neq 0$  bo'lib,  $\cos 2x = 0$  bo'lsa,  $x = \frac{p}{4} + \frac{np}{2}, n \in Z$  bo'ladi.

**3-misol.**  $\cos^2 x + \cos^2 2x + \cos^2 3x = 1,5$  tenglama yechilsin.

Yechish.  $\cos^2 x = \frac{1 + \cos 2x}{2}$  formulaga ko'ra

$$\left( \frac{1 + \cos 2x}{2} + \frac{1 + \cos 4x}{2} + \frac{1 + \cos 6x}{2} = \frac{3}{2} \right) \Leftrightarrow$$

$$\Leftrightarrow (\cos 2x + \cos 4x + \cos 6x = 0) \Leftrightarrow [(\cos 2x + \cos 6x) + \cos 4x = 0] \Leftrightarrow$$

$$\Leftrightarrow [2\cos 4x \cos 2x + \cos 4x = 0] \Leftrightarrow \cos 4x (\cos 2x + 1) = 0.$$

1) Agar  $2\cos 2x + 1 \neq 0$  bo'lib,  $\cos 4x = 0$  bo'lsa,  $x = \frac{p}{8} + \frac{np}{4}$ ,  $n \in \mathbb{Z}$ ;

2) Agar  $\cos 4x \neq 0$  bo'lib,  $2\cos 2x + 1 = 0$  bo'lsa,  $\cos 2x = -\frac{1}{2}$ ,  $2x = -\frac{2p}{3} + 2pn$ ;

$$x = -\frac{p}{3} + pn; \quad n \in \mathbb{Z}.$$

II. O'zgaruvchilarni kiritish usuli.

**1 - m i s o l.**  $2\cos^2 x = 3 \sin x$  tenglama yechilsin.

Yechish.  $(2\cos^2 x - 3 \sin x = 0) \hat{U} (3 \sin x - 2(1 - \sin^2 x) = 0)$

$$\hat{U} (3 \sin x - 2 + 2 \sin^2 x = 0).$$

Agar  $\sin x = y$  desak,

$$2y^2 + 3y - 2 = 0, \quad y_1 = \frac{1}{2}, \quad y_2 = -2.$$

$$\left( \sin x = \frac{1}{2} \right) \Leftrightarrow \left( x = \frac{p}{6} + 2kp \right) \quad k \in \mathbb{Z}.$$

**2 - m i s o l.**  $\cos 2x - 5 \sin x - 3 = 0$  tenglama yechilsin.

Yechish.  $\cos 2x = 1 - 2\sin^2 x$  formulaga ko'ra  $(1 - 2\sin^2 x - 5\sin x - 3 = 0) \hat{U}$

$$(2\sin^2 x + 5\sin x + 2 = 0) \hat{U} \sin x = y \text{ desak, } 2y^2 + 5y + 2 = 0, \quad y_1 = -2, \quad y_2 = -\frac{1}{2}.$$

1)  $\sin x = -2$  tenglama yechimga ega emas.

$$2) \left( \sin x = -\frac{1}{2} \right) \Leftrightarrow \left( x = (-1)^k \arcsin\left(-\frac{1}{2}\right) + pk \right) \quad k \in \mathbb{Z};$$

$$x = (-1)^{k+1} \frac{p}{6} + pk, \quad k \in \mathbb{Z}.$$

III. Bir jinsli tenglamalarni yechish.

**1-misol.**  $2\sin^2 x - \sin x \cos x - \cos^2 x = 0$  tenglamani yeching.

Yechish. Bu tenglama sinus va kosinus funksiyalariga nisbatan bir jinslidir.

Tenglamalarning har ikki tomonini  $\cos^2 x \neq 0$  ga bo'lsak,

$$2tg^2 x - tg x - 1 = 0 \text{ hosil bo'ladi. Bundan } tg x = 1 \text{ va } tg x = -\frac{1}{2}.$$

1) Agar  $\operatorname{tg}x=1$  bo'lsa,  $x=\frac{p}{4}+pk, k \in Z;$

2) Agar  $\operatorname{tg}x=-\frac{1}{2}$  bo'lsa,  $x=-\operatorname{arctg}\frac{1}{2}+pk, k \in Z$  bo'ladi.

**2-misol.**  $\cos^2x+3\sin^2x+2\sqrt{3}\sin x\cos x=3$  tenglamani yeching.

Yechish. Bu tenglamani ayniy almashtirishlar bajarish orqali bir jinsli ko'rinishga keltiramiz.

$$\cos^2x+3\sin^2x+2\sqrt{3}\sin x\cos x=3(\sin^2x+\cos^2x),$$

$$\cos^2x+3\sin^2x+2\sqrt{3}\sin x\cos x-3\sin^2x-3\cos^2x=0$$

$$2\cos^2x-2\sqrt{3}\sin x\cos x=0,$$

$$2\cos x(\cos x-\sqrt{3}\sin x)=0.$$

1) Agar  $\cos x-\sqrt{3}\sin x \neq 0$  bo'lib,  $\cos x=0$  bo'lsa,  $x=\frac{p}{2}+kp, k \in Z;$

2) Agar  $\cos x \neq 0$  bo'lib,  $\cos x-\sqrt{3}\sin x=0$  bo'lsa,  $\operatorname{tg}x=\frac{1}{\sqrt{3}}, x=\frac{p}{6}+kp, k \in Z;$

IV.  $a\sin x+b\cos x=c$  ko'rinishdagi tenglamani yeching.

**1-usul.** Bu tenglamani yechish uchun  $\operatorname{tg}\frac{x}{2}=t$  almashtirish bajaramiz. Bizga

ma'lumki,  $\sin x = \frac{2\operatorname{tg}\frac{x}{2}}{1+\operatorname{tg}^2\frac{x}{2}}, \cos x = \frac{1-\operatorname{tg}^2\frac{x}{2}}{1+\operatorname{tg}^2\frac{x}{2}}$ , edi, shunga ko'ra berilgan tenglama

quyidagi ko'rinishni oladi:

$$\frac{2at}{1+t^2} + \frac{b(1-t^2)}{1+t^2} = c,$$

$$2at+b-bt^2=c+ct^2, \quad (b+c)t^2-2at+(c-b)=0,$$

$$t = \frac{a \pm \sqrt{a^2+b^2-c^2}}{c+b},$$

$$x = 2\operatorname{arctg}\frac{a \pm \sqrt{a^2+b^2-c^2}}{c+b} + 2kp, k \in Z, \quad a^2+b^2 \geq c^2 \text{ va } b \neq -c.$$

Agar  $b=-c$  bo'lsa, kvadrat tenglama chiziqli tenglamaga almashadi:

$$2at+2b=0, \quad t = -\frac{b}{a}, \quad x = -2\operatorname{arctg}\frac{b}{a} + 2kp, k \in Z.$$

**2-usul.** Tenglamani har ikkala tomonini  $\sqrt{a^2+b^2}$  ga bo'lamiz:

$$\frac{a}{\sqrt{a^2+b^2}} \sin x + \frac{b}{\sqrt{a^2+b^2}} \cos x = \frac{c}{\sqrt{a^2+b^2}}$$

$$\left(\frac{a}{\sqrt{a^2+b^2}}\right)^2 + \left(\frac{b}{\sqrt{a^2+b^2}}\right)^2 = 1 \quad \text{ba} \quad \left|\frac{a}{\sqrt{a^2+b^2}}\right| \leq 1, \quad \left|\frac{b}{\sqrt{a^2+b^2}}\right| \leq 1$$

Agar  $\frac{a}{\sqrt{a^2+b^2}} = \cos j$  va  $\frac{b}{\sqrt{a^2+b^2}} = \sin j$  desak, berilgan tenglama

$$\sin x \cos j + \cos x \sin j = \frac{c}{\sqrt{a^2+b^2}} \quad \text{ko'rinishni oladi, bundan} \quad \sin(x+j) = \frac{c}{\sqrt{a^2+b^2}}$$

bo'ladi.  $j = \arctg \frac{b}{a}$ ; agar  $a^2+b^2 \geq c^2$  bo'lsa,

$$x = (-1)^k \arcsin \frac{c}{\sqrt{a^2+b^2}} + pk - \arctg \frac{b}{a}, \quad k \in \mathbb{Z}.$$

**1-misol.**  $3\cos x + 4\sin x = 5$  tenglama yechilsin.

Yechish.  $\sqrt{3^2+4^2} = \sqrt{25}$  bo'lgani uchun tenglamaning har ikki tomonini 5 ga

bo'lamiz:  $\frac{3}{5}\cos x + \frac{4}{5}\sin x = 1$ ,  $\left(\frac{3}{5}\right)^2 + \left(\frac{4}{5}\right)^2 = 1$ , shuning uchun  $\frac{3}{5} = \sin j$  va  $\frac{4}{5} = \cos j$

bo'ladi, bundan  $\sin j \cos x + \cos j \sin x = 1$  tenglamani hosil qilamiz yoki  $\sin(x+j) = 1$  bo'ladi:

$$x+j = \frac{\pi}{2} + 2kp, \quad x = \frac{\pi}{2} + 2kp - j, \quad k \in \mathbb{Z},$$

$$j = \arcsin \frac{3}{5}, \quad x = \frac{\pi}{2} - \arcsin \frac{3}{5} + 2kp, \quad k \in \mathbb{Z}.$$

**2-usul.** Agar  $\sin x = \frac{2tg \frac{x}{2}}{1+tg^2 \frac{x}{2}}$ , va  $\cos x = \frac{1-tg^2 \frac{x}{2}}{1+tg^2 \frac{x}{2}}$ , ekanligini nazarda tutib,

$$tg \frac{x}{2} = y \quad \text{desak,} \quad 3 \cdot \frac{1-y^2}{1+y^2} + 4 \cdot \frac{2y}{1+y^2} = 5, \quad \text{yoki} \quad 3-3y^2+8y=5+5y^2 \quad \text{yoki} \quad 4y^2-4y+1=0$$

bundan  $y = \frac{1}{2}$  yechim hosil bo'ladi:

$$\left(tg \frac{x}{2} = \frac{1}{2}\right) \Leftrightarrow \left(\frac{x}{2} = \arctg \frac{1}{2} + pk\right)$$

$$x = 2\arctg \frac{1}{2} + 2pk, \quad k \in \mathbb{Z}.$$

## MUSTAQIL YECHISH UCHUN MISOLAR.

Trigonometrik tenglamalarni yeching.

1.  $tgx + \sin xtgx = 0$   $j: np$
2.  $2 \sin x - 3 \cos x = 6$ .  $j: x \in \emptyset$ .
3.  $\sin^2 x - (1 + \sqrt{3}) \sin x \cos x + \sqrt{3} \cos^2 x = 0$ .  $j: \frac{p}{4} + np, \arctg 3 + np$
4.  $\sin^2 x - 4 \sin x \cos x + 3 \cos^2 x = 0$ .  $j: \frac{p}{4} + np, \arctg 3 + np$ .
5.  $\sqrt{3} \sin^2 x - 4 \sin x \cos x + \sqrt{3} \cos^2 x = 0$ .  $j: \frac{p}{3} + np, \frac{p}{6} + kp$ .
6.  $\sin^2 x + 3 \cos^2 x - 2 \sin x \cos x = \frac{-5 - \sqrt{3}}{2}$ .  $j: \frac{p}{6} + kp$
7.  $7 \cos^2 x - 7 \sin 2x = 2$ .  $j: x = \arctg \frac{-7 \pm \sqrt{53}}{2}$ .
8.  $\frac{2}{3\sqrt{2} \sin x - 1} = 1$ .  $j: x = (-1)^k \cdot \frac{p}{4} + kp, k \in \mathbb{Z}$ .
9.  $\frac{6}{tgx - 2} = 3 - tgx$   $j: kp, \frac{p}{4} + kp$
10.  $(1 - 2 \sin x) \sin x = 2 \cos 2x - 1$   $j: x = 2kp - \frac{p}{2}$
11.  $\sin^4 x + \cos^4 x - 2 \sin 2x + \sin^2 2x = 0$   $j: x = \frac{(-1)^k}{2} \arcsin(2 - \sqrt{2}) + \frac{kp}{2}$
12.  $\sin^3 x \cos x - \cos^3 x \sin x = \cos^4 \frac{x}{3}$   $j: x = \frac{1}{4} \left[ (-1)^{k+1} \arcsin \frac{1}{4} + kp \right]$ .
13.  $\sin^4 x + \cos^4 x = \cos 4x$   $j: \frac{p}{2}n$ .
14.  $tg(40^\circ + x)ctg(5^\circ - x) = \frac{2}{3}$   $j: x = \frac{1}{2} \left[ pk - 35^\circ + (-1)^{k+1} \arcsin \frac{\sqrt{2}}{10} \right]$
15.  $(\sin x + \cos x) \sqrt{2} = tgx + ctgx$   $j: x = 2kp + \frac{p}{4}$
16.  $\sin 3x \sin^3 x + \cos 3x \cos^3 x = \frac{1}{8}$   $j: x = pk \pm \frac{p}{6}$
17.  $\sin x + \sin 3x + \sin 7x = 3$   $j: x = \pi$
18.  $tg 7x + tg 3x = 0$   $j: x = pk$
19.  $1 + \sin x + \cos x = 0$   $j: x_1 = 2pk - \frac{p}{2}, x_2 = p(2p + 1)$
20.  $\sin^{10} x + \cos^{10} x = \frac{29}{16} \cos^4 2x$   $j: x = \frac{2k + 1}{8} p$
21.  $\left| tgx + ctgx \right| = \frac{4}{\sqrt{3}}$   $j: x = \frac{pk}{2} \pm \frac{p}{6}$
22.  $13 \sin x - 12 \cos x + 13 \sin 3x = 0$   $j: x = \frac{pk}{2}$

23.  $1+2\cos 2x+2\cos 4x+2\cos 6x=0$   $j: x=\frac{pk}{7}$
24.  $\cos^4 x+\cos^4\left(x-\frac{p}{4}\right)=\frac{1}{4}$   $j: x=\frac{p}{2}(2k+1).$
25.  $2\sin 2x+\sin x+\cos x=1$   $j: x_1=2kp, x_2=2kp+\frac{p}{2}$
26.  $3\sin x+\sin\left(x+\frac{3p}{2}\right)=1-3\sin x\cos x$   $j: (2k+1)p, k\in\mathbb{Z}$
27.  $3-\cos^2 x-3\sin x=0$   $j: \frac{p}{2}+2kp, k\in\mathbb{Z}$
28.  $\cos^3 x+4\sin^2\frac{x}{2}\times\cos^2\frac{x}{2}\cos x=0$   $j: \frac{p}{2}+2kp$
29.  $\cos^2 2x-\sin^2 2x=-\frac{1}{2}$   $j: \pm\frac{p}{6}+\frac{p}{2}k$
30.  $\sin^3 x+2\sin\frac{x}{2}\cos\frac{x}{2}=0$   $j: pk$
31.  $\sin^2 x\cos\frac{x}{2}-\frac{1}{2}\sin 2x\sin\frac{x}{2}=0$   $j: pk$
32.  $2\tg 2x\sin\frac{x}{2}\cos\frac{x}{2}\sin x+\tg 2x=0$   $j: \frac{1}{2}pk$
33.  $\frac{4\tg\frac{3x}{2}}{1-\tg^2\frac{3x}{2}}-\tg 3x=-\frac{\sqrt{3}}{3}$   $j: -\frac{p}{18}+\frac{p}{3}k$
34.  $\frac{2\tg x}{1-\tg^2 x}+2\tg 2x=3$   $j: \frac{p}{8}+\frac{p}{2}k$
35.  $4\sin^4 x+\sin^2 2x=2$   $j: \frac{p}{4}(2k+1)$
36.  $\tg\left(x+\frac{p}{4}\right)+\tg\left(x-\frac{p}{4}\right)=2$   $j: \frac{p}{8}+\frac{p}{2}k$
37.  $\frac{1}{2}(\sin^4 x+\cos^4 x)=\sin x\cos x-\sin^2 x\cos^2 x$   $j: \frac{p}{4}+\pi k$
38.  $4\sin x+\sin 2x=0$   $j: pk$
39.  $\cos 2x+2\cos^2 x=\frac{5}{4}$   $j: \pm\arccos\frac{3}{4}+2pk$
40.  $0,5+\cos x=\cos^2\frac{x}{2}$   $j: \pm\frac{p}{2}+2pk$
41.  $\sin x+\cos x\tg\frac{x}{2}=-\sqrt{3}$   $j: \frac{5p}{3}+2pk$
42.  $\left(\sin\frac{x}{2}-\cos\frac{x}{2}\right)^2-\sin x=0$   $j: (-1)^k\frac{p}{6}+pk$



## 17-§. Parametrli trigonometrik tenglamalarni yechish.

Parametrli trigonometrik tenglamani yechish parametrlarning mumkin bo'lgan har bir qiymatlari sistemasi uchun berilgan tenglamaning hamma yechimlari to'plamini aniqlash demakdir. Parametrik ko'rinishdagi trigonometrik tenglamalarni yechish quyidagi ketma-ketliklar asosida amalga oshiriladi.

1. Parametrlarning mumkin bo'lgan har bir qiymatlari sistemasi uchun yechimlar sonini aniqlash.
2. Hosil qilingan parametrli yechim formulalarini topish.
3. Tenglamani parametrlar asosidagi qiymatlar sistemasini aniqlash.

**1-misol.**  $\sin(a+x)+\sin x=\cos\frac{a}{2}$  tenglama yechilsin.

Yechish. Berilgan tenglamaning chap tomonida turgan ifodaga trigonometrik funksiyalar yig'indisini ko'paytmaga keltirish formulasini tadbiiq qilsak, u quyidagi ko'rinishni oladi:

$$2\sin\left(\frac{a}{2}+x\right)\cos\frac{a}{2}=\cos\frac{a}{2}.$$

Bu tenglamada quyidagi ikki hol bo'lishi mumkin.

1. Agar  $\cos\frac{a}{2}\neq 0$ ,  $a\neq(2n+1)p$  bo'lsa, u holda tenglamani quyidagicha yozish mumkin:

$$2\sin\left(\frac{a}{2}+x\right)=1,$$

$$x=-\frac{a}{2}+(-1)^k\frac{p}{6}+kp, \quad k\in Z.$$

2. Agar  $a=(2n+1)p$  bo'lsa, u holda  $\cos\frac{a}{2}=0$  bo'ladi. Bu holda ham tenglik o'rinli bo'ladi:

$$J: x=\begin{cases} -\frac{a}{2}+(-1)^k\frac{p}{6}+kp, & a\neq(2n+1)p, \\ -\text{ixtiyoriy son}, & a=(2n+1)p \end{cases}$$

**2-misol.**  $\sin^2x+a\sin^22x=\sin\frac{p}{6}$  tenglama yechilsin.

Yechish.  $\frac{1-\cos 2x}{2}+a(1-\cos^2 2x)=\frac{1}{2},$

$$1-\cos 2x+2a-2a\cos^2 2x=1,$$

$$2a\cos^2 2x+\cos 2x-2a=0,$$

$$(\cos 2x)_1 = \frac{-1 + \sqrt{1 + 16a^2}}{4a}; \quad (\cos 2x)_2 = \frac{-1 - \sqrt{1 + 16a^2}}{4a}$$

$$a) \quad \cos 2x = \frac{-1 + \sqrt{1 + 16a^2}}{4a}, \quad 1 + 16a^2 > 0, \quad \left| \frac{-1 + \sqrt{1 + 16a^2}}{4a} \right| \leq 1,$$

$$-1 + \sqrt{1 + 16a^2} \leq 4a,$$

$$1 + 16a^2 \leq 4a^2 + 8a + 1,$$

$$12a^2 - 8a \leq 0; \quad a(12a - 8) \leq 0$$

$$1) \quad a = 0, \quad 12a - 8 \neq 0,$$

$$2) \quad a \neq 0, \quad 12a - 8 = 0, \quad a = \frac{2}{3}, \quad \text{bundan } a \leq \frac{2}{3} \text{ bo'ladi.}$$

$$b) \quad \cos 2x = \frac{-1 - \sqrt{1 + 16a^2}}{4a}; \quad \left| \frac{-1 - \sqrt{1 + 16a^2}}{4a} \right| \leq 1,$$

tengsizlik  $a$  ning hech qanday qiymatlarida bajarilmaydi. Agar  $a = 0$  bo'lsa

$$\left[ \sin^2 x = \frac{1}{2} \right] \Rightarrow x_{1,2} = \pm \frac{\pi}{4} + k\pi, \quad k \in \mathbb{Z}.$$

$$J: \quad a \neq 0 \text{ da } x_{1,2} = \pi k \pm \frac{1}{2} \arccos \left[ \frac{-1 + \sqrt{1 + 16a^2}}{4a} \right].$$

$$a = 0 \text{ da } x_{3,4} = \pm \frac{\pi}{4} + k\pi, \quad k \in \mathbb{Z}.$$

**3-misol.**  $\cos x + \sin x = a$  tenglama yechilsin.

Yechish.  $\cos x + \sin x = \sqrt{2} \cos \left[ x - \frac{\pi}{4} \right]$ ; agar  $|a| \leq \sqrt{2}$  bo'lsa, bu tenglama

yechimga ega bo'ladi. Agar  $|a| \leq \sqrt{2}$  bo'lsa,  $x = \frac{\pi}{4} \pm \arccos \frac{a}{\sqrt{2}} + 2k\pi$ , agar  $|a| > \sqrt{2}$

bo'lsa, yechim yo'q.

**4-misol.**  $\sin 2x + 3 \cos 2x = a$  tenglama yechilsin.

Yechish.  $2 \sin x \cdot \cos x + 3 \cos^2 x - 3 \sin^2 x = a$ ,

$$2 \operatorname{tg} x + 3 - 3 \operatorname{tg}^2 x = a(1 + \operatorname{tg}^2 x),$$

$$\operatorname{tg}^2 x (a + 3) - 2 \operatorname{tg} x + (a - 3) = 0,$$

$$[\operatorname{tg} x]_{1,2} = \frac{1 \pm \sqrt{10 - a^2}}{a + 3}.$$

Agar  $|a| \leq \sqrt{10}$  bo'lsa,  $x_1 = \operatorname{arctg} \frac{1 \pm \sqrt{10 - a^2}}{a + 3} + k\pi$ ,  $k \in \mathbb{Z}$ . Agar  $a = -3$  bo'lsa,

$\sin 2x + 3 \cos 2x = -3$  bo'ladi.

$$2 \sin x \cos x + 3 \cos^2 x + 3 \cos^2 x - 3 = -3,$$

$$2\sin x \cos x + 6\cos^2 x = 0,$$

$$\cos x (\sin x + 3\cos x) = 0,$$

$$1) \cos x = 0, \sin x + 3\cos x \neq 0, x_1 = \frac{\pi}{2} + k\pi, k \in \mathbb{Z};$$

$$2) \cos x \neq 0, \sin x + 3\cos x = 0, x_2 = \arctg(-3) + k\pi, k \in \mathbb{Z}.$$

J: Agar  $|a| \leq \sqrt{10}$  ( $a \neq -3$ ) bo'lsa,  $x = \arctg \frac{1 \pm \sqrt{10 - a^2}}{a + 3} + k\pi, k \in \mathbb{Z}$ , agar ( $a \neq -3$ )

bo'lsa,  $x = \frac{\pi}{2} + k\pi, k \in \mathbb{Z}$ ; agar  $|a| > \sqrt{10}$  bo'lsa, tenglama yechimga ega emas.

**5-misol.**  $\sin^6 x + \cos^6 x = a(\sin^4 x + \cos^4 x)$  tenglama yechilsin.

$$\text{Yechish. } \sin^4 x + \cos^4 x = (\sin^2 x + \cos^2 x)^2 - 2\sin^2 x \cos^2 x = 1 - 2\sin^2 x \cos^2 x,$$

$$\sin^6 x + \cos^6 x = (\sin^2 x + \cos^2 x)^3 - 3\sin^4 x \cos^2 x - 3\sin^2 x \cos^4 x = 1 - 3\sin^2 x \cos^2 x,$$

$$1 - 3\sin^2 x \cos^2 x = a(1 - 2\sin^2 x \cos^2 x), \quad 1 - 3\sin^2 x \cos^2 x = a - 2a\sin^2 x \cos^2 x,$$

$$\sin^2 x \cos^2 x = \frac{a-1}{2a-3}, \quad \sin^2 2x = 4 \cdot \frac{a-1}{2a-3}.$$

Agar bu yerda  $0 \leq 4 \cdot \frac{a-1}{2a-3} \leq 1$  bo'lsa, tenglama ma'noga ega bo'ladi. Bu

tengsizlikni yechsak,  $\frac{1}{2} \leq a \leq 1$  bo'ladi. Agar  $a = \frac{3}{2}$  bo'lsa,  $1 - 3\sin^2 x \cos^2 x = \frac{3}{2} -$

$3\sin^2 x \cos^2 x$  hosil bo'ladi, bundan  $1 = \frac{3}{2}$  tenglik hosil bo'ladi, buning bo'lishi

mumkin emas.

$$\text{Agar } \frac{1}{2} \leq a \leq 1 \text{ bo'lsa, } x = \pm \frac{1}{2} \arcsin \left[ 2\sqrt{\frac{a-1}{2a-3}} \right] + \frac{k\pi}{2}$$

Agar  $a < \frac{1}{2}$  va  $a > 1$  bo'lsa, yechim yo'q.

**6-misol.**  $\sin \frac{3x}{2} + \sin x = m \sin \frac{x}{2}$  tenglama yechilsin.

$$\text{Yechish. } \sin \left[ x + \frac{x}{2} \right] = \sin x \cos \frac{x}{2} + \cos x \sin \frac{x}{2}, \text{ bunga ko'ra}$$

$$\sin x + \sin x \cos \frac{x}{2} + \cos x \sin \frac{x}{2} - m \sin \frac{x}{2} = 0,$$

$$\sin x \left[ 1 + \cos \frac{x}{2} \right] + \sin \frac{x}{2} (\cos x - m) = 0.$$

$$\sin \frac{x}{2} \left[ 2\cos \frac{x}{2} + 4\cos^2 \frac{x}{2} - 1 - m \right] = 0,$$

$$1) \sin \frac{x}{2} = 0, \quad x = 2k\pi, \quad k \in \mathbb{Z};$$

$$2) \quad 4\cos^2 \frac{x}{2} + 2\cos \frac{x}{2} - (1+m) = 0,$$

$$\cos \frac{x}{2} = \frac{-1 \pm \sqrt{5+m \cdot 4}}{4}.$$

a)  $\cos \frac{x}{2} = \frac{-1 \pm \sqrt{5+m \cdot 4}}{4}$ , bu yerda quyidagi shartlar bajarilishi kerak:

$$\begin{cases} 5+4m \geq 0, \\ \left| \frac{-1 \pm \sqrt{5+4m}}{4} \right| \leq 1, \end{cases}$$

Bu tengsizliklarni yechsak,  $-\frac{5}{4} \leq m \leq 5$  hosil bo'ladi. Bu shartga ko'ra

$$x = \pm 2 \arccos \frac{-1 \pm \sqrt{5+4m}}{4} + 4kp, \quad k \in Z;$$

$$b) \quad \cos \frac{x}{2} = \frac{-1 - \sqrt{5+4m}}{4}.$$

Buni yechsak,  $x = \pm 2 \arccos \frac{-1 \pm \sqrt{5+4m}}{4} + 4kp, \quad k \in Z, \quad -\frac{5}{4} \leq m \leq 1.$

J: Agar  $-\frac{5}{4} \leq m \leq 1$ . bo'lsa,  $x_1 = 2kp, \quad k \in Z$

$$x_{2,3} = \pm 2 \arccos \frac{-1 \pm \sqrt{5+4m}}{4} + 4kp, \quad k \in Z, \quad \text{Agar } 1 \leq m \leq 5 \text{ bo'lsa, } x_1 = 2kp, \quad k \in Z$$

$$x_2 = \pm 2 \arccos \frac{-1 + \sqrt{5+4m}}{4} + 4kp, \quad k \in Z,$$

Agar  $m > 5, \quad m < -\frac{5}{4}$  bo'lsa,  $x = 2kp, \quad k \in Z$ .

**7-misol.**  $a \sin 2x + b \sin \left[ 2x - \frac{p}{2} \right] + \sqrt{a^2 + b^2} \sin 6x = 0$  tenglamani yeching.

Yechish. Bizga ma'lumki,  $a \sin x + b \cos x = A \sin(x+j)$ .

Bu yerda  $A = \sqrt{a^2 + b^2}$  burchakning qiymati esa quyidagi shartlardan kelib chiqadi:  $\sin j = \frac{b}{A}, \quad \cos j = \frac{a}{A}, \quad j = \arctg \frac{b}{a}$ . Shuning uchun  $\sin(2x-j) - \sin 6x = 0$ ,

$$\sin \frac{4x+j}{2} \cos \frac{8x-j}{2} = 0;$$

$$a) \quad \sin \frac{4x+j}{2} = 0, \quad 4x+j = (-1)^k \arcsin 0 + 2pk, \quad 4x = -j + 2pk, \quad x = \frac{pk}{2} - \frac{1}{4} \arctg \frac{b}{a}.$$

$$b) \quad \cos \frac{8x-j}{2} = 0, \quad \frac{8x-j}{2} = \arccos 0 + 2pk, \quad 8x-j = p + 2pk.$$

$$J: \quad x = \frac{2k+1}{8} p + \frac{1}{8} \arctg \frac{b}{a}, \quad k \in Z.$$

## MUSTAQIL YECHISH UCHUN MISOLLAR.

**1-misol.**  $\sec x + \operatorname{cosec} x + \sec x \operatorname{cosec} x = a$ , ( $a \neq 0$ ) tenglama yechilsin.

$$J: \text{Agar } \left| \frac{a+2}{a\sqrt{2}} \right| \leq 1 \text{ bo'lsa, } x = -\frac{p}{4} + (-1)^k \arcsin \frac{a+2}{a\sqrt{2}} + pk, k \in Z.$$

**2-misol.**  $\operatorname{tg}(a+x)\operatorname{tg}(a-x) = 1 - 2\cos 2x$  tenglama yechilsin.

$$J: x = pk \pm \frac{1}{2} \arccos \frac{-\cos a \pm \sqrt{\cos^3 2a + 4\cos 2a}}{2}.$$

### 18-§. Trigonometrik tenglamalar sistemasini yechish

Tarkibida trigonometrik funksiyalar qatnashgan bir necha tenglama trigonometrik tenglamalar sistemasini hosil qiladi. Trigonometrik tenglamalar sistemasini yechish tenglamadagi no'malumlarining shu tenglamalar sistemasini qanoatlantiradigan qiymatlarini topish demakdir. Ikki noma'lumli ikkita tenglama sistemasining yechimi deb, noma'lumlarning ikkala tenglamani ham qanoatlantiradigan juft qiymatlariga aytiladi.

$$\mathbf{1-misol.} \quad \begin{cases} x + y = \frac{p}{4} \\ \operatorname{tg} x + \operatorname{tg} y = 1 \end{cases} \text{ tenglamalar sistemasi yechilsin.}$$

Yechish.

$$y = \frac{p}{4} - x, \quad \operatorname{tg} x + \operatorname{tg} \left[ \frac{p}{4} - x \right] = 1, \quad \frac{\operatorname{tg} x (\operatorname{tg} x - 1)}{1 + \operatorname{tg} x} = 0;$$

$$a) \operatorname{tg} x = 1, \quad x = \frac{p}{4} + kp, \quad y = -kp, \quad k \in Z;$$

$$b) \operatorname{tg} x = 0, \quad x = kp, \quad y = \frac{p}{4} - kp, \quad k \in Z.$$

$$j: \begin{cases} x_1 = pk + \frac{p}{4}, \\ y_1 = -pk, \end{cases} \quad \begin{cases} x_2 = pk, \\ y_2 = \frac{p}{4} - pk, \end{cases} k \in Z.$$

$$\mathbf{2- Misol.} \quad \begin{cases} \frac{\cos(x+y)}{\cos(x-y)} = \frac{1}{9} \\ \sin x \cdot \sin y = \frac{1}{3} \end{cases} \text{ tenglamalar sistemasi yechilsin.}$$

Yechish:

$$\left[ \frac{\cos x \cos y - \sin x \sin y}{\cos x \cos y + \sin x \sin y} = \frac{1}{9} \right] \Rightarrow \left[ \frac{\cos x \cos y + \frac{1}{3}}{\cos x \cos y - \frac{1}{3}} \right] = \frac{1}{9},$$

$$\cos x \cos y = \frac{1}{3} + \frac{1}{9} \left[ \cos x \cos y + \frac{1}{3} \right],$$

$$\cos x \cos y = \frac{1}{3} + \frac{1}{27} + \frac{1}{9} \cos x \cos y,$$

$$\frac{8}{9} \cos x \cos y = \frac{10}{27} \quad \cos x \cos y = \frac{5}{12},$$

$$\begin{cases} \cos x \cos y = \frac{5}{12} \\ \sin x \sin y = \frac{1}{3} \end{cases} \Rightarrow \begin{cases} \cos x \cos y - \sin x \sin y = \frac{1}{12}, \\ \cos x \cos y + \sin x \sin y = \frac{3}{4} \end{cases} \Rightarrow$$

$$\Rightarrow \begin{cases} \cos(x+y) = \frac{1}{12} \\ \cos(x-y) = \frac{3}{4} \end{cases} \Rightarrow \begin{cases} x+y = 2k_1p \pm \arccos \frac{1}{12} \\ x-y = 2k_2p \pm \arccos \frac{3}{4} \end{cases}$$

$$x = p(k_1 + k_2) \pm \frac{1}{2} \left[ \arccos \frac{1}{12} + \arccos \frac{3}{4} \right] =$$

$$= p(k_1 + k_2) \pm \frac{1}{2} \arccos \frac{3 - \sqrt{1001}}{48}.$$

$$y = p(k_1 - k_2) \pm \frac{1}{2} \left[ \arccos \frac{1}{12} - \arccos \frac{3}{4} \right] = p(k_1 - k_2) \pm \frac{1}{2} \arccos \frac{3 + \sqrt{1001}}{48}.$$

**3-Misol.**  $\begin{cases} \sin x + \sin y = a \\ x + y = 2b \end{cases}$  Tenglamalar sistemasi yechilsin.

Yechish:

$$\begin{cases} 2 \sin \frac{x+y}{2} \cos \frac{x-y}{2} = a \\ x+y = 2b \end{cases} \Rightarrow \begin{cases} 2 \sin b \cos \frac{x-y}{2} = a, \\ x+y = 2b \end{cases} \Rightarrow$$

$$\Rightarrow \left[ \cos \frac{x-y}{2} = \frac{a}{2 \sin b} \right] \Rightarrow \left[ x-y = 2 \left[ kp \cdot 2 \pm \arccos \frac{a}{2 \sin b} \right] \right].$$

$$y = \frac{b}{2} - \arccos \frac{a}{2 \sin b} + kp, \quad x = \frac{3b}{2} + \arccos \frac{a}{2 \sin b} + kp, \quad k \in Z.$$

- 1) agar  $b = 0$ ,  $a \neq 0$  bo'lsa, sistema yechimga ega emas.
- 2) agar  $b \neq 0$ ,  $\left| \frac{a}{2 \sin b} \right| \leq 1$  bo'lsa, sistema yechimga ega.
- 3) agar  $b=0$ ,  $a=0$  bo'lsa, sistema cheksiz ko'p yechimga ega.

## MUSTAQIL YECHISH UCHUN MISOLLAR.

Tenglamalar sistemasini yeching.

1. 
$$\begin{cases} \sin x \sin y = \frac{\sqrt{3}-1}{4}, \\ \cos x \cos y = \frac{\sqrt{3}+1}{4}. \end{cases} \quad j: x = 45^{\circ}, y = 15^{\circ}.$$
2. 
$$\begin{cases} \sin x : \sin y = \sqrt{1,5}, \\ \cos x : \cos y = \sqrt{0,5}. \end{cases} \quad j: x = 60^{\circ}, y = 45^{\circ}.$$
3. 
$$\begin{cases} \sin x = \sqrt{2} \sin y, \\ \operatorname{tg} x = \sqrt{3} \operatorname{tg} y. \end{cases} \quad j: x = 45^{\circ}, y = 30^{\circ}.$$
4. 
$$\begin{cases} \sin x + \cos y = \frac{1}{2}, \\ \sin^2 x + \cos^2 y = \frac{1}{4}. \end{cases} \quad j: x = 0^{\circ}, y = 60^{\circ}.$$
5. 
$$\begin{cases} x + y = \frac{p}{2}, \\ \sin x + \cos y = 1. \end{cases} \quad j: x = \frac{p}{6}, y = \frac{p}{3}.$$
6. 
$$\begin{cases} x - y = \frac{p}{6}, \\ \sin x \cos y = 0,75 \end{cases} \quad j: x = \frac{p}{3}, y = \frac{p}{6}.$$
7. 
$$\begin{cases} x + y = \frac{2}{3}p, \\ \sin x \sin y = \frac{1}{2}. \end{cases} \quad j: x = \frac{5p}{12}, y = \frac{p}{4}.$$

### 19 - §. Masalalarni tenglama tuzish bilan yechish metodikasi

Masala - bu kundalik hayotimizda uchraydigan vaziyatlarning tabiiy tildagi ifodasidir. Masala asosan uch qismdan iborat bo'ladi.

1. Masalaning sharti - o'rganilayotgan vaziyatni xarakterlovchi ma'lum va no'malum miqdoriy qiymatlar hamda ular orasidagi miqdoriy munosabatlar haqidagi ma'lumot demakdir.

2. Masalaning talabi - masala shartidagi miqdoriy munosabatlarga nimani topish kerakligini ifodalash demakdir.

3. Masalaning operatori - masala talabini bajarish uchun shartdagi miqdoriy munosabatlarga nisbatan bajariladigan amallar yig'indisi.

Tenglama tuzish orqali masala yechish, masala talabida soʻralgan miqdorni imkoniyati boricha biror harf bilan belgilash, masala shartida qatnashayotgan boshqa miqdorlarni belgilangan harf orqali ifodalash, masala shartida koʻrsatilgan miqdoriy munosabatlarni, amallarning mantiqan toʻgʻri ketma-ketligi orqali ifodalaydigan tenglama tuzish va uni yechish orqali masalaning talabini bajarish demakdir.

Masalalarni tenglama tuzish orqali yechishni quyidagi ketma-ketlik asosida olib borish maqsadga muvofiqdir.

1. Masala talabida soʻralgan miqdorni, yaʼni nomaʼlum miqdorni harf bilan belgilash.
2. Bu harf yordamida boshqa noʻmalumlarni ifodalash.
3. Masala shartini qanoatlantiruvchi tenglama tuzish.
4. Tenglamani yechish.
5. Tenglama yechimini masala sharti boʻyicha tekshirish.

Maktab matematika kursida tenglama tuzish orqali yechiladigan masalalar koʻpincha uchta har xil miqdorlarni oʻzaro bogʻliqlik munosabatlari asosida beriladi. Chunonchi:

- 1) Tezlik, vaqt va masofa.
- 2) Narsaning qiymati, soni va jami bahosi.
- 3) Mehnat unumdorligi, vaqt va ishning hajmi.
- 4) Yonilgʻining sarf qilish normasi, transportning harakat vaqti yoki masofasi va yonilgʻining miqdori.
- 5) Jismning mustahkamligi, hajmi va uning ogʻirligi.
- 6) Ekin maydoni, hosildorlik va yigʻilgan hosildorlik miqdori.
- 7) Quvurni oʻtkazish imkoniyati, vaqti va quvurdan oʻtayotgan moddalarning aralashma miqdori.
- 8) Bir mashinaning yuk koʻtarishi, mashinalar soni va keltirilgan yuklarning ogʻirligi.
- 9) Suyuqlikning zichligi, chiqarish chuqurligi va bosimi.
- 10) Tokning kuchi, uchastka zanjirining qarshiligi va uchastkadagi kuchlanishning pasayishi.
- 11) Kuch, masofa va ish.
- 12) Quvvat, vaqt va ish.
- 13) Kuch, yelkaning uzunligi va quvvat momenti.



Masalalarni tenglama tuzib yechishda no'malum miqdorlarni turlicha belgilash, ya'ni asosiy miqdor qilib noma'lumlardan istalgan birini olish mumkin. Asosiy qilib olinadigan va harf bilan belgilanadigan noma'lumni tanlash ixtiyoriy bo'lishi mumkin.

Noma'lum miqdorni tanlashga qarab tuziladigan tenglama har xil bo'ladi, ammo masalaning yechimi bir xil bo'ladi. Fikrimizning dalili sifatida quyidagi masalani turlicha usul bilan yechib ko'raylik.

**1 - m a s a l a.** Ikki idishga 1480 litr suv sig'adi. Birinchi idishga ikkinchi idishga qaraganda 760 litr suv ko'p sig'sa, har qaysi idishga necha litr suv sig'adi?

**Yechish. 1 - usul.**

1. Belgilash:  $x_1$  - ikkinchi idishdagi suv bo'lsin, u holda  $(x + 760)$  - birinchi idishdagi suv bo'ladi.

2. Taqqoslanuvchi miqdorlar: I va II idishdagi suvlarning miqdori  $x_1$  va  $(x+760)_1$ .

3. Tenglama tuzish:  $x + x + 760 = 1480$ .

4. Tenglamani yechish.  $2x+760=1480$ ,  $2x=1480-760$ ,  $2x=720$ .  $x=720:2=360$  litr. Bu ikkinchi idishdagi suv  $x=360+760=1120$  litr, birinchi idishdagi suv.

5. Tekshirish.  $360 + 360 + 760 = 1480$ .  $1480 = 1480$ .

**II- usul.** Belgilash.  $x_1$  - birinchi idishdagi suv bo'lsa, u holda  $(x - 760)_1$  ikkinchi idishdagi suv bo'ladi.

2. Taqqoslanuvchi miqdorlar. I va II idishdagi suvlarning miqdori.

3. Tenglama tuzish.  $x + x - 760 = 1480$ .

4. Tenglamani yechish.  $2x-760=1480$ ,  $2x=1480+760=2240$ .

$x=2240:2=1120$  litr, birinchi idishdagi suv,  $x=1120-760=360$  litr, bu ikkinchi idishdagi suv.

5. Tenglamani tekshirish.

$x+x-760=1480$ ,  $1120+360=1480$ ,  $1480=1480$ .

**III - usul.** 1. Belgilash. Faraz qilaylik, birinchi idishga  $x$  l suv sig'sin, ikkinchi idishga esa  $y$  l suv sig'sin.

2. Taqqoslanadigan miqdorlar. Birinchi va ikkinchi idishlardagi suv miqdorlari va ularning o'zaro farqi.

3. Tenglama tuzish. 
$$\begin{cases} x + y = 1480, \\ x - 760 = y. \end{cases}$$

4. Sistemani yechish. 
$$\begin{cases} x + y = 1480, \\ x - 760 = y. \end{cases} \Rightarrow$$

$$\begin{cases} x+x-760=1480, \\ x-760=y. \end{cases} \Rightarrow \begin{cases} 2x=1240, \\ x-760=y. \end{cases} \Rightarrow \begin{cases} x=1120, \\ y=360 \end{cases}$$

5. Tekshirish.  $1120 + 360 = 1480, \quad 1480 = 1480$   
 $1120 - 760 = 360, \quad 360 = 360$

**2-masala.** Bitta daftar va bitta bloknot hamda bitta qalam uchun 220 so‘m to‘landi. Qalam daftarga qaraganda to‘rt marta arzon, bloknot esa daftarga qaraganda 40 so‘m qimmat. Har qaysi buyumning narxini toping.

1. Belgilashlar. Bloknotning narxini  $x$  so‘m deb olamiz, u holda daftarning narxi  $(x-40)$  so‘m, qalamning narxi  $(x-40):4$  so‘m.

2. Taqqoslanadigan miqdorlar. Bloknot, daftar, qalam narxlari va narxlar orasidagi munosabat.

3. Tenglama tuzish.  $x + (x-40) + (x-40):4 = 220$ .

4. Tenglamani yechish.  $9x=1080 \quad x=120$  so‘m bloknotning narxi,  $x-40=120-40=80$  so‘m daftarning narxi,  $(x-40):4 = 80:4 = 20$  so‘m qalamning narxi.

5. Tekshirish.  $120+80+20=220 \quad 220=220$ .

**II - usul.** Belgilashlar. Daftarning narxini  $x$  so‘m deb olamiz, u holda bloknotning narxi  $(x+40)$  so‘m, qalamning narxi esa  $(x : 4)$  so‘m bo‘ladi.

2. Tenglama tuzish va uni yechish.

$$x+x+40+x : 4=220, \quad 9x+160=880; \quad 9x=720;$$

$$x=80 \text{ so‘m, } x+40=120 \text{ so‘m, } x : 4=20 \text{ so‘m.}$$

**III - u s u l.** 1. Belgilashlar. Qalamning narxini  $x$  so‘m deb olamiz, u holda daftarning narxi  $4x$  so‘m bo‘ladi. Bloknotning narxi esa  $4x+40$  so‘m. Tenglama tuzish va yechish.

$$x+4x+4x+40=220; \quad 9x+40=220. \quad 9x=180;$$

$$x = 20 \text{ so‘m; } 4 \cdot 20=80 \text{ so‘m; } 4x+40 = 4 \cdot 20+40=120 \text{ so‘m}$$

Yuqoridagi belgilashlar har xil bo‘lsa ham javob bir xil chiqadi. Qalam narxi 20 so‘m, daftar narxi 80 so‘m, bloknot narxi 120 so‘m.

**3-masala.** Bir sabzovot omborida 21 t ikkinchida 18 t kartoshka bor edi. Birinchi omborga kuniga 9 tonnadan, ikkinchisiga 12 tonnadan kartoshka keltirilsa, necha kundan keyin birinchi ombordagi kartoshka ikkinchisidan 1,2 marta kam bo‘ladi?

Yechish.

1. Belgilashlar. Agar  $x$  deb kartoshka tashilgan kunlar sonini belgilasak, u holda birinchi omborga  $9x$  tonna, ikkinchi omborga esa  $12x$  tonna kartoshka keltirilgan bo‘ladi. Birinchi ombordagi jami kartoshka  $(21+9x)$  t, ikkinchi ombordagi jami kartoshka  $(18+12x)$  t bo‘ladi.

2. Taqqoslanadigan miqdorlar.  $(21+9x)$  t va  $(18+12x)$  t.

3. Tenglama tuzish.  $1,2(21+9x)=18+12x$

4. Tenglamani yechish.  $\frac{6}{5} \cdot (21+9x)=18+12x$

$$126+54x = 90+60x, \quad 6x = 36. \quad x = 6 \text{ kun.}$$

5. Tekshirish.  $\frac{6}{5} \cdot (21+54)=18+12 \cdot 6; \quad 90=90.$

**4-masala.** Tomosha zali 100 ta elektr lampochka bilan yoritiladi. Bir katta lampochkaning bir hafta davomida yonishi 15 so'mga, kichik lampochkaning yonishi esa 10 so'mga tushadi. Agar zalni bir hafta yoritish 1350 so'mga tushsa, zalga nechta katta lampochka va kichik lampochka o'rnatilgan?

Yechish.

1. Belgilashlar. Faraz qilaylik,  $x$  dona katta va  $y$  dona kichik lampochkalar bo'lsin, u holda katta va kichik lampochkalarining har birini haftada yonish puli  $\frac{15x}{100}$  va  $\frac{10y}{100}$  so'mdan bo'ladi.

2. Taqqoslanuvchi miqdorlar.  $\frac{15x}{100}$  va  $\frac{10y}{100}$

3. Tenglama tuzish.

$$\begin{cases} x + y = 100 \\ \frac{3}{20}x + \frac{1}{10}y = \frac{2700}{2} \end{cases}$$

4. Tenglamani yechish.

$$\begin{cases} x + y = 100 \\ \frac{3}{20}x + \frac{1}{10}y = \frac{2700}{2} \end{cases} \Rightarrow \begin{cases} x + y = 100 \\ 3x + 2y = 270 \end{cases} \Rightarrow \begin{cases} 3x + 3y = 300 \\ 3x + 2y = 270 \end{cases} \Rightarrow \begin{cases} y = 30 & \text{- kichik lampochkalar soni} \\ x = 70 & \text{- katta lampochkalar soni} \end{cases}$$

5. Tekshirish.

$$\begin{cases} 30 + 70 = 100 \\ \frac{3}{20} \cdot 70 + \frac{1}{10} \cdot 30 = \frac{2700}{2} \end{cases} \Rightarrow \begin{cases} 30 + 70 = 100 \\ \frac{2700}{2} = \frac{2700}{2} \end{cases}$$

**5-masala.** Kotlovan qazish uchun ikkita ekskavator ishga solindi. I ekskavator soatiga II ekskavatorga qaraganda 40 kub m ortiq tuproq oladi. I ekskavator 16 soat, II ekskavator 24 soat ishladi. Shu vaqt ichida ikkala ekskavatorida 8640 kub. m tuproq qazib olindi. Har qaysi ekskavator soatiga necha kub metr tuproq olgan?

Yechish.

1. Belgilashlar. Agar I ekskavator soatda  $x$  kub metr tuproq qaziydi desak, u holda II ekskavator  $(x-40)$  kub metr tuproq qaziydi. I ekskavatorning 16 soatdagi qazigan tuprog‘i  $16x$ , II ekskavatorning 24 soatda qazigan tuprog‘i  $24(x-40)$  bo‘ladi.

2. Taqqoslanadigan miqdorlar.  $16x$  va  $24(x-40)$

3. Tenglama tuzish.  $16x+24(x-40)=8640$ .

4. Tenglamani yechish.  $16x+24x-960=8640$ .  $40x=9600$ ,  $x=240$  kub metr - I ekskavatorchining I soatda qazigan tuprog‘i.  $x-40=240-40=200$  kub metr, II ekskavatorning 1 soat qazigan tuprog‘i.

5. Tekshirish.  $16\checkmark 240+24\checkmark 200=8640$ ,  $8640=8640$ .

**6-masala.** Ikki traktor birgalikda ishlab bir maydonni 6 soatda haydab bo‘ladi. Agar I traktorning yolg‘iz o‘zi ishlasa, bu maydonni II traktorchiga nisbatan 5 soat tez haydab bo‘ladi. Bu maydonni har qaysi traktorning yolg‘iz o‘zi necha soatda haydab bo‘ladi?

Yechish.

1. Belgilashlar. Agar I-traktorning yerni haydash uchun sarflagan vaqtini  $x$  soat desak, u holda II-traktorning yerni haydash uchun sarflagan vaqti  $(x + 5)$  soat bo‘ladi.

$\frac{1}{x}$  - I - traktorning 1 soatdagi ishi.

$\frac{1}{x+5}$  - II - traktorning 1 soatdagi ishi.

2. Taqqoslanadigan miqdorlar.  $\frac{1}{x}$  va  $\frac{1}{x+5}$

3. Tenglama tuzish.  $\frac{1}{x} + \frac{1}{x+5} = \frac{1}{6}$

4. Tenglamani yechish.

$$\frac{1}{x} + \frac{1}{x+5} = \frac{1}{6}$$

$$6(x+5) + 6x = x^2 + 5x, \quad x^2 - 7x - 30 = 0$$

$$x_{1,2} = \frac{7 \pm \sqrt{\frac{49}{4} + 30}}{2} = \frac{7 \pm 13}{2}$$

$$x_1=10, \quad x_2=-3 \quad \text{chet ildiz}$$

$x=10$  soat - birinchi traktorning yerni hayday oladigan vaqti.

$x=15$  soat - ikkinchi traktorning yerni hayday oladigan vaqti.

5. Tekshirish.

$$\frac{1}{10} + \frac{1}{15} = \frac{3+2}{30} = \frac{5}{30} = \frac{1}{6}$$

**II - usul.** Berilgan masalani tenglamalar sistemasini tuzish orqali yechish quyidagicha bajariladi.

1. Belgilash. Faraz qilaylik, I - traktor yer maydonini  $x$  soatda, II – traktor yer maydonini  $y$  soatda haydab bo‘lsin,  $y$  holda I-traktor-ning bir soatdagi ishi  $\frac{1}{x}$ , II-traktorning bir soatdagi ishi  $\frac{1}{y}$  bo‘ladi.

2. Taqqoslanuvchi miqdorlar. Birinchi traktorning ish soati  $\frac{1}{x}$  bilan ikkinchi traktorning ish soati  $\frac{1}{y}$  hamda ular orasidagi vaqtning farqi.

3. Tenglamalar sistemasini tuzish.

$$\begin{cases} \frac{1}{x} + \frac{1}{y} = \frac{1}{6} \\ x - y = 5 \end{cases}$$

4. Sistemani yechish.

$$\begin{cases} \frac{1}{x} + \frac{1}{y} = \frac{1}{6} \\ x - y = 5 \end{cases} \Rightarrow \begin{cases} 6y + 6x = xy \\ x = 5 + y \end{cases} \Rightarrow (6y + 6(5 + y) = 5y + y^2) \Rightarrow \begin{cases} y^2 - 7y - 30 = 0, \\ x = 5 + y \end{cases}$$

$$y_{1,2} = \frac{7}{2} \pm \sqrt{\frac{49}{4} + 30} = \frac{7}{2} \pm \frac{13}{2}.$$

$y_1 = 10$  kun;  $x = 5 + 10 = 15$  kun,  $y_2 = -3$  chet ildiz.

5. Tekshirish.

$$\left( \frac{1}{10} + \frac{1}{15} = \frac{1}{6} \right) \Rightarrow \left( \frac{1}{6} \right)$$

**7-masala.** Turist paraxodda 72 km suzdi, paraxodda o‘tgan yo‘lidan 25% ortiq masofani avtomashinada yurdi. Avtomobil tezligi paraxod tezligidan soatiga 21 km ortiq. Turist avtomobilda paraxodda yurganiga qaraganda 1 soat kam yurgan bo‘lsa, avtomobilning tezligi qancha?

Yechish.

1. Belgilashlar.  $x$  paraxodning tezligi bo‘lsa, u holda  $(x+21)$  - avtomobilning tezligi bo‘ladi.  $\frac{72}{x}$  - paraxodda sarf qilingan vaqt,  $\frac{90}{x+21}$  - avtomobilda sarf qilingan vaqt.

2. Taqqoslanuvchi miqdorlar.  $\frac{72}{x}$  va  $\frac{90}{x+21}$

3. Tenglama tuzish.  $\frac{72}{x} - \frac{90}{x+21} = 1$

4. Tenglamani yechish.  $\frac{72}{x} - \frac{90}{x+21} = 1$

$$\begin{aligned} 72(x+21) - 90x &= x^2 + 21x \\ x^2 + 21x - 72x + 90 &= x^2 + 21x - 72x + 90 \\ x^2 + 39x - 1512 &= 0 \end{aligned}$$

$$x_{1,2} = \frac{-39 \pm \sqrt{1521 + 4 \cdot 1512}}{2} = \frac{-39 \pm 87}{2}$$

$x=24 \text{ km/s}$  paraxod tezligi,  $x=45 \text{ km/s}$ , avtomobil tezligi.

$$\frac{72}{24} - \frac{90}{45} = 1; \quad 72 \cdot 45 - 90 \cdot 24 = 24 \cdot 45$$

Tekshirish:  $24 \text{ ž } 45 = 24 \text{ ž } 45$ .

**8-masala.** Teplovoz ma'lum vaqt ichida 325 km masofasani o'tish kerak, shu yo'lning  $\frac{2}{5}$  qismini o'tgandan keyin u 24 minut ushlanib qoldi. Keyin muddatida manzilga etib borish uchun tezligini soatiga 10 km oshirdi. Teplovozning tezligini toping?

Yechish.

Belgilash. Agar teplovozning dastlabki tezligi  $x \text{ km/s}$  desak, u holda  $(x+10) \text{ km/s}$  uning keyingi tezligi bo'ladi.

$\frac{195}{x+10}$  - keyingi masofani bosib o'tish uchun ketgan vaqt.

$\frac{130}{x}$  - avvalgi, masofani bosib o'tish uchun ketgan vaqt.

2. Taqqoslanuvchi miqdorlar.  $\frac{130}{x}$ ;  $\frac{195}{x+10}$  va  $\frac{325}{x}$

3. Tenglama tuzish.  $\frac{130}{x} + \frac{195}{x+10} + \frac{2}{5} = \frac{325}{x}$

4. Tenglama yechish.

$$130 \cdot 5(x+10) + 5 \cdot 195x + 2(x^2 + 10x) = 5(x+10) \cdot 325,$$

$$650x + 6500 + 975 + 2x^2 + 20x - 1625x - 16250 = 0$$

$$2x^2 + 20x - 9750 = 0, \quad x^2 + 10x - 4875 = 0$$

$$x_{1,2} = -5 \pm \sqrt{25 + 4875} = -5 \pm \sqrt{4900} = -5 \pm 70$$

$x_1 = 65 \text{ km/s}$ , avvalgi tezlik,

$x_2 = -75 \text{ km/s}$ , chet ildiz,

$x+10 = 75 \text{ km/s}$  keyingi tezlik

5. Tekshirish.

$$\frac{130}{65} + \frac{195}{75} + \frac{2}{5} = \frac{325}{65}, \quad \frac{30 + 39 + 6}{15} = 5, \quad \frac{75}{15} = 5, \quad 5 = 5.$$

J:  $75 \text{ km/s}$ .

### MUSTAQIL YECHISH UCHUN MASALALAR.

**1-masala.** Tomonlari 12 m va 10 m bo'lgan to'rtburchak shakldagi maydon o'rtasiga chetlari maydon chetlaridan bir xil masofada yotadigan va yuzi  $8 \text{ m}^2$  ga teng bo'lgan gulxona ajratish kerak. Gulxonaning cheti maydon chetidan qanday masofada yotishi kerak?

J: 4 m oraliqdagi masofa.

**2-masala.** 160 km masofani avtomashina 3 soatda bosib o‘tadi. Yo‘lning 75% asfalt qilingan, qolgan qismiga esa tosh yotqizilgan. Mashinaning tosh yo‘ldagi tezligi asfalt yo‘ldagi tezligiga qaraganda 20 km/s kam bo‘lsa, u asfalt yo‘lda qanday tezlik bilan yurgan?

J: 60 km/s, mashinaning asfalt yo‘ldagi tezligi.  
40 km/s, mashinaning tosh yo‘ldagi tezligi.

**3-masala.** Rejada belgilangan muddatda hosilni yig‘ib olish uchun xo‘jalik ikkita brigada ajratdi. 400 gektarli uchastkada ishlagan birinchi brigada topshiriqni muddatidan ikki kun oldin bajardi. Ikkinchi brigada esa 900 gektarli uchastkada ishlab, topshiriqni muddatidan 2 kun keyin bajardi. Agar birinchi brigada ikkinchi brigada necha kun ishlagan bo‘lsa, shuncha kun, ikkinchi brigada necha kun birinchi brigada ishlagan bo‘lsa, shuncha kun ishlaganda edi, ikkala brigada teng miqdorda hosil yig‘ar edi. Reja bo‘yicha hosil necha kunda yig‘ib olinishini va har qaysi brigadaning kundalik ish unumini toping?

J: 8-birinchi brigadaning ishlagan kuni, 12-ikkinchi brigadani ishlagan kuni.

**4-masala.** Oralari 24 km bo‘lgan A va B punktlardan ikki avtomobil bir vaqtda bir-biriga qarab yo‘lga chiqdi. A punktdan kelayotgan avtomobil uchrashuvdan 16 minut keyin B punktga etib keldi, ikkinchi avtomobil esa A punktga 4 minutdan keyin keldi. Avtomobillarning tezliklarini toping?

J: 60 km/s A dan chiqqan avtomobilning tezligi.  
120 km/s B dan chiqqan avtomobilning tezligi.

**5-masala.** Hovuzga ikki krandan suv keladi. Oldin birinchi kran ochib qo‘yildi, u ikkinchi kranning yolg‘iz o‘zi ishlaganda hovuzni qancha vaqtda to‘ldirsa, shu vaqtning uchdan biricha vaqt ochiq turdi. So‘ngra, ikkinchi kran birinchi kran yolg‘iz o‘zi hovuzni qancha vaqtda to‘ldirsa, shu vaqtning uchdan biricha ochiq turdi. Shundan keyin hovuzning  $\frac{13}{18}$  qismi suvga to‘ldi. Agar ikkala kran baravar turganda hovuz 3 soat-u, 36 minutda to‘lsa, hovuzni to‘ldirish uchun har qaysi kranning yolg‘iz o‘ziga qancha vaqt kerak bo‘lishi hisoblansin.

J: Kranlarning biri hovuzni 9 soatda, ikkinchisi 6 soatda to‘ldiradi.

**6-masala.** Sof spirt to‘ldirilgan bakdan undagi spirtning bir qismini quyib olindi va uning o‘rniga shuncha suv quyib qo‘yildi. So‘ngra bakdan yana o‘shancha litr aralashma quyib olindi, shundan keyin bakda 49 litr sof spirt qoldi. Bakning sig‘imi 64 l. Bakdan birinchi safar qancha va ikkinchi safar qancha spirt quyib olingan?

J: 56 litr, 7 litr.

**7-masala.** Mashinistka o'ziga topshirilgan ishni har kuni belgilangan normadan 2 bet ortiq bossa, ishni muddatidan 3 kun ilgari tugatadi. Agar normadan 4 betdan ortiq bossa muddatidan 5 kun ilgari tugatadi. U necha bet ko'chirishi va qancha vaqtda ko'chirishi kerak?

J: Mashinkada bosiladigan ish 120 bet ekan.

**8-masala.** Ikki ishchiga bir qancha bir xil detallar tayyorlash topshirildi. Birinchi ishchi 7 soat, ikkinchisi 4 soat ishlagandan keyin butun ishning  $\frac{5}{9}$  qismini tamomlangani ma'lum bo'ldi. Ular birgalikda yana 4 soat ishlagandan keyin butun ishni  $\frac{1}{18}$  qismi qolganini aniqlashdi. Bu ishni har qaysi ishchi yolg'iz o'zi ishlasa, necha soatda tamomlar edi?

J: 18 soat, 24 soat.

**9-masala.** Paraxodga ko'tarma kran bilan yuk ortildi. Oldin quvvati bir xil bo'lgan 4 ta kran ishladi. Ular 2 soat ishlagandan keyin ularga yana kamroq quvvatga ega bo'lgan 2 ta ko'tarma kran qo'shildi va shundan keyin yuk ortish 3 soatda tamom bo'ldi. Agar hamma kran baravariga ishga tushirilsa, yuk ortish 4,5 soatda tugatildi. Agar bitta kuchli kran yolg'iz o'zi ishlatilsa, yuk ortishni necha soatda tamomlash mumkin bo'lar edi? Bitta kuchsiz kran yolg'iz o'zi ishlasa, ishni necha soatda tamomlar edi?

J: 24 soat, 36 soat.

**18-masala.** Elektrostansiya qurilishda g'isht teruvchilar brigadasi ma'lum vaqtda 120 ming dona g'isht terish kerak edi. Brigada ishni muddatidan 4 kun ilgari tamomladi. Agar brigada norma bo'yicha 4 kunda qancha g'isht terishi kerak bo'lsa, 3 kunda shundan 5 ming dona ortiq g'isht terгани ma'lum bo'lsa, har kungi g'isht terish normasi qancha bo'lgan va brigada haqiqatda kuniga qanchadan g'isht tergan?

J: 10 ming dona- norma bo'yicha teriladigan kun,  
15 ming dona - haqiqatda terilgandagi sarf qilingan kun.

**10-masala.** Quvvatlari turlicha bo'lgan ikki traktor birga ishlab xo'jalik erini 8 kunda haydab tamomladi. Dastlab dalaning yarmini bir traktor yolg'iz o'zi haydab, keyin ikkala traktor birga ishlasa, hamma ish 10 kunda tugatildi. Dalani har qaysi traktor yolg'iz o'zi necha kunda hayday olar edi?

J: Birinchi traktor bilan dalani 12 kunda,  
Ikkinchi traktor bilan esa 24 kunda.



**11-masala.** Aravaning oldingi g'ildiragi 18 m masofada, keyingi g'ildirakdan 10 marta ortiq aylanadi. Agar oldingi g'ildirak aylanasini 6 dm orttirib, keyingi g'ildirak aylanasi 6 dm kamaytirilsa, shuncha masofada oldingi g'ildirak keyingisidan 4 ta ortiq aylanadi. Har qaysi g'ildirak aylanasining uzunligini toping.

J: 12 dm oldinti g'ildirak, 36 dm g'ildirak aylanasi uzunligi.

**12-masala.** Bir qotishmada 1:2 nisbatda ikki xil metall bor. Ikkinchi qotishmada esa shu metallar 2:3 kabi nisbatda. Tarkibida o'sha metallar 17:27 kabi nisbatda bo'lgan uchinchi bir qotishma hosil qilish uchun shu qotishmalarning har biridan qancha qism olish kerak?

J: birinchi qotishmaning 9 qismiga, ikkinchi qotishmadan 35 qism olish kerak.

**13-masala.** Ikki ishchining ikkinchisi birinchisidan 1,5 kun keyin ishga tushib, ular bir ishni 7 kunda tamomlay oladilar. Agar bu ishni har qaysi ishchi yolg'iz o'zi ishlasa, birinchi ishchi ikkinchisiga qaraganda 3 kun ortiq ishlashiga to'g'ri keladi. Har qaysi ishchi yolg'iz o'zi bu ishni necha kunda tamomlaydi?

J: birinchi ishchi ishni 14 kunda, ikkinchi ishchi 11 kunda tamomlaydi.

**14-masala.** Velosipedchi 30 km yo'l yurishi kerak edi. Velosipedchi tayinlangan vaqtdan 3 minut kech yo'lga chiqib, 1 km/s ortiq tezlik bilan yurdi va boradigan joyiga o'z vaqtida etib keldi. Velosipedchining tezligini toping?

J: 25 km/s.

**15-masala.** Ikki stansiya orasidagi masofa 96 km. Bu masofani birinchi poezd ikkinchi poezddan 40 minut tez o'tadi. Birinchi poezdning tezligi ikkinchi poezdning tezligidan 12 km/s ortiq bo'lsa, ikkala poezdning tezligini toping?

J: Birinchi poezd tezligi 48 km/s,  
ikkinchi poezd tezligi 36 km/s.

**16-masala.** Ikki yo'lovchi bir vaqtda bir-biriga qarab A va B shaharlardan yo'lga chiqdi. Birinchi yo'lovchi ikkinchisidan bir soatda 2 km/s ortiq yo'l bosadi va u ikkinchi yo'lovchi A shaharga bormasdan bir soat oldin B shaharga etib boradi. A va B shaharlar orasidagi masofa 24 km. Har qaysi yo'lovchi bir soatda necha kilometr yo'l bosadi?

J: 6 km va 8 km.

**17-masala.** A va B shaharlar orasidagi masofa 200 km. A shahardan B shahargacha bir-biriga qarab bir vaqtda ikkita avtomobil yo'lga chiqdi. Birinchi avtomobil ikkinchi avtomobilga qaraganda 20 km tez yurdi va ikkinchi

avtomobilga qaraganda 50 minut oldin etib keldi. Har qaysi avtomobilning tezligini toping?

J: 80 km/s va 60 km/s.

**18-masala.** Ikki pristan orasidagi masofa 60 km. Motorli qayiq bu masofani oqim bo'yicha oqimga qarshi suzganidan ketgan vaqtga qaraganda 50 minut tez suzib o'tadi. Agar daryo oqimining tezligi soatiga 3 km bo'lsa, motorli qayiqning tezligini toping?

J: 21 km/s.

**19-masala.** Ikki pristan orasidagi masofa 154 km. Bu pristanlarning birinchisidan ikkinchisiga qarab paraxod yo'lga chiqdi. Paraxod ikkinchi pristanga borib, 45 minut to'xtab turdi va yana yo'lga chiqqan joyiga 18,75 soatdan keyin qaytib keldi. Agar paraxodning turg'un suvdagi tezligi soatiga 18 km bo'lsa, daryo oqimining tezligini toping?

J: 4 km/s.

**20-masala.** Paxta terimida birinchi brigada 6 soat ishladi, shundan so'ng yana bir brigada kelib qo'shildi. Ikki brigada birgalikda topshiriqni 4 soatda tugatishdi. Agar birinchi brigada berilgan uchastkadagi hosilni bir o'zi terib olishi uchun ikkinchi brigada yolg'iz o'zi ishlaganiga qaraganda 3 soat ortiq vaqt talab qilinsa, har qaysi brigadaning yolg'iz o'zi uchastkadagi hosilni necha soatda yig'ib oladi?

J: birinchi brigada 15 kunda, ikkinchi brigada 12 kunda.

**21-masala.** Ikkita stanok birgalikda 9 soat-u 36 minutda ishni tugallaydi. Agar bitta stanok o'zi ishlasa, butun ishni bajarish uchun ikkinchiga qaraganda 8 soat ortiq vaqt talab qiladi. Har bir stanok alohida ishlaganda butun ishni necha soatda tugallaydi?

J: 16 soat, 24 soat.

**22-masala.** Ikki g'isht teruvchi ma'lum bir ishni birgalikda ishlab 4 soatda bajaradi. Agar, ishchi yolg'iz o'zi ishlasa va ishning yarmini bajarsa, so'ngra ikkinchi ishchi ishning qolgan yarmini bajarsa u holda butun ishni bajarish uchun ularga 9 soat kerak bo'ladi. Butun ishni har bir ishchi qancha vaqtda bajaradi?

J: 12 kun va 6 kun.

**23-masala.** Ikki payvandchi malum bir ishni birgalikda ishlab 4 kunda tugata oladilar. Agar bulardan biri yolg'iz o'zi 3 kun ishlagandan keyin, ikkinchisi kelib qo'shilsa, ular birgalikda topshiriqni 5 kunda bajaradilar. Payvandchilarning har biri topshiriqni necha kunda bajaradi?

J: 6 kun va 12 kun.

**24-masala.** 300 ishchini jo‘natish uchun bir necha avtobus chaqirilgan edi, ammo belgilanganidan ikkita avtobus kam keldi, shuning uchun har qaysi avtobusga mo‘ljallanganidan 5 kishi ortiq o‘tqizildi. Ishchilarni jo‘natish uchun nechta avtobus chaqirilgan edi?

J: 12 ta.

**25-masala.** Tez yurar poezd passajir poezdiga qaraganda soatiga 10 km ortiq yuradi. Tez yurar poezdning 210 km ni o‘tishi uchun ketkazgan vaqti passajir poezdning 240 km ni o‘tishi uchun ketgan vaqtdan bir soat kam bo‘lsa, tez yurar poezdning tezligini toping?

J: tez yurar poezd tezligi 70 km/s,

**26-masala.** Tajriba uchastkasida ekilganiga qaraganda 14 kg don ortiq yig‘ib olindi. Yig‘ib olingan donni yana ekildi va birinchi galdagi olingan hosil qancha bo‘lsa, shuncha marta hosil olindi, hammasi bo‘lib 128 kg don yigib olindi. Tajriba uchastkasiga birinchi galda qancha don ekilgan?

J: 98 kg.

**27-masala.** Ikki pristan orasidagi masofa daryo bo‘yicha 50 km. Katerda bu masofani biridan ikkinchisiga borib, u yerda 30 minut to‘xtab yana birinchisiga qaytib kelishi uchun 5 soat vaqt sarf qilindi. Daryo oqimining tezligi 2,5 km bo‘lsa, katerning turg‘un suvdagi tezligini toping?

J: 22,5 km/s.

**28-masala.** Ikki avtomashina birgalikda ishlab ma‘lum yukni 15 soatda tashib bo‘ladi. Birinchi avtomobil ikkinchisidan 6 soat kam ishlab yukning 40% ni tashidi, qolgan yukni 2-avtomobil tashigan bo‘lsa, har qaysi avtomobil necha soat ishlagan?

J: 30 soat, 36 soat.

**29-masala.** Oralaridagi masofa 900 km bo‘lgan ikki stansiyadan bir-biriga qarab ikki poezd yo‘lga chiqdi. Bu poezdlar yo‘lni o‘rtasida uchrashishi kerak edi. Agar bu poezdlardan birining tezligi ikkinchisidan 5 km/soat ortiq bo‘lsa u belgilangan masofaga ikkinchisidan bir soat oldin keladi. Har bir poezdning tezligini toping?

J: 45 km/soat birinchi poezd tezligi, 50 km/soat ikkinchi poezd tezligi.

**30-masala.** Avtomashina 160 km kesik yo‘lni 3 soatda o‘tadi. Bu masofani 75% asfaltlangan bo‘lib, qolgan qismi tosh yo‘ldan iborat. Agar mashinaning asfalt yo‘lidagi tezligi tosh yo‘lidagi tezligidan soatiga 20 km ortiq bo‘lsa, mashina asfalt yo‘lda qanday tezlik bilan yurgan?

J: 60 km/soat asfalt yo'ldagi tezlik.

**31-masala.** Uch idishga suv quyilgan. Agar bir idishdagi suvning  $\frac{1}{3}$  qismini ikkinchi idishga quyib, so'ngra ikkinchi idishda bo'lgan suvning  $\frac{1}{4}$  qismini uchinchi idishga quyib, nihoyat uchinchi idishda bo'lgan suvning  $\frac{1}{10}$  qismini birinchi idishga quyilsa, har bir idishda 9 litrdan suv bo'ladi. Har qaysi idishda qancha suv bor edi?

J: 12 l, 8 l, 7 l.

**32-masala.** Oralaridagi masofa 650 km bo'lgan ikki shahardan ikki poezd bir-biriga qarab yo'lga chiqdi. Agar poezdlar bir vaqtda jo'nab ketgan bo'lsa, 10 soatdan keyin uchrashadi. Agar ikkinchi poezd birinchidan 4 soatu 20 minut oldin yo'lga chiqsa, birinchi poezd yo'lga chiqqanidan 8 soat keyin uchrashadi. Har qaysi poezdning o'rtacha tezligi topilsin.

J: 35 km/soat birinchi poezd tezligi.

30 km/soat ikkinchi poezd tezligi.

**33-masala.** Ikki shahar orasidagi masofa daryo yo'li bilan 80 km. Paraxod bu yo'lni bir boshidan ikkinchi boshiga 9 soat-u 20 minutda borib keladi. Daryo oqimining tezligini soatiga 4 km deb hisoblab, paraxodning turg'un suvdagi tezligini toping.

J: 20 km/s. passajir poezd tezligi 60 km/s.

## **20-§. Matematika darslarida tengsizliklarni o'qitish metodikasi.**

Hozirgi ta'lim standartiga ko'ra tengsizlik tushunchasi boshlang'ich sinf matematika darslarida o'quvchilarga sonlarni taqqoslash ularni miqdoriy munosabatlarini ochib berish maqsadida katta  $>$  yoki kichik  $<$  belgilar bilan tanishtirish orqali amalga oshiriladi. Bizga ma'lumki, agar ikkita son yoki ikkita ifodalarning qiymatlari o'zaro teng bo'lmasa, ular orasiga tengsizlik belgisi qo'yiladi.

Boshlang'ich sinf matematika darslarida tengsizlik bilan tanishtirish masalasi sonlarni nomerlash va ularni taqqoslash orqali tengsizlik tushunchalari keltirib chiqariladi. Masalan, 10 ichidagi raqamlarni o'rgatilgandan keyin u yerdagi har bir raqamning miqdoriy qiymati o'zidan avvalgisidan bir birlikka ortiqdir. Shuning uchun ham ikki katta bir, besh katta olti, to'qqiz katta sakkiz kabi yozuvlarni yozishimiz mumkin. Bu degan so'z o'quvchilarga ikki katta bir degani

$1+1<1$ ,  $2+1<2$ ,  $3+1<3$  yozuvlar orqali o'quvchilarga tengsizlikning ma'nosini ochib beriladi.

To'rtinchi sinfda esa sonli ifodalarning tengsizligini ko'rsatiladi. Masalan,  $5+3>5+2$ ,  $18:6+9>2\cdot 3$  va hokazo.

Oltinchi sinfdan boshlab, tengsizlikka quyidagicha ta'rif beriladi.

Ta'rif:  $a$  miqdordan  $b$  miqdorni ayirganda ayirma miqdor musbat (manfiy) bo'lsa, u holda  $a$  miqdor  $b$  miqdordan katta (kichik) deyiladi va ular quyidagicha yoziladi  $a-b>0$  ( $a-b<0$ ) bulardan  $a>b$  ( $a<b$ ) kelib chiqadi. Bu belgilashlarga ko'ra  $a>b$  ( $a<b$ ) lar sonli tengsizliklar deyiladi.

Yettinchi sinfda materiallaridagi tenglamalarni yechish jarayonida o'quvchilarni tengsizliklarning quyidagi asosiy xossalari bilan tanishtirish lozim bo'ladi.

a) tranzitivlik xossasi, agar  $a>b$  va  $b>c$  bo'lsa,  $a>c$  bo'ladi;

b)  $a>b$  va  $c>d$  bo'lsa,  $a+c>b+d$  bo'ladi;

v)  $a>b$  bo'lsa,  $a+m>b+m$ ;

g)  $a>b$  va  $m>0$  bo'lsa,  $am>tm$ ;

d)  $a>b$  va  $m<0$  bo'lsa,  $am<bm$ .

Bu xossalarning hammasini sonli misollar ustida isbotsiz "chiqarish" mumkin, lekin ularning kelgusida (X sinfda) isbotlanishini aytib o'tish lozim.

Masalan "v" xossani quyidagicha ko'rsatish mumkin:

$20>15$  tengsizlikning ikkila qismiga 3 tadan qo'shsak,  $23>18$  chiqadi, agar  $-3$  tadan qo'shsak  $17>12$  chiqadi. Bu xossani ko'rib o'tgandan keyin, undan kelib chiqadigan natijaga ham to'xtalish mumkin. Shunga o'xshash bir necha misolni ko'rib o'tamiz.

$$\begin{array}{r} 15+3>13 \\ - \quad 3 \quad 3 \\ \hline 15 > 13-3 \end{array}$$

$$\begin{array}{r} 16-4 > 6 \\ + \quad 4 \quad 4 \\ \hline 16 > 6+4 \end{array}$$

Xuddi tenglamadagi singari tengsizlikda ham son yoki ifoda tengsizlikning bir tomonidan ikkinchi tomoniga teskari ishora bilan o'tishini o'quvchilarga tushuntirish lozim bo'ladi. Yuqoridagi xossalar o'rgatilgandan keyin birinchi darajali bir noma'lumli tengsizliklarni yechish ko'rsatiladi, ya'ni  $ax>b$  yoki  $ax<b$  bunda  $a\neq 0$ . Xususiyl holda  $4x>8$ ,  $5x>10$  yoki  $2x<6$ ,  $7x<21$  kabi misollar orqali tarkibida noma'lum harf bo'lgan tengsizliklarni yechish o'rgatiladi. Bu ko'rinishdagi tengsizliklarni yechish degan so'z noma'lumning bu tengsizliklarni

sonli to'g'ri tengsizlikka aylantiradigan qiymatlarini topish deganidir.  $4x > 8$ ,  $2x < 6$  ko'rinishdagi tengsizliklarni yechimi  $x > 2$  va  $x < 3$  bo'ladi. Shu bilan birga noma'lumning sanoqsiz ko'p son qiymatlari tengsizlikning yechimlari bo'lishini o'quvchilarga grafik yordamida ko'rsatish maqsadga muvofiqdir.

$4x > 8$  tengsizlik uchun 2 soni noma'lum qiymatlarning quyi chegarasi,  $2x < 6$  tengsizlik uchun 3 soni noma'lum qiymatlarning yuqori chegarasi bo'lishini o'quvchilarga grafik nuqtai nazaridan ko'rsatish maqsadga muvofiqdir. Yuqoridagi misollardan ko'rinadiki, tengsizlikni yechish tengsizlikning barcha qiymatlar to'plamini topishdan iboratdir.

Tengsizliklarni xossalarini o'rganish jarayonida tengsizlikning har ikki tomoniga bir xil musbat son qo'shilsa, ayrilsa, ko'paytirilsa va bo'linsa tengsizlikning belgisi o'zgarmaydi. Tengsizlikning har ikki tomonini manfiy songa ko'paytirilsa yoki bo'linsa tengsizlik belgisi teskarisiga almashadi.

Masalan,

$$\begin{array}{lll} 5x > 6, & 5x - 4 > 6 - 4, & 5x : 6 > 6 : 6, \\ 5x + 5 > 6 + 5, & 5x \cdot 2 > 6 \cdot 2, & 10x > 12. \\ 15x > 20, & 15x : (-5) > 20 : (-5), & -3x > -4, \quad 3x < 4, \\ 15x \cdot (-2) > 20 \cdot (-2), & -30x > -40, & 30x < 40. \end{array}$$

Ta'rif:  $ax^2 + bx + c > 0$  yoki  $ax^2 + bx + c < 0$  ko'rinishdagi tengsizliklar ikkinchi darajali tengsizliklar deyiladi, bunda  $a \neq 0$ .

Bunday tengsizliklarni yechish kvadrat uch hadning ishorasini tekshirish orqali amalga oshiriladi. O'qituvchi bu yerda o'quvilarga kvadrat uch haddan to'la kvadrat ajratish hamda ana shu kvadrat uch hadning ishorasi diskreminantni tekshirish orqali amalga oshirilishni ko'rsatib berish maqsadga muvofiqdir, ya'ni

1)  $D = b^2 - 4ac > 0$  bo'lsa, kvadrat uch had haqiqiy ikkita ildizga ega. U holda  $ax^2 + bx + c = a(x - x_1)(x - x_2)$  bo'ladi.

a)  $x < x_1$  bo'lsin, u holda  $x - x_1 < 0$  va  $x < x_2$  da  $x - x_2 < 0$  bo'ladi, shuning uchun  $a > 0$  bo'lsa,  $a(x - x_1)(x - x_2) > 0$  bo'ladi.

b)  $x > x_1$  bo'lsin, u holda  $x - x_1 > 0$  va  $x < x_2$  da  $x - x_2 < 0$  bo'ladi, shuning uchun  $a > 0$  bo'lsa,  $a(x - x_1)(x - x_2) < 0$  bo'ladi.

v)  $x < x_1$  bo'lsin, u holda  $x - x_1 < 0$  va  $x > x_2$  da  $x - x_2 > 0$  bo'ladi, shuning uchun  $a > 0$  bo'lsa,  $a(x - x_1)(x - x_2) < 0$  bo'ladi.

g)  $x > x_1$  bo'lsin, u holda  $x - x_1 > 0$  va  $x > x_2$  da  $x - x_2 > 0$  bo'ladi, shuning uchun  $a > 0$  bo'lsa,  $a(x - x_1)(x - x_2) > 0$  bo'ladi.

Misol.  $x^2 - 3x - 4 > 0$  tengsizlikni yeching.

Yechish:  $a = 1$ ,  $b = -3$ ,  $c = -4$ . Bu tengsizlikning chap tomonida turgan kvadrat uch hadning yechimlarini topamiz, ya'ni  $x^2 - 3x - 4 = 0$ . Tenglamaning yechimlari  $x_1 = -1$ ,  $x_2 = 4$ . U holda bu tengsizlikning ko'rinishi  $(x+1)(x-4) > 0$  bo'ladi.

1)  $x+1 > 0$  va  $x-4 > 0$  bo'ladi, ulardan  $x > -1$ ,  $x > 4$  yechimlarni hosil qilamiz. Bu holda  $x > 4$  yechim bo'ladi, ya'ni  $(4; +\infty)$ .

2)  $x+1 < 0$  va  $x-4 < 0$  bo'ladi, ulardan  $x < -1$ ,  $x < 4$  yechimlarni hosil qilamiz. Bu holda  $x < -1$  yechim bo'ladi, ya'ni  $(-\infty; -1)$ .

Javob:  $(-\infty; -1) \cup (4; +\infty)$ .

2.  $D = b^2 - 4ac < 0$  bo'lsa, kvadrat uch had haqiqiy ildizga ega emas.

3.  $D = b^2 - 4ac = 0$  bo'lsa, kvadrat uch had  $a > 0$  va  $a < 0$  bo'lgan hollar uchun haqiqiy bitta ildizlarga ega, ammo tengsizlik yechimini  $a < 0$  bo'lganda qanoatlantirmaydi.

Misol.  $-x^2 + 4x - 4 > 0$  tengsizlikni yeching.

Yechish:  $a = -1$ ,  $b = 4$ ,  $c = -4$ ,  $a < 0$ . Bu tengsizlikning chap tomonida turgan kvadrat uch hadning yechimlarini topamiz, ya'ni  $(-1) \cdot (x-2)^2 = 0$ . Tenglamaning bitta yechimi bor.  $x = 2$ . U holda bu tengsizlikning ko'rinishi  $(-1) \cdot (x-2)^2 > 0$  bo'ladi. Bundan  $-(x-2)^2 > 0$  ekani bizga ma'lum, lekin chap tomonda turgan tenglamaning qiymati manfiy bo'ladi. Manfiy son noldan katta emas. Shuning uchun,  $a < 0$  da tengsizlikning yechimi mavjud emas.

## VIII-BOBNI TAKRORLASH UCHUN SAVOLLAR

- 1 Tenglama tushunchasiga ta'rif bering.
- 2 Tenglama ildizi deganda nimani tushunasiz?
- 3 Qanday tenglik ayniyat deyiladi?
- 4 Qanday tenglama chiziqli tenglama deyiladi?
- 5 Parametrik kasr ratsional tenglamani tushuntirib bering.
- 6 Absolyut miqdor belgisi qatnashgan tenglamani tushuntirib bering.
- 7 Kvadrat uchhaddan to'la kvadrat ajratib bering.
- 8 To'la va keltirilgan kvadrat tenglamalarni farqini aytib bering.
- 9 Kvadrat tenglama ildizlari qanday topiladi?
10. Viet teoremasini aytib bering.

11. Kvadrat tenglamaga keltirib yechiladigan tenglamalarni turlarini ko'rsating.
12. Qanday tenglama irratsional tenglama deyiladi?
13. Parametrli irratsional tenglama qanday yechilishini ko'rsatib bering.
14. Irratsional tenglamalar sistemasi qanday yechiladi?
15. Qanday tenglama ko'rsatkichli tenglama deyiladi?
16. Logarifmik tenglamani ta'riflang?
17. Qanday tenglama parametrli ko'rsatkichli tenglama deyiladi?
18. Qanday tenglama parametrli logarifmik tenglama deyiladi?
19. Ko'rsatkichli tenglamalar sistemasi qanday yechiladi?
20. Logarifmik tenglamalar sistemasi qanday yechiladi?
21. Ko'rsatkichli va logarifmik tenglamalarni grafik usulda yechilishini ko'rsatib bering.
22. Qanday tenglamalar trigonometrik tenglama deyiladi?
23. Parametrik tenglamalar sistemasini yechish usullarini ko'rsatib bering.
24. Trigonometrik tenglamalar sistemasini yechish usullarini ko'rsatib bering.
25. Masala tushunchasining mazmunini aytib bering.
26. Masalaning sharti deganda nimani tushunasiz?
27. Masalaning xulosasi degandachi?
28. Masalalarda ko'proq qanday miqdorlarning o'zaro bog'liqlik munosabatlari bo'lishini aytib bering.
29. Tengsizlik tushunchasiga ta'riflang.
30. Tengsizliklar yechimi deganda nimani tushunasiz?
31. Tenglama bilan tengsizlikning qanday farqi bor?
32. Tengsizlik qanday asosiy xossalarga ega?

### **VIII-BOB UCHUN TAYANCH IBORALAR.**

Tenglik, tenglama, ayniyat, chiziqli tenglama, parametrli tenglama, kasr chiziqli tenglama, absolyut miqdor, kvadrat uchhad, to'la kvadrat, kvadrat tenglama, ildiz tushunchasi, Viet teoremasi, irratsional tenglama, tenglamalar sistemasi, ko'rsatkichli tenglama, logarifmik tenglama, parametrli ko'rsatkichli va logarifmik tenglamalar, trigonometrik tenglamalar sistemasi, masala, masala sharti, masala xulosasi, tengsizlik, tengsizlik xossalari.



**IX BOB.**  
**FUNKSIYA, INTEGRAL VA DIFFERENSIAL TENGLAMA**  
**TUSHUNCHALARINI KIRITISH VA ULARNI O‘RGATISH**  
**METODIKASI.**

---

**1-§. Funksiya tushunchasini kiritish va uni o‘rgatish metodikasi.**

Bizga ma’lumki matematika fani materiyadagi narsalarning fazoviy formalari va ular orasidagi miqdoriy munosabatlarni o‘rgatadi. Ana shu materiyadagi miqdorlarni nisbiy holatda olimlar tomonidan o‘zgarmas va o‘zgaruvchi miqdorlarga ajratilgan. O‘zgarmas miqdorlarni  $a, b, c, \dots$ , o‘zgaruvchi miqdorlarni esa  $x, y, z, \dots$  harflar bilan ular orasidagi miqdoriy munosabatlarni matematik belgilar orqali ifodalash XVI – asrning oxirida matematika fanini turli yo‘nalishlari bilan shug‘ullangan R.Dekart, I.Nyuton (1642-1727), G.Leybnets (1646-1716), P.Ferma (1601-1665), N.I.Lobochevskiy (1792-1856), L.Dirixle (1805-1859) kabi olimlar tomonidan yozilgan asarlarda qo‘llanilgan.

Funksiya tushunchasi birinchi marta L.Eyler tomonidan ta’rif berilgan, so‘ngra N.I.Lobochevskiy va L.Dirixle kabi olimlar tomonidan har tomonlama mukammal bo‘lgan hozirda biz ishlatib kelayotgan funksiyaning ta’rifi berilgan. Funksiya degan so‘z lotincha “functio” so‘zidan olingan bo‘lib uning lug‘aviy ma’nosi “faoliyat yoki moslik, jo‘natish” bo‘lib funksiya so‘zni birinchi bo‘lib G.Leybnets 1692- yili o‘z ilmiy ishlarida qo‘llagan.

Funksiya tushunchasini maktab matematika kursida kiritishni ikki davrga bo‘lish mumkin. Birinchi davri V sinfdan boshlab funksiya va grafiklar degan mavzugacha bo‘lgan davr. Bu davr ichida o‘qituvchi o‘quvchilarga sonning nisbati, to‘g‘ri va teskari proporsional miqdorlar, Dekart koordinata tekisligi kabi tushunchalarni o‘rganish orqali o‘quvchilarda funksional bog‘liqlik tushunchalari shakllantiriladi. XVIII asrga kelib o‘zgaruvchi miqdor va koordinatalar metodi degan tushunchalar R.Dekart tomonidan kiritildi.

VI sinfdan boshlab sonli ifodalarni harfiy ifodalar bilan almashtirish algebra darslarida “To‘g‘ri va teskari proporsional miqdorlar”, “Algebraik ifodaning son qiymatini topish”, “Amallarda berilganlar bilan amal natijalari orasidagi bog‘lanish”, “Temperatura va tekis harakatning grafigi” mavzularini o‘tishda o‘quvchilarni funksional bog‘lanishlarga tayyorlaydigan tushunchalarni

rivojlantirib boriladi. Yuqoridagi mavzularning har birini o‘tishda o‘quvchilarni funksional bog‘lanishlarga ko‘pgina ishlar qilish mumkin. Masalan, algebraik ifodaning son qiymatini o‘tayotganda o‘quvchilardan quyidagi jadvalni to‘ldirish va quyidagi so‘roqlarga javob berishni talab etish maqsadga muvofiqdir.

$x$	1	2	3	4	5
$\frac{1}{x}$					

1.  $\frac{1}{x}$  algebraik ifoda  $x$  ning har qanday qiymatida ham ma’noga egami?
2.  $x$  o‘rniga har hil sonlar qo‘yilsa,  $\frac{1}{x}$  qanday qiymatlarga ega bo‘ladi?
3.  $x$  ga berilgan qiymatlar ortib boradimi yoki kamayib boradimi?
4.  $x$  ning qiymatlari ortgan sari algebraik ifoda ( $\frac{1}{x}$ ) ning qiymatlari qanday o‘rgaradi?

O‘quvchilar bu so‘roqlarga javob berish bilan  $x$  ning noldan boshqa har qanday songa teng bo‘la olishini,  $x$  ning qiymati o‘zgarsa,  $\frac{1}{x}$  ning qiymati ham o‘zgarishini,  $x$  ning qiymati orta borgan sari algebraik ifoda ( $\frac{1}{x}$ ) ning qiymati kamaya borishini aniqlaydilar.

Bu yerda  $x$  ning o‘zgarishiga qarab  $\frac{1}{x}$  ning qiymatlari ham o‘zgarib boryapti. Masalan, to‘g‘ri to‘rtburchakning perimetri uning tomonlarini uzunligiga bog‘liqdir.

Agar to‘g‘ri to‘rtburchakning tomonlari ortsa, uning perimetri ham ortib boradi. Yuqoridagi misollarga asoslanib, quyidagicha mulohaza yuritish mumkin. To‘g‘ri to‘rtburchakning tomonlarini  $x$  o‘zgaruvchi va uning perimetir qiymatini esa  $y$  o‘zgaruvchi desak  $x$  o‘zgaruvchining qiymatlari  $x_1, x_2$  larga teng bo‘lib,  $y$  o‘zgaruvchining ularga mos qiymatlari  $y_1, y_2$  bo‘lganda  $\frac{x_2}{x_1} = \frac{y_2}{y_1}$  ekani kelib chiqadi. Yuqoridagilardan ko‘rinadiki, agar  $x$  o‘zgaruvchining qiymati bir necha marta orttirilganda  $y$  o‘zgaruvchining unga mos qiymati shuncha marta ortsa,  $y$  o‘zgaruvchi  $x$  o‘zgaruvchiga to‘g‘ri proporsional bog‘langan bo‘ladi. Bu qoidaga ko‘ra to‘g‘ri to‘rtburchakning perimetri uning tomonlariga proporsional bo‘ladi. Ammo to‘g‘ri to‘rtburchakning yuzasi uning tomonlariga proporsional emasdir.

Doiraning yusasi esa o‘z radiusiga proporsionaldir, ya’ni  $\frac{S_2}{S_1} = \frac{r_2}{r_1}$ . Masalan, 4,5 metr gazlama uchun 18 so‘m to‘langan bo‘lsa, 27 metr gazlama uchun necha so‘m to‘lanadi?

$$\frac{4,5}{27} = \frac{18}{x}, \quad 4,5x = 27 \cdot 18, \quad x = 108.$$

**Teskari proporsional o‘zgaruvchilar.** Bu mavzuni harakatga doir masala bilan tushuntirish maqsadga muvofiqdir. Avtomobil  $t$  vaqt ichida  $v$  tezlik bilan  $S$  masofani bosib o‘tadi.  $S$  masofani bosib o‘tish  $t$  vaqt bilan  $v$  tezlikka bog‘liqdir.  $v$  tezlik ortsa  $S$  masofani bosib o‘tish uchun ketgan  $t$  vaqt kamayadi. Agar  $v$  tezlik kamaysa,  $S$  masofani bosish uchun ketadigan vaqt ko‘payadi. Bu yerda tezlik bilan vaqt o‘zaro teskari bog‘lanishda bo‘lyapti. Agar  $x$  o‘zgaruvchining qiymati bir necha marta ortganda  $y$  o‘zgaruvchining qiymati ham shuncha marta kamaysa,  $y$  o‘zgaruvchi  $x$  o‘zgaruvchiga teskari proporsional bo‘ladi.  $x$  o‘zgaruvchining qiymatlari  $x_1, x_2$  lar bo‘lib,  $y$  o‘zgaruvchining bularga mos qiymatlari  $y_1$  va  $y_2$  bo‘lganda  $\frac{x_2}{x_1} = \frac{y_1}{y_2}$  nisbat o‘rinli bo‘ladi, bundan proporsiya xossasiga ko‘ra  $x_2 y_2 = x_1 y_1$  kelib chiqadi.

Masala. Sovхоз maydonini 3 ta traktor 60 soatda hayday oladi. Xuddi shunday 12 ta traktor shu maydonni qancha vaqtda hayday oladi?

$$\frac{3}{12} = \frac{x}{60}, \quad 12x = 180, \quad x = 15 \text{ soat.}$$

To‘g‘ri va teskari proporsional bog‘lanish tushunchalari o‘rgatilgandan keyin, o‘quvchilarga koordinata sistemasini quyidagicha tushuntirish maqsadga muvofiqdir.

Bunda kordinatalar sistemasi mexanik ravishda tushuntiriladi, uning ahamiyati ko‘rsatilmaydi. Bu yerda o‘qituvchi yer sirtidagi nuqtaning o‘rni, u nuqtaning koordinatalari deb ataluvchi ikki son kenglik (shimoliy yoki janubiy) va uzunlik (sharqiy yoki g‘arbiy) yordami bilan aniqlanishini, bu esa kema kapitaniga kemani dengizning qaysi yerida ketayotganini aniqlashga, sahrolarda yoki muz bilan qoplangan antraktida kabi qit‘alarda ekspedisiya lageri qayerda ekanini va bu

lagerni yer sirtidagi (masalan, qirg'oqdagi) boshqa obyektlardan uzoqligini aniqlash kabi ishlarda katta ahamiyatga ega ekanini tushuntirish kerak.

Kino-teatrda borgan o'quvchi kassadan sotib olgan biletga yozilgan ikki son, ya'ni qator va joy nomeri yordami bilan o'z o'rnini topib oladi.

Bu ikki son ham tomoshabinning kino zalidagi o'rnining kordinatalaridir. Biletga yozilgan bu ikki son tufayli har qaysi tomoshabin o'z joyiga o'tiradi. Yuqoridagi kabi misollar yordamida kordinata metodining praktik ahamiyatini ochib berish o'quvchilarda bu mavzuga qiziqish tug'diradi va binobarin, mavzuni o'quvchilarning yaxshi o'zlashtirishlariga sabab bo'ladi.

Shuni aytib o'tish kerakki, funksiyani o'rganishga tayyorgarlik ishlari dastur materiallaridan ajralgan holda emas, balki shu materiallar bilan mustahkam bog'langan holda, bu materiallarni bayon etish jarayonida olib borilishi kerak.

Funksiya tushunchasini quyidagi masala orqali kiritish maqsadga muvofiqdir.  $A$  va  $B$  shaharlar orasidagi masofa 180 km. Mashina  $A$  shahardan  $B$  shaharga 60 km/soat tezlik bilan jo'nab ketdi. Avtomobil  $x$  soatdan keyin  $A$  shahardan qanday masofada bo'ladi? Avtomobil  $x$  soatda  $60x$  km yo'l yurgan bo'ladi, u holda  $x$  soatdan keyin  $A$  shahardan  $180 - 60x$  masofada bo'ladi.  $180 - 60x$  masofani  $y$  desak u holda  $y = 180 - 60x$  tenglik hosil bo'ladi. Biz  $y$  masofa bilan  $x$  harakat vaqti orasidagi bog'lanishni ochib beradigan formula hosil qildik. Hosil qilingan formuladagi  $x$  o'zgaruvchi 3 dan katta bo'lmagan nomanfiy qiymatlar qabul qila oladi, chunki avtomobil 3 soatdan keyin  $B$  shaharga keladi.  $y = 180 - 60x$  tenglikdagi  $x$  ning har qanday qiymati uchun  $y$  ning unga mos qiymatini topish mumkin. Masalan, agar  $x = 1$  bo'lsa,  $y = 120$ , agar  $x = 2$  bo'lsa,  $y = 60$ , agar  $x = 3$  bo'lsa,  $y = 0$  bo'ladi. Bu degan so'z  $y$  ning qiymati  $x$  ning qiymatiga bog'liq holda o'zgaryapti, bunday bog'liqlik funksional bog'liqlik yoki funksiya deyiladi.

**Ta'rif.** Agar  $x$  o'zgaruvchining har bir qiymatiga biror  $f$  qonuniyatga ko'ra  $y$  o'zgaruvchining yagona qiymati mos keltirilsa, u holda  $y$  o'zgaruvchi  $x$  o'zgaruvchining funksiyasi deyiladi.

$x$  erkli o'zgaruvchi yoki argument,  $y$  erksiz o'zgaruvchi yoki funksiya deyiladi.

Erkli o'zgaruvchi  $x$  ning barcha qabul qiladigan qiymatlar to'plami funksiyani aniqlanish sohasi deyiladi.

Yuqoridagi masalada, funksiyani aniqlanish sohasi 0 dan 3 gacha bo'lgan sonlardan iboratdir, ya'ni  $0 \leq x \leq 3$ .

$y$  o'zgaruvchining  $x$  ni berilgan qiymatlariga mos qiymatlari funksiyaning o'zgarish sohasi deyiladi.  $0 \leq y \leq 180$ .

“Funksiyalar va grafiklar” mavzularini o'tishda funksional bog'lanishlarni o'rganishga tayyorgarlik davrida bayon qilingan materiallarga yakun yasalishi, bu materiallar yanada kengaytirilishi va dasturda talab etilgandek, yuqori saviyada chuqurlashtirilishi lozim.

Shuning uchun:

1. Funksiyani o'rganishning turmushdagi ahamiyatini o'quvchilarga aniq ochib berilishi kerak.

2. Dastur bo'yicha “ $y = kx + b$  ning grafigi to'g'ri chiziq” ekanini Dekart koordinatalar sistemasida ko'rsatib berish kerak.

3. Darsda funksional bog'lanishni ifoda qiluvchi yangi pedagogik texnologiyaga doir o'quvchilarning kuchi bilan tayyorlangan ko'rgazmali qurollardan unumli foydalanish zarur.

4. Nima uchun  $y = \frac{k}{x}$  yoki  $y = ax^2$  ning grafigi siniq chiziq bo'lmasdan, egri chiziqdan iborat ekanini o'quvchilarga yetarli ravishda tushuntirilishi kerak.

Funksional bog'lanishlarni o'qishga tayyorgarlik davrida ham, “funksiyalar va grafiklar” mavzusini o'tishda ham og'zaki mashqlarga o'rin berilishi kerak. Holbuki, quyidagilarga o'xshash mashqlarni og'zaki yechish o'qituvchiga oz vaqt sarflagan holda yaxshi natijaga erishish imkonini beradi:

1-mashq. Sifati o'rtacha bo'lgan 1 kg kartoshkadan 0,136 kg kraxmal olinadi. Kartoshka og'irligi ( $x$  kg) bilan undan olinadigan kraxmal og'irligi ( $y$  kg) orasidagi bog'lanishni formula yordami bilan qanday ifoda qilinadi?

2-mashq.  $y = 2x^2 + 3$  funksiyaning grafigi ordinata o'qini qanday nuqtada kesib o'tadi?

3-mashq. Grafigi  $y = 3x - 2$  funksiyaning grafigiga parallel bo'lib, ordinata o'qini (0,1) nuqtada kesib o'tgan funksiyani analitik formada qanday ifoda qilinadi?

4-mashq.  $y = 2x^2$  funksiya grafigini koordinata o'qlari bo'yicha 3 birlik o'ngga va 2 birlik yuqoriga surishdan hosil bo'lgan parabola analitik ko'rinishda qanday funksiyani ifoda qiladi?

**2.Funksiyaning berilish usullari.** Funksiya sharoitiga qarab jadval, analitik va grafik usullar bilan berilishi mumkin.

Kundalik hayotimizda uchraydigan ba'zi jarayonlarni o'rganishda funksiyaning jadval usulida berilishidan foydalaniladi. Masalan, meteorologlar Yer sharining turli nuqtalariga tushgan yog'inlar jadvalini tuzishadi. Yer sharining ana shu turli nuqtalari bu holda argument qiymatlari ro'ida, yog'in miqdorlari esa funksiyaning qiymatlari ro'lida keladi. Demak, funksiya jadval usulida berilishi deganda, argumentning ma'lum tartibdagi  $x_1, x_2, x_3, \dots, x_n, \dots$  qiymatlari va funksiyaning ularga mos keluvchi  $y_1, y_2, y_3, \dots, y_n, \dots$  qiymatlari orasidagi funksional moslikni jadval usulida berilishini tushunamiz.

$x$	$x_1$	$x_2$	$x_3$	$\dots$	$x_n$	$\dots$
$y$	$y_1$	$y_2$	$y_3$	$\dots$	$y_n$	$\dots$

Funksiyalarning jadval usulida berilishiga misol qilib kvadratlar, kublar, kvadrat ildizlar jadvallarni ko'rsatish mumkin. Bu usuldan ko'pincha miqdorlar orasida tajribalar o'tkazishda foydalaniladi.

Koordinatalar o'qlari tekislikni to'rt qismga – choraklarga ajratadi: *I, II, III, IV*. Birinchi chorak ichida ikkala koordinataning ishoralari saqlanadi va rasmda ko'rsatilgan qiymatlarga ega bo'ladi.

$x$  (absissalar) o'qi nuqtalari uchun ordinatalar nolga ( $y=0$ ),  $y$  (ordinatalar) o'qi nuqtalari uchun absissalar nolga ( $x=0$ ) tengdir. Koordinatalar boshining ordinatasi ham, absissasi ham nolga teng.

Yuqorida ko'rsatilgan usulda  $x$  va  $y$  koordinatalar kiritilgan tekislikni  $xy$  tekislik deb ataymiz. Bu tekislikda  $x$  va  $y$  koordinatalarga ega bo'lgan nuqtani ba'zan bevosita  $(x, y)$  bilan belgilaymiz.

Tekislikda kiritilgan  $x, y$  koordinatalarni, ularni ilk bor o'z tadqiqotlarida qo'llagan fransuz olimi R.Dekart (1596 - 1650) nomi bilan Dekart koordinatalari deb ataladi.

Yuqoridagi mulohazalardan ko'rinadiki tekislikni istalgan  $M$  nuqtasiga koordinatalarning yagona  $(x, y)$  jufti mos keladi va aksincha koordinatalarning har bir  $(x, y)$  juftiga tekislikning yagona  $M$  nuqtasi mos keladi. Nuqtaning koordinatalari tushunchasini kiritish nuqtaning tekislikdagi vaziyatini sonlar orqali

aniqlash imkonini beradi. Koordinatalar o'qi butun tekislikni choraklar deb ataluvchi to'rt qismga bo'ladi.

Chorak	Absissaning ishorasi	Ordinataning ishorasi
I	+	+
II	-	+
III	-	-
IV	+	-

**Funksiyaning grafik usulda berilishi.** Bu usul funksiyani analitik usulda berish ancha qiyin bo'lgan paytda qulaydir, ya'ni ko'pgina jarayonlarni o'rganishda biz formulalar tilida gaplasha olmaydigan asboblardan foydalanamiz, ammo bu asboblardan yordamida shunday egri chiziqlar hosil qilinadiki, bu egri chiziqchilarga qarab, bir o'zgaruvchi miqdorning ikkinchi o'zgaruvchi miqdorning o'zgarishiga bog'liq ravishda o'zgarish xarakteri haqida hukm chiqarish mumkin bo'ladi. Masalan, meditsinada elektrokardigraflar keng ishlatiladi. Bu asboblardan yordamida elektrokardiogrammalarni-yurak muskulida hosil bo'ladigan elektr impulslarining o'zgarishini tasvirlovchi egri chiziqlarini hosil qilish mumkin. Bunday egri chiziqlar yurakning ishlashi haqida tog'ri xulosa chiqarishga yordam beradi. Funksiyaning grafik usulda berilishidan matematikada ko'pincha funksiyaning ba'zi xossalari chizmalar orqali ko'rsatishda foydalaniladi.

**Ta'rif.**  $y=f(x)$  funksiyani grafik usulda berilganda uning grafigi ma'lum bo'lib, munosabat bilan bog'langan tekislikdagi barcha  $P(x,y)$  nuqtalar to'plamiga aytiladi. Funksiya grafik usulda berilganda uning grafigi ma'lum bo'lib, argumentning turli qiymatlariga mos keluvchi funksiya qiymatlari bevosita grafikdan topiladi.

Endi savol tug'iladi, har qanday egri chiziq biror funksiyani ifodalaydimi? Buni aniqlash uchun  $Oy$  o'qiga parallel to'g'ri chiziqlar chizamiz, agar bu to'g'ri chiziq egri chiziq bilan kamida ikki nuqtada kesishsa, grafik funksiyani ifodalaydi, agar bitta nuqtada kesishsa funksiyani ifodalaydi.

**Funksiyaning analitik usulda berilishi.** Bunday usulda erksiz o'zgaruvchi miqdor-funksiyaning erkli o'zgaruvchi miqdor – argument bilan bog'lovchi formula ko'rsatiladi.

Formula yordamida berilgan funksiyalarni analitik usulda berilgan funksiyalar deyiladi.

Masalan,  $y=x^2$ ,  $y=kx+b$ ,  $y=a^x$ ,  $y=\lg x$ ,  $y=\sin x$ ,  $y=\operatorname{tg} x$ ,  $y=2x^3-x+4$  funksiyalar analitik usulda berilgan. Analitik usulda berilgan funksiyalarga quyidagi ko'rinishdagi yozuv ham kiradi:

$$y = \begin{cases} \text{agar } x < 0 \text{ bo'lsa, } x \\ \text{agar } x \geq 0 \text{ bo'lsa, } \sin x \end{cases}$$

Funksiyani bunday analitik usuldagi berilishida ham  $x$  ning har bir qiymatiga  $y$  ning to'la aniqlangan qiymati mos keltirilgan, bunda  $x$  ning manfiy qiymatlarida  $y$  ushbu  $y=x$  formula bo'yicha,  $x$  ning manfiy bo'lmagan qiymatlarida esa  $y=\sin x$  formula bo'yicha to'piladi. Masalan, agar  $x=-2$  bo'lsa, bu holda  $y=x=-2$ ; agar  $x=\frac{p}{2}$  bo'lsa,  $y=\sin\frac{p}{2}=1$  bo'ladi.

Funksiyaning aniqlanish va o'zgarish sohasini topishga doir misollar ko'raylik. Quyidagi funksiyalarning aniqlanish sohasini toping:

1.  $y = \frac{3}{x}$ . Ma'lumki, kasr ma'noga ega bo'lishi uchun uning maxraji noldan farqli bo'lishi kerak. Demak,  $x \neq 0$  yoki  $x \in (-\infty; 0) \cup (0; +\infty)$ ,  $y \in (-\infty; 0) \cup (0; +\infty)$

2.  $y = (2x-1)^{-1}$ . Xuddi yuqoridagidek muhokama yuritsak,  $2x-1 \neq 0$  yoki  $2x \neq 1$ ,  $x \neq \frac{1}{2}$ . Demak, aniqlanish sohasi  $(-\infty; \frac{1}{2}) \cup (\frac{1}{2}; +\infty)$  dan iborat.  $y \in (-\infty; \frac{1}{2}) \cup (\frac{1}{2}; +\infty)$

3.  $y = \sqrt{3x+2}$ . Kvadrat ildiz ma'noga ega bo'lishi uchun ildiz ostidagi ifoda manfiy bo'lmasligi kerak, ya'ni  $3x+2 \geq 0$ , bunda  $x \geq -\frac{2}{3}$ . Demak, aniqlanish sohasi  $[-\frac{2}{3}, +\infty)$  dan iborat. O'zgarish sohasi esa  $y \in [0; \infty]$

4.  $y = \frac{1}{\sqrt{4x-5}}$ . Agar yuqoridagidek muhokama yuritsak, u holda  $4x-5 > 0$  bo'ladi. Bundan  $x > \frac{5}{4}$ . Demak, aniqlanish sohasi  $(\frac{5}{4}, +\infty)$  dan iborat.  $y \in (0, \infty)$

5.  $y = \lg(2x-1)$ . Logarifmik funksiya faqat musbat sonlar uchun aniqlangan. Demak,  $(2x-1) > 0$  bo'lishi kerak. Bundan  $x > \frac{1}{2}$ . Demak, aniqlanish sohasi  $(\frac{1}{2}, +\infty)$  dan iborat.  $y \in (0, \infty)$ .



## Mustaqil ishlash uchun misollar.

1. Quyidagi funksiyalarni aniqlanish sohasini toping:

a)  $y = \frac{1}{\sqrt{x^2 - 3x + 2}}$       b)  $y = \arcsin \frac{x-2}{2}$

v)  $y = \frac{1}{\lg(4-x^2)}$       g)  $y = \sqrt{25-x^2} + \lg \sin x$

J: a)  $(-\infty, 1) \cup (2, +\infty)$       b)  $[0, 4]$

v)  $(-2, -\sqrt{3}) \cup (-\sqrt{3}, \sqrt{3}) \cup (-\sqrt{3}, 2)$       g)  $[-5, -\pi) \cup (0, \pi)$

2. Quyidagi funksiyalarni o'zgarish sohasini toping:

a)  $y = \sqrt{16-x^2}$       b)  $y = 3\cos x - 1$ ;      v)  $y = 3^{-x^2}$

J: a)  $[0, 4]$ ; b)  $[-4, 2]$  v)  $(0, 1]$ .

## 2-§. Sonlar ketma-ketligi va uning limitini o'rgatish metodikasi.

### 1. Sonlar ketma-ketlik tushunchasi.

Bizga ma'lumki natural sonlar to'plami tartiblangan to'plamdir. Shuning uchun har qanday ixtiyoriy ikkita  $a$  va  $b$  natural son uchun  $a < b$ ,  $a > b$  yoki  $a = b$  munosabatlardan biri o'rinlidir.  $N$  to'plamning bu xossasi abstrakt obyektlarni u yoki bu yo'l vositasida  $N$  to'plam elementlari bilan bog'lab, sanashga imkion beradi. Agar  $N$  va  $R$  to'plamlar berilgan bo'lib,  $f$  - har bir natural  $n \in N$  songa biror haqiqiy  $x_n \in R$  sonni mos qo'yuvchi akslantirish bo'lsa uni matematik tilda  $f: N \rightarrow R$  yoki  $n \rightarrow x_n$  bu holda  $x_n = f(n)$  kabi yoziladi.  $f$  akslantirishni quyidagicha tasvirlash mumkin:  $1 \rightarrow x_1, 2 \rightarrow x_2, 3 \rightarrow x_3, \dots, n \rightarrow x_n, \dots$

**Ta'rif.**  $f(n)$  o'zgaruvchining qiymatlaridan tuzilgan  $x_1, x_2, x_3, \dots, x_n, \dots$  to'plam sonlar ketma ketligi deyiladi va u  $\{x_n\}$  kabi yoziladi.

**Ta'rif.** Agar  $y = f(x)$  funksiyaning argumenti  $x$  ni qabul qiladigan qiymatlari natural sonlar to'plamidan iborat bo'lsa, bu holda bunday funksiyani  $N = \{1, 2, 3, \dots\}$  natural argumentli funksiya deb ataladi va u quyidagicha yoziladi  $y = f(n)$  yoki  $y = f(N)$

**Ta'rif.** Natural argumentli funksiya  $y = f(n)$  ning xususiy qiymatlarining  $f(1), f(2), f(3), \dots, f(n), \dots$  ketma-ketligiga cheksiz sonlar ketma-ketligi deb ataladi.

$$f(1) = x_1, f(2) = x_2, f(3) = x_3, \dots, f(n) = x_n, \dots$$

Bu ta'rifdan ko'rinadiki, cheksiz sonlar ketma-ketligining har bir hadi ma'lum bir tartib nomeriga ega bo'layapti. Umuman olganda sonlar ketma-ketligi  $\{a_n\} = a_1, a_2, a_3, \dots, a_n, \dots, \{x_n\} = x_1, x_2, x_3, \dots, x_n, \dots$  ko'rinishlarda belgilanadi.

Ketma-ketlikni tashkil qilgan sonlar shu ketma-ketlikning hadlari deyiladi. Bularga ko'ra  $x_1$ - ketma-ketlikning birinchi hadi,  $x_2$ - ikkinchi hadi  $x_n$ - ketma-ketlikni  $n$  chi hadi yoki umumiy hadi deb yuritiladi. Agar ketma-ketlikning  $n$  hadi berilgan bo'lsa shu hadga ega bo'lgan ketma-ketlikni tuzish mumkin. Masalan, 1)  $x_n = \frac{n}{n+1}$

berilgan bo'lsa,  $\frac{1}{2}, \frac{2}{3}, \frac{3}{4}, \frac{4}{5} \dots$  ketma-ketlikni tuzish mumkin.

2)  $x_n = aq^{n-1}$  bo'lsa,  $a, aq, aq^2, \dots, aq^{n-1}, \dots$  ketma-ketlikni tuzish mumkin.

**Ta'rif:** Tartib nomeriga ega bo'lgan sonlar to'plami sonlar ketma-ketligi deyiladi.

Sonlar ketma-ketligi uch xil bo'ladi.

1. O'suvchi ketma-ketlik.
2. Kamayuvchi ketma-ketlik.
3. Tebranuvchi ketma-ketlik.

**Ta'rif:** Agar ketma-ketlikning har bir hadi o'zidan avvalgi hadiga nisbatan qiymat jihatidan ortib borsa, u holda bunday ketma-ketliklar o'suvchi ketma-ketlik deyiladi.

Masalan:  $\left\{ \frac{n}{n+1} \right\}$  o'suvchi ketma-ketlik; aks holda  $\left\{ \frac{n+1}{n} \right\}$  kamayuvchi

ketma-ketlik deyiladi.

Masalan:  $\left\{ \frac{1}{n} \right\}$  kamayuvchi ketma-ketlik.

**Ta'rif:** O'smaydigan va kamaymaydigan ketma-ketliklar tebranuvchi ketma-ketliklar deyiladi.

Masalan:  $\{x_n\} = (-1)^n$

$x_0 = -1; x_2 = 1; x_3 = -1; x_4 = 1; \dots$

Agar ketma ketlikning dastlabki hadlari berilgan holda keyingi hadlarni oldingi hadlari orqali topishni ifodalaydigan qoida rekkurrent qoida deb ataladi. Masalan,  $x_1 = 1, x_2 = 1, x_n = x_{n-2} + x_{n-1}, n \geq 3$  qoida bilan 1,1,2,3,5,8,13 ... ketma-ketlik hadlarini topishimiz mumkin. Bu sonlar Fibonacci sonlari deb yuritiladi.  $x_n$  sonlar ketma ketligining hadlar soni cheksiz bo'lsa bu holda ketma - ketlikning barcha hadlaridan tuzilgan to'plam cheksiz yoki chekli to'plam bo'lishi mumkin. Masalan 1,2,3,...,n ... ketma-ketlik hadlaridan tuzilgan  $\{1,2,3 \dots\}$  to'plam cheksiz, 1,-1,1,-1, ... ketma-ketlikning hadlaridan tuzilgan  $\{-1,1\}$  to'plam chekli to'plamdir.

## 2. Chegaralangan ketma-ketliklar.

Biror  $\{x_n\}$  :

$$x_1, x_2, x_3, \dots, x_n, \dots$$

ketma-ketlik berilgan bo'lsin.

**Ta'rif:** Agar shunday o'zgarmas  $M$  son mavjud bo'lsaki,  $\{x_n\}$  ketma-ketlikning har bir hadi shu sondan katta bo'lmasa, ya'ni  $\forall n \in \mathbb{N}$  uchun  $x_n \leq M$  tengsizlik o'rinli bo'lsa,  $\{x_n\}$  yuqoridan chegaralangan ketma-ketlik deyiladi.

**Ta'rif:** Agar shunday o'zgarmas  $m$  son mavjud bo'lsaki, ya'ni  $\forall n \in \mathbb{N}$  uchun

$$x_n \geq m$$

tengsizlik o'rinli bo'lsa,  $\{x_n\}$  quyidan chegaralangan ketma-ketlik deyiladi.

**Ta'rif:** Agar ketma-ketlik ham quyidan, ham yuqoridan chegaralangan bo'lsa, ya'ni shunday o'zgarmas  $m$  va  $M$  sonlar topilsaki,  $\forall n \in \mathbb{N}$  uchun

$$m \leq x_n \leq M$$

tengsizliklar o'rinli bo'lsa,  $\{x_n\}$  chegaralangan ketma-ketlik deyiladi.

Misollar. 1. Ushbu  $x_n = 1 + \frac{1}{n^2}$ ;

$$1+1, 1+\frac{1}{4}, 1+\frac{1}{9}, \dots, 1+\frac{1}{n^2}, \dots$$

ketma-ketlik yuqoridan chegaralangan, chunki ixtiyoriy  $n \in \mathbb{N}$  uchun

$$x_n \leq 2 \quad (M=2)$$

tengsizlik o'rinli.

2. Ushbu:  $x_n = \frac{(-1)^{n+1}}{n^2}$

$$1, -\frac{1}{4}, \frac{1}{9}, \dots, \frac{(-1)^{n+1}}{n^2}, \dots$$

ketma-ketlik quyidan chegaralangan, chunki  $\forall n \in \mathbb{N}$  uchun

$$x_n \geq -\frac{1}{4} \quad (m = -\frac{1}{4})$$

tengsizlik o'rinli.

3. Ushbu  $x_n = \frac{n^2 - 1}{n^2}$

$$0, \frac{3}{4}, \frac{8}{9}, \dots, \frac{n^2 - 1}{n^2}, \dots$$

ketma-ketlik chegaralangan, chunki " $n \in \mathbb{N}$  uchun

$$0 \leq x_n < 1$$

tengsizlik o‘rinli. Haqiqiy sonlar to‘plami  $R$  ni olaylik. Agar u chekli to‘plam bo‘lsa, u holda uning elementlari orasida eng katta va eng kichik element mavjud. Agar u cheksiz to‘plam bo‘lsa, u holda har doim ham shunday bo‘lavermaydi. Masalan, natural sonlar to‘plami  $N$  da eng kichik son 1 ga teng ammo eng katta son yo‘q.  $(a,b)$  interval eng kichik songa ham, eng katta songa ham ega emas. Shuning uchun aniq, quyi va yuqori tushunchalarga quyidagicha ta’rif beramiz.

**Ta’rif.**  $M$  chekli son uchun quyidagi ikki shart bajarilsa u holda  $M$  soni  $\forall x_n \in R$  to‘plamning aniq yuqori chegarasi deyiladi va  $\sup\{x_n\}=M$  kabi yoziladi.

1.  $\forall x_n \in R$  uchun  $x_n \leq M$  tengsizlik o‘rinli bo‘lsa.
2.  $\forall e > 0$  uchun shunday  $\exists N \ n > N(e)$  bo‘ganda  $M - e < x_n \leq M$ .

**Ta’rif.**  $m$  chekli son uchun quyidagi ikki shart bajarilsa u holda  $m$  soni  $\forall x_n \in R$  to‘plamning aniq quyi chegarasi deyiladi va  $\inf\{x_n\}=m$  kabi yoziladi.

1.  $\forall x_n \in R$  uchun  $x_n \geq m$  tengsizlik o‘rinli bo‘lsa.
2.  $\forall e > 0$  uchun shunday  $\exists N \ n > N(e)$  bo‘ganda  $m \leq x_n < m + e$

1-misol.  $\{2 - \frac{1}{n}\}$ ,  $\{3n+3\}$  ketma ketliklarning aniq yuqori va chegaralari quyidagicha yoziladi.  $\sup\{2 - \frac{1}{n}\}=2$ ,  $\sup\{3n+3\}=\infty$ ,  $\inf\{2 - \frac{1}{n}\}=1$   $\inf\{3n+3\}=6$ .

2-misol.  $N=\{1,2,3\dots n\}$  bo‘lsa  $\sup\{N\}=\infty$ ,  $\inf\{N\}=1$  bo‘ladi.

### 3. Monoton ketma-ketliklar.

**Ta’rif:** Agar  $\{x_n\}$  ketma-ketlikning hadlari quyidagi

$$x_1 \leq x_2 \leq x_3 \leq \dots \leq x_n \leq \dots$$

$$(x_1 < x_2 < x_3 < \dots < x_n < \dots)$$

tengsizliklarni qanoatlantirsa, ya’ni " $n \in N$  uchun

$$x_n \leq x_{n+1} \ (x_n < x_{n+1})$$

bo‘lsa,  $\{x_n\}$  o‘svuvchi (qat’iy o‘svuvchi) ketma-ketlik deyiladi.

**Ta’rif:** Agar  $\{x_n\}$  ketma-ketlikning hadlari quyidagi

$$x_1 \geq x_2 \geq x_3 \geq \dots \geq x_n \geq \dots$$

$$(x_1 > x_2 > x_3 > \dots > x_n > \dots)$$

tengsizliklarni qanoatlantirsa, ya’ni " $n \in N$  uchun

$$x_n \geq x_{n+1} \ (x_n > x_{n+1})$$

bo‘lsa,  $\{x_n\}$  kamayuvchi (qat’iy kamayuvchi) ketma-ketlik deyiladi.

*O'suvchi (qat'iy o'suvchi), kamayuvchi (qat'iy kamayuvchi) ketma-ketliklar monoton ketma-ketliklar deyiladi.*

Misol. Ushbu  $x_n = \frac{n}{n+1}$ :  $\frac{1}{2}, \frac{2}{3}, \frac{3}{4}, \frac{4}{5}, \dots, \frac{n}{n+1}, \dots$

ketma-ketlikning o'suvchi ekanini ko'rsating.

Bu ketma-ketlikning

$$x_n = \frac{n}{n+1}, x_{n+1} = \frac{n+1}{n+2}$$

hadlarini olib,  $x_{n+1} - x_n$  ayirmani qaraymiz:

$$x_{n+1} - x_n = \frac{n+1}{n+2} - \frac{n}{n+1} = \frac{1}{(n+1)(n+2)}$$

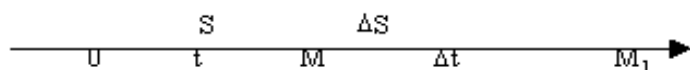
Ravshanki,  $\forall n \in \mathbb{N}$  uchun  $\frac{1}{(n+1)(n+2)} > 0$

Demak, " $n \in \mathbb{N}$  da  $x_{n+1} - x_n > 0$ , ya'ni  $x_n < x_{n+1}$  bo'ladi. Bu esa berilgan ketma-ketlikning o'suvchi (hatto qat'iy o'suvchi) va quyidan chegaralangan ekanini bildiradi.

### 3-§. Hosila va uning ustida amallar bajarish metodikasi.

#### 1. Nyuton masalasi.

**Masala:** Moddiy nuqta to'g'ri chiziqli harakat qilib  $M$  vaziyatda bo'lganda harakatning berilgan  $t$  paytdagi  $v$  tezligi topilsin.



Bu masalani yechish uchun quyidagicha faraz qilamiz.

Faraz qilaylik moddiy nuqta to'g'ri chiziqli harakat qilib  $t$  vaqt ichida  $S$  masofani bosib o'tsin, ya'ni  $O$  nuqtadan  $M$  nuqtaga kelsin.

Agar biz  $t$  vaqtga yana  $Dt$  vaqt qo'shsak,  $Dt$  vaqt ichida moddiy nuqta  $M_1$  masofaga keladi. Bizga ma'lumki, bu yerdagi  $S$  masofa  $t$  ning funksiyasidir, ya'ni  $t$  vaqt ichida  $S(t)$  masofani bosib o'tadi. U vaqtda  $OM_1$  orasidagi masofa esa  $S(t+Dt)$  ga bog'liq bo'ladi. Agar moddiy nuqtani  $Dt$  vaqt ichida bosib o'tgan masofasini topadigan bo'lsak, u  $DS = S(t+Dt) - S(t)$  bo'ladi.

Moddiy nuqtani  $Dt$  vaqt ichida  $DS$  masofani bosishi uchun harakatdagi o'rtacha tezligi bizga fizika kursidan ma'lumki  $V_{o'rt} = \frac{\Delta S}{\Delta t}$  bo'ladi. Nuqtaning  $t$

vaqtdagi tezligi deb,  $Dt$  vaqt oralig'idagi  $v$  o'rtacha tezlikning  $D t$  nolga intilgandagi limitiga aytiladi.

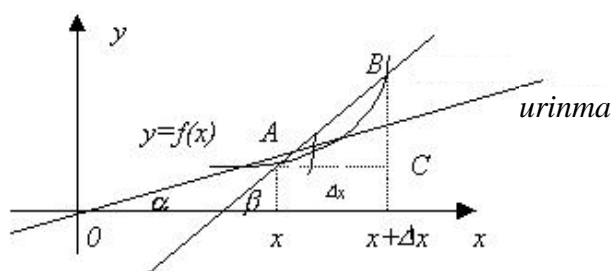
$$\text{Shuning uchun } \frac{\Delta S}{\Delta t} = \frac{S(t + \Delta t) - S(t)}{\Delta t}$$

$$\lim_{\Delta t \rightarrow 0} \frac{\Delta S}{\Delta t} = \lim_{\Delta t \rightarrow 0} \frac{S(t + \Delta t) - S(t)}{\Delta t} \quad (1)$$

Yuqoridagi savolni javobi (1) dagi limitni hisoblashga olib keldi.

### Leybnis masalasi.

Dekart koordinatalar sistemasida berilgan  $y=f(x)$  egri chizig'ini ixtiyoriy nuqtasiga o'tkazilgan urinmaning absissa o'qining musbat yo'nalishi bilan hosil qilgan burchagini tangensini topish masalasi bizni hosila tushunchasiga olib keladi.



27-Chizma.

$$DABC \text{ dan } \frac{BC}{AC} = \operatorname{tg} b \quad \operatorname{tg} b = \frac{\Delta y}{\Delta x} = \frac{f(x + \Delta x) - f(x)}{\Delta x} \quad (2)$$

**Ta'rif:**  $y=f(x)$  funksiyasining kesuvchisi  $AB$  ni B nuqtasini egri chiziq bo'ylab A nuqtaga intilgandagi limitik vaziyati egri chiziqni shu nuqtasiga o'tkazilgan urinma deb ataladi.

$Dx \rightarrow 0$  da  $Db \rightarrow Da$  bu holda B nuqta egri chiziq bo'ylab A nuqtaga intiladi.

$$\operatorname{tga} = \lim_{\Delta x \rightarrow 0} \frac{\Delta y}{\Delta x} = \lim_{\Delta x \rightarrow 0} \frac{f(x + \Delta x) - f(x)}{\Delta x} \quad (3)$$

Yuqoridagi qo'yilgan masalani yechish bizni (3) dagi limitni hisoblashga olib keldi.

### 2.Hosilaning ta'rifi:

$y=f(x)$  funksiya  $X$  sohada aniqlangan bo'lsin. Erkli o'zgaruvchining birorta  $x=x_0$  qiymatini olib  $X$  sohadan chiqmaydigan  $x_0+Dx$  orttirma beramiz, u holda  $Dy=f(x_0+Dx)-f(x_0)$  funksiya orttirmasi hosil bo'ladi.

**Ta'rif:**  $y=f(x)$  funksiyasini  $x=x_0$  nuqtadagi funksiya orttirmasi  $Dy$  ni argument orttirmasi  $Dx$  ga bo'lgan nisbatini  $Dx \rightarrow 0$  dagi limiti mavjud bo'lsa, bu

limit berilgan  $y=f(x)$  funksiyasini  $x=x_0$  nuqtadagi hosilasi deyiladi va  $y'_{x_0}$  yoki  $f'(x_0)$  kabi yoziladi. Umumiy holatda esa  $y'_x, f'(x); \frac{dy}{dx}$  deb yoziladi,

$$y'_{x_0} = f'(x_0) = \lim_{\Delta x \rightarrow 0} \frac{\Delta y}{\Delta x} = \lim_{\Delta x \rightarrow 0} \frac{f(x_0 + \Delta x) - f(x_0)}{\Delta x}$$

Bu ta'rifni (1) va (3) limitlarga tadbiq qilsak,

$$\lim_{\Delta t \rightarrow 0} \frac{\Delta S}{\Delta t} = \lim_{\Delta t \rightarrow 0} \frac{S(t + \Delta t) - S(t)}{\Delta t} = S'_t = S'(t)$$

$$\lim_{\Delta x \rightarrow 0} \frac{\Delta y}{\Delta x} = \lim_{\Delta x \rightarrow 0} \frac{f(x + \Delta x) - f(x)}{\Delta x} = y'_x = f'(x)$$

### Hosilasining mexanik ma'nosi.

Moddiy nuqtani  $t$  vaqt ichidagi  $S$  masofani bosish uchun harakatdagi tezligini topishdan iborat.

### Hosilaning geometrik ma'nosi.

Egri chiziqni biror nuqtasiga o'tkazilgan urinmani absissa o'qining musbat yo'nalishi bilan hosil qilgan burchak koeffitsienti  $tg a$  ni topishdan iborat.

$$y - y_0 = k(x - x_0), \quad k = tg a = \lim_{\Delta x \rightarrow 0} \frac{\Delta y}{\Delta x} = y'_x = f'(x_0)$$

bu tenglamani  $f(x) = f(x_0) + f'(x_0)(x - x_0)$  bo'ladi.

Misol.  $y = x^3$  kubik parabolaning  $x=1$  nuqtadagi urinmasi  $f(x) = 1 + 3(x-1) = 3x - 2$  tenglama bilan ifodalanadi, chunki  $y' = 3x^2$  ni  $x=1$  nuqtadagi qiymati  $y' = 3$  ga teng bo'ladi.

### 3. Elementar funksiyalarning hosilalarini topish.

$$1) y = c; \quad y' = c' = 0$$

$$2) y = x^n; \quad y' = nx^{n-1}$$

$$Isbot: y + Dy = (x + Dx)^n$$

$$Dy = (x + Dx)^n - x^n = x^n + nx^{n-1}Dx + \dots$$

$$\dots + \frac{n(n-1)(n-2)\dots[n-(n-1)]\Delta x^n}{1 \cdot 2 \cdot 3 \cdot \dots \cdot n} - x^n$$

$$\frac{\Delta y}{\Delta x} = nx^{n-1} + \frac{n(n-1)x^{n-2}\Delta x}{1 \cdot 2} + \dots$$

$$\lim_{\Delta x \rightarrow 0} \frac{\Delta y}{\Delta x} = nx^{n-1} + \lim_{\Delta x \rightarrow 0} \frac{n(n-1)x^{n-2}\Delta x}{1 \cdot 2} + \dots$$

$$y'_x = nx^{n-1}$$

$$y = \frac{1}{x}; \quad y'_x = -\frac{1}{x^2}$$

$$\text{Isboti. } y + \Delta y = \frac{1}{x + \Delta x}$$

$$\Delta y = \frac{1}{x + \Delta x} - \frac{1}{x}$$

$$\Delta y = \frac{x - x - \Delta x}{x(x + \Delta x)}$$

$$\frac{\Delta y}{\Delta x} = -\frac{1}{x^2 + x\Delta x}$$

$$4) \quad \lim_{\Delta x \rightarrow 0} \frac{\Delta y}{\Delta x} = -\lim_{\Delta x \rightarrow 0} \frac{1}{x^2 + x\Delta x} \quad y'_x = -\frac{1}{x^2};$$

$$y = a^x; \quad y' = a^x \ln a$$

*Isboti:*

$$y + Dy = a^{x+Dx}$$

$$Dy = a^{x+Dx} - a^x$$

$$Dy = a^x (a^{Dx} - 1)$$

$$\frac{\Delta y}{\Delta x} = \frac{a^x (a^{\Delta x} - 1)}{\Delta x}$$

$$\lim_{\Delta x \rightarrow 0} \frac{\Delta y}{\Delta x} = a^x \lim_{\Delta x \rightarrow 0} \frac{(a^{\Delta x} - 1)}{\Delta x} = a^x \ln a$$

$$y'_x = (a^x)' = a^x \ln a.$$

$$y = \sqrt{x}; \quad y'_x = \frac{1}{2\sqrt{x}}$$

*Isboti*

$$y = x^{\frac{1}{2}}; \quad y = \frac{1}{2} \cdot x^{\frac{1}{2}-1} = \frac{1}{2\sqrt{x}}$$

$$6) \quad y = \sin x; \quad y' = \cos x$$

*Isboti:*

$$y + Dy = \sin(x + Dx)$$

$$Dy = \sin(x + Dx) - \sin x$$

$$Dy = 2 \sin \frac{\Delta x}{2} \cos(x + \frac{\Delta x}{2}) \quad \frac{\Delta y}{\Delta x} = \frac{\sin \frac{\Delta x}{2}}{\frac{\Delta x}{2}} \cos(x + \frac{\Delta x}{2})$$

$$\lim_{\Delta x \rightarrow 0} \frac{\Delta y}{\Delta x} = \lim_{\Delta x \rightarrow 0} \frac{\sin \frac{\Delta x}{2}}{\frac{\Delta x}{2}} \cos(x + Dx) = \cos x$$



$$7) \quad y = \cos x \quad y'_x = -\sin x$$

$$8) \quad y = \operatorname{tg} x; \quad y'_x = \frac{1}{\cos^2 x}$$

*Isboti:*

$$\begin{aligned} \frac{\Delta y}{\Delta x} &= \frac{\operatorname{tg}(x + \Delta x) - \operatorname{tg} x}{\Delta x} = \frac{\frac{\sin(x + \Delta x)}{\cos(x + \Delta x)} - \frac{\sin x}{\cos x}}{\Delta x} = \\ &= \frac{\sin(x + \Delta x) \cos x - \cos(x + \Delta x) \sin x}{\Delta x \cos x \cos(x + \Delta x)} = \frac{\sin \Delta x}{\Delta x} \cdot \frac{1}{\cos x \cos(x + \Delta x)}; \end{aligned}$$

$$y'_x = \lim_{\Delta x \rightarrow 0} \frac{\Delta y}{\Delta x} = \frac{1}{\cos^2 x}$$

$$9) \quad y = \operatorname{ctg} x; \quad y'_x = -\frac{1}{\sin^2 x}$$

$$10) \quad y = \log_a x; \quad y'_x = \log_a e \times \frac{1}{x}$$

$$\begin{aligned} y'_x &= \lim_{\Delta x \rightarrow 0} \frac{\log_a(x + \Delta x) - \log_a x}{\Delta x} = \lim_{\Delta x \rightarrow 0} \frac{\log_a \left(1 + \frac{\Delta x}{x}\right)}{\frac{\Delta x}{x}} = \\ &= \lim_{\Delta x \rightarrow 0} \log_a \frac{1 + \frac{\Delta x}{x}}{\frac{\Delta x}{x}} = \frac{\log_a e}{x} \end{aligned}$$

$$11) \quad y = a^x; \quad \ln y = x \ln a$$

$$\frac{1}{y} \cdot y' = \ln a, \quad y' = y \ln a, \quad y' = a^x \ln a.$$

#### 4. Funksiyaning o'ng va chap hosilalari.

**Ta'rif.** Agar  $\Delta x \rightarrow +0$  ( $\Delta x \rightarrow -0$ ) da  $\frac{\Delta y}{\Delta x}$  nisbatning limiti

$$\lim_{\Delta x \rightarrow +0} \frac{\Delta y}{\Delta x} = \lim_{\Delta x \rightarrow +0} \frac{f(x_0 + \Delta x) - f(x_0)}{\Delta x} \quad \left( \lim_{\Delta x \rightarrow -0} \frac{\Delta y}{\Delta x} = \lim_{\Delta x \rightarrow -0} \frac{f(x_0 + \Delta x) - f(x_0)}{\Delta x} \right)$$

mavjud va chekli bo'lsa, bu limit  $f(x)$  funksiyasini  $x_0$  nuqtadagi o'ng (chap) hosilasi deb ataladi va u quyidagicha  $f'(x_0+0)$ , ( $f'(x_0-0)$ ) belgilanadi.

Misol.  $f(x) = |x|$  bu funksiyani hosilalari hisoblansin. Bu funksiyani o'ng limiti  $f'(x_0+0) = \lim_{\Delta x \rightarrow +0} \frac{\Delta y}{\Delta x} = 1$  ga teng. Chap limiti esa  $f'(x_0-0) = \lim_{\Delta x \rightarrow -0} \frac{\Delta y}{\Delta x} = -1$  ga teng.

Agar  $f(x)$  funksiya  $x_0$  nuqtada  $f'(x_0)$  hosilaga ega bo'lsa, funksiya shu nuqtada bir tomonlama limitlarga ega bo'lib  $f'(x_0+0) = f'(x_0-0) = f'(x_0)$  tenglik o'rinli bo'ladi.

Agar  $(x_0)$  atrofda uzluksiz  $f(x)$  funksiyasi  $x_0$  nuqtada  $f'(x_0+0)$  va  $f'(x_0-0)$  hosilalarga ega bo'lib  $f'(x_0+0)=f'(x_0-0)$  tenglik o'rinli bo'lsa, funksiya shu nuqtada  $f'(x_0)$  hosilaga ega bo'lib  $f'(x_0)=f'(x_0+0)=f'(x_0-0)$ .

**Ta'rif.** Agar  $\lim_{\Delta x \rightarrow 0} \frac{\Delta y}{\Delta x} = \lim_{\Delta x \rightarrow 0} \frac{f(x_0 + \Delta x) - f(x_0)}{\Delta x} = \pm \infty$  tengligi o'rinli bo'lsa u

holda bu tenglik  $f(x)$  funksiyasini  $x_0$  nuqtadagi cheksiz hosilasi deyiladi.

### 5. Teskari funksiyaning hosilasi.

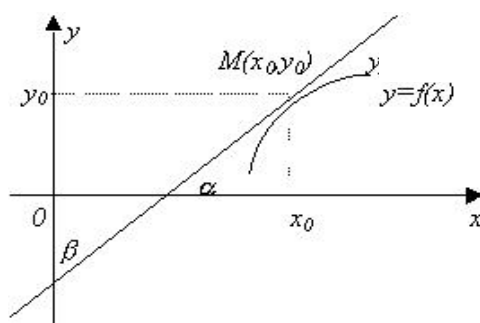
$y=f(x)$  funksiyasi  $x=x_0$  nuqtada aniqlangan uzluksiz bo'lib, 1-tartibli hosilaga ega bo'lsin.

**Teorema:** agar  $y=f(x)$  funksiyasi  $x=x_0$  nuqtada aniqlangan va uzluksiz bo'lib,  $f'(x_0) \neq 0$  hosilaga ega bo'lsa, u holda bu funksiyaga teskari bo'lgan  $x=j(y)$  funksiyasi  $y=y_0$  nuqtada  $x'_y$  yoki  $j'(y_0)$  hosilaga ega bo'lib,  $x'_y = \frac{1}{y'_x}$  bo'ladi.

**Isboti:**  $x=j(y)$  funksiyasi  $y=y_0$  nuqtada aniqlangan va uzluksiz bo'lganligi uchun uning shu nuqtadagi orttirmasi  $Dx = j(y_0+Dy) - j(y_0)$  bo'ladi. Tenglikning har ikki tomonini  $Dy$  ga bo'lsak,  $\frac{\Delta x}{\Delta y} = \frac{1}{\frac{\Delta y}{\Delta x}}$   $y=f(x)$  funksiyasi uzluksiz funksiya

bo'lganligi uchun  $Dy \neq 0$  da  $Dx \neq 0$  shuning uchun  $\lim_{\Delta y \rightarrow 0} \frac{\Delta x}{\Delta y} = \lim_{\Delta x \rightarrow 0} \frac{1}{\frac{\Delta y}{\Delta x}}$  ta'rifga ko'ra,

$x'_y = \frac{1}{y'_x}$ ; Geometrik isboti quyidagichadir (28-chizma).



28-Chizma.

$$\beta + \epsilon = \frac{p}{2} \quad \operatorname{tg} \beta = \frac{1}{\operatorname{tg} \epsilon}$$

$$\operatorname{tg} \left( \frac{p}{2} - \epsilon \right) = \operatorname{tg} \beta \quad \operatorname{tge} = \frac{1}{\operatorname{tg} \beta}$$

$$\operatorname{tg} \beta = \operatorname{ctge}$$

bundan  $x'_y = \frac{1}{y'_x}$

1.  $y = \arcsin x$  funksiyasining hosilasi topilsin. Bizga ma'lumki bu funksiya  $-1 \leq x \leq 1$ ,  $-\frac{p}{2} \leq y \leq \frac{p}{2}$  shu oraliqda  $x$  va  $y$  ning qiymatlari joylashgan, hamda  $y = \arcsin x$  funksiyaga teskari bo'lgan  $x = \sin y$  funksiyasi mavjud formulaga ko'ra  $x'_y = \frac{1}{y'_x}$  edi.

$$(\arcsin x)' = \frac{1}{(\sin y)'} = \frac{1}{\cos y} = \frac{1}{\sqrt{1 - \sin^2 y}} = \frac{1}{\sqrt{1 - x^2}}$$

2.  $y = \arccos x$   $y' = ?$

$x = \cos y$

$$(\arccos x)' = \frac{1}{(\cos y)'} = -\frac{1}{\sin y} = -\frac{1}{\sqrt{1 - \cos^2 y}} = -\frac{1}{\sqrt{1 - x^2}}$$

$y = \arctg x$   $x = tgy$   $-\frac{p}{2} < x < \frac{p}{2}$   $-\frac{p}{2} < y < \frac{p}{2}$

$$(\arctg x)' = \frac{1}{(tgy)'} = \frac{1}{\frac{1}{\cos^2 y}} = \cos^2 y = \frac{\cos^2 y}{\cos^2 y + \sin^2 y} = \frac{1}{1 + tg^2 y} = \frac{1}{1 + x^2}$$

4.  $y = \text{arcctg} y$   $x = ctgy$

$$(\text{arcctg} y)' = \frac{1}{(ctgy)'} = -\frac{1}{\frac{1}{\sin^2 y}} = -\frac{\sin^2 y}{\sin^2 y + \cos^2 y} = -\frac{1}{1 + ctg^2 y} = -\frac{1}{1 + x^2}$$

### Quyidagi funksilarni hosilalarini toping.

1.  $y = \arcsin \frac{1}{x}$

j:  $-\frac{1}{x\sqrt{x^2 - 1}}$

2.  $y = \text{arcctg} \sqrt{x}$

j:  $-\frac{1}{2\sqrt{x}(1+x)}$

3.  $y = \ln \text{arctg} \sqrt{x}$

j:  $y = \frac{1}{2\sqrt{x}(1+x)\text{arctg} \sqrt{x}}$

4.  $y = \arccos \sqrt{x}$

j:  $-\frac{1}{2\sqrt{x}\sqrt{1-x}}$

### Mustaqil ishlash uchun misollar.

1. Ta'rifdan foydalanib quyidagi funksiyani hosilalarini toping.

$y = 5x^2 - 3x$ ,  $y = \sqrt{x}$ ,  $y = \sin 3x$

2. Quyidagi funksiyalarning hosilalari ta'rif asosida topilsin.

$y = \cos 2x$ ,  $y = \text{tg} 2x$ ,  $y = x^3$

3.  $y = \sqrt{x^3 - 1}$  funksiyasini hosilasini toping.  
 4.  $y = 2x^2 - 3x$  funksiyasini hosilasini ta'rifga ko'ra toping.

#### 4-§. Hosilani hisoblash qoidalari.

Biz elementar funksiyalarni hisoblashni o'rgandik. Endigi bizni asosiy maqsad chekli sondagi arifmetik amallar va superpozitsiyalar vositasida elementar funksiyalardan tuzilgan ixtiyoriy funksiyaning hosilasini hisoblash imkonini beruvchi qoidalarni ko'rib chiqamiz.

1. Agar  $u = u(x)$  funksiyasi  $x = x_0$  nuqtada hosilaga ega bo'lsa u holda  $y = c \cdot u(x)$  funksiyasi ham hosilaga ega bo'lib,  $[c \cdot u(x)]' = c \cdot u'(x)$  bo'ladi. Isbot:  $y = c \cdot u(x)$  desak, bu funksiyani orttirmasi  $y + Dy = c \cdot u(x + Dx)$  bo'ladi.

Bundan  $Dy = c \cdot u(x + Dx) - c \cdot u(x) \quad | : Dx$

$$\frac{\Delta y}{\Delta x} = c \frac{u(x + \Delta x) - u(x)}{\Delta x} \quad \text{yoki} \quad \frac{\Delta y}{\Delta x} = c \cdot \frac{\Delta u}{\Delta x}$$

Agar  $Dx \rightarrow 0$  da  $\lim_{\Delta x \rightarrow 0} \frac{\Delta y}{\Delta x} = c \cdot \lim_{\Delta x \rightarrow 0} \frac{\Delta u}{\Delta x}$  hosila ta'rifiga ko'ra  $y'_x = c \cdot u'(x)$ .

Misol:

$$u = 3x^3; \quad u' = (3x^3)' = 3(x^3)' = 3 \cdot 3x^2 = 9x^2.$$

2. Agar  $U(x)$  va  $V(x)$  funksiyalari  $x = x_0$  nuqtada hosilaga ega bo'lsa,  $U(x) \pm V(x)$  funksiya ham shu nuqtada hosilaga ega bo'lib  $[U(x) \pm V(x)]' = U'(x) \pm V'(x)$ .

Isboti:  $y = U(x) \pm V(x)$  funksiyaning orttirmasi

$$Dy = [U(x + Dx) - U(x)] \pm [V(x + Dx) - V(x)], \quad Dy = DU \pm DV \quad | : Dx$$

$$\frac{\Delta y}{\Delta x} = \frac{\Delta U}{\Delta x} \pm \frac{\Delta V}{\Delta x}$$

$$Dx \rightarrow 0 \text{ limitga o'tsak} \quad \lim_{\Delta x \rightarrow 0} \frac{\Delta y}{\Delta x} = \lim_{\Delta x \rightarrow 0} \frac{\Delta U}{\Delta x} \pm \lim_{\Delta x \rightarrow 0} \frac{\Delta V}{\Delta x}$$

Hosila ta'rifiga ko'ra  $y' = U' \pm V'$ .

3. Agar  $U(x)$  va  $V(x)$  funksiyalari  $x = x_0$  nuqtada hosilaga ega bo'lsa, ularning o'zaro ko'paytmasining hosilasi  $[U(x) \cdot V(x)]' = U'(x) \cdot V(x) + V'(x) \cdot U(x)$  bo'ladi.

Isboti:  $y = U(x) \cdot V(x)$  bo'lsa,  $Dy = U(x + Dx) \cdot V(x + Dx) - U(x) \cdot V(x)$  bo'ladi.

$$Dy = U(x + Dx) \cdot V(x + Dx) - U(x) \cdot V(x) + U(x + Dx) \cdot V(x) - U(x + Dx) \cdot V(x)$$

$$Dy = U(x + Dx) \cdot [V(x + Dx) - V(x)] + V(x) \cdot [U(x + Dx) - U(x)]$$

$$Dy = DV \cdot U + V \cdot DU \quad | : Dx$$

$$\frac{\Delta y}{\Delta x} = \frac{\Delta U}{\Delta x} \cdot V + U \cdot \frac{\Delta V}{\Delta x} \text{ bo'ladi, } \Delta x \rightarrow 0 \text{ limit olsak}$$

$$\lim_{\Delta x \rightarrow 0} \frac{\Delta y}{\Delta x} = \lim_{\Delta x \rightarrow 0} \frac{\Delta U}{\Delta x} \cdot V + \lim_{\Delta x \rightarrow 0} \frac{\Delta V}{\Delta x} \cdot U$$

$$\text{Hosila ta'rifiga ko'ra } y' = U' \cdot V + V' \cdot U$$

Agar  $U(x)$  va  $V(x)$  funksiyalari  $x=x_0$  nuqtada hosilaga ega bo'lsalar ularni o'zaro nisbatlari ham hosilaga ega bo'lib  $\left[\frac{U(x)}{V(x)}\right]' = \frac{U'(x)V(x) - V'(x)U(x)}{V^2(x)}$  bo'ladi.

$$\Delta y = \frac{U + \Delta U}{V + \Delta V} - \frac{U}{V} = \frac{V\Delta U - U\Delta V}{V(V + \Delta V)} : \Delta x$$

**Isboti:**

$$\frac{\Delta y}{\Delta x} = \frac{V \frac{\Delta U}{\Delta x} - U \frac{\Delta V}{\Delta x}}{V(V + \Delta V)} \quad \text{yoki}$$

$$\lim_{\Delta x \rightarrow 0} \frac{\Delta y}{\Delta x} = \frac{V \lim_{\Delta x \rightarrow 0} \frac{\Delta U}{\Delta x} - U \lim_{\Delta x \rightarrow 0} \frac{\Delta V}{\Delta x}}{V \lim_{\Delta x \rightarrow 0} (V + \Delta V)} = \frac{U'V - V'U}{V^2}$$

Agar  $y = U(x) \cdot V(x)$  funksiyalar hosilaga ega bo'lsalar, bu funksiyalar ko'paytmasining hosilasi  $(U \cdot V)' = U' \cdot V + V' \cdot U$  bo'ladi.

### Quyidagi funksiyalarni hosilalarini hisoblang.

- |                                   |  |
|-----------------------------------|--|
| 1. $y = \sqrt[3]{x}$              | j: $\frac{1}{3}x^{-\frac{2}{3}}$                             |
| 2. $y = \arcsin^2 x$              | j: $\frac{2 \arcsin x}{\sqrt{1-x^2}}$                        |
| 3. $y = \frac{1-x^2}{1-x^5}$      | j: $\frac{5x^4(1-x^2) - 2x(1-x^5)}{(1-x^5)^2}$               |
| 4. $y = \ln(x + \sqrt{x^2 + 4})$  | j: $\frac{1}{\sqrt{x^2 + 4}}$                                |
| 5. $y = \sqrt{\sin 2x + \cos 3x}$ | j: $\frac{2 \cos 2x - 3 \sin 3x}{2\sqrt{\sin 2x + \cos 3x}}$ |
| 6. $y = x \operatorname{sh} x$    | j: $\operatorname{sh} x + x \operatorname{ch} x$             |

### Mustaqil ishlash uchun misollar.

1. Hosilaning qoida va formulalaridan foydalannib quyidagi funksiyalarning hosilalarini toping:

a)  $y = \sqrt{x} + \frac{1}{x^2} - 3x$     b)  $y = x^5 \left(2 - \frac{x}{3} + 3x^2\right)$

2. Quyidagi funksiyalarning hosilalari topilsin.

$$y=5\sin x-\cos x, y=\operatorname{tg} x-\operatorname{ctg} x, y=x\operatorname{ctg} x, y=x^7-e^x, y=e^x \cos x$$

3. Quyidagi funksiyalarning hosilalari topilsin.

$$y=x^x, y=x^{\sin x}, y=\ln|x|$$

### 5-§. Integral va uning tadbirlarini o'rgatish metodikasi.

1. Biz hozirgacha biror  $y=f(x)$  funksiyasi berilgan bo'lsa, bu funksiyaning hosilasini yoki differensialini hisoblashni o'rgandik. Endi hosila olish amaliga teskari bo'lgan amal tushunchasini kiritishga harakat qilamiz. Agar bizga hosilasi olingan funksiya berilgan bo'lsa, ana shu funksiyani hosilasi olingunga qadar, ya'ni uning boshlang'ich ko'rinishi qanday bo'lgan edi degan savolga javob beramiz.

**Ta'rif.** Agar  $y=F(x)$  funksiyasining hosilasi  $f(x)$  ga teng bo'lsa, ya'ni  $F'(x)=f(x)$  tenglik o'rinli bo'lsa, u holda  $F(x)$  funksiyasi  $f(x)$  funksiya uchun boshlang'ich funksiya deyiladi.

1-misol. Agar  $f(x)=x^2$  bo'lsa, uning boshlang'ich funksiyasi  $F(x)=\frac{x^3}{3}$  bo'ladi, chunki  $F'(x)=\frac{3x^2}{3}=x^2=f(x)$  bo'ladi.

2-misol. Agar  $f(x)=\sin x$  bo'lsa, uning boshlang'ich funksiyasi  $F(x)=-\cos x$  bo'ladi, chunki,  $F'(x)=(-\cos x)'=\sin x=f(x)$ .

3-misol. Agar  $f(x)=\frac{1}{\sqrt{1-x^2}}$  bo'lsa, uning boshlang'ich funksiyasi  $F(x)=\arcsin x$  bo'ladi.

Yuqoridagi misollardan ko'rinadiki, agar  $f(x)$  funksiyasi uchun  $F(x)$  funksiyasi boshlang'ich funksiya bo'ladigan bo'lsa, u holda  $F(x)+C$  funksiyasi ham boshlang'ich funksiya bo'ladi, chunki  $[F(x)+C]'=f(x)$ ,  $C$  - o'zgarmas son. Bundan ko'rinadiki, agar  $f(x)$  funksiyasining boshlang'ich funksiyasi mavjud bo'lsa bunday boshlang'ich funksiyalar cheksiz ko'p bo'lib, ular o'zgarmas son  $C$  ga farq qilar ekan. 1-misolda  $\frac{x^3}{3}+C$ , 2-misolda  $(-\cos x+C)$ , 3-misolda esa  $(\arcsin x+C)$  boshlang'ich funksiyalar bo'ladi.

**Ta'rif:**  $f(x)$  funksiyasining boshlang'ich funksiyasining umumiy ko'rinishi  $F(x)+C$  ga shu  $f(x)$  funksiyasining aniqmas integrali deyiladi va u quyidagicha yoziladi:

$$\int f(x)dx=F(x)+C$$

Bu yerda  $\int$ -integral belgisi,  $f(x)dx$ - integral ostidagi ifoda deb yuritiladi.

**Ta'rif.**  $f(x)$  funksiyasini boshlang'ich funksiyasining umumiy ko'rinishi  $F(x)+C$  ni topish amaliga integrallash amali deyiladi. Bu ta'rifdan ko'rinadiki,  $f(x)$ -funksiyani integrallash amali shu funksiyani hosila olish yoki differensiallash amaliga nisbatan teskari bo'lgan amal ekan. Integrallash amali quyidagi muhim xossalarga ega:

**1-Xossa.** Agar differensiallash belgisi integrallash belgisidan oldin kelsa, ular o'zaro teskari amallar bo'lgani uchun bir-birini yo'qotadi:

$$d\int f(x)dx=f(x)dx$$

**2-Xossa.** Differensial belgisi integral belgisidan keyinda kelsa, bu belgilar bir-birini yo'qotgandan so'ng  $F(x)$  ga o'zgarmas  $C$  soni qo'shiladi.

$$\int df(x)dx=F(x)+C$$

**Isboti:**  $\int dF(x)=\int F'(x)dx=\int f(x)dx=F(x)+C$ .

**3-Xossa.** O'zgarmas sonni integral ishorasi tashqarisiga chiqarib yozish mumkin:

$$\int k \cdot f(x)dx=k \cdot \int f(x)dx.$$

**4-Xossa.** Algebrik yig'indining (ayirmaning) integrali qo'shiluvchilar (ayiriluvchilar) integrallarining algebrik yig'indisiga (ayirmasiga) teng.

$$\int [f(x) \pm g(x)]dx=\int f(x)dx \pm \int g(x)dx$$

**Isboti:**  $d\int [f(x) \pm g(x)]dx=d\{\int f(x)dx \pm \int g(x)dx\}=d\int f(x)dx \pm d\int g(x)dx=f(x)dx \pm g(x)dx$

### Integral jadvali.

1.  $\int dx=x+C$
2.  $\int x^n dx = \frac{x^{n+1}}{n+1} + c$
3.  $\int \frac{dx}{x} = \ln |x| + c$
4.  $\int a^x dx = \frac{a^x}{\ln a} + c$
5.  $\int e^x dx = e^x + c$
6.  $\int \sin x dx = -\cos x + c$
7.  $\int \cos x dx = \sin x + c$
8.  $\int \frac{dx}{\cos^2 x} = \operatorname{tg} x + c$
9.  $\int \frac{dx}{\sin^2 x} = -\operatorname{ctg} x + c$

$$10. \int \frac{dx}{\sqrt{a^2 - x^2}} = \arcsin \frac{x}{a} + c$$

$$11. \int \frac{dx}{a^2 + x^2} = \frac{1}{a} \operatorname{arctg} \frac{x}{a} + c$$

$$12. \int \frac{dx}{\sqrt{x^2 + a^2}} = \ln |x + \sqrt{x^2 + a^2}| + c$$

$$13. \int \frac{dx}{x^2 - a^2} = \frac{1}{2a} \ln \left| \frac{x-a}{x+a} \right| + c$$

### Aniqmas integralda o'zgaruvchini almashtirish.

Faraz qilaylik, bizga  $I = \int f(x) dx$  integralni hisoblash kerak bo'lsin. Integral ostida shunday  $f(x)$  funksiyalar mavjud bo'ladiki, bu funksiyalarning integralini hisoblashlik uchun yangi o'zgaruvchi kiritishga to'g'ri keladi. Faraz qilaylik,  $I = \int f(x) dx$  integralda  $x = j(t)$  o'zgaruvchi almashtiraylik, u holda  $dx = j'(t) dt$  bo'ladi. Ularni integral ostidagi ifodaga qo'ysak,  $\int f(x) dx = \int f(j(t)) j'(t) dt$  bo'ladi. Bu formula aniqmas integralda o'zgaruvchi almashtirish formulasi deyiladi.

1-misol.  $I = \int \frac{dx}{5-3x}$  ni hisoblang.

$$5-3x=z; \quad x = \frac{5-z}{3} \quad dx = -\frac{1}{3} dz$$

$$I = \int \frac{dx}{5-3x} = -\frac{1}{3} \int \frac{dz}{z} = -\frac{1}{3} \ln|z| = -\frac{1}{3} \ln|5-3x| + c$$

2-misol.  $I = \int \frac{dx}{1+\sqrt[3]{x+1}}$  ni hisoblang. Buni hisoblash uchun biz o'zgaruvchi

almashtirish usulidan foydalanamiz.

$$x+1=z^3 \text{ desak, } x=z^3-1, \quad dx=3z^2 dz$$

$$\begin{aligned} I &= \int \frac{dx}{1+\sqrt[3]{x+1}} = \int \frac{3z^2 dz}{1+z} = 3 \int \frac{z^2-1+1}{1+z} dz = \\ &= 3 \left( \int \frac{z^2-1}{1+z} dz + \int \frac{dz}{1+z} \right) = 3 \left( \int \frac{(z-1)(z+1)}{z+1} dz + \int \frac{dz}{1+z} \right) = \\ &= 3 \left( \int (z-1) dz + \ln|1+z| + c \right) = \frac{3}{2} (z^2 - z + \ln|1+z|) + c = \\ &= \frac{3}{2} \sqrt[3]{(x+1)^2} - 3\sqrt[3]{x+1} + 3 \ln|1+\sqrt[3]{x+1}| + c \end{aligned}$$

### Aniqmas integralni bo'laklab integrallash.

Bizga differensiallanuvchi bo'lgan  $U(x)$  va  $V(x)$  funksiyalari berilgan bo'lsin.

bizga ma'lumki,  $d(U \times V) = VdU + UdV$  edi.

Bu yerdan  $UdV$  ni topsak,  $UdV = d(U \times V) - VdU$  bo'ladi. Bu tengliklarni integrallasak,  $\int UdV = \int d(UV) - \int VdU$ ,  $\int UdV = UV - \int VdU$ .



Bu formula aniqmas integralda bo‘laklab integrallash formulasi deyiladi.

1-misol.  $I = \int x \ln x dx$  ni hisoblang.

$$U = \ln x \text{ bo'lsa, } dU = \frac{1}{x} dx \text{ bo'ladi.}$$

$$dV = x dx \text{ bo'lsa, } V = \frac{x^2}{2} \text{ bo'ladi.}$$

$$I = \int x \ln x dx = \frac{\ln x}{2} \cdot x^2 - \int \frac{x^2}{2} \cdot \frac{1}{x} dx = x^2 \cdot \frac{\ln x}{2} - \frac{1}{2} \cdot \frac{x^2}{2} + C = \frac{x^2}{2} \left( \ln x - \frac{1}{2} \right) + C$$

$$\text{Tekshirish. } \int f(x) dx = F(x) + c, \quad F'(x) = \left[ \frac{x^2}{2} \left( \ln x - \frac{1}{2} \right) + C \right]' =$$

$$= 2 \cdot \frac{x}{2} \cdot \left( \ln x - \frac{1}{2} \right) + x^2 \cdot \frac{1}{x} = x \ln x - \frac{x}{2} + \frac{x}{2} = x \ln x = f(x) .$$

2- misol.  $I = \int \arctg \sqrt{x} dx$  integralni hisoblansin.

$$U = \arctg \sqrt{x} \text{ bo'lsa } dU = \frac{dx}{2\sqrt{x}(1+x)}, \quad dV = dx \text{ desak } V = x \text{ bo'ladi. Bo'laklab}$$

integrallash formulasiga ko‘ra

$$\begin{aligned} I &= \int \arctg \sqrt{x} dx = x \arctg \sqrt{x} - \int \frac{x dx}{2\sqrt{x}(x+1)} = \\ &= x \arctg \sqrt{x} - \frac{1}{2} \int \frac{\sqrt{x} dx}{1+x} \end{aligned}$$

integralda  $\sqrt{x} = t$  desak,  $x = t^2$ ,  $dx = 2t dt$  bo‘lib

$$\begin{aligned} \int \frac{\sqrt{x}}{1+x} dx &= \int \frac{t 2t}{1+t^2} dt = 2 \int \frac{t^2 dt}{1+t^2} = 2 \left[ \int dt - \int \frac{dt}{1+t^2} \right] = \\ &= 2t - \arctg t + c = 2\sqrt{x} - 2 \arctg \sqrt{x} + c \end{aligned}$$

Bularga ko‘ra berilgan integral quyidagiga teng bo‘ladi.

$$\begin{aligned} I &= \int \arctg \sqrt{x} dx = x \arctg \sqrt{x} - \sqrt{x} + \arctg \sqrt{x} + c = \\ &= (x+1) \arctg \sqrt{x} - \sqrt{x} + c \end{aligned}$$

### Quyidagi integrallarni hisoblang.

- |                                    |   |
|------------------------------------|---|
| 1. $\int \frac{dx}{x\sqrt{x+1}}$   | j: $\ln \left  \frac{\sqrt{x+1}-1}{\sqrt{x+1}+1} \right  + C$ |
| 2. $\int \frac{xdx}{\sqrt{x^2+1}}$ | j: $\sqrt{x^2+1} + C$   |
| 3. $\int \frac{dx}{3x-2}$          | j: $\frac{1}{3} \ln  3x-2  + C$                               |

$$4. \int \ln^2 x dx \quad \text{j: } x(\ln^2 x - 2 \ln x + 2) + C$$

$$5. \int e^x \cos x dx \quad \text{j: } \frac{e^x}{2} (\sin x + \cos x) + C$$

### 6-§. Differensial tenglamalar

Egri chiziqni ixtiyoriy  $M(x, y)$  nuqtasiga o'tkazilgan urinmaning burchak koeffitsiyenti absissasining ikkilanganiga teng bo'lgan xossaga ega egri chiziq tenglamasini topaylik.

Yechish. Masala shartidan egri chiziqning  $M(x, y)$  nuqtasiga o'tkazilgan urinmaning burchak koeffitsiyenti  $2x$  ga tengligi kelib chiqadi. Ikkinchi tomondan urinmaning burchak koeffitsiyenti  $M$  nuqtaning ordinatasi  $y$  dan absissasi  $x$  bo'yicha olingan hosiladan iboratdir. Shunday qilib, ushbu tenglikka ega bo'lamiz:

$$\frac{dy}{dx} = 2x \quad (1)$$

yoki

$$dy = 2x dx \quad (2)$$

(1) yoki (2) tenglik asosida egri chiziq tenglamasini topishga, ya'ni o'zgaruvchi  $y$  ni  $x$  ning funksiyasi sifatida ifodalashga urinib ko'raylik. (1) tenglik hosilani o'z ichiga oladi; (2) tenglik esa izlanayotgan  $y$  funksiyaning differensialini o'z ichiga oladi; shuning uchun bunday tengliklar differensial tenglamalar deyiladi. Ildizlari sonlardan iborat bo'lgan algebraik tenglamalardan farqli o'laroq differensial tenglamalarning yechimi deb differensial tenglamani qanoatlantiruvchi  $x$  o'zgaruvchining funksiyasiga aytiladi, ya'ni u shunday funksiyaki, tenglamadagi  $y$  ning o'rniga qo'yilganda, uni ayniyatga aylantiradi.  $y$  ni xuddi shu funksiya deb faraz qilib (2) tenglikni ayniyat sifatida qarashimiz mumkin; uni integrallab topamiz:

$$\int dy = \int 2x dx + C$$

yoki

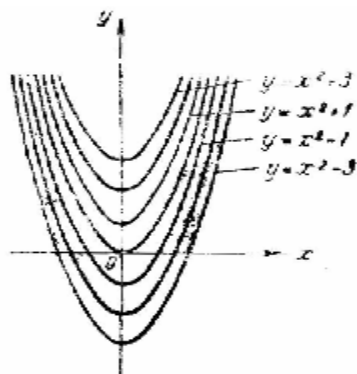
$$y = x^2 + C,$$

bu yerda  $C$  - ixtiyoriy o'zgarimas.

O'zgarimas  $C$  ning istalgan qiymatida  $x^2 + C$  ifodaning differensialini  $2x dx$  ga teng. (2) tenglamada  $y$  ni  $x^2 + C$  ifoda bilan almashtirish,  $d(x^2 + C) \equiv 2x dx$  ayniyatga olib keladi. Shunday qilib, (2) tenglamaning yechimi bo'lib bir emas,

balki o'zgarmas  $C$  ning qiymati bilan bir-biridan farq qiluvchi va  $x^2 + C$  ifoda bilan aniqlanuvchi cheksiz ko'p funksiyalar to'plami xizmat qiladi. Bu holda (2) tenglamaning yechimi bitta parametr  $C$  ga bog'liq bo'lgan funksiyalar oilasidan iborat deyiladi.

Geometrik nuqtai nazardan bu masala shartini aniq bir egri chiziq emas, balki  $C$  ning turli qiymatlariga mos kelgan egri chiziqlar oilasi (parabolalar) qanoatlantiradi degan ma'noni bildiradi. Bu oilaga tegishli egri chiziqlar (2) tenglamaning (yoki (1) ning, farqsiz) integral egri chiziqlari deyiladi.



29-chizma.

2. Endi quyidagi ikki xossaga ega bo'lgan egri chiziq tenglamasini topamiz:

- 1) egri chiziqning ixtiyoriy  $M(x, y)$  nuqtasidagi urinmaning burchak koeffitsiyenti  $-\frac{x}{y}$  ga teng; 2) egri chiziq  $M_0(3, 4)$  nuqtadan o'tadi.

Yechish. (1) shart ushbu differensial tenglamaga olib keladi:

$$\frac{dy}{dx} = -\frac{x}{y}$$

yoki

$$ydy = -x dx. \quad (3)$$

$y$  funksiya deb (3) tenglamani qanoatlantiruvchi funksiyani tushunamiz, ya'ni (3) tenglikni ayniyat sifatida deb qaraymiz va topamiz:

$$\int ydy = -\int x dx + C,$$

bundan esa:

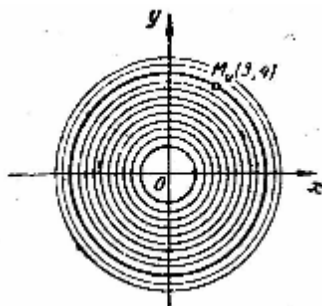
$$\frac{y^2}{2} = -\frac{x^2}{2} + C \quad (4)$$

yoki

$$x^2 + y^2 = C. \quad (5)$$

(5) tenglikda  $2C$  o'rniga  $C$  ning o'zini yozdik, chunki  $C$  ixtiyoriy o'zgarmas bo'lgani uchun uni  $2C$  ko'rinishida yoki  $C$  ko'rinishida yozish farqsizdir.

Masalan, (4) tenglikda  $C$  ga biror son qiymati, masalan, 5 berilsa (va, demak,  $2C=10$ ), u holda (5) tenglikdagi o'zgarmas  $C$  ga 10 qiymati berish mumkin.



30-chizma

Olingan (5) tenglik (3) tenglamaning integral egri chiziqlari koordinata boshida umumiy markazga ega bo'lgan (o'zgarmas) konsentrik aylanalar oilasi ekanini ko'rsatadi. Endi bu egri chiziqdan (3, 4) nuqtadan o'tuvchi egri chiziq tenglamasini topishimiz kerak. Bunday aylana aniq radiusga ega bo'ladi, uni (5) tenglikdan  $x=3$  va  $y=4$  deb aniqlaymiz.

Shunday qilib, topamiz,  $3^2 + 4^2 = C$ , ya'ni  $C=25$  va izlangan egri chiziq ushbu tenglama bilan aniqlanadi:

$$x^2 + y^2 = 25.$$

3. Endi differensial tenglamalar nazariyasi bilan bog'liq bo'lgan asosiy tushunchalar va ta'riflarni ko'rishga o'tamiz.

$x$  erkli o'zgaruvchi;  $y$  esa  $x$  ning noma'lum funksiyasi bo'lsin;  $x, y$  ni va uning turli tartibli hosilasi yoki differensialini o'zaro bog'lovchi tenglik differensial tenglama deyiladi. Masalan, ushbu tenglik differensial tenglamadir:

$$y' + xy = 0 \tag{6}$$

tenglik differensial tenglamadir.

Differensial tenglamani qanoatlantiruvchi har qanday funksiya uning yechimi deyiladi.

Masalan,  $y = e^{-\frac{x^2}{2}}$  funksiya (6) tenglamaning yechimidir. Haqiqatan ham:

$y' = -xe^{-\frac{x^2}{2}}$  va tenglamaning chap tomonidagi  $y$  ni  $e^{-\frac{x^2}{2}}$  bilan va  $y'$  ni  $-xe^{-\frac{x^2}{2}}$  ifoda bilan almashtirib, ushbu ayniyatga ega bo'lamiz:

$$-xe^{-\frac{x^2}{2}} + xe^{-\frac{x^2}{2}} = 0.$$

Differensial tenglamaning tartibi deb tenglamada ishtirok etuvchi hosila (differensial) ning eng yuqori tartibiga aytiladi. Misol uchun (6) tenglama birinchi tartibli tenglamadir;

$$y'' - y = 0 \quad \text{yoki} \quad \frac{d^2 y}{dx^2} - y = 0 \quad (7)$$

tenglama esa ikkinchi tartibli tenglamadir.

Biz (2) tenglamani quydagicha topamiz

$$y = x^2 + C \quad (8)$$

funksiyalar oilasi, (3) tenglamaning yechimi esa

$$x^2 + y^2 = C \quad (9)$$

funksiyalar oilasi ekanini ko'rdik. (8) tenglamadagi kabi (9) tenglamada ham ixtiyoriy o'zgarmas qatnashadi.

Umuman differensial tenglamaning umumiy yechimi yoki integrali deb uning tenglama tartibi qancha bo'lsa, shuncha ixtiyoriy o'zgarmas ishtirok etgan yechimiga aytiladi yoki, boshqacha aytganda, tenglama tartibiga teng bo'lgan  $C_1, C_2, C_3, \dots, C_n$  parametrlarga bog'liq bo'lgan funksiyalar oilasi tenglamasiga aytiladi. Agar bunda tenglama  $y$  ga nisbatan yechilgan bo'lsa, u holda uni differensial tenglamaning umumiy yechimi, agar  $y$  ga nisbatan yechilmagan bo'lsa, umumiy integrali deyiladi.

Shunday qilib, (8) munosabat (2) differensial tenglamaning umumiy yechimidir, (9) munosabat esa (3) differensial tenglamaning umumiy yechimidir.

Ikkinchi tartibli differensial tenglama (7) ning umumiy yechimi quyidagicha topamiz:

$$y = C_1 \cos x + C_2 \sin x. \quad (10)$$

$\frac{d^2 y}{dx^2} = \frac{d}{dx} \left( \frac{dy}{dx} \right)$  u holda  $\frac{d \left( \frac{dy}{dx} \right)}{dx} = f(x)$  bundan  $d \left( \frac{dy}{dx} \right) = f(x) dx$  bu tenglikni ikkala

qismini integrallasak  $\int d \left( \frac{dy}{dx} \right) = \int f(x) dx$  hosil bo'ladi.  $\frac{dy}{dx} = \int f(x) dx = F(x) + c$

bundan  $dy = F(x) dx + c_1 dx$  bu tenglikni ikkala qismini integrallasak

$y = \int F(x) dx + \int c_1 dx = j(x) + c_1 x + c_2$ . Xususiy yechimni topish uchun

o'zgaruvchilarning sonli qiymatlarini topish kerak, ammo buning uchun

boshlang'ich shartlar  $x$  va  $y$  larni sonli qiymatlari berilgan bo'lishi kerak.

## **IX BOBNI TAKRORLASH UCHUN SAVOLLAR.**

1. To'g'ri proporsional bog'lanish nima?
2. Teskari proporsional bog'lanish nima?
3. Funksiya ta'rifini ayting?
4. Funksiyaning aniqlanish va o'zgarish sohasi deb nimaga aytiladi?
5. Funksiyaning berilish usullari deganda nimani tushunasiz?
6. Hosila qanday ta'riflanadi?
7. Hosilaning geometrik ma'nosini ayting?
8. Elementar funksiyalarda hosila qanday bajariladi?
9. Murakkab funksiyaning hosilasi qanday formula bilan ifodalaniladi?
10. Yuqori tartibli hosila deganda nimani tushunasiz?
11. Berilgan funktsiyani boshlang'ich funksiyasi deb nimaga aytiladi?
12. Berilgan funktsiyani boshlang'ich funksiyasini umumiy ko'rinishi deganda nimani tushunasiz?
13. Berilgan funktsiyani integrali deb nimaga aytiladi?
14. Aniqmas integralni asosiy xossalarini ayting?
15. Aniqmas integralda o'zgaruvchini almashtirish formulasi qanday ifodalanadi?
16. Aniqmas integralda bo'laklab integrallash formulasini yozing.
17. Qanday tenglamaga differensial tenglama deb aytiladi?
18. Differensial tenglama qanday yechiladi?
19. Differensial tenglamaning xususiy yechimi qanday topiladi?
20. Differensial tenglamaning boshlang'ich shartlarni qanday topiladi?

## **IX-BOB UCHUN TAYANCH IBORALAR.**

To'g'ri proporsional, teskari proporsional, funktsiya, funktsiyaning aniqlanish va o'zgarish sohasi, funktsiyaning berilish usullari, hosila, hosilaning geometrik ma'nosi, murakkab funktsiyaning hosilasi, yuqori tartibli hosila, boshlang'ich funktsiya, funktsiyani integrali, aniqmas integralni asosiy xossalari, aniqmas integralda o'zgaruvchini almashtirish, aniqmas integralda bo'laklab integrallash, differensial tenglama, differensial tenglamani yechimlari, differensial tenglamaning xususiy yechimlari.

**X BOB.**  
**GEOMETRIYA KURSINI AKSIOMATIK QURILISHI AKSIOMA,  
POSTULAT, TEOREMA VA UNING TURLARINI O'RGATISH  
METODIKASI.**

---

**1-§. Matematik hukmning turlari.**

Bizga ma'lumki, maktab geometriya kursi deduktiv asosida mantiqiy qurilgan fan bo'lib, u asosan planimetriya va stereometriya bo'limlaridan iboratdir. Geometriyaning planimetriya bo'limida tekislikdagi geometrik figuralarning qonuniyatlari o'rganiladi. Stereometriya bo'limida esa fazoviy geometrik figuralarning qonuniyatlari o'rganiladi. Uning deduktiv qurilgani shu bilan izohlanadiki, biz geometriya kursini umumiylikdan xususiylikka tomon o'rganamiz. Chunki, avvalo, tekislikda yotuvchi ixtiyoriy nuqtalar to'plamiga geometrik figura deb ta'rif beramiz, so'ngra ana shu geometrik figurani xususiy hollarini o'rganamiz. Masalan, ko'pburchak va uning qabariq, botiq turlarini o'rganamiz, so'ngra qabariq ko'pburchakning turlari bo'lmish to'rtburchak, parallelogramm, trapetsiya, romb va kvadratlarni xossalarini o'rganamiz. Demak, bu yerda o'rganish jarayoni umumiylikdan xususiylik tomon amalga oshirilayapti. Geometriya kursini mantiqiylik deganda:

a) ta'riflanmaydigan boshlang'ich tushunchalar qabul qilinadi (nuqta, to'g'ri chiziq, tekislik va masofa);

b) boshqa geometrik figuralar ta'riflanmaydigan tushunchalar yordamida ta'riflanadi;

v) aksiomalar sistemasi qabul qilinadi;

g) ta'rif va aksiomalar yordamida teoremlar isbotlanadi.

Yuqoridagi aytib o'tilgan bosqichlar geometriya kursini mantiqiy qurilganligini ko'rsatadi.

Maktab matematika kursida matematik hukmlar aksioma, postulat, teorema ko'rinishda beriladi.

Aksioma grekcha axioma so'zidan olingan bo'lib, uning lug'aviy ma'nosi "obro'ga ega bo'lgan gap" demakdir. Shuning uchun ham aksiomaga maktab matematika kursida quyidagicha ta'rif berilgan:

*«Isbotsiz qabul qilinadigan matematik hukm aksioma deyiladi».*

Aksioma asosan eng sodda geometrik figura yoki sodda matematik qonuniyatlarning asosiy xossalarini ifodalovchi hukmdir. Masalan, maktab geometriya kursida o'rganish uchun qabul qilingan aksiomalarni qaraylik:

1. «Tekislikda yotuvchi ixtiyoriy bir nuqtadan shu tekislikdagi to'g'ri chiziqqa parallel bo'lgan faqat bitta to'g'ri chiziq o'tkazish mumkin».

2. «Tekislikdagi har qanday ikki nuqtadan faqat bitta to'g'ri chiziq o'tkazish mumkin».

Bizga ma'lumki, matematika fani aksiomalar sistemasi asosida qurilgandir. Matematika fanining mantiqiy asosda qurilishini yaratish uchun aksiomalarning bo'lishligi haqida fikr Gretsiyada bundan ming yil avval paydo bo'lgan edi. XIX asrning oxiri va XX asrning boshlarida matematika fanining turli bo'limlarida aksiomalar chuqur o'rganildi va rivojlantirildi.

Matematika kursidagi aksiomalar sistemasi asosan quyidagi uchta talabga javob berishi kerak.

1. Aksioma sistemasi ziddiyatsiz bo'lishi kerak. Bu degan so'z, biror aksiomadan chiqarilgan natija shu aksioma yordamida hosil qilingan boshqa natijaga yoki boshqa aksiomadan chiqarilgan xulosaga zid kelmasligi kerak.

2. Aksiomalar sistemasi mustaqil bo'lishi kerak, ya'ni hech bir aksioma ikkinchi bir aksiomadan kelib chiqadigan bo'lmasligi kerak.

3. Aksiomalar sistemasi shu fanga oid istalgan bir yangi tushunchani isbot etish uchun yetarli bo'lishi kerak, ya'ni biror matematik jumlaning isbotlashda hech qachon o'z-o'zidan tushunilishiga yoki tajribaga tayanilmaydi, bu matematik jumla boshqa teoremlar bilan, oxirida aksiomalar bilan asoslanishi kerak bo'ladi.

Maktab geometriya kursida quyidagi aksiomalar sistemasi mavjud.

1. Tegishlilik aksiomasi:

a) har qanday to'g'ri chiziq nuqtalar to'plamidan iboratdir.

b) har qanday ikki nuqtadan bitta va faqat bitta to'g'ri chiziq o'tkazish mumkin.

v) har qanday to'g'ri chiziqni olmaylik, shu to'g'ri chiziqqa tegishli bo'lgan va tegishli bo'lmagan nuqtalar mavjud.

2. Masofa aksiomasi:

a) har bir kesmaning uzunligi shu kesmaning har qanday nuqtasi ajratgan masofalar uzunliklarining yig'indisiga teng: b) A nuqtadan B nuqttagacha bo'lgan masofa B nuqtadan A nuqttagacha bo'lgan masofaga teng:  $|AB| = |BA|$ .



v) Ixtiyoriy uchta  $A, B, C$  nuqta uchun  $A$  dan  $C$  gacha bo'lgan masofa  $A$  dan  $B$  gacha va  $B$  dan  $C$  gacha bo'lgan masofalar yig'indisidan katta emas:  
 $|AC| \leq |AB| + |BC|$

3. Tartib aksiomasi:

a) To'g'ri chiziqdagi uchta nuqtadan bittasi va faqat bittasi qolgan ikkitasi orasida yotadi.

b) To'g'ri chiziq tekislikni ikki yarim tekislikka ajratadi.

4. Harakat aksiomasi:

a) Agar  $|AB|$  masofa musbat bo'lib, u  $|A_1B_1|$  masofaga teng bo'lsa,  $A$  nuqtani  $A_1$  nuqta va  $B$  nuqtani  $B_1$  nuqtaga akslantiruvchi faqat ikkita siljitish mumkin.

5. Parallellik aksiomasi:

Berilgan nuqtadan to'g'ri chiziqqa bitta va faqat bitta parallel to'g'ri chiziq o'tkazish mumkin.

## 2-§. Postulat.

"Postulat" so'zi lotincha so'z bo'lib, uning lug'aviy ma'nosi "talabni belgilovchi" demakdir. Postulat - bu ma'lum bir talab yoki shartlarni ifodalovchi matematik hukm bo'lib, bundagi talab va shartlarni ba'zi bir tushuncha yoki tushunchalar orasidagi munosabatlar orqali qanoatlantiradi.

**1-misol.** Evklidning "Negizlar" kitobida paralellik aksiomasi "beshinchi postulat" deb atalgan. qadimgi matematiklar ana shu paralellik aksiomasini XIX asr boshlarigacha isbotlashga urinib keldilar. Bu urinishlar har doim muvaffaqiyatsizlik bilan tugadi. Parallellik aksiomasini to'g'riligi hech kimda shubha tug'dirmasada, uni mavjud aksiomalarining va ilgari isbot qilingan geometrik faktlarning asosi uchun qabul qilish mumkin emasmikan, ya'ni u o'zicha teoremadan iborat emasmikan, degan savol barcha matematiklarni qiziqtirar edi. Parallel to'g'ri chiziqlar aksiomasini teskarisidan faraz qilish usuli bilan, ya'ni nuqta orqali berilgan to'g'ri chiziqqa parallel bir nechta to'g'ri chiziq o'tkazish mumkin, deb qabul qilib isbotlashga urinishlar matematik qonuniyatlarga zid bo'lgan holatlarni keltirib chiqarishi kerak edi, ammo bunday bo'lmadi. Buyuk rus matematigi N.I.Lobachevskiy va undan bexabar holda venger matematigi Ya.Boya nuqta orqali berilgan to'g'ri chiziqqa parallel bir necha to'g'ri chiziq o'tkazish mumkin, degan farazni qabul qilib, boshqa "noevklid geometriya"ni qurish mumkinligini isbot qildilar. Lobachevskiy geometriyasi ana shunday dunyoga keldi.

**2 - m i s o l.** Munosabatlar ekvivalentligini ta’rifi ham quyidagi uchta postulat orqali ifodalanadi:

1) munosabat refleksiv bo‘lishi kerak:  $\forall a \in A : a \xrightarrow{f} a$

2) munosabat simmetrik bo‘lishi kerak:

$$\forall a, b \in A : (a \xrightarrow{f} b) \Rightarrow (b \xrightarrow{f} a)$$

3) munosabat tranzitiv bo‘lishi kerak:

$$\forall a, b \in A : [ (a \xrightarrow{f} b) \wedge (b \xrightarrow{f} c) \Rightarrow (a \xrightarrow{f} c).$$

### **3-§. Teorema va uning turlari.**

Teorema so‘zi grekcha so‘z bo‘lib, uning lug‘aviy ma‘nosi "qarab chiqaman" yoki «o‘ylab ko‘raman» demakdir, shuning uchun ham maktab matematika kursida teoremaga quyidagicha ta’rif berilgan:

*"Isbotlashni talab etadigan matematik hukm teorema deyiladi".*

Maktab matematika kursida teoremlarning quyidagi turlari mavjuddir:

1. To‘g‘ri teorema.
2. Teskari teorema.
3. To‘g‘ri teoremaga qarama-qarshi teorema.
4. Teskari teoremaga qarama-qarshi teorema.

To‘g‘ri va unga nisbatan teskari bo‘lgan teorema tushunchalarini o‘quvchilar ongida shakllantirishni - VI sinf geometriya kursining birinchi darslaridan boshlab amalga oshirish kerak. Masalan, quyidagi ikkita tushunchani olib qaraylik.

1. Bu figura parallelogrammdir
2. Bu figura to‘rtburchakdir.

Berilgan bu ikkala hukm o‘zaro bog‘liqdir. Boshqacha qilib aytganda, birinchisining haqiqatligidan ikkinchining haqiqatligi kelib chiqadi, ammo ikkinchisining mavjudligidan birinchisining haqiqatligi har doim ham kelib chiqavermaydi. Agar bu bog‘lanishni simvolik ravishda yozadigan bo‘lsak u quyidagicha bo‘ladi:

$$\boxed{\text{parallelogramm}} \Rightarrow \boxed{\text{to‘rtburchak}}$$

Bu yerda biz parallelogramlar sinfini to‘rtburchaklar sinfiga kiritdik. Yuqoridagidek bog‘lanishlar geometriya kursining birinchi darslaridan boshlab tekshirayotgan matematik hukmlarning ichki o‘zaro bog‘lanishini ochib beradi. Masalan, "Ichki almashinuvchi burchaklar o‘zaro teng" degan hukmni simvolik holda quyidagicha yozish mumkin:

Ichki almashinuvchi burchaklar	⇒	Teng burchaklar
--------------------------------	---	-----------------

Bu erga agar ichki almashinuvchi burchaklar mavjud bo'lsa, u holda ular teng bo'ladi, degan fikrni tasdiqlayapmiz. Agar yo'nalish teskari tomonga qo'yilsa, bunday mulohaza hosil bo'ladi: "Agar burchaklar teng bo'lsa, u holda ular ichki almashinuvchi burchaklardir". Agar biz teoremadagi shart va xulosaning o'zaro bog'liqligini "agar", "u holda" so'zlari bilan bog'lasak, bunda o'quvchilar teoremaning sharti, natijasi va ular orasidagi bog'lanish haqida chuqurroq tasavvurga ega bo'ladilar. Masalan, agar bir uchburchakni ikki tomoni ikkinchi uchburchakning ikki tomoniga mos ravishda teng bo'lsa, bunday uchburchaklar teng bo'ladi. Bu aytilgan teoremaning shartidan uning xulosasi kelib chiqmaydi, ammo uning xulosasidan sharti har doim kelib chiqadi. Shuning uchun uni simvolik ravishda bunday yozish mumkin:

Bir uchburchakning ikki tomoni ikkinchi uchburchakning ikki tomoniga mos ravishda teng bo'lsa	⇐	uchburchaklar teng
--	---	-----------------------

Maktab geometriya kursida shunday teoremlar borki, ularning shartidan xulosasining to'g'riligi va aksincha, xulosasidan shartining to'g'riligi kelib chiqadi. Masalan:

1. Agar to'g'ri chiziq burchak bissektrisasi bo'lsa, u berilgan burchakni teng ikkiga bo'ladi.

Bunga teskari bo'lgan teorema ham o'rinlidir: "Agar to'g'ri chiziq burchakni teng ikkiga bo'lsa, bu to'g'ri chiziq shu burchakning bissektrisasi". Bu aytilganlarni simvolik ravishda bunday yozish mumkin:

Agar to'g'ri chiziq burchak bissektrisasi bo'lsa	⇐	Burchak teng ikkiga bo'linadi
	⇒	

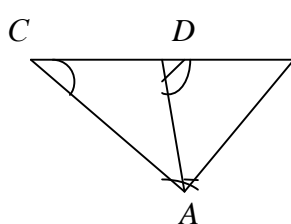
Bundan ko'rinadiki, teorema shartining mavjudligidan uning xulosasining haqiqiyliigi kelib chiqsa va aksincha, uning xulosasining mavjudligidan haqiqatligi kelib chiqsa, teoremaning shart va xulosalarida qatnashayotgan "agar" va "u holda" bog'lovchilarining o'rinlari o'zgaradi.

Agar biz shartli ravishda berilgan teoremani to'g'ri teorema desak, bu teoremadagi shart va xulosalarning o'rinlarini almashtirish natijasida hosil qilingan teoremani teskari teorema deb ataymiz.

Endi to'g'ri va teskari teoremalarning berilishi hamda ularni isbotlash uslubiyatini ko'rib chiqaylik.

1. **To'g'ri teorema:** "Agar uchburchakning biror tomoni katta bo'lsa, u holda ana shu katta tomon qarshisida katta burchak yotadi".

Berilgan:  $\triangle ABC$ ,  $BC > AB$ .



31-Chizma.

Isbot qilish kerak:  $\angle A > \angle C$ .

**Isboti.**  $ABC$  uchburchakning  $BC$  tomonida  $AB$  tomonga teng  $BD=AB$  kesmani o'lchab, ana shu  $D$  nuqtani  $A$  nuqta bilan birlashtiramiz (31-chizma), natijada  $ABD$  teng yonli uchburchak hosil bo'ladi.  $ABD$  uchburchak teng yonli bo'lgani uchun  $\angle BAD = \angle BDA$ .  $BDA$  burchak  $ADC$  burchakning

tashqi burchagi bo'lgani uchun  $\angle BAD = \angle C + \angle DAC$  bo'ladi, bundan  $\angle BAD > \angle C$  ekani kelib chiqadi. Bu yerdagi  $\angle BAD$  burchak  $\angle A$  burchakning bir qismi xolos. Shuning uchun  $\angle A > \angle C$ .

**Teskari teorema:** "Agar uchburchakning biror burchagi katta bo'lsa, u holda ana shu katta burchak qarshisida katta tomon yotadi".

Berilgan:  $\triangle ABC$ ,  $\angle A > \angle C$ .

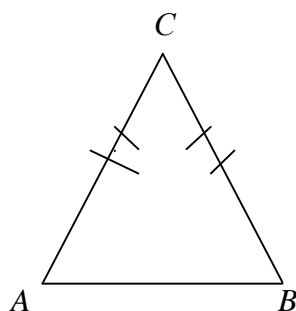
Isbot qilish kerak:  $BC > AB$ .

Isboti. 1)  $ABC$  uchburchakning  $AB$  tomoni hech qachon  $BC$  tomonidan katta bo'la olmaydi, chunki to'g'ri teoremada biz katta tomon qarshisida katta burchak yotadi, deb isbot qildik, aks holda  $\angle C > \angle A$  ligi kelib chiqadi, bu esa teorema shartiga ziddir.

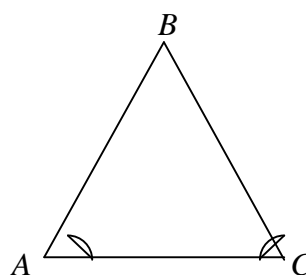
2)  $AB$  tomon  $BC$  tomonga teng ham bo'la olmaydi, chunki  $\triangle ABC$  teng yonli emas, agar teng yonli bo'lganda edi  $\angle C > \angle A$  tenglik o'rinli bo'lib, bu ham teorema shartiga zid bo'lar edi.

3) Agar  $AB$  tomon  $BC$  tomondan katta bo'lmasa yoki unga teng bo'lmasa, u holda  $BC > AB$  ligi kelib chiqadi.

2. **To'g'ri teorema.** Agar uchburchakning tomonlari teng bo'lsa, u holda bu tomonlar qarshisida teng burchaklar yotadi



32-Chizma.



33-Chizma.

Berilgan:  $\triangle ABC$ ,  $AC = CB$ .

Isbot qilish kerak:  $\angle A = \angle B$ .

Isboti.  $\triangle ABC$  asosi  $AB$  bo'lgan teng yonli uchburchak bo'lsin.  $\angle A = \angle B$  ekanligini isbotlaymiz. Uchburchaklar tengligini birinchi alomatiga ko'ra  $\triangle CAB$  burchak  $\triangle CBA$  burchakka teng bo'ladi, chunki  $CA = CB$  va  $\angle C = \angle C$ . Bu uchburchaklarning tengligidan:  $\angle A = \angle B$ .

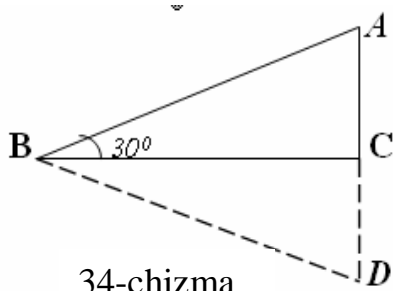
**Teskari teorema.** Agar uchburchakning burchaklari o'zaro teng bo'lsa, u holda bu burchaklar qarshisida teng tomonlar yotadi (33 - chizma).

Berilgan:  $\triangle ABC$ ,  $\angle A = \angle C$ .

Isbot qilish kerak:  $BC = AB$ .

Isboti. 1)  $BC$  tomon  $AB$  tomondan katta bo'la olmaydi, aks holda avvalgi isbot qilingan teoreмага ko'ra  $\angle A > \angle C$  bo'lar edi, bu esa teorema shartiga ziddir.

2)  $BC$  tomon  $AB$  tomondan kichik ham bo'la olmaydi, aks holda avvalgi isbot qilingan teoreмага ko'ra  $\angle C > \angle A$  bo'lar edi, bu esa teorema shartiga ziddir.



34-chizma

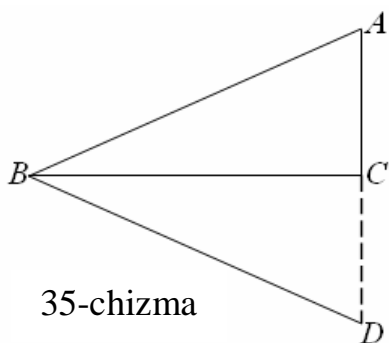
Demak,  $BC = AB$ .

4. **To'g'ri teorema.** Agar uchburchak to'g'ri burchakli bo'lib, uning bir burchagi  $30^\circ$  bo'lsa, u holda  $30^\circ$  li burchak qarshisidagi katet gipotenuzaning yarmiga teng bo'ladi. (34-chizma).

Berilgan:  $\triangle ABC$  burchak to'g'ri burchakli,  $\angle B = 30^\circ$ .

Isbot qilish kerak:  $AC = \frac{AB}{2}$

Isboti.  $AC$  katetni davom ettirib,  $CD = AC$  kesmani qo'yib,  $D$  nuqtani  $B$  nuqta bilan birlashtiramiz. U holda  $\triangle BCD = \triangle BCA$  tenglik hosil bo'ladi, chunki  $\angle C = \angle C$  va  $CD = CA$  bo'lganligi uchun  $\triangle BCD$  uchburchakning  $\angle A$  va  $\angle D$  burchaklari  $60^\circ$  dan,



35-chizma

$\angle ABD = 60^\circ$   $\triangle ABD$  teng tomonli uchburchakdir. Chizmadan  $AC = \frac{AD}{2}$ ;  $AD = AB$ , shuning uchun  $AC = \frac{AB}{2}$ .

**Teskari teorema.** Agar to'g'ri burchakli uchburchakning kateti gipotenuzaning yarmiga teng bo'lsa, u holda shu katet qarshisidagi burchak  $30^\circ$  ga teng bo'ladi (35- chizma).

Berilgan:  $\triangle ABC$  to'g'ri burchakli,

$$AC = \frac{1}{2} AB.$$

Isbot qilish kerak:  $\angle ABC = 30^\circ$ .

Isboti.  $AC$  katetni davom ettirib  $CD=AC$  ni qo'yamiz, u holda  $AD=2AC$  bo'ladi, bundan  $AD=AB$ , ekani kelib chiqadi.  $B$  va  $D$  nuqtalarni birlashtirsak,  $DBCD=DBCA$  bo'ladi, chunki bularning ikkita kateti va ular orasidagi burchaklari o'zaro teng.

$DBCD=DBCA$  ekanidan  $AD=AB$  ga,  $\angle ABC=\angle DBC$  u holda  $AD=AB$  va  $DB=AB$  bulardan  $\triangle ABD$  teng tomonli ekanligini kelib chiqadi, u holda  $\angle ABD=60^\circ$ ,  $\angle ABC=\angle DBC$ , bu burchaklar yig'indisi  $\angle ABD$  ni hosil qiladi, shuning uchun  $\angle ABC=30^\circ$ .

Agar biz to'g'ri teoremaning shartini  $p$  va uning xulosasini  $q$  desak, u holda yuqoridagi teorema turlari uchun quyidagi simvolik ifodalar o'rinaldir:

- 1)  $p \Rightarrow q$  (to'g'ri teorema); 2)  $q \Rightarrow p$  (teskari teorema);
- 3)  $\bar{p} \Rightarrow \bar{q}$  (to'g'ri teoreмага qarama-qarshi teorema);
- 4)  $\bar{q} \Rightarrow \bar{p}$  (teskari teoreмага qarama-qarshi teorema).

Quyidagi teoremani to'g'ri teorema deb olib, unga nisbatan yuqoridagi teoremaning turlarini qo'llasak, bunday teoremlar hosil bo'ladi:

1) *Agar to'rtburchak parallelogramm bo'lsa, uning diagonali kesishish nuqtasida teng ikkiga bo'linadi, ya'ni  $p \Rightarrow q$ .*

2) *Agar to'rtburchanning diagonallari kesishish nuqtasida teng ikkiga bo'linsa, u holda bu to'rtburchak parallelogrammdir, ya'ni  $p \Rightarrow q$ .*

3) *Agar to'rtburchak parallelogramm bo'lmasa, uning diagonallari kesishish nuqtasida teng ikkiga bo'linmaydi, ya'ni  $\bar{p} \Rightarrow \bar{q}$ .*

4) *Agar to'rtburchakning diagonali kesishib, teng ikkiga bo'linmasa, u holda bunday to'rtburchak parallelogramm emas, ya'ni  $\bar{q} \Rightarrow \bar{p}$ .*

Bu misoldan ko'rinadiki, agar to'g'ri teoremani shart va xulosalarga ajratish mumkin bo'lsa, u holda ana shu to'g'ri teoreмага teskari, qarama-qarshi hamda to'g'ri teoremadan hosil qilingan teskari teoreмага qarama-qarshi teoremlarni hosil qilish mumkin.

#### 4-§. Teoremlarni isbotlash metodlari.

**Ta'rif.** *Isbotlash - deduktiv xulosa chiqarish zanjiri, demakdir.*

Har qanday isbotlash jarayoni quyidagi uch qismni o'z ichiga oladi:

1. Teoremaning bayoni - isbot talab etiladigan holat.
2. Argumentlar - teoremani isbotlash jarayonida ishlatilgan matematik hukmlar.

3. Isbotlash - deduktiv xulosa chiqarish orqali teorema xulosasida topish talab qilingan noma'lumni uning shartlari hamda avvaldan ma'lum bo'lgan argumentlardan foydalanib keltirib chiqarish.

Teoremani isbotlashga kirish va uni isbotlash jarayonida o'qituvchi yordamida o'quvchilar quyidagi mantiqiy ketma-ketlikka ega bo'lgan bosqichlarni bajarishlari kerak:

1) Teoremaning sharti va uning xulosasi nimadan iborat ekanligini to'la tushunib olishlari kerak.

2) Ana shu teoremani shart va xulosasida qatnashayotgan har bir matematik tushunchaning ma'nosini bilishlari kerak.

3) Teoremaning shart va xulosa qismlarini matematik simvollar orqali ifodalashlari kerak.

4) Teoremaning shartida qatnashayotgan ma'lum parametrlar teorema xulosasidagi noma'lumni aniqlay oladimi yoki yo'qmi ekanligini bilishlari kerak.

5) Teoremani isbotlash jarayonida teoremadagi shartlardan teorema xulosasining to'g'riligini ko'rsatuvchi natijalar keltirib chiqarishi kerak.

6) Teoremani isbotlash jarayonidagi mantiqiy mulohazalarda teoremaning shartidan to'la foydalanishlari kerak.

7) Teorema isbot qilib bo'lingach, isbotlashda qo'llanilgan metodni ko'zdan kechirish va imkoni bo'lsa, isbotlashning boshqa usullarini qidirib topish kerak.

Maktab matematika kursidagi teoremalarni isbotlash ikki usulda amalga oshiriladi.

1) Bevosita isbotlash usuli (to'g'ri isbotlash usuli);

2) Bilvosita isbotlash usuli (teskarisidan faraz qilish usuli);

Bevosita isbotlash usuli jarayonida teoremaning shartida qatnashayotgan ma'lum va parametrlardan hamda avvaldan ma'lum bo'lgan aksioma, ta'rif va teoremalardan foydalangan holda mantiqiy mulohaza yuritib, teorema xulosasida talab qilingan noma'lumlarni topiladi. Teoremalarni bunday isbotlash analiz va sintez orqali amalga oshiriladi.

**Ta'rif.** *Noma'lumlardan ma'lumlarga tomonga izlash metodi analiz deyiladi.*

Psixologik olimlar analiz metodini quyidagicha ta'riflaydilar:

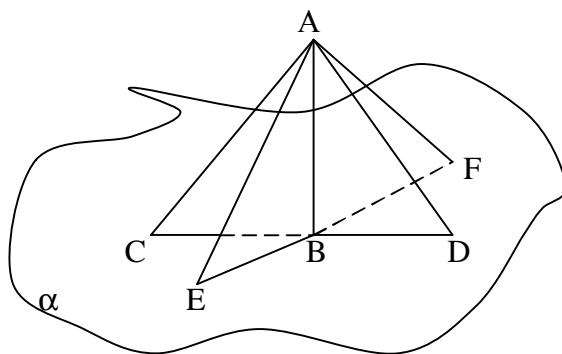
*analiz - bu butunlardan bo'laklarga tomon izlash demakdir.*

**Ta'rif.** *Ma'lumlardan noma'lumlarga tomon izlash metodiga sintez deyiladi.*

Psixologik nuqtai-nazardan sintez metodi bo'laklardan butunlarga tomon izlash metodi demakdir.

Fikrimiz dalili sifatida quyidagi teoremani analiz va sintez metodlari orqali isbotlaymiz.

**T e o r e m a.**  $B$  nuqtada kesishuvchi  $CD$  va  $EF$  to'g'ri chiziqlar  $a$  tekislikda yotadi va  $CB = BD$ ,  $EB = BF$ .  $a$  tekislikda yotmaydigan  $A$  nuqta  $AE=EF$  va  $AC=AD$  tengliklarni qanoatlantiradigan qilib tanlansa,  $AB$  to'g'ri chiziq  $a$  tekislikka perpendikulyar bo'ladi (36 - chizma).



36-Chizma.

Berilgan:  $\alpha$  tekislik,  $(CD) \cap (EF) = B$ ,  $(CB=BD) \wedge (EB=BF)$ ,  $(AE=AF) \wedge (AC=AD)$ .

Isbot qilish kerak:  $AB \perp a$ .

Isboti. Bu teoremani analiz metodi bilan isbotlaymiz.

1.  $AB \perp a$  ekanligini isbot qilish uchun  $AB \perp CD$  va  $AB \perp EF$  ekanligini isbot qilish yetarli.

2.  $AB \perp CD$  ekanligini isbot qilish uchun  $\sphericalangle ABC = \sphericalangle ABD$  ekanligini isbot qilish yetarli.

3. Bu burchaklarning tengligini isbot qilish uchun  $\sphericalangle ABC = \sphericalangle ABD$  ekanligini isbot qilish yetarli, lekin  $BC=BD$ ,  $AC=AD$ ,  $AB=AB$  shuning uchun  $\sphericalangle ABC = \sphericalangle ABD$ .

4.  $AB \perp EF$  ekanligini isbot qilish uchun  $\sphericalangle ABE = \sphericalangle ABF$  ekanligini isbot qilish yetarli.

5. Bu burchaklarning tengligini isbot qilish uchun  $\sphericalangle ABE = \sphericalangle ABF$  ekanligini isbot qilish yetarli, lekin  $BE=BF$ ,  $AE=AF$ ,  $AB=AB$ , shuning uchun  $\triangle ABE = \triangle ABF$ , bundan  $AB \perp a$  ekanligi kelib chiqadi.

Isbotning sintez usuli

1.  $\sphericalangle ABE = \sphericalangle ABF$ .      2.  $\triangle ABE = \triangle ABF$ .

3.  $\sphericalangle ABC = \sphericalangle ABD$ .      4.  $\triangle ABC = \triangle ABD$ .

5. (2) va (4) ga ko'ra  $AB \perp CD$  va  $AB \perp EF$ .

6. (5) ga ko'ra  $AB \perp a$ .



**T e o r e m a.** Agar  $a, b, c$   $ABC$  uchburchakning tomonlari va  $p$  uning yarim perimetri bo'lsa, u holda bu uchburchakning yuzi  $S = \sqrt{p(p-a)(p-b)(p-c)}$  ga teng bo'ladi.

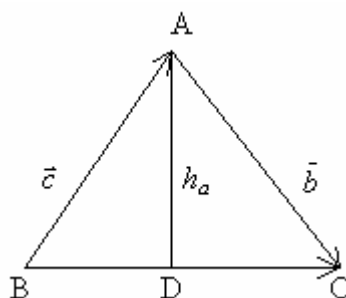
1. Teoremaning sharti: "agar  $a, b, c$   $ABC$  uchburchakning tomonlari va  $R$  uning yarim perimetri bo'lsa", teoremaning xulosasi: "u holda bu uchburchakning yuzi  $S = \sqrt{p(p-a)(p-b)(p-c)}$  ga teng bo'ladi".

2. Teoremaning shart va xulosa qismlarida uchburchak, uchburchakning tomonlari, uning perimetri va yarim perimetri hamda uning yuzi kabi tushunchalar qatnashayapti (37-chizma).

3. Berilgan:  $\Delta ABC$ ,  $AB = c$ ,  $BC = a$ ,  $AC = b$ ,

$$\frac{a+b+c}{2} = p$$

Isbot qilish kerak:  $S = \sqrt{p(p-a)(p-b)(p-c)}$



37-Chizma.

4. Teorema shartida berilgan uchburchak, uning tomonlari, yarim perimetri kabi tushunchalar uning xulosasida talab qilinayotgan  $S = \sqrt{p(p-a)(p-b)(p-c)}$  noma'lumni topish uchun yetarlidir.

5. Teoremaning isboti.  $\Delta ABC$  da  $\vec{CA} = \vec{b}$ ,  $\vec{AB} = \vec{c}$ ,  $\vec{BC} = \vec{a}$  deb olamiz.

Chizmadan:

$$S_{\Delta ABC} = \frac{1}{2}ah_a \quad (1)$$

$$\Delta ADC \Rightarrow \left( \frac{h_a}{b} = \sin \epsilon \right) \Rightarrow h_a = b \cdot \sin \epsilon \quad (2)$$

(2) ni (1) ga qo'ysak:

$$\begin{aligned} S &= \frac{1}{2}ab \cdot \sin \epsilon = \frac{1}{2}\sqrt{(ab)^2 \sin^2 \epsilon} = \frac{1}{2}\sqrt{(ab)^2 (1 - \cos^2 \epsilon)} = \\ &= \frac{1}{2}\sqrt{(ab)^2 - (ab \cos \epsilon)^2} = \frac{1}{2}\sqrt{a^2b^2 - (|\vec{a}||\vec{b}|\cos \epsilon)^2} = \frac{1}{2}\sqrt{a^2b^2 - (\vec{a}\vec{b})^2} \end{aligned} \quad (3)$$

$|a||b|\cos \epsilon$  ifoda  $\vec{a}$  va  $\vec{b}$  vektorlarning skalyar ko'paytmasidir.

$\Delta ABC \Rightarrow \vec{c} = \vec{a} - \vec{b}$  bo'ladi, bu ifodaning har ikki tomonini kvadratga ko'tarsak,

$$\vec{c}^2 = \vec{a}^2 + \vec{b}^2 - 2\vec{a}\vec{b},$$

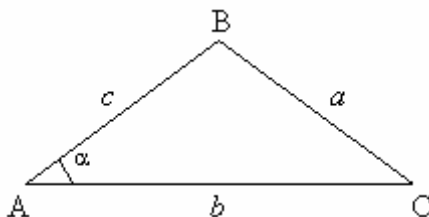
$$\vec{a}\vec{b} = \frac{\vec{a}^2 + \vec{b}^2 - \vec{c}^2}{2}. \quad (4)$$

(4) ni (3) ga qo'ysak:

$$\begin{aligned} S &= \frac{1}{2} \sqrt{a^2 b^2 - \left( \frac{a^2 + b^2 - c^2}{2} \right)^2} = \sqrt{\frac{a^2 b^2}{4} - \frac{1}{4} \left( \frac{a^2 + b^2 - c^2}{2} \right)^2} = \\ &= \sqrt{\left( \frac{ab}{2} - \frac{a^2 + b^2 - c^2}{4} \right) \left( \frac{ab}{2} + \frac{a^2 + b^2 - c^2}{4} \right)} = \\ &= \sqrt{\left( \frac{2ab - a^2 - b^2 + c^2}{4} \right) \left( \frac{2ab + a^2 + b^2 - c^2}{4} \right)} = \sqrt{\left[ \frac{c^2 - (a-b)^2}{4} \right] \left[ \frac{(a+b)^2 - c^2}{4} \right]} = \\ &= \sqrt{\left( \frac{a+b+c-2a}{2} \right) \left( \frac{a+b+c-2b}{2} \right) \left( \frac{a+b+c-2c}{2} \right) \left( \frac{a+b+c}{2} \right)} = \sqrt{p(p-a)(p-b)(p-c)}. \end{aligned}$$

6. Teoremani isbotlashda vektor, vektorlarni qo'shish, skalyar ko'paytma va uchburchakning yuzi kabi tushunchalar asosida mantiqiy mulohaza yuritib, teorema shartida berilgan uchburchakning tomonlari perimetri va yarim perimetri kabi tushunchalardan to'la foydalanib teoremaning isboti keltirib chiqarildi.

7. Qaralgan teoremani yuqoridagidan farqli usul bilan ham isbot qilish mumkin (38-chizma)



38-Chizma

Isbotning ikkinchi usuli.

Berilgan:  $\Delta ABC$ ,  $AB=c$ ,  $BC=a$ ,  $AC=b$ ,  $p = \frac{a+b+c}{2}$ .

Isbot qilish kerak:  $S = \sqrt{p(p-a)(p-b)(p-c)}$

Isboti.  $\Delta ABC$  ning yuzi uning tomonlari va ular orasidagi burchagiga ko'ra bunday ifodalanadi:

$$S_{\Delta ABC} = \frac{1}{2}cb \cdot \sin a \quad (1)$$

$$\sin a = \frac{2S}{bc}$$

Kosinuslar teoremasiga ko'ra:  $a^2 = b^2 + c^2 - 2bc \cos a$ , bundan

$$\cos a = \frac{b^2 + c^2 - a^2}{2bc} \quad (2); \quad \sin^2 a + \cos^2 a = 1. \quad (3)$$

(1) va (2) larni (3) ga qo'ysak:

$$\left(\frac{2S}{bc}\right)^2 + \left(\frac{b^2 + c^2 - a^2}{2bc}\right)^2 = 1.$$

$$\frac{4S^2}{b^2c^2} + \frac{(b^2 + c^2 - a^2)^2}{4b^2c^2} = 1,$$

$$16S^2 + (b^2 + c^2 - a^2)^2 = 4b^2c^2,$$

$$S^2 = \frac{4b^2c^2 - (b^2 + c^2 - a^2)^2}{16} = \frac{(2bc + b^2 + c^2 - a^2)(2bc - b^2 - c^2 + a^2)}{16} = \frac{[(b+c)^2 - a^2][a^2 - (b-c)^2]}{16}$$

$$= \frac{a+b+c}{2} \cdot \frac{b+c-a}{2} \cdot \frac{a+b-c}{2} \cdot \frac{a+c-b}{2} = p(p-a)(p-b)(p-c),$$

$$S = \sqrt{p(p-a)(p-b)(p-c)}.$$

Bilvosita isbotlash usuli (teskaridan faraz qilish orqali isbotlash usuli).

**Ta'rif.** *Teoremaning xulosasidagi no'malumlarini topish unga zid bo'lgan jumlani inkor qilish orqali amalga oshirilgan bo'lsa, uni bilvosita isbotlash usuli deyiladi.*

Yuqoridagi ta'rifdan ko'rinadiki, isbotlashning bilvosita usulida biz oldin teorema tasdiqlagan fikrga qarama-qarshi fikrni to'g'ri deb faraz qilamiz: shundan keyin aksiomalar va oldin isbotlangan teoremlarga asoslanib mulohazalar yuritish yo'li bilan teorema shartiga zid keladigan yoki biror aksiomaga yoki ilgari isbotlangan biror teorema zid keladigan xulosaga kelamiz. Shunga ko'ra farazimiz noto'g'ri bo'ladi. Natijada teoremadagi yoki berilgan masaladagi da'vo to'g'ri degan xulosaga kelamiz.

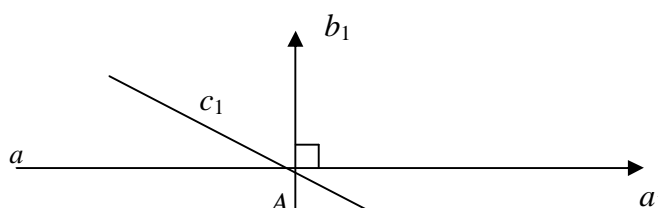
Bilvosita isbotlash ikki xil usul bilan amalga oshiriladi:

- 1) Apagogik usul.
- 2) Ajratish usul.

Apagogik usul ko'pincha teskarisidan faraz qilish metodi deb ham yuritiladi. Quyidagi teoremani apagogik - **teskarisidan faraz qilish usuli** bilan isbot qilaylik.

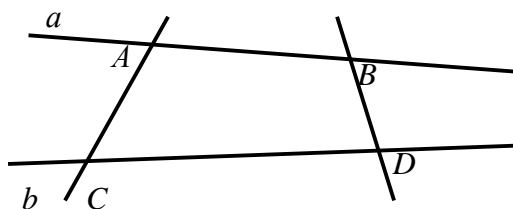
**T e o r e m a.** To'g'ri chiziqning har bir nuqtasidan unga perpendikulyar to'g'ri chiziq o'tkazish mumkin va faqat bitta.

**Isboti.** Faraz qilaylik,  $a$  - berilgan to'g'ri chiziq,  $A$  unda berilgan nuqta bo'lsin.  $a$  to'g'ri chiziqning boshlang'ich nuqtasi  $A$  bo'lgan yarim to'g'ri chiziqlardan birini  $a_1$  bilan belgilaymiz,  $a_1$  yarim to'g'ri chiziqdan boshlab  $90^\circ$  ga teng  $(a_1 \wedge b_1)$  burchakni qo'yamiz. U holda  $b_1$  nurni o'z ichiga olgan to'g'ri chiziq  $a$  to'g'ri chiziqqa perpendikulyar bo'ladi. Faraz qilaylik,  $A$  nuqtadan o'tib  $a$  to'g'ri chiziqqa perpendikulyar bo'lgan boshqa to'g'ri chiziq mavjud bo'lsin. Bu to'g'ri chiziqning  $b_1$  nur bilan bir tekislikda yotuvchi yarim to'g'ri chizig'ini  $c_1$  bilan belgilaymiz. Har biri  $90^\circ$  ga teng  $(a_1 b_1)$  va  $(a_1 c_1)$  burchaklar  $a_1$  yarim to'g'ri chiziqdan boshlab bitta yarim tekislikka qo'yilgan. Ammo berilgan yarim tekislikka  $a_1$  yarim to'g'ri chiziqdan boshlab  $90^\circ$  ga teng bitta burchak qo'yish mumkin. Shu sababli  $A$  nuqta orqali o'tib  $a$  to'g'ri chiziqqa perpendikulyar bo'lgan boshqa to'g'ri chiziqning mavjudligi mumkin emas. Shu bilan teorema isbotlandi.



39-Chizma.

**Masala.**  $a$  va  $b$  uchrashmas to'g'ri chiziqlar berilgan.  $A$  va  $B$  nuqtalar  $a$  to'g'ri chiziqda,  $C$  va  $D$  nuqtalar  $b$  to'g'ri chiziqda yotadi.  $C$  va  $BD$  to'g'ri chiziqlarning o'zaro vaziyatini aniqlang (40 - chizma).



40-Chizma.

**I s b o t i.** Ma'lumki, fazodagi ikki to'g'ri chiziq quyidagi uch holatdan birini egallaydi:

1.  $AC \parallel BD$ .
2.  $AC \cap BD$ .
3.  $AC$  va  $BD$  to'g'ri chiziqlar uchrashmas.

1. Faraz qilaylik,  $AC \parallel BD$  bo'lsin, u holda bu to'g'ri chiziqlar  $a$  va  $b$  uchrashmas to'g'ri chiziqlar ham etadigan birgina tekislikni aniqlaydi. Bu esa masala shartiga zid.

2.  $AC \cap BD$  bo'lsin, u holda bu ikki kesishuvchi to'g'ri chiziqlar  $a$  va  $b$  uchrashmas to'g'ri  $b$  chiziqlar ham yotadigan birgina tekislikni aniqlaydi. Bu ham masala shartiga zid. Demak  $AC$  va  $BD$  to'g'ri chiziqlar uchrashmas to'g'ri chiziqlardir.

### 5-§. Teoremlarni zaruriy va yetarli shartlari

**Ta'rif.** Agar  $q$  mulohazadan  $p$  mulohazaning to'g'riligi kelib chiqsa, ya'ni  $q \Rightarrow p$  bo'lsa, u holda  $p$  mulohaza  $q$  mulohaza uchun zaruriy shart bo'lib,  $q$  mulohaza esa  $p$  mulohaza uchun yetarli shart deyiladi.

**1 - misol.** Agar natural son juft bo'lsa, u holda u 6 soniga bo'linadi.

Bu teoremda natural son 6 ga bo'linishligi uchun uning juft bo'lishligi zaruriy shart bo'lib, yetarli shart bo'la olmaydi, chunki har qanday juft son ham 6 ga bo'linavermaydi.

**2 - misol.** Agar natural son 6 ga bo'linsa, u holda u juft bo'ladi.

Bu teoremda natural son juft bo'lishligi uchun uning 6 ga bo'linishi yetarli shart bo'lib, zaruriy shart bo'la olmaydi, chunki 6 ga bo'linmaydigan juft sonlar ham mavjuddir.

**3 - misol.** Agar natural son juft bo'lsa, u holda u 2 soniga bo'linadi.

Bu teoremda natural son 2 ga bo'linishi uchun uning juft bo'lishi zarur va yetarlidir, chunki har qanday juft natural son 2 ga bo'linadi.

**4-misol.** Har qanday natural son 2 ga bo'linsa, u holda bunday son juft bo'ladi.

Bu teoremda natural son juft bo'lishi uchun uning 2 ga bo'linishi zarur va yetarlidir.

**T e o r e m a.**  $[a, b]$  kesmada aniqlangan va uzluksiz bo'lgan  $y=f(x)$  funksiyaning  $\int_a^b f(x)dx$  aniq integrali mavjud bo'lishi uchun  $\lim_{l \rightarrow 0} (S-s)=0$  bo'lishligi zarur va yetarlidir.

Isbotining zarurligi.  $\int_a^b f(x)dx$  aniq integral mavjud bo'lganda  $\lim_{l \rightarrow 0} (S-s)=0$  ekanligini isbotlaymiz. Aniq integral mavjud bo'lishligi uchun ta'rifga ko'ra,  $\lim_{l \rightarrow 0} \sigma=1$  bo'ladi. Limit ta'rifiga ko'ra:

$$|\sigma - 1| < \varepsilon \text{ yoki } -\varepsilon < \sigma - 1 < \varepsilon, 1 - \varepsilon < \sigma < 1 + \varepsilon \quad (1)$$

Bizga ma'lumki,  $\delta$  - integral yig'indi Darbuning quyi va yuqori yig'indilarining orasida yotar edi, shuning uchun

$$s \leq \sigma \leq S \quad (2)$$

bo'ladi. (1) va (2) larning birlashtirib quyidagi tengsizliklarni tuzamiz:

$$1 - \varepsilon \leq s \leq \sigma \leq S \leq 1 + \varepsilon \quad (3)$$

(3) tengsizlikda quyidagi tengsizliklarni ajratib olish mumkin:

$$\begin{aligned} \left( \begin{array}{l} I - e < s \\ I + e > S \end{array} \right) &\Rightarrow \left( \begin{array}{l} I - s < e \\ I - S > -e \end{array} \right) \Rightarrow \left( \begin{array}{l} I - s < e \\ S - I < e \end{array} \right) \Rightarrow \left( \begin{array}{l} |s - I| < e \\ |S - I| < e \end{array} \right) \Rightarrow \\ \left( \begin{array}{l} \lim_{I \rightarrow 0} s = I \\ \lim_{I \rightarrow 0} S = I \end{array} \right) &\Rightarrow \left( \begin{array}{l} \lim_{I \rightarrow 0} s - \lim_{I \rightarrow 0} S \\ \lim_{I \rightarrow 0} S - \lim_{I \rightarrow 0} s \end{array} \right) \Rightarrow (I - I - 0) \Rightarrow \lim_{I \rightarrow 0} (S - s) = 0. \end{aligned}$$

Teoremaning zaruriy qismi isbotlandi.

Isbotning yetarligi.  $\lim_{I \rightarrow 0} (S-s)=0$  bo'lganda  $\int_a^b f(x)dx$  bo'lishligini ko'rsatamiz.

Buning uchun  $I \rightarrow 0$  da  $\sigma$  integral yig'indisini chekli I limitga ega ekanligini ko'rsatish kifoya. Bizga ma'lumki, Darbuning quyi yig'indisi monoton o'suvchi bo'lib, yuqoridan chegaralangandir, bundan tashqari u o'zining aniq yuqori chegarasiga ham egadir, ya'ni:  $\sup\{s\}=I^*$

Xuddi shuningdek, Darbuning yuqori yig'indisi o'zining quyi chegarasiga ega, ya'ni:  $\inf\{S\}=I_*$

Aniq yuqori va quyi chegaralarning ta'riflariga ko'ra  $s \leq I^*$  va  $S \geq I_*$  bo'ladi.

Bu ikkala tengsizliklarni birlashtirsak,  $s \leq I^* \leq I_* \leq S$

Ammo  $\lim_{I \rightarrow 0} (S-s)=0$  bo'lgani uchun  $\lim_{I \rightarrow 0} (I^* - I_*)=0$

$$(\lim_{I \rightarrow 0} I^* - \lim_{I \rightarrow 0} I_* = 0) \Rightarrow \lim_{I \rightarrow 0} I^* - \lim_{I \rightarrow 0} I_* = I \quad (2)$$

(2) ga ko'ra (1) quyidagi ko'rinishni oladi:

$$s \leq I \leq S \quad (3)$$

Bizga ma'lumki,  $\lim_{I \rightarrow 0} (S-s)=0$ , bundan tashqari  $s \leq \sigma \leq S$  (4) bo'lgani uchun, (3)

va (4) larga ko'ra:  $I = \int_a^b f(x)dx$ . Shu bilan teoremaning yetarli qismi isbot bo'ldi.

**Misol.**  $\frac{1}{1} + \frac{1}{2} + \frac{1}{3} + \dots + \frac{1}{n} + \dots = \sum_{n=1}^{\infty} \frac{1}{n}$  qatorni garmonik qator deb ataladi, bu qatorning  $n$  – hadi  $a_n = \frac{1}{n}$  bo‘lib,  $n \in \mathbb{N}$  da 0 ga intiladiyu, lekin qatorning o‘zi uzoqlashuvchidir.

**I s b o t i:**

$$\begin{aligned} \frac{1}{1} + \frac{1}{2} + \frac{1}{3} + \dots + \frac{1}{n} + \dots &= 1 + \frac{1}{2} + \left(\frac{1}{3} + \frac{1}{4}\right) + \\ &+ \left(\frac{1}{5} + \frac{1}{6} + \frac{1}{7} + \frac{1}{8}\right) + \left(\frac{1}{9} + \frac{1}{10} + \frac{1}{11} + \frac{1}{12} + \frac{1}{13} + \frac{1}{14} + \frac{1}{15} + \frac{1}{16}\right) + \\ &+ \dots \gg 1 + \frac{1}{2} + \left(\frac{1}{4} + \frac{1}{4}\right) + \left(\frac{1}{8} + \frac{1}{8} + \frac{1}{8} + \frac{1}{8}\right) + \\ &+ \left(\frac{1}{16} + \frac{1}{16} + \frac{1}{16} + \frac{1}{16} + \frac{1}{16} + \frac{1}{16} + \frac{1}{16} + \frac{1}{16}\right) + \dots = \\ &= 1 + \frac{1}{2} + \frac{1}{2} + \frac{1}{2} + \dots = 1 + 1 + 1 + \dots = \infty \end{aligned}$$

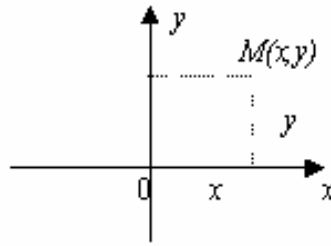
Demak, bu qator uzoqlashuvchi.

## 6-§. Tekislikda dekart koordinatalarini kiritish.

**To‘g‘ri burchakli koordinatalar sistemasi.** Ma‘lumki, sonlar o‘qida nuqtaning vaziyati bir son uning koordinatasi bilan aniqlanar edi. Endi to‘g‘ri burchakli koordinatalar sistemasi tushunchasini kiritamiz.

Tekislikda sanoq boshlari ustma-ust tushadigan va o‘zaro perpendikulyar bo‘lgan OX va OY sonlar o‘qini chizamiz. Vertikal holda tasvirlangan sonlar o‘qi ordinatalar o‘qi, gorizontal holda tasvirlangan sonlar o‘qi absissa o‘qi, ularning kesishgan nuqtasi koordinatalar boshi deyiladi. Hammasi birgalikda to‘g‘ri burchakli koordinatalar sistemasi deyiladi.

To‘g‘ri burchakli koordinatalar sistemasida nuqtaning vaziyati quyidagicha aniqlanadi. Faraz qilamiz, to‘g‘ri burchakli koordinatalar sistemasi olingan tekislikda ixtiyoriy M nuqta berilgan bo‘lsin. Shu nuqtadan koordinata o‘qlariga perpendikulyarlarning absissa o‘qidagi proeksiyasiga mos keluvchi son uning absissasi, ordinatalar o‘qidagi proeksiyasiga mos keluvchi son esa uning ordinatasi deyiladi va  $M(x,y)$  tartibida yoziladi (41-chizma).



41-chizma.

Demak, to‘g‘ri burchakli koordinatalar tekisligidagi har qanday nuqta bir juft ma‘lum tartibda berilgan son bilan aniqlanar ekan. Xuddi shuningdek, har qanday bir juft songa koordinatalar tekisligida bitta nuqta mos keladi.

**Kesma o‘rtasining koordinatalari.**  $A(x_1, y_1)$  va  $B(x_2, y_2)$  ikkita ixtiyoriy nuqta va  $C(x, y)$  nuqta  $AB$  kesmaning o‘rtasi bo‘lsin.  $C$  nuqtaning  $x$  va  $y$  koordinatalarini topamiz.  $AB$  kesma  $y$  o‘qiga parallel bo‘lmasin, ya‘ni  $x_1 \neq x_2$  bo‘lsin.  $A, B, C$  nuqtalar orqali  $y$  o‘qiga parallel to‘g‘ri chiziqlar o‘tkazamiz. Bu to‘g‘ri chiziqlar  $x$  o‘qini  $A_1(x_1, 0), B_1(x_2, 0), C_1(x, 0)$  nuqtalarda kesib o‘tadi. Fales teoremasiga ko‘ra  $C_1$  nuqta  $A_1B_1$  kesmaning o‘rtasi bo‘ladi.

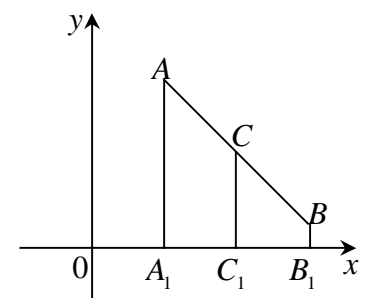
$C_1$  nuqta  $A_1B_1$  kesmaning o‘rtasi bo‘lgani uchun  $A_1C_1 = B_1C_1$ , demak,  $|x - x_1| = |x - x_2|$ . Bundan: yo  $x - x_1 = x - x_2$ , yoki  $x - x_1 = -(x - x_2)$ . Birinchi tenglik o‘rinli emas, chunki  $x_1 \neq x_2$ . Shu sababli ikkinchi tenglik o‘rinli. Undan esa ushbu formulani topamiz:

$$x = \frac{x_1 + x_2}{2}.$$

$x_1 = x_2$ , ya‘ni  $AB$  kesma  $y$  o‘qiga parallel bo‘lsa, uchala nuqta -  $A_1, B_1, C_1$  bir xil absissaga ega bo‘ladi. Demak, formula bu holda ham o‘rinli bo‘laveradi.

$C$  nuqtaning ordinatasi ham shunga o‘xshash topiladi.  $A, B, C$  nuqtalar orqali  $x$  o‘qiga parallel to‘g‘ri chiziqlar o‘tkaziladi. Ushbu formula hosil bo‘ladi:

$$y = \frac{y_1 + y_2}{2}.$$



**Nuqtalar orasidagi masofa.**  $xy$  tekislikda ikkita nuqta berilgan bo‘lsin: koordinatalari  $x_1, y_1$  dan iborat  $A_1$  nuqta va koordinatalari  $x_2, y_2$  bo‘lgan  $A_2$  nuqta.  $A_1$  va  $A_2$  nuqtalar orasidagi masofani ularning koordinatalari orqali ifodalaymiz.



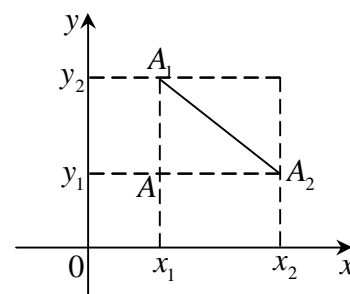
$x_1 \neq x_2$  va  $y_1 \neq y_2$  bo'lsin, deylik.  $A_1$  va  $A_2$  nuqtalar orqali koordinata o'qlariga parallel to'g'ri chiziqlar o'tkazamiz va ularning kesishish nuqtasini  $A$  bilan belgilaymiz.  $A$  va  $A_1$  nuqtalar orasidagi masofa  $|y_2 - y_1|$  ga teng,  $A$  va  $A_2$  nuqtalar orasidagi masofa esa

$$|x_2 - x_1| \quad (1)$$

ga teng. To'g'ri burchakli  $AA_1A_2$  uchburchakka Pifagor teoremasini qo'llab topamiz:

$$d^2 = (x_2 - x_1)^2 + (y_2 - y_1)^2, \quad (2)$$

bunda  $d$   $A_1$  va  $A_2$  nuqtalar orasidagi masofa.



Nuqtalar orasidagi masofa formulasini chiqarishda

$x_1 \neq x_2$ ,  $y_1 \neq y_2$  deb faraz qilingan bo'lsa ham, u boshqa hollar uchun ham o'z kuchini saqlaydi. Haqiqatan ham,  $x_1 = x_2$ ,  $y_1 \neq y_2$  bo'lsa,  $d = |y_2 - y_1|$  formula ham shu natijani beradi.  $x_1 \neq x_2$ ,  $y_1 = y_2$  bo'lgan hol ham shunga o'xshash qaraladi.  $x_1 = x_2$ ,  $y_1 = y_2$  holda  $A_1$  va  $A_2$  nuqtalar ustma-ust tushadi va formula  $d = 0$  ni beradi.

**Kesmani berilgan nisbatda bo'lish.** Bu mavzuni quyidagi masalar orqali tushuntiriladi.

$M_1(x_1, y_1)$  va  $M_2(x_2, y_2)$  nuqtalar berilgan. Koordinatalari noma'lum bo'lgan uchinchi  $M$  nuqta  $M_1M_2$  kesmani  $\frac{M_1M}{MM_2} = l$  nisbatda bo'ladi ( $l$  - berilgan son)

$M(x, y)$  nuqtani topish, ya'ni uning  $x, y$  koordinatalarini topish talab qilinadi.

Bizga parallel to'g'ri chiziqlar orasidagi  $M_1M$ ,  $MM_2$ ,  $N_1N$  va  $NN_2$  kesmalar o'zaro proporsional bo'lishi elementar geometriyadan ma'lum. Shu sababli, masalaning shartini hisobga olib,  $\frac{M_1M}{MM_2} = \frac{N_1N}{NN_2} = l$  deb yoza olamiz. Ammo (1)

formulaga asosan:

$$N_1N = |x - x_1|, \quad NN_2 = |x_2 - x|.$$

$M$  nuqta  $M_1M_2$  kesmada  $M_1$  va  $M_2$  nuqtalar orasida yotgani sababli  $M_1$  va  $M_2$  nuqtalarning har qanday vaziyatida ham  $x - x_1$  va  $x_2 - x$  ayirmalar bir paytda yo ikkalasi musbat, yoki manfiy bo'ladi. Shuning uchun

$$\frac{x - x_1}{x_2 - x}$$

nisbat har doim musbat bo‘ladi. Shuning uchun uni

$$\frac{|x - x_1|}{|x_2 - x|}$$

nisbat o‘rinda qarashimiz mumkin.

Shunday qilib,

$$\frac{M_1M}{MM_2} = \frac{N_1N}{NN_2} = \frac{x - x_1}{x_2 - x} = I$$

bundan  $M$  nuqtaning  $x$  absissasini topamiz.

$$x = \frac{x_1 + Ix_2}{1 + I} \quad (3)$$

$M$  nuqtaning  $y$  ordinatasini ham shunday topamiz:

$$y = \frac{y_1 + Iy_2}{1 + I} \quad (4)$$

Xususiyl holda, agar  $M$  nuqta  $M_1M_2$  kesmani teng ikkiga bo‘lsa,  $I = \frac{M_1M}{MM_2} = 1$  bo‘lib, (3) va (4) formulalar quyidagi ko‘rinishni oladi:

$$x = \frac{x_1 + Ix_2}{2}, \quad (3^*)$$

$$y = \frac{y_1 + Iy_2}{2}. \quad (4^*)$$

**Misol.**  $M_1(2, 3)$ ,  $M_2(3, -3)$  nuqtalar orasidagi kesmani  $\frac{2}{5}$  nisbatda bo‘luvchi  $M(x, y)$  nuqtani toping.

Yechish. Bu misolda  $I = \frac{2}{5}$ ,  $x_1 = 2$ ,  $x_2 = 3$ ,  $y_1 = 3$ ,  $y_2 = -3$  (3), (4) formulalardan quyidagilarni topamiz:

$$x = \frac{2 + \frac{2}{5} \cdot 3}{1 + \frac{2}{5}} = \frac{16}{7}, \quad y = \frac{3 + \frac{2}{5} \cdot (-3)}{1 + \frac{2}{5}} = \frac{9}{7}.$$

Demak, izlanayotgan nuqta  $M\left(\frac{16}{7}, \frac{9}{7}\right)$  ekan.

### 7-§. Vektor miqdorlarni o‘rgatish metodikasi.

**Vektor va skalyar miqdorlar.** Tabiiy fanlarni o‘rganishda (masalan, matematika, fizika, mexanika va astronomiya) ikki xil miqdor bilan ishlashga to‘g‘ri keladi; bulardan biri o‘zining son qiymati bilangina aniqlanuvchi miqdorlar

bo‘lib, ikkinchisi esa, son qiymatidan boshqa yana o‘zining fazodagi joylanishi bilan ham aniqlanadigan miqdorlardir. Masalan, uzunlik santimetrilar soni bilan, og‘irlik – grammlar soni bilan, vaqt – sekundlar soni bilan, temperatura – graduslar soni bilan aniqlanadi. (Bunga misol qilib biror jismning yuzi, hajmi yoki undagi issiqlik miqdorini ham keltirish mumkin). Bunday (o‘zining son qiymati bilangina aniqlanuvchi) miqdorlarni skalyar miqdorlar yoki sonli miqdorlar deyiladi.

Ikkinchi xil miqdorlarga misol qilib mana shularni keltirish mumkin: to‘g‘ri chiziq bo‘yicha harakatlangan jismning yurgan yo‘li – shu to‘g‘ri chiziqning fazodagi vaziyati, u jismning shu to‘g‘ri ziziq bo‘yicha qaysi yo‘nalishda yurganligi va bu yo‘lning uzunligi bilan to‘la aniqlanadi (masalan, “shaharning ko‘chasida 2 km yo‘l yurdim” degan so‘z, u yo‘lning to‘la ma‘nosini ochib bera olmaydi. Lekin, “shaharning ma‘lum bir ko‘chasi bo‘yicha falon joydan falon joygacha bordim” deyilsa, bu yo‘lning nimadan iboratligi to‘la aniqlanadi).

Biror jismga ta‘sir etuvchi kuch – ana shu kuch qo‘yilgan nuqtaning o‘rni, bu kuchning yo‘nalishi va miqdori bilan to‘la aniqlanadi.

Bunday (o‘zining son qiymati, tekislikdagi va fazodagi vaziyati va yo‘nalishi bilan aniqlanuvchi) miqdorlar – vektor miqdorlar deb ataladi:

Vektor miqdorlarni matematik jihatdan o‘rganish – ularni abstrakt shaklda ko‘rsatishni talab qiladi. Shuning uchun har qanday vektor miqdor – ma‘lum uzunlikdagi, ma‘lum vaziyatga va yo‘nalishga ega bo‘lgan kesma (to‘g‘ri chiziq kesmasi) orqali tasvir etiladi. Bu kesmaning uzunligi vektor miqdorning son qiymatini (modulini) ko‘rsatib, uning yo‘nalishi vektor miqdorning yo‘nalishi va bu kesma joylashgan to‘g‘ri chiziq esa, uning tekislikdagi yoki fazodagi vaziyatini ko‘rsatadi. Bunday kesma vektor miqdor deb ataladi.

Vektorning bitta qalin harf orqali yoki ustiga kesmacha (yoki strelkacha) chizilgan bitta ingichka harf orqali ham tasvir etiladi.

Masalan  $\vec{a}$  yoki  $\bar{a}$  kabi.

Vektorning uzunligini yozish uchun shu vektorni belgilovchi harflarni ikki parallel kesmalar bilan o‘rab qo‘yiladi yoki o‘sha harflarning ingichkasi yoziladi.

Masalan:  $|\overline{AB}| = AB$  va  $|\bar{a}| = a$ .

**Vektorlarning xillari.** Vektorlar quyidagi ko‘rinishlarda uchraydi:

Birinchi – kuch ta‘sir etuvchi nuqtaga bog‘langan vektor.

Bunday vektorga qisqacha bog‘langan yoki bog‘liq vektor deyilib, bu – shu kuch qo‘yilgan nuqtaning o‘rni, kuchning yo‘nalishi va miqdori bilan aniqlanadi.

Bu jumla geometrik vektorga nisbatan aytilsa, bunday bo‘ladi: boshi aniq bir qo‘zg‘almas nuqtada yotgan vektorga bog‘liq vektor deyiladi.

Ikkinchisi – bir to‘g‘ri chiziq bo‘yicha harakatlanishi mumkin bo‘lgan vektor bo‘lib, bunga sirg‘anuvchi yoki sirg‘anma vektor deyiladi.

Bunday vektor o‘zining uzunligi, yo‘nalishi va o‘zi joylashgan to‘g‘ri chiziqning fazodagi vaziyati bilan aniqlanadi.

Uchinchisi – boshi fazoning har qanday nuqtasiga qo‘yilishi mumkin bo‘lgan vektor bo‘lib, bunga erkin vektor deyiladi; bunday vektor o‘zining uzunligi va yo‘nalishi bilangina aniqlanadi.

Sirg‘anma va bog‘liq vektorlar nazariyasini o‘rganishda va umuman vektorlar haqidagi ta‘limotni turli joylarda (ayniqsa geometriyada) ishlatishda erkin vektorlar nazariyasidan foydalanishga to‘g‘ri keladi. Shuning uchun biz erkin vektorlar nazariyasini o‘rganishgagina to‘xtalamiz.

**Kolleniar, teng va qarama-qarshi vektorlar.** Vektorlar ustida ba‘zi amallarni bajarishda kolleniar, teng va qarama-qarshi vektorlar tushunchasidan foydalanishga to‘g‘ri keladi.

Ta‘rif. Parallel to‘g‘ri chiziqlarda yoki bir to‘g‘ri chiziqda yotgan vektorlarni kolleniar vektorlar deb ataladi.

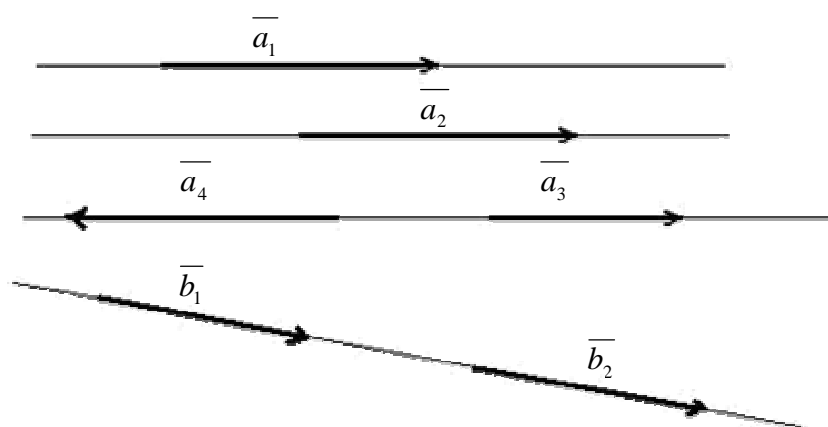
Eslatma: Kolleniar so‘zi lotincha “birgalikda” yoki “umumiy” ma‘nosidagi *Com* va chiziq ma‘nosidagi *linia* so‘zlaridan tuzilib bu chiziqdosh degan ma‘noni beradi.

Kolleniar (chiziqdosh) vektorlar bir xil yoki qarama-qarshi yo‘nalishlarda bo‘lishlari mumkin. Masalan, quyidagi chizmadagi vektorlardan  $\overline{a_1}, \overline{a_2}, \overline{a_3}$  va  $\overline{a_4}$  lar o‘zaro kolleniar bo‘lganidek, o‘sha chizmadagi  $\overline{b_1}$  va  $\overline{b_2}$  vektorlar ham kolleniardirlar.

Ta‘rif. Parallel to‘g‘ri chiziqlarda yoki bir to‘g‘ri chiziqda yotib, teng uzunlikka va bir xil yo‘nalishga ega bo‘lgan vektorlar teng vektorlar deb ataladi.

Masalan, chizmadagi  $\overline{a_1}, \overline{a_2}, \overline{a_3}$  vektorlar parallel to‘g‘ri chiziqlarda yotib, teng uzunlikka va bir xil yo‘nalishga ega bo‘lgani uchun ular teng vektorlardir.

Vektorlar tengligini ham matematik miqdorlar tengligidagi kabi barobar "=" belgisi orqali ko‘rsatiladi; chunonchi (42-chizma):



42-Chizma.

O'sha chizmadagi  $\overline{b_1}$  va  $\overline{b_2}$  vektorlar ham bir – biriga teng.

Undagi  $\overline{a_4} \neq \overline{a_1}, \overline{a_2}, \overline{a_3}$  dir.

Shunga o'xshash  $\overline{b_1}, \overline{b_2} \neq \overline{a_1}, \overline{a_2}, \overline{a_3}, \overline{a_4}$  dir.

Ta'rif. Uzunliklari teng bo'lib, yo'nalishlari qarama-qarshi bo'lgan ikki vektorga teng qarama-qarshi yoki qisqasi qarama-qarshi vektorlar deyiladi.

Masalan, yuqoridagi chizmadagi  $\overline{a_3}$  va  $\overline{a_4}$  vektorlarda  $|\overline{a_3}| = |\overline{a_4}|$  bo'lib, yo'nalishlari qarama-qarshi bo'lgani uchun bular teng qarama-qarshi vektorlardir; bular orasidagi munosabat quyidagicha yoziladi:

$$\overline{a_3} = -\overline{a_4}.$$

**Vektorlarni qo'shish.** Vektorlar ustida matematik amallarni bajarish zaruriyati hayotiy masalalarni yechish jarayonida kelib chiqqanligi shubhasizdir. Masalan, ikki vektorni bir-biriga qo'shishning zarurligi ketma-ket ikki siljishga teng uchinchi siljishni topish yoki bir nuqtaga ta'sir etuvchi ma'lum ikki kuchning teng ta'sir etuvchisi bo'lgan uchinchi bir kuchni topish kabi masalalarni yechish zaruriyatidan kelib chiqqandir.

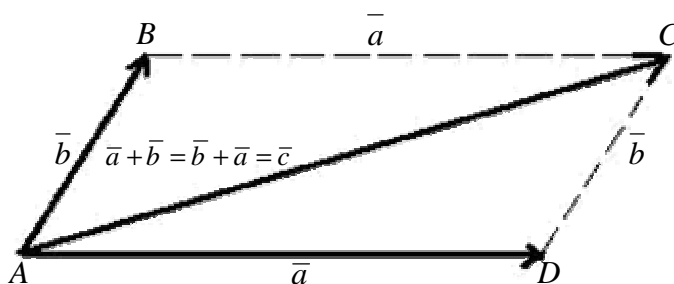
Boshlari bir nuqtada yotgan ikki vektorni qo'shish uchun quyidagi ta'rifdan ma'lum bo'lgan parallelogramm qoidasi ishlatiladi.

Ta'rif. Boshlari biror  $A$  nuqtada yotgan ikki  $AB$  va  $AD$  vektorning yig'indisi deb shu ikki vektorda yasalgan  $ABCD$  parallelogrammning  $A$  uchidan  $C$  uchiga yo'nalgan va uzunligi  $AC$  diagonali uzunligiga teng bo'lgan  $AC$  vektorga aytiladi, ya'ni  $\overline{AB} + \overline{AD} = \overline{AC}$ .

Eslatma. Bu odatda, "kuchlar parallelogramm qonuni" deb yuritiladi. Bu qonun birinchi marta mashhur ital'yan olimi Leonardo da Vinchi (1452 - 1519)

tomonidan ko'rsatilib, 1587 yilda esa, gollandiyalik olim Stevin tomonidan ravshanroq qilib bayon etilgan.

Boshlari bir nuqtada yotmagan ikki vektorni qo'shishda parallelogramm qoidasini ishlatish uchun, oldin u vektorlarni o'z – o'ziga parallel ko'chirib, ularning boshlari bir umumiy nuqtaga keltiriladi, so'ngra ular yuqoridagicha qo'shiladi (43-chizma).



43-chizma.

**Vektorlarni ayirish.** Vektorlarning ayirish, qo'shishning teskari amali sifatida ishlatiladi, ya'ni ayirishda ikki vektorning yig'indisi va ulardan biri ma'lum bo'lganida ikkinchi qo'shiluvchi vektorni topish talab qilinadi. Shunga ko'ra ayirish amaliga quyidagi ta'rif beriladi.

Ta'rif. Bir vektordan ikkinchi vektorni ayirish deb shunday uchinchi vektorni topishga aytiladiki, buning ikkinchi vektor bilan qo'shganda birinchi vektor hosil bo'lsin, ya'ni  $\bar{a} - \bar{b} = \bar{x}$  chiqishi uchun ushbu shart  $\bar{x} + \bar{b} = \bar{a}$  mavjud bo'lishi kerak.

Bu ta'rifga ko'ra ikki  $\bar{a}$  va  $\bar{b}$  vektorlarning  $\bar{a} - \bar{b}$  ayirmasini topish uchun quyidagi qoida ishlatiladi:

Qoida (uchburchak qoidasi). Berilgan  $\bar{a}$  vektordan  $\bar{b}$  vektorni ayirish uchun ixtiyoriy  $O$  nuqtadan boshlab  $\overline{OA} = \bar{a}$  va  $\overline{OB} = \bar{b}$  vektorlar yasaladi, so'ngra kamaytiruvchi  $\overline{OB}$  vektorning  $B$  uchidan kamayuvchi  $\overline{OA}$  vektorning  $A$  uchiga yo'nalgan  $\overline{BA}$  vektor yasaladi. Keyingi vektor – izlangan ayirma bo'ladi.

Haqiqatan,  $\overline{OA} - \overline{OB} = \overline{BA}$ , chunki  $\overline{OB} + \overline{BA} = \overline{OA}$  dir.

Agar keyingi tenglikning ikkala tomoniga  $(-OB)$  ni qo'shsak, bu tenglik quyidagi ko'rinishga kiradi:  $\overline{BA} = \overline{OA} - \overline{OB} = \overline{OA} + (-OB)$ .

Bundan quyidagi qoida ma'lum bo'ladi.

Qoida. Bir vektordan ikkinchi vektorni ayirish uchun o'sha birinchi vektorga ikkinchi vektorning qarama-qarshisini qo'shish kerak.

**Vektorni songa ko'paytirish.**

Ta'rif. Biror  $\overline{AB}$  vektorni  $a$  (haqiqiy) songa ko'paytirish deb shunday yangi  $\overline{CD}$  vektorni yasashga aytiladiki, buning uzunligi  $\overline{AB}$  vektor uzunligini  $a$  sonning absolyut qiymatiga ko'paytmasiga teng bo'lib, yo'nalishi esa,  $a > 0$  bo'lganida  $\overline{AB}$  vektor bilan bir xil yo'nalishda va  $a < 0$  bo'lganida bunga qarama-qarshi yo'nalishda bo'ladi.

Bunda aytilganlardan ravshanki, har qanday vektorni biror haqiqiy songa ko'paytirishdan hosil bo'ladigan yangi vektor oldingi vektor bilan bir to'g'ri chiziqda yotadi.

Endi, vektorlarni skalyarga ko'paytirishning asosiy xossalarini quraylik:

1. **Xossa.** Vektorni songa ko'paytirish o'rin almashtirish qonuniga bo'ysunadi, ya'ni  $\overline{a} \cdot a = a \cdot \overline{a}$ .
2. **Xossa.** Vektorni songa ko'paytirish guruhlash qonuniga ham bo'ysunadi, ya'ni:  $a(\overline{b\overline{a}}) = (\overline{ab})\overline{a}$ .
3. **Xossa.** Vektorni songa ko'paytirish, son ko'paytuvchiga nisbatan tarqatish qonuniga bo'ysunadi, ya'ni vektorni sonlar yig'indisiga ko'paytirish uchun uni qo'shiluvchilarning har biriga ko'paytirib, bundan chiqqan yangi vektorlarni bir-biriga qo'shish mumkin:  $\overline{a}(a + b) = a\overline{a} + b\overline{a}$ .

### **Ikki vektorning skalyar ko'paytmasi.**

Ta'rif. Ikki vektorning skalyar ko'paytmasi deb bu vektorlar uzunliklarining ular orasidagi burchak kosinusi bilan ko'paytmasiga aytiladi. Masalan  $\overline{a}$  va  $\overline{b}$  vektorlarning  $\overline{a} \cdot \overline{b}$  skalyar ko'paytmasi ushbu:

$$\overline{a} \cdot \overline{b} = ab \cos(\overline{a}, \overline{b}).$$

Bu ta'rifdan ravshanki, skalyar ko'paytma vektor emas, balki sondir.

Skalyar ko'paytma yana bunday ham ta'riflanadi:

**Ta'rif.** Ikki vektorning skalyar ko'paytmasi deb bulardan birining uzunligini ikkinchisining birinchisi yo'nalishdagi proyeksiyasi bilan ko'paytmasiga aytiladi.

Proyeksiyalar nazariyasida biror  $\overline{b}$  vektorning  $\overline{a}$  vektori yo'nalishidagi proyeksiyasi bunday ifodalanishi ma'lum edi:

$$np_a \overline{b} = \cos(\overline{a}, \overline{b}) = \overline{b}_a.$$

## **X-BOBNI TAKRORLASH UCHUN SAVOLLAR**

1. Ta'rif so'zini lug'aviy ma'nosini aytib bering.
2. Teoremaning qanday turlari bor?

3. Teoremani isbotlash deganda nimani tushunasiz?
4. Isbotni qanday turlari bor?
5. Teoremalarni zaruriy va yetarli shartlarini ayting.
6. Geron formulasini isbotlang.
7. Tekislikda dekart koordinatalari qanday beriladi?
8. Kesma o'rtasining koordinatalari qanday topiladi?
9. Nuqtalar orasidagi masofa deganda nimani tushunasiz?
10. Kesmani berilgan nisbatda bo'lish qanday amalga oshiriladi?
11. Skalyar miqdor deganda nimani tushunasiz?
12. Vektor qanday miqdor?
13. Ikki vektorning skalyar ko'paytmasi qanday amalga oshiriladi?
14. Vektorlarni qo'shishning uchburchak va parallelogramm qoidalarini tushuntiring.

### **X-BOB UCHUN TAYANCH IBORALAR.**

Teorema, analogiya, zaruriy va yetarli shart, perimetr, to'g'ri teorema, teskari teorema, postulat, aksioma, qabariq va botiq ko'pburchak, tekislikda dekart koordinatalari, kesma o'rtasining koordinatalari, nuqtalar orasidagi masofa, kesmani berilgan nisbatda bo'lish, skalyar miqdor, vektor, ikki vektorning skalyar ko'paytmasi, vektorlarni qo'shishning uchburchak va parallelogramm qoidalari.



## ADABIYOTLAR

1. Karimov I.A. «Kadrlar tayyorlashning milliy dasturi», T. «O‘zbekiston», 1997 yil.
2. Algebra va analiz asoslari: o‘rta maktablarning 10-11 sinflari uchun darslik (Sh.O.Alimov, Yu.M.Kolyagin, Yu.V.Sidorov, M.I.Shabunin) T., «O‘qituvchi», 1996 yil.
3. Algebra: 7-sinf uchun darslik (Sh.O.Alimov, Yu.M.Kolyagin, Yu.V.Sidorov, M.I.Shabunin) T., «O‘qituvchi», 1996 yil.
4. Algebra: 8-sinf uchun darslik (Sh.O.Alimov, Yu.M.Kolyagin, Yu.V.Sidorov, M.I.Shabunin) T., «O‘qituvchi», 1996 yil.
5. Algebra: 9-sinf uchun darslik (Sh.O.Alimov, Yu.M.Kolyagin, Yu.V.Sidorov, M.I.Shabunin) T., «O‘qituvchi», 1996 yil.
6. Alixonov S. «Geometriya darslarida umumlashtirish» T., «O‘qituvchi», 1989 yil.
7. Alixonov S. «Matematika o‘qitish metodikasi». T., «O‘qituvchi» 1992 yil.
8. Alixonov S. «Matematika o‘qitish metodikasi» Qayta ishlangan II nashri. T., «O‘qituvchi» 1997 yil.
9. Bikboeva N.U. va boshqalar «Boshlang‘ich sinflarda matematika o‘qitish metodikasi», T., «O‘qituvchi», 1996 yil.
10. N.G‘aybullayev, Ortiqov. «Geometriya 7-sinf uchun darslik» T. «O‘qituvchi», 1998 yil.
11. N.G‘aybullayev, Ortiqov. «Geometriya 8-sinf uchun darslik» T. «O‘qituvchi», 1999 yil.
12. Galitskiy M.A. va boshqalar «Algebra va matematik analiz kursini chuqur o‘rganish» T., «O‘qituvchi», 1995 yil.
13. Davidov V.V. «Vozrostrnaya i pedagogicheskaya psixologiya» M., Pedagogika, 1992.
14. Ikramov Dj.I. «Matematicallyeskaya kultura shkolnika» T., «O‘qituvchi», 1981.
15. Ikramov Dj.I. va boshqalar «Matematika, 5-6 sinflar uchun darslik», T., «O‘qituvchi», 1997.
16. Klarin M.V. «Innovatsionnie modeli obucheniya v zarubejnix pedagogicheskix poiskax», M., «Prosveshenie», 1994.
17. Kolyagin Yu.N. va boshqalar Metodika prepodavaniya matematiki v sredney shkole. Obhaya metodika., M., «Prosveshenie», 1988.

18. Litvinenko V.N., Mordkovich A.G «Praktikum po elementarnoy matematike» M. Izd-vo, «AVG», 1995.
19. Lyahenko S.E. «Laboratornie i prakticheskie raboti po metodike prepodavaniya matematiki» M., «Prosveshenie», 1988.
20. Metodika prepodavaniya matematiki v sredney shkole. (Pod redaksii Mishina). M. Prosveshenie, 1988.
21. Pogorelov A.V. «Geometriya 7-11 kl.» M., «Prosveshenie», 1995.
22. Stolyar A.A. «Metodi obucheniya matematike» Minsk, «Veyschaya shkola» 1993
23. Stolyar A.A. «Pedagogika matematiki» Minsk, «Veyschaya shkola», 1988
24. Fridman L.M. Kak reshat zadachi. M., «Prosveshenie» 1988.
25. Engeler E. Matematika elementarnoy matematike, Perevod nem. yazik. M., «Mir», 1986

#### **QO‘SHIMCHA ADABIYOTLAR.**

1. N.R.G‘aybullayev «Dirchenko I.i. Razvitiye matematicheskix sposobnostey uchashixsya» T., 1987.
2. Davidov V.V. Vidi obobheniya v obuchanii. M., «Pedagogika», 1982.
3. Davidov V.V. Problemi razvivayuhego obucheniya. M., «Pedagogika», 1986.
4. Demidov V.P., Saransev G.I. Metodika prepodavaniya matematiki. M., «Prosveshenie», 1978.
5. Lerner YA. Didakticheskaya osnovi metodov obucheniya. M., «Pedagogika», 1992.
6. Okon V. Vvedeniya v obheyu didaktiku. M., «Visshaya shkola», 1990.
7. Sbornik zadach po matematike dlya postupayuhix vo vtuzi. (Pod redaksii M.I. Skanavi.) M., Visshaya shkola., 1995.
8. Sirojiddinov S.X., Mirzaaxmedov M.A. Matematika kasbi haqida suhbatlar. T., «O‘qituvchi», 1993.
9. Teslenko I.F. O prepodavaniya geometrii. M., «Prosveshenie». 1985.
10. Fridman L.M. Uchites uchitsya matematike. M, «Prosveshenie». 1986.
11. Erdniev P.N. Prepodavanie matematiki v shkole. M., «Prosveshenie», 1978.
12. Yastrebeneskiy G.A. Zadache s parametrami. M., «Prosveshenie». 1989.

## M U N D A R I J A

### **I-BOB. UMUMTA'LIMIY MAKTABLARDA MATEMATIKA O'QITISH MASALALARI**

- 1-§. Matematika o'qitish metodikasi fani .....
- 2-§. O'rta umumta'limiy maktablarda matematika o'qitishning maqsadi. ....
- 3-§. Matematika o'qitish metodikasining boshqa fanlar bilan aloqasi.....
- 4-§. Ta'limni isloh qilinishi .....

### **II-BOB. MATEMATIKA DARSLARIDA BILISHNING TURLARI VA XULOSA CHIQRISH METODLARI**

- 1-§. Matematik tushuncha .....
- 2-§. Matematik tushunchalarni ta'riflash metodikasi .....
- 3-§. Matematik tushunchalarni kiritish metodikasi .....
- 4-§. Matematik tushunchalarni kiritishning abstrakt - deduktiv metodi .....
- 5-§. Matematik hukm .....
- 6-§. Matematik xulosa .....

### **III-BOB. MAKTAB MATEMATIKA KURSIDA TA'LIM METODLARI**

- 1-§. Matematik ta'lim metodlari .....
- 2-§. Matematika o'qitishdagi ilmiy izlanish metodlari.....
- 3-§. Tajriba va kuzatish metodi .....
- 4-§. Taqqoslash metodi .....
- 5-§. Analiz va sintez metodi .....
- 6-§. Umumlashtirish metodi .....
- 7-§. Abstraksiyalash metodi .....
- 8-§. Konkretlashtirish metodi .....
- 9-§. Klassifikatsiyalash metodi.....
- 10-§. Evristik ta'lim metodi.....
- 11-§. Matematika darslarida muammoli ta'lim.....
- 12-§. Matematika darslarida dasturlashtirilgan ta'lim.....

### **IV-BOB. O'QUVCHILARNING MATEMATIK TAFAKKURLARINI SHAKLLANTIRISH METODIKASI**

- 1-§. Matematik ta'lim jarayonida masalaning roli va o'rni .....
- 2-§. Matematika o'qitishda masalaning bajaradigan funksiyalari .....
- 3-§. Matematika darslarida ko'phadlarni ko'paytuvchilarga ajratish metodikasi.....
- 4-§. Matematika darslarida didaktik prinsiplar .....

### **V - BOB. MATEMATIK TA'LIMNI TASHKIL QILISH METODIKASI**

- 1-§. Matematika darsining tuzilishi va uni tashkil qilish metodikasi.....
- 2-§. Matematika darsining turlari .....
- 3-§. Matematika darsiga tayyorgarlik va darsning tahlili .....

- 4-§. Matematika darsiga qo'yilgan talablar.....
- 5. O'quvchilarning bilimlarini tekshirish.....

## **VI - BOB. SON TUSHUNCHASINI KIRITISH, UNI KENGAYTIRISH VA SONLAR USTIDA AMALLAR BAJARISH METODIKASI**

- 1-§. Natural son tushunchasini kiritish va ular ustida amallar bajarish metodikasi.....
- 2-§. Natural sonlar to'plamini kengaytirish .....
- 3-§. Butun sonlar va ular bilan to'rt amalni bajarish metodikasi .....
- 4-§. Kasr son tushunchasini kiritish va uni o'rgatish metodikasi .....
- 5-§. Kasrlarni taqqoslash.....
- 6-§. Kasrlarni qo'shish .....
- 7-§. Kasrlarni ayirish .....
- 8-§. Kasrlarni ko'paytirish .....
- 9-§. Kasrlarni bo'lish .....
- 10-§. O'nli kasrlar va ular bilan to'rt amalni bajarish metodikasi .....
- 11-§. O'nli kasrlarni qo'shish va ayirish.....
- 12-§. O'nli kasrlarni ko'paytirish .....
- 13-§. O'nli kasrlarni bo'lish .....
- 14-§. Oddiy kasrni cheksiz davriy kasrga aylantirish.....
- 15-§. Cheksiz o'nli davriy kasrni oddiy kasrga aylantirish .....
- 16-§. Irratsional son tushunchasini kiritish metodikasi .....
- 17-§. Haqiqiy sonlar .....
- 18-§. Haqiqiy sonlar ustida amallarni bajarish qoidalari.....
- 19-§. Arifmetik kvadrat ildiz tushunchasi.....
- 20-§. Arifmetik to'rt amalga doir misollar yechish.....

## **VII - BOB. MAKTABDA AYNIIY SHAKL ALMASHTIRISHLARNI O'RGATISH METODIKASI**

- 1-§. Ayniy shakl almashtirishlar.....
- 2-§. Kasr ifodalarni ayniy almashtirish.....
- 3-§. Irratsional ifodalarni ayniy almashtirish .....
- 4-§. Trigonometrik ifodalarni ayniy almashtirish .....
- 5-§. Trigonometrik ifodalarni soddalashtirishga doir misollar yechish metodikasi.....

## **VIII - BOB. TENGLAMALARNI O'RGANISH METODIKASI**

- 1-§. Tenglama tushunchasini kiritish metodikasi.....
- 2-§. Chiziqli tenglamalar.....
- 3-§. Parametrik usulda berilgan kasr ratsional tenglamalarni yechish.....
- 4-§. Noma'lumlari absolyut miqdor belgisi ostida qatnashgan tenglamalarni yechish metodikasi .....
- 5-§. Kvadrat tenglama tushunchasini kiritish metodikasi.....
- 6-§. Vieta teoremasi. . .....
- 7-§. Kvadrat tenglamaga keltirib yechiladigan tenglamalar .....

8-§. Irratsional tenglamalarni yechish.....	.....
9-§. Parametrlir irratsional tenglamalarni yechish.....	.....
10-§. Irratsional tenglamalar sistemasini yechish .....	.....
11-§. Ko‘rsatkichli tenglamalar .....	.....
12-§. Logarifmik tenglamalar .....	.....
13-§. Parametrlir logarifmik va ko‘rsatkichli tenglamalarni yechish.....	.....
14-§. Ko‘rsatkichli va logarifmiklar tenglamalar sistemasini yechish.....	.....
15-§. Ko‘rsatkichli va logarifmik tenglamalarni grafik usulda yechish.....	.....
16-§. Trigonometrik tenglamalar .....	.....
17-§. Parametrlir trigonometrik tenglamalarni yechish .....	.....
18-§. Trigonometrik tenglamalar sistemasini yechish.....	.....
19-§. Masalalarni tenglama tuzish bilan yechish metodikasi .....	.....
20-§. Matematika darslarida tengsizliklarni o‘qitish metodikasi.....	.....

**IX - BOB. FUNKSIYA TUSHUNCHASINI O‘RGATISH  
METODIKASI.**

1-§. Funksiya tushunchasini kiritish metodikasi.....	.....
2-§. Sonlar ketma-ketligi va uning limitini o‘rgatish metodikasi.....	.....
3-§. Hosila va uning ustida amallar bajarish metodikasi.....	.....
4-§. Hosilani hisoblash qoidalari.....	.....
5-§. Integral va uning tadbirlarini o‘rgatish metodikasi.....	.....
6-§. Differensial tenglamalar.....	.....

**X - BOB. GEOMETRIYA KURSINI AKSIOMATIK QURILISHI  
AKSIOMA, POSTULAT, TEOREMA VA UNING TURLARINI  
O‘RGATISH METODIKASI.**

1-§. Matematik hukmning turlari.....	.....
2-§. Postulat .....	.....
3-§. Teorema va uning turlari .....	.....
4-§. Teoremlarni isbotlash metodlari .....	.....
5-§. Teoremlarni isbotlashdagi zaruriy va yetarli shartlar .....	.....
6-§. Tekislikda dekart koordinatalari tekislikda koordinatalarni kiritish.....	.....
7-§. Vektor miqdorlarni o‘rgatish metodikasi.....	.....

**ADABIYOTLAR.....**

**Sodiqjon Alixonov**

**MATEMATIKA O'QITISH  
METODIKASI**

*Oliy o'quv yurtlari uchun darslik*

*Muharrir Xudoyberdi Po'latxo'jayev*

*Badiiy muharrir Yasharbek Rahimov*

*Texnik muharrir Yelena Tolochko*

*Musahhah Muhabbat Xalliyeva*

*Kompyuterda teruvchi Gulchehra Azizova*

Litsenziya raqami AI №163. Bosishga ruxsat etildi 22.07.2011. Bichimi  $60 \times 84 \frac{1}{16}$  Tayms  
TAD garniturası.Shartli b.t. 17,67.Nashr b.t. 16,55 Shartnoma № 50-2011. 500  
nuxxada. Buyurtma №30.

O'zbekiston Matbuot va axborot agentligining Cho'lpon nomidagi nashriyot-matbaa ijodiy  
uyi. 100129, Toshkent, Navoiy ko'chasi, 30-uy.

“NOSHIR-FAYZ” MCHJ bosmaxonasida chop etildi.Toshkent tumani, Keles shahar,  
K .G'ofurov ko'chasi, 97-uy.